

高雄市立中正高中國中部 113 學年度第一學期三年級第二次段考社會科試題

科目代碼：05

三年 班 座號： 姓名：

選擇題：100% (每題 2 分) 共 50 題！ 貼心提醒：答案卡一張 + 試題卷三張六頁

【地理】：1-17 題 (3-4 課)

1. 美國的州名除反映多元的移民特色外，也可看出印第安人以當地自然環境命名的背景，如附圖中，「明尼蘇達」即指天藍色的水、「密西根」為廣闊的湖泊之意。根據這兩州的位置判斷，其湖泊成因最可能為何？(A)斷層作用 (B)冰蝕作用 (C)溶蝕作用 (D)火山作用。

2. 承上題，「亞利桑納」在印第安語中係指小小泉水、水源稀少的意思。請根據附圖亞利桑納州的位置判斷，該州水源稀少的主因應是下列何者？

(A)位於盛行風背風側 (B)土地過度開發利用 (C)沿岸有暖流流經 (D)過度抽取地下水
3. 蘋果電腦公司已故創辦人賈伯斯的矽谷創業傳奇，激勵人心，右圖中何處成為美國大學生心目中最偏好的居住及工作地之一？

(A)甲 (B)乙 (C)庚 (D)丁。

4. 2010 年位於加勒比海的海地發生大地震，臺灣立即派出搜救隊前往救災，並以貨輪運送糧食、藥物、飲水、帳篷等援助物資。若要以最短的時間抵達海地，請問貨輪的航線必定會通過下列何地？(A)尼加拉瓜運河(B)密士失必河(C)聖羅倫斯河(D)巴拿馬運河。

5. 美國足球大聯盟 (MLS) 成立後積極拉攏知名球星，讓觀眾人數及技術水準快速上升。其中某地區的球隊取名為地震隊，和當地的自然環境關係甚大。若根據其隊名判斷，則該隊最可能來自附圖中哪一州？(A)甲 (B)乙 (C)丙 (D)丁。

6. 小陳在寒假時期安排一趟南美洲之旅，首先飛到南美洲面積最大的國家巴西，見到(甲)世界流量最大、流域面積最廣的亞馬孫河，及全球最盛大(乙)融合拉丁、非洲、印第安等文化的森巴嘉年華會，其次到達以(丙)信奉天主教、講西班牙語的阿根廷，看到彭巴草原上的牛群，最後到秘魯的(丁)阿茲提克古都馬丘比丘。請選出錯誤的敘述。(A)甲 (B)乙 (C)丙 (D)丁。
7. 鄭小嵐想利用國小畢業前寒假時到美國境內遊玩，下列行程中何者「不可能」出現在鄭小嵐的美國之旅中？(A)到渥太華買名產一楓糖漿 (B)到洛杉磯好萊塢看星光大道 (C)到休士頓看火箭隊籃球比賽 (D)到紐約參觀自由女神像與華爾街。

8. 《繞著地球跑》主持人阿道到拉丁美洲出外景，下圖為他到各地所拍攝的照片。請問依甲、乙、丙、丁的順序，分別為哪些國家的照片，正確的應是下列何者？

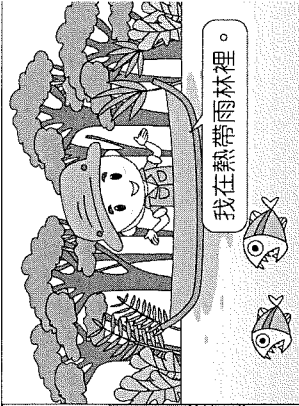
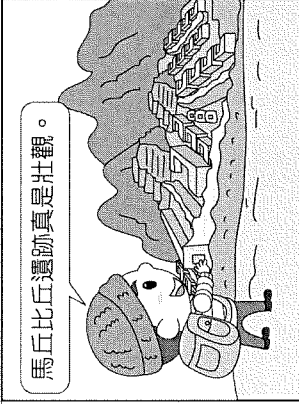

(A)墨西哥→古巴→哥倫比亞→智利 (B)古巴→秘魯→巴西→阿根廷
(C)智利→墨西哥→巴拿馬→巴西 (D)墨西哥→秘魯→巴西→智利。

甲

乙

丙

丁



馬丘比丘遺跡真是壯觀。

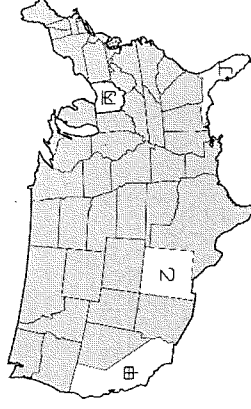
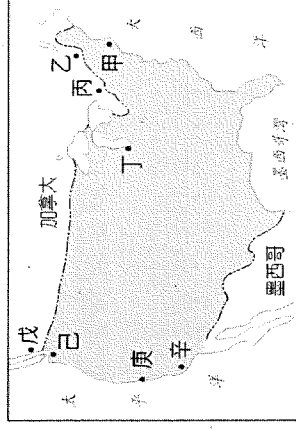
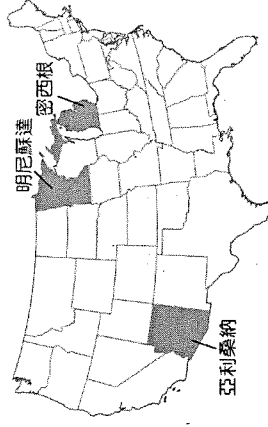
我在熱帶雨林裡。

早上還在北部的沙漠，下午就到葡萄酒莊了。

9. 巴西的農產品產量僅次於美國，為世界第二大的生產國，可是這兩國的農業活動類型卻大不相同——美國為世界最大的小麥輸出國，巴西則是最大的咖啡輸出國。請問這和下列何者的關係最大？

(A)面積大小 (B)緯度位置 (C)人口多寡 (D)地勢高低。

10. 國際組織內的會員國常會利用各自的優勢，以分工的方式進行生產活動，例如加入歐盟後的東歐各國，透過低廉的勞力等優勢，成為歐盟的「組裝基地」。相較於歐盟，美加墨協定中的哪一個國家，所扮演的



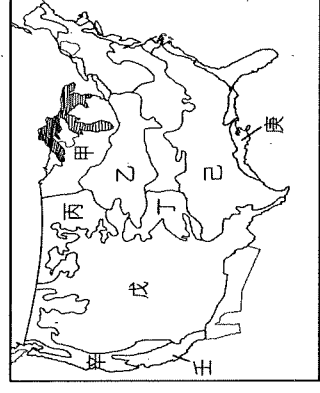
角色與東歐各國類似？(A)美國 (B)巴拿馬 (C)墨西哥 (D)加拿大。

11. 2013 年獲得世界各大影展獎項《自由之心》，內容描述黑奴的境遇，

主角在黑奴買賣中被賣到莊園裡摘棉花，不但必須長期勞作，若每天的

棉花收摘量不合要求，還會遭到莊園主人的鞭打。請問：電影中描述的

劇情與景觀最有可能出現在右圖中何處？(A)甲 (B)乙 (C)庚 (D)戊。



12. 承上題，台灣於 2020 年底通過進口美國畜牧產品的相關標準，請問美國的

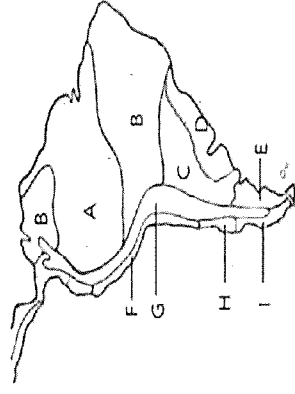
畜牧業主要分布於圖中何處？(A)甲 (B)丙 (C)戊 (D)壬。

13. 下表為 ABCD 四國進出口商品一覽表，哪一個國家與中南美洲國家的殖民地式經濟型態較符合？

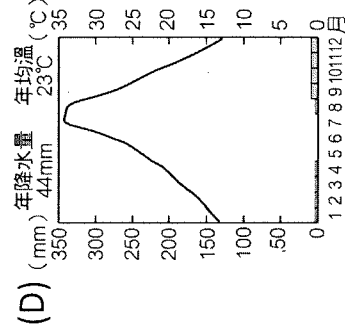
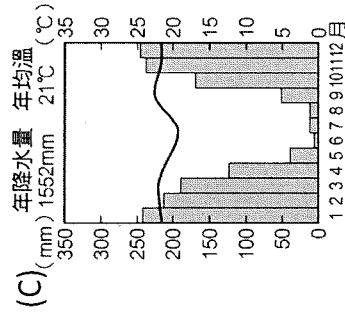
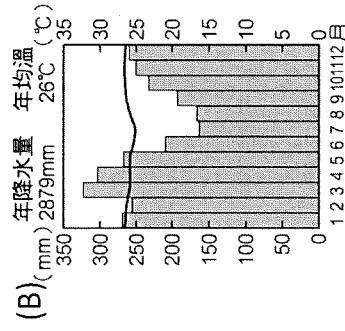
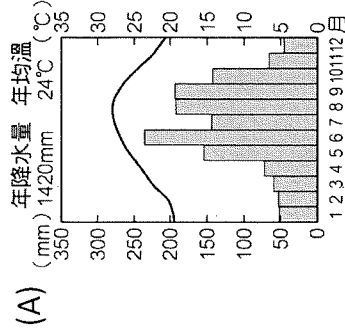
選項	進口	出口
A	石油、鐵礦	電腦、汽車
B	電腦軟體、電器	香蕉、咖啡
C	電子產品、汽車	羊毛、乳品
D	煤、鐵	成衣、電子產品

14. 安地斯山脈是世界上最長的山脈，其分布位置大致與圖中的哪個氣候區相符？

(A)A (B)B (C)E (D)G。



15. 中南美洲區域發展不均，是一個存在已久的嚴重問題。巴西政府從沿海遷都到巴西高原的巴西利亞，做為平衡區域發展方式之一。當地夏雨冬乾、乾溼季分明，下列哪一個是它的氣候區圖？

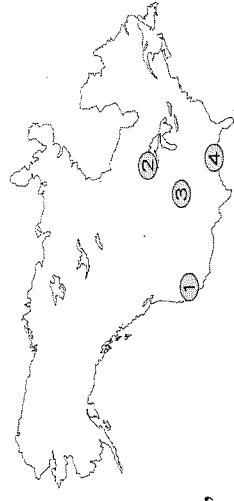


16. 右圖為北美洲簡圖，哪個代號區所在的位置因地形、氣候等條件，成為美國常常遭受到颶風襲擊，造成嚴重的災情？

(A) ① (B) ②
(C) ③ (D) ④

17. 龍捲風是北美大平原著名的天氣災害，全球有超過八成的龍捲風發生在北美洲，

尤其是美國境內明尼蘇達州、俄克拉荷馬州、德克薩斯州等，更有「龍捲風走廊」之稱。主要發生在下列哪一個的季節？(A)春夏交替 (B)夏秋交替 (C)秋冬交替 (D)冬春交替。



【歷史】：18-34 題(每題 2 分) (3-4 課)

18. 基督教與佛教都是當今世界的重要宗教，兩者就其形成的背景而言，有何共同特徵？

(A) 都是為了對抗政府的高壓統治 (B) 都對當地舊有宗教的教義提出改革

(C) 都相信天堂和永生 (D) 都根源於一神論的思想

19. 大黑如思想從「阿拉丁和神燈」、「阿里巴巴與四十大盜」、「辛巴達歷險記」這些故事了解

古代巴格達的社會風俗民情，他應該到圖書館借閱下列哪一本書？

(A) 格林童話 (B) 希臘羅馬神話 (C) 伊索寓言 (D) 天方夜譚

20. 「一個人是否得救，早經上帝『預定』，祈禱、善行均不會改變結果。凡為上帝的選民，

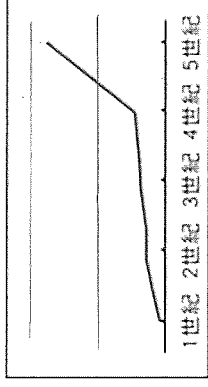
即『義人』，日常生活中自然會展現出對上帝的信仰，克盡己職，以榮耀上帝。」下列哪一教派的理論，最能顯現這種精神？

- (A)天主教 (B)路德教派 (C)喀爾文教派 (D)英國教派

21. 文藝復興的原意是古典文化的再生與創造力的復興，其中的「古典文化」是指下列何者？

- (A)西亞、埃及文化 (B)佛教、伊斯蘭文化
(C)中國的儒家文化 (D)古希臘與羅馬文化

22. 附圖為1~5世紀間羅馬帝國基督教信徒的數量變化趨勢，若要了



解4世紀與5世紀之間人數變化的主因，閱讀下列哪一著作最有幫助？(A)凱撒崛起與征服高盧 (B)奧古斯都與羅馬和平
(C)狄奧多西的傳奇一生 (D)日耳曼民族的大遷移

23. 小如和幾位同學正在討論有關伊斯蘭教的相關議題，下列何者的說明正確？

- (A)小如：伊斯蘭教的經典為《可蘭經》 (B)阿輝：穆斯林的原意「歸順穆罕默德的人」
(C)小佩：伊斯蘭的原意是「誦讀」 (D)阿豪：伊斯蘭教以太陽神為主要信仰對象

24. 君士坦丁大帝對基督教在歐洲的發展上具有重要的地位，他的哪一項政策促成基督教信徒地位的改變？(A)建立基督教的法律條文 (B)下令將基督釘死於十字架上
(C)承認基督教為合法的宗教 (D)命令國民一律信仰基督教

25. 西羅馬帝國後期，國勢衰微，歐洲進入紛擾而動盪的中世紀時代。在這種情勢下，何者逐漸發揮影響力，成為維持西歐社會安定的主要力量？

- (A)基督教教會 (B)拜占庭政府 (C)日耳曼民族 (D)古羅馬城邦

26. 歷史老師在課堂上討論「莎士比亞」、「但丁」、「薄伽丘」三人的貢獻。這堂課的主題最可能是下列何者？(A)海外拓殖的對外侵略 (B)宗教改革的神學思想
(C)文藝復興的繪畫風格 (D)方言文學與近代歐洲

27. 科工館的「達文西 (Da Vinci) 特展」為2000年高雄文藝界的盛事，作品展現其藝術成就及驚人的科學創造力。在達文西所生活的時代，其藝術風格為下列何者？

- (A)不再注重人物情感的描寫 (B)創作目的在表達以神為中心的思想
(C)打破自然形象的束縛，呈現立體主義特色 (D)充滿崇尚自然、人文主義精神

28. 「明代後期，耶穌會傳教士來到中國，他們利用西方知識作為傳教手段，開拓了中國士人的視野。」當時這些傳教士自歐洲來華的主要背景為何？

- (A)受伊斯蘭教影響，主動傳播科技 (B)面對新教的挑戰，積極推廣舊教
(C)至聖地朝拜受阻，爭取盟國協助 (D)挾共產主義勢力，擴張傳教據點

29. 念美術班的大傑，非常欣賞文藝復興時代的作品。因此，大傑的父親決定帶他到文藝復興的發源地，感受一下文藝氣息。大傑他們應該

前往附圖中何地？(A)甲 (B)乙 (C)丙 (D)丁


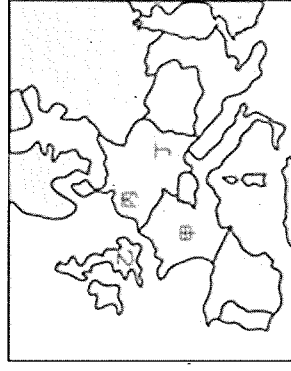
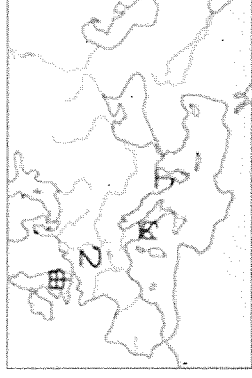
30. 威廉是16世紀的歐洲人，同時也是位虔誠的基督徒，他所屬的教會屬於新教，且其國的國王兼領教會領袖。威廉最有可能是附圖中何地的人民？

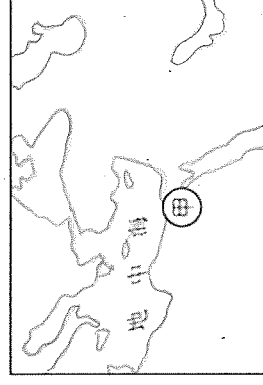
- (A)甲 (B)乙 (C)丙 (D)丁

31. 家家同學暑假到西班牙南部旅遊時，來到了中世紀名城哥多華

(Cordoba)，導遊介紹：「這些雄偉的建築（如附圖），充滿了異國文化的特色，這都是曾經統治當地的伊斯蘭勢力留下的。」這些建築物，最有可能是什麼政權留下來的紀念物？

- (A)阿拉伯帝國 (B)塞爾柱帝國 (C)鄂圖曼帝國 (D)西班牙王國





32. 附圖甲處自西元前4世紀至西元7世紀，官方使用的文字因外來統治者改變而有所不同，這些官方文字使用時間的先後順序最可能是下列何者
- (A) 希臘文→拉丁文→阿拉伯文 (B) 希臘文→阿拉伯文→拉丁文
 (C) 阿拉伯文→拉丁文→希臘文 (D) 阿拉伯文→希臘文→拉丁文

33. 老師把基督教發展寫在黑板上，但是同學抄寫筆記時發生有筆誤。表格中哪裡抄錯了？
34. 阿祥同學對羅馬帝國分裂後的發展深感興趣，特地找資料研究整理。附表是他做出來的筆記表格，很遺憾，其中只有一項內容是符合史實的，是下列哪一項？

比較項目	基督教的發展
(A) 創立時地	1 世紀：巴勒斯坦
(B) 正式合法	3 世紀：亞歷山大帝國定為國教
(C) 第一次分裂	11 世紀：羅馬公教與希臘正教
(D) 第二次分裂	16 世紀：舊教與新教

項目	(A) 主要語文	(B) 政教關係	(C) 滅亡時間	(D) 被何者所滅
拜占庭帝國	拉丁語文	政教分離	後	阿拉伯人
西羅馬帝國	希臘語文	政教合一	先	日耳曼人

【公民】：35-50 題

35. 下列是媽媽與小琪的對話----

媽媽：桌上的飲料是你打翻的嗎？小孩子不能說謊話，不然鼻子會變長，會變得很醜喔！

小琪：真的不是我打翻的！而且根據國際學術期刊最新的研究指出，人類說謊時，鼻子會變短，並不會變長；但不管變長或變短都很醜，所以我真的沒有說謊！

從對話內容可知，媽媽企圖用下列何者類型的誘因來促使小琪說出真相？

- (A) 正向、金錢誘因 (B) 正向、非金錢誘因 (C) 負向、金錢誘因 (D) 負向、非金錢誘因。
36. 林老闆的公司業績蒸蒸日上，為爭取更多的商業機會，他這個月增加(甲)500萬元廣告費，並且多花(乙)200萬元增聘人力，等到這個月底結算業績時，才得知上述作為使本月(丙)增加400萬元的銷貨收入。關於該公司這個月的收支狀況，下列敘述何者正確？
- (A) 與上個月相比，利潤增加400萬元 (B) 與上個月相比，利潤增加600萬元
 (C) (甲)(乙)皆應計入該公司的生產成本 (D) (丙)項目不應包括該公司的生產成本。
37. 小麥在圖書館看到一本冒險小說，以下是小說中的部分內容----

在這段時期，一艘貿易公司的帆船從甲國港口出發，船上載滿甲國生產的胡椒、檀香木等商品。抵達也有生產胡椒的乙國後，以貨物換取白銀，再以白銀換取回程所需的物資；返航行程中，至內國購買絲綢和瓷器，最後運回甲國販賣。

下列是小麥對於書中有關三國間進行貿易後的推論，何者最為正確？

- (A) 甲國的消費者可以買到外來的便宜胡椒 (B) 乙國的胡椒業者會面臨國外廠商的競爭
 (C) 丙國生產瓷器的機會成本應該比甲國高 (D) 甲國生產的胡椒檀木成本較高於乙國。
38. 日本政府為避免塑膠袋用量的快速成長造成環境負擔，因此決定針對消費者使用塑膠袋執行全面收費的政策，依照塑膠袋大、中、小尺寸收取不同價格，希望消費者購物時盡可能自備塑膠袋；此外，各種店家或旅館，提供拋棄式塑膠產品如旅館備品等，也都必須另外收費，各界學者期盼藉此政策的執行，在降低商家經營成本的同时，也能減少對環境的污染。依上述內容判斷，在不考慮其他條件的情況下，下列相關敘述何者最為正確？(A) 塑膠袋收費政策是日本政府基於公共利益而對人民的權利進行限制 (B) 旅館不能免費提供拋棄式塑膠產品，因此必須提高住宿房間費用 (C) 塑膠袋收費降低了民眾的旅遊成本，達到減量塑膠袋目標

(D)日本政府採取負向的非金錢誘因引導民眾減少使用塑膠袋。
 39. 相同的誘因對於每個人而言需要承擔的機會成本可能不一定相同。有商家舉辦限量贈送免費雞排的活動，每人限領1份。商家公告因為雞排現炸且參加人數眾多，因此民眾從排隊到領到雞排至少要花1個小時以上，民眾對於以排隊領免費雞排為誘因，但要花費1小時以上排隊的反應不盡相同。下表是四位民眾的反應，以及各自願意花在排隊領雞排上的時間。假設雞排對四位民眾的滿足程度相同，從機會成本的角度來分析，下列相關敘述何者最為適切？

民眾	對排隊領免費雞排的反應	願意花在排隊領雞排上的時間
甲	1天花1小時領雞排應該還有賺，再多就不行了	1小時
乙	熱騰騰的雞排很誘人，就算要排隊一整天都值得！	1天
丙	聽起來不錯，但我有正事要做，1分鐘就是極限。	1分鐘
丁	花1個小時太多了，如果只需要10分鐘我就排！	10分鐘

(A)甲丙丁三人排隊的機會成本都比乙來得高 (B)丙認為做正事的價值比領到雞排的價值小
 (C)丁一定會去排隊，因為一定可領得到雞排 (D)四人之中，免費的雞排對於丙的誘因最大。

40. 小蓉到住家附近的麵店吃晚餐，看到店鋪門口張貼公告如右圖。若僅依照圖中內容與經濟學相關概念推論，下列敘述何者最為正確？

(A)麵店因商品價格全面調漲，生產量必定會隨之減少
 (B)麵店自行吸收成本來營運，表示此時期利潤小於零
 (C)老闆漲價必促使其他麵店在競爭壓力下也跟進漲價
 (D)調漲全部商品價格，可能導致消費者購買數量減少。

41. 現在的便利商店越來越多元化，甚麼都有賣。7-11首度在店裡販賣日本生活雜貨品牌MUJI無印良品的商品時，受到許多學生及上班族群的喜愛，業績成長近兩倍。依內容判斷，下列敘述何者正確？(A)7-11所身處的市場競爭程度低
 (B)7-11運用非價格競爭刺激買氣 (C)7-11業績成長近兩倍的因素為提供金錢誘因 (D)7-11屬於志願結社，以公益為目的。

42. 奧運活動不但是國家綜合國力的象徵，也是國家榮譽之所在，因此有許多國家都祭出重金，鼓勵運動選手為國爭光。對於奧運選手而言，雖然奪牌能贏得大筆獎金，但在成功奪牌前，往往須付出數十年的光陰不斷練習，當別人吃喝玩樂時，他們必須捨棄休閒娛樂並揮汗如雨的鍛鍊。上文中提到奧運選手在成功奪牌前所付出的代價，與下列哪一個概念最為相關？

(A)機會成本 (B)社會規範 (C)人性尊嚴 (D)價格誘因。

*東港華僑市場 請回答 43-44 題：

「東港三寶」有黑鮪魚、油魚子、櫻花蝦外，還有「東港小吃三寶」--雙糕潤、飯湯、肉粿等等，都可在當地著名的華僑市場購買到。華僑市場內約有400多家攤位，不但具備漁獲百貨公司的規模，亦保留傳統市場的人情味，為屏東縣最大的海鮮零售市場，市場內有鮮魚區、生鮮熟食區、漁特產區、美食區。消費者可在市場內挑選自己喜歡的海鮮，並直接使用市場內提供的代客料理服務。市場附近亦具備有大型收費停車場，提供消費者停車方便。

43. 民眾到東港華僑市場購買新鮮海產或特產，華僑市場若依買賣雙方交易的地方，應屬於下列何種市場？(A)商品市場 (B)勞動市場 (C)無形市場 (D)有形市場。

44. 民眾在華僑市場內可看到許多家攤位在販售新鮮的生魚片，若從廠商在市場競爭程度來探討，下列敘述何者正確？(A)競爭程度低 (B)商品價格較單一 (C)對消費者有利 (D)廠商可控制及有決定價格的能力。

價格調整公告

親愛的顧客：

感謝大家長久以來的支持。由於近年來各項原物料價格、人事成本不斷調漲，過去我們一直以自行吸收的方式維持營運，但仍頂不住物價上漲壓力。故自2024年12月1日起將調漲全部商品價格。

造成不便 敬請見諒
 中正麵店 敬上

*2023年出口貿易額 請回答 45-47 題：

我國財政部公布 2023 年 11 月出口總額達 374.7 億美元，年成長 3.8%，是最近 16 個月中最佳的年增長幅度。尤其在 AI 人工智慧商機非常地熱絡下，如同伺服器、顯示卡等資訊通用器材與視聽產品出口達 93.7 億美元，年增 74%，已創下歷年單月最高水準。

45. 根據上述內容判斷，下列敘述何者正確？(A)2023 年 11 月出口總額達 374.7 億，代表貿易支

出是最近 16 個月中最多 (B)出口的商品是指我國生產不具有相對優勢的商品 (C)出口商品的國內價格會低於國際價格 (D)出口的商品主要是為了解決國內商品生產不足的問題。

46. 我國出口的伺服器、顯示卡等資訊通用器材與視聽產品是依據下列何者原理的考量而從事國際貿易？(A)機會成本 (B)預期心理 (C)誘因刺激 (D)勞動參與。

47. 我國出口到外國的伺服器、顯示卡是具備下列哪兩種條件？(甲)機會成本較高(乙)機會成本較低(丙)具競爭優勢(丁)具競爭劣勢。

(A)甲丙 (B)甲丁 (C)乙丙 (D)乙丁。

*菜市場經濟 請回答 48~50 題：

現今連鎖大賣場販售的東西越來越多，就連生鮮食材也都能輕易買到，不過婆婆們仍習慣到傳統菜市場購買比價，面對漲聲響起的情況，菜價更是讓民眾叫苦連天，因菜市場是平日裡婆婆們購買煮飯食材的好地方，面對眾多攤商，一定都選擇較划算的購買，但菜市場卻有個不能說的秘密，其實，一週 7 天當中，有 2 天的販售價格比較低，對此，攤商解答了！菜價與市場機制有關：上班族們平日要上班，都會趁週六、日到市場採買，由於買氣旺、消費者多，因此這 2 天價格通常比較高；週一市場大多休市，到了週二，因為家中冰箱空了，需要補食材，買氣不錯、價格也貴；週三、四買氣較低，價格也跟著下降；週五則是攤商補貨時間。對此，市場攤商表示，售價是依照批發價格制定，批價高自然得提高價位；另有攤商則說，週三、四買氣確實比較不好，但菜價都一樣，只不過，收攤時可能會賣不完，就會在這時做促銷，以較便宜的價格賣出，因此，菜和星期幾購買似乎並無太大關連，想省錢還是得抓準收攤時。

48. 根據上文所述，一週 7 天當中，在不考慮其他因素下，消費者選擇在哪兩天去菜市場最為划算？(A)週一、二 (B)週三、四 (C)週六、日 (D)週一、六。

49. 根據畫雙線部分所述，市場攤商採取此項做法的目的是為了下列何者？

(A)維持銷售利潤 (B)降低生產成本 (C)減少銷貨收入 (D)提高銷售數量。

50. 根據上文所述，消費者選擇在收攤時搶購食材，主要的原因最可能是下列何者？

(A)所得水準 (B)預期心理 (C)個人偏好 (D)商品價格。

試題結束