

三年 班 號姓名：

科目代碼：05【請用 2B 鉛筆，將答案劃於答案卡上】

單一選擇題：共 50 題（每題 2 分）

【試卷共 7 頁】

1. 紐西蘭全黑隊是橄欖球國際賽的常勝軍，除了其剽悍的球風外，開賽前該隊會來一段紐西蘭原住民的「戰舞」以提升士氣，成為全黑隊的特色。請問：紐西蘭的原住民為下列哪一個民族？

(A) 毛利人 (B) 斯拉夫人 (C) 印第安人 (D) 因紐特人。

2. 紐西蘭是世界重要的羊毛出口國，另外像是不易腐壞的乳酪、奶粉、奶油等，也是主要輸出產品。請問：這是受下列哪一項因素影響所致？

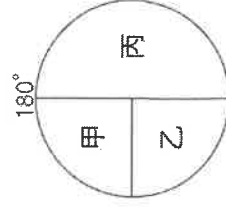
(A) 氣候全年溫和溼潤 (B) 海岸線綿長，四面環海 (C) 距離歐、亞主要市場較遠 (D) 國內市場狹小。

3. 西元 2019 年 12 月一則關於紐西蘭的報導：「白島距離紐西蘭北島海岸約 48 公里，火山在當地時間 9 日下午 2 時 11 分噴發，從火山口噴出的大量火山碎屑、火山灰與高溫蒸氣，在短短幾十秒內籠罩全島，並竄上了 3,650 多公尺的高空。由於白島擁有紐西蘭最大、地形景觀最壯麗的火山錐，噴發當下仍有許多登島遊覽的國際觀光客，因此造成嚴重死傷。」請問：紐西蘭多火山與下列哪一項自然環境特徵的關係最密切？

(A) 位居東半球、南半球 (B) 位居海陸交會位置 (C) 位居歐亞非三洲接觸帶

(D) 位居環太平洋火山地震帶上。

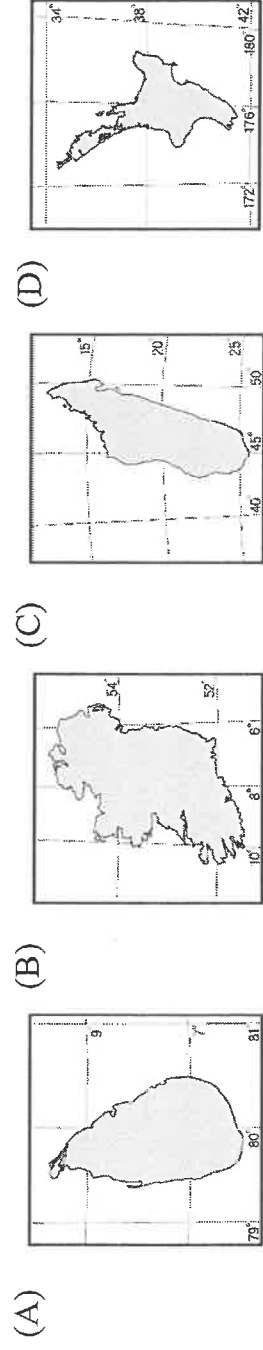
4. 右圖為大洋洲三大島群位置示意圖，甲、乙、丙分別代表不同的島群。請問：位於太平洋西側有一個將近百萬平方公里的大型島嶼——新幾內亞島，且其緊鄰著南半球的澳大利亞，這個島嶼應位於圖中的哪一區？ (A) 甲 (B) 乙 (C) 丙。



5. 庫克海峽將紐西蘭分成北島和南島，國內地形多元豐富，可以見到地熱、火口湖、峽灣、冰蝕湖地形景觀，紐西蘭因此擁有何種稱號？

(A) 低地國 (B) 世界屋脊 (C) 世界公園 (D) 活的地形教室。

6. 右圖為某島國首都的氣候圖，根據其氣候特色與類型判斷，此島國所在位置應為下列何者？



7. 澳洲是一四面環海的島嶼，但卻降水量稀少，甚至還有廣大的沙漠氣候區。造成上述

現象的最主要因素為何？ (A) 島嶼面積太大，中央區域距海遙遠 (B) 暖流勢力太強，造成空氣穩定缺乏對流 (C) 位在西風的背風側，缺乏水氣 (D) 南回歸線橫貫中央，受副熱帶高氣壓籠罩。

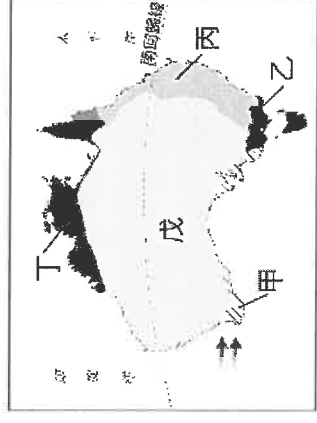
8. 右圖為澳洲氣候簡圖。請問：圖中何區為澳洲的精華區？

(A) 甲 (B) 乙 (C) 丙 (D) 丁。

9. 澳洲有許多特有生物，如袋鼠、無尾熊、鸚鵡等；紐西蘭則沒有走獸，而演化出許

多無翼鳥，例如奇異鳥、鸚鵡鵝等。請問：澳洲、紐西蘭有許多獨特物種，與下列哪一個因素最相關？

(A) 位置孤立，長期隔離絕於世界各大陸之外 (B) 環境不佳，人類開發不易 (C) 地質古老 (D) 海岸線長。



10. 澳洲為世界重要農牧礦產品出口大國。請問：關於澳洲經貿夥伴的說明，何者正確？
- (A) 早期以鄰近的紐西蘭為最主要經貿往來對象 (B) 不論過去與現在，經貿往來夥伴皆平均分布全球各國
(C) 美國長期以來一直是澳洲最大的出口對象 (D) 出口對象逐漸轉移至亞洲。

11. 「不論在臺灣還是太平洋上斐濟、東加等地的原住民，都有以構樹作為材料，製成南島文化特有的樹皮布的傳統。但是根據學者研究，太平洋地區的構樹是透過人工繁殖方式傳入；更重要的是，這些地區的構樹基因，竟都擁有臺灣構樹的特有基因。」請問：關於上述地理現象的解釋，下列何者錯誤？

- (A) 南島語族分布範圍僅限於太平洋地區 (B) 這些民族對於樹皮布的發音很雷同
(C) 樹皮衣是南島物質文化的代表之一 (D) 南島民族很有可能從臺灣遷移出去。

12. 大洋洲大部分的島嶼地勢低平，四周海域遼闊。近年來全球氣候變遷，使得兩極冰山融化，對大洋洲直接產生的影響為何？

- (A) 作物生長季改變，面臨缺糧 (B) 地層下陷 (C) 海平面上升，淹沒部分土地 (D) 河川侵蝕加劇。

13. 右圖是西元1900~2021年全球平均氣溫變化量，可以看出近年來全球氣溫快速上升，其主要原因是由於人為作用，使大氣中溫室氣體的濃度急劇上升所導致的。上述現象源自於以下哪一項人類活動？

- (A) 農業發展 (B) 工業革命 (C) 科技革命 (D) 網路發展。

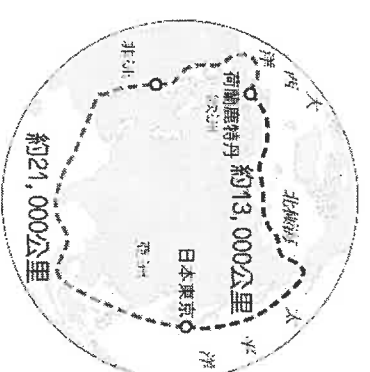
14. 「永晝」是極圈特有的現象，是指一天24小時之內全都是白天，且緯度愈高，出現的時間愈長。請問：此現象形成的原因主要為下列何者？(A)地球自轉 (B)地球公轉 (C)地軸傾斜 (D)太陽直射。

15. 右圖是北極地區東北航道的路線示意圖，依據圖中資訊判斷，選擇走該航線會較原有的舊航線節省約8,000公里的路程，未來若可全面通航，其商業效益將大幅提升。

請問：上文提及的舊有航線所經過的地區不包括下列何者？

- (A) 印度洋 (B) 麻六甲海峽 (C) 蘇伊士運河 (D) 巴拿馬運河。

16. 喜馬拉雅山區冰河供應諸多亞洲河流所需的淡水，自1970年代以來，由於山區的平均氣溫上升了1°C，使得山區冰河大量縮減消融。冰河迅速消退會先使河流的水



位暴增，造成洪澇；幾年之後河水水位將會下降，形成乾旱或是更嚴重的生態問題。上述問題最可能在下列哪個國家發生？(A) 印尼 (B) 俄羅斯 (C) 菲律賓 (D) 尼泊爾。

17. 地球最南、北兩端都是常年被冰雪覆蓋的地區，但地表最冷的歷史紀錄卻在南極大陸測得。請問：造成南極地區氣溫遠比北極地區更低的原因為何？

- (A) 南極年降水量較多 (B) 南極緯度位置較高 (C) 南極以高原為主體 (D) 南極洲中心是海洋。

18. 20世紀英國理論物理學者史蒂芬·霍金說：「自然科學的誕生要歸功於伽利略。」為何霍金給予伽利略這麼高的評價？(A) 強調「我思故我在」 (B) 提出天文學新觀點 (C) 提出三大運動定律 (D) 提倡歸納法

19. 從16世紀哥白尼提出「太陽中心說」，到17世紀伽利略證實「太陽中心說」、牛頓發表「萬有引力定律」，這些學說的提出，在歷史上最可能具有下列何種意義？

- (A) 試圖用理性態度，了解宇宙的自然法則 (B) 恢復古典學術研究，重視人的尊嚴價值
(C) 強調信仰堅定，神創造的世界沒有缺陷 (D) 信仰應以聖經為依據，否定教會的權威

20. 右表呈現歷史上某變革的內容， 中最適合填入下列何者？

變革的內容	
起源地	英國
早期傳播地區	英國 → 美國 → 歐洲 新興城市的林立 工廠制度的出現
影響	?

- (A) 古典學術研究的恢復 (B) 羅馬公教教會的腐敗
(C) 科學革命思想的萌芽 (D) 社會主義學說的興起

21. 日本料理「天婦羅」，是將食材裹上澱粉漿之後下鍋油炸，這種料理源自於天主教徒在齋戒期間，將食材油炸後食用。在沒有冷凍技術的時代，因為油炸食物容易保存，所以水手於遠洋航行時也會準備油炸魚類作為糧食。葡萄牙的天主教徒最初到日本傳教與貿易時，同時傳入這種料理。「天婦羅」傳入日本的時代背景，最可能是下列何者？

- (A) 外國艦隊脅迫幕府開港，促使日本推動明治維新
(B) 西方各國展開海外探險，建立到達東方的新航線
(C) 日本受大唐文化的薰染，效法唐朝推動制度改革
(D) 美國為防堵共產勢力擴散，創設東南亞公約組織

22. 露露在電視上看到巴西每年舉辦的嘉年華慶典活動頗為熱鬧，準備在隔年到里約熱內盧參加活動。她應該學習下列哪種語言以便與當地人溝通？ (A) 葡萄牙語 (B) 西班牙語 (C) 法語 (D) 荷蘭語

23. 工業革命改變了人們的生活型態，工業化迄今仍為世界各國致力發展的要務。下列關於工業革命的敘述，何者正確？

- (A) 18世紀的工業革命以電力取代過去的人工
(B) 工業革命首先開始於英國
(C) 工業革命成就主要在機具改良，而非動力革新
(D) 亞當斯密的經濟學說主張政府應掌控經濟活動與生產工具，以解決貧富不均的問題

24. 歐洲大航海時代的來臨，是因東西方貿易路線受阻，歐洲人不得不重新尋找前往東方的航路。上述是與15世紀哪一帝國的強盛有關？ (A) 拜占庭帝國 (B) 蒙兀兒帝國 (C) 鄂圖曼帝國 (D) 阿拉伯帝國

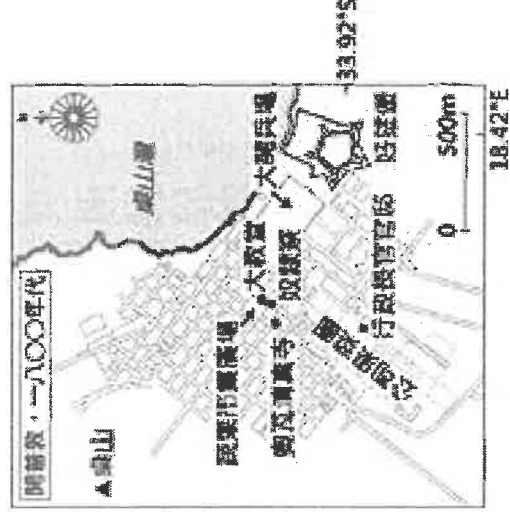
25. 約1830年代，法國里昂紡織工人傳唱下列的歌曲歌詞：「想要做官掌權，總得披大衣、掛綬帶。我們為你們大人物紡織布，死後卻不包裹屍布就草草掩埋。我們是織布工，卻赤身裸體，無遮無蓋。」

上述是因為哪一變革之後，造成工人和資本家之間的對立？

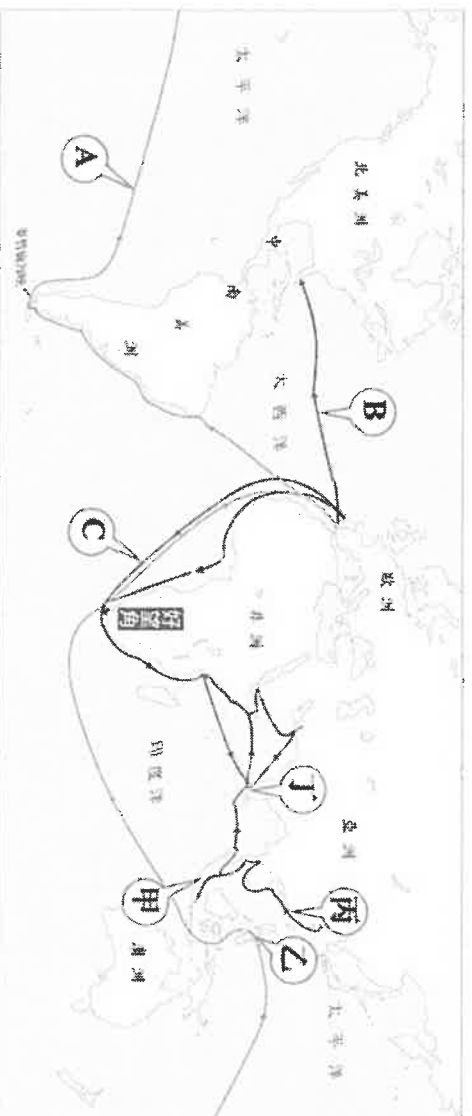
- (A) 科學革命 (B) 文藝復興 (C) 啟蒙運動 (D) 工業革命

26. 荷蘭人在1652年來到位於非洲西南端的開普敦，因當地氣候適合，可種植歐洲常見的蔬果並釀製葡萄酒，用以補充船隻上的飲食，於是逐步將其建造為海上貿易的補給站。附圖中的好望堡，為荷蘭人在開普敦的辦公地點，是由奴隸所建造。這些奴隸中，一部分來自荷蘭在亞洲的殖民地。上文提及奴隸的輸出地，最可能包含下列何者？

- (A) 東印度群島 (B) 朝鮮半島
(C) 伊比利半島 (D) 夏威夷群島



▼請參考下圖，回答 27-30 題：



27. A 航線的出現，最早是由何人所領導的船隻所開拓？ (A) 狄亞士 (B) 達伽馬 (C) 哥倫布 (D) 麥哲倫
28. B 航線是由哪個國家所贊助？ (A) 英國 (B) 法國 (C) 西班牙 (D) 葡萄牙
29. C 航線繞過好望角，前往印度、再轉向遠東。C 航線與哪個國家有關？
 (A) 英國 (B) 法國 (C) 西班牙 (D) 葡萄牙
30. 16 世紀末，葡萄牙在東亞的海洋霸權逐漸沒落，荷、英等國崛起，其中荷蘭將其亞洲營運總部設於何處？ (A) 甲 (B) 乙 (C) 丙 (D) 丁

▼以下是法國於 18 世紀公布的人權與公民權宣言部分內容。請回答 31-34 題：
 第一條：自由與平等是人與生俱來的權利，且始終不變。

第二條：一切政治結社的目的都在於維護人類不可剝奪的權利。這些權力是自由、財產、安全與反抗壓迫。

第三條：一切主均根源於人民。任何團體、個人都不得行使人民為直接授予的權力。

第十一條：自由傳達思想和一件是人類最寶貴的權利之一；因此，個個公民都有言論、著述和出版的自由，但在法律所規定的情況下，應對濫用此項自由負擔責任。

31. 其中第一、二條的內容，主要受到下列哪位思想家學說的影響？
 (A) 洛克 (B) 盧梭 (C) 伏爾泰 (D) 孟德斯鳩
32. 第三條的內容與哪位思想家的主張最相近？ (A) 洛克 (B) 盧梭 (C) 伏爾泰 (D) 孟德斯鳩
33. 第十一條的內容，最符合哪位思想家的論點？ (A) 洛克 (B) 盧梭 (C) 伏爾泰 (D) 孟德斯鳩
34. 由以上節錄的條文內容，可知人權與公民權宣言受到哪一場變革的影響最深？
 (A) 文藝復興 (B) 宗教改革 (C) 科學革命 (D) 啟蒙運動
35. 為鼓勵民眾小病就近到基層診所就醫，同時健全健保財務，衛福部公告健保費用部分負擔的調整方案，其中「急診部分負擔」收費制度改為「依醫院層級收費」，如表(甲)。從資源分配的觀點，下列關於表中收費方式的分析，何者正確？
 (A) 公告的調整方案其資源分配方式採預約登記(B) 依層級收費乃透過非價格因素影響病患選擇(C) 弱勢者收費方式使資源分配更符合公平正義(D) 所收取的費用金額由政府與消費者共同決定。

▼表(甲)

對象	一般病患	中低收入身心障礙者
醫院層級		
基層診所	150 元	150 元
地區醫院	(不變)	(不變)
區域醫院	400 元	300 元
醫學中心	750 元	550 元

36. 圖(甲)為某公司發行的學生卡說明，學生持卡可用於搭乘大眾捷運或指定店家購物，僅根據題文及圖中資訊，下列關於此項支付工具的分析說明，何者正確？(A)根據此卡用途說明，此卡應為商品貨幣(B)因適用對象為學生，推論其為法定貨幣(C)卡片必須記名使用，顯示此卡為信用卡(D)依其加值相關說明，判斷此卡為儲值卡。

37. 亦宸為贏得桌球雙打賽獎盃，邀請君正一起報名，如果得到名次，獎盃歸他，獎金會與君正平分，君正答應邀約並回應：「獎金誠可貴，友誼價更高，任憑君差遣，必兩肋插刀。」若從誘因概念分析上述兩人參加比賽的行為，下列何項解釋最適當？

- (A) 君正參加比賽的誘因比亦宸還要高(B) 獎金平分為兩人參賽的最主要誘因(C) 影響兩人參賽的誘因含正向與負向(D) 影響兩人是否參加比賽的誘因不同。

38. 炳宏開了一家早午餐店，表(乙)為不同套餐的價格和上個月的銷售量。炳宏若希望下個月的銷售收入可達60000元，在所有套餐售價不變，且A、C套餐銷售量不變的情況之下，B套餐應賣出多少份，才能達成炳宏的目標？

- (A) 250份 (B) 300份 (C) 350份 (D) 400份。

39. 中正國中校慶園遊會，四個班級都有賣炒泡麵，但各自吸引消費者的方法都不一樣，哪一班採用的競爭方式與其他三者『不同』？

- (A) 301班，豬肉炒泡麵附25元紅茶，一份60元(B) 302班，豬肉炒泡麵第二件六折，一份45元，兩份72元(C) 303班，炒泡麵有三種主要配菜，有松阪豬、糖心蛋及滷豆干，一份70元(D) 304班，豬肉炒泡麵三送一，一份40元，買三送一共120元。

40. 承恩家每個月第一天自製350罐醬菜販售，且為保持產品品質，當月沒賣完的產品就會銷毀，絕不在下個月販售。表丙為上半年消費者對承恩家自製醬菜的需求數量表。根據表中資料判斷，承恩家的醬菜

上半年銷售總量為多少罐？(A) 1850 (B) 2000 (C) 2100 (D) 2300。

41. 表(丁)是美國、台灣兩國匯率變動的情形。根據表中內容判斷，若其他條件不變，且所有成本完全反應在商品售價上，相較於去年，在今年美國、台灣兩國的市場中，最可能出現下列何種情形？

- (A) 美國商品在台灣銷售量下滑(B) 台灣商品在美國銷售量下滑(C) 美國進口的台灣商品數量下滑(D) 台灣進口的美國商品價格下滑。

42. 《金錢簡史》書中提及：「古代墨西哥阿茲提克帝國以可可豆作為交易的單位；瓜地馬拉人用過玉米；古代巴比倫人與亞述人使用過大麥；蒙古人則將茶磚視為金錢。」此內容最可能在說明哪一項概念？

- (A) 以物易物 (B) 商品貨幣 (C) 法定貨幣 (D) 塑膠貨幣。

學生卡

記名

滿12歲以上具教育部認可有效學籍之身分者。

現金加值

過卡時請注意螢幕顯示可用金額，若不足，請先加值後再使用。

圖(甲)▲

▼表(乙)

套餐	A套餐	B套餐	C套餐
價格	50元	100元	100元
上個月的銷售量	300份	250份	150份

▼表(丙)

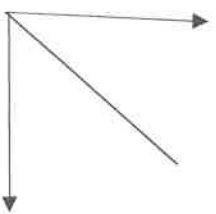
月份	1月	2月	3月	4月	5月	6月
數量 (罐)	200	300	500	300	400	600

▼表(丁)

時間	1美金可兌換的台幣
去年	29
今年	30

43. 在介紹市場競爭關係圖時，老師以圖(乙)關係圖說明兩個因素之間的關聯性。根據市場競爭的概念判斷，下列哪一組橫軸與縱軸的關係『不適用』該圖？

- (A) 市場競爭程度；消費者的選擇機會 (B) 廠商數量；市場競爭程度
(C) 市場競爭程度；廠商控制價格的能力 (D) 廠商數量；消費者選擇機會。



44. 信陵近日工作被資遣，便在社群網站匿名發布圖(丙)貼文徵詢網友意見。請問：文中網友

▲圖(乙)

的建議，應與下列哪一部法律最相關？

- (A) 勞動基準法(B) 公平交易法(C) 消費者保護法(D) 就業保險法。
45. 表(戊)為某國已婚者處理家事時間的調查結果，根據表中內容判斷，該國最應宣傳下列哪一種觀念？
(A) 提供失業者就業機會(B) 均衡家務勞動的分配
(C) 減緩性別比例的失衡(D) 強調職場的專業分工。

46. 在卡片競爭的時代，上街喝咖啡、看電影、到速食店吃漢堡，結帳時只要秀出商家專屬的卡片，嘩一下，3秒內便完成付款，業者回饋的紅利點數也瞬間入袋，改善了找零錢的麻煩，也大幅改寫消費者的支付習慣。下列關於支付型態的說明，何

● 匿名參與者
最近公司經營不善，今天收到被資遣的消息，讓我一時很難接受。突然失去工作，身為家中經濟支柱，在失業這段期間備受壓力，不知道大家有沒有甚麼建議？

小花 ●
何不到就業服務站申請失業給付金？

▲圖(丙)

者最適當？(A) 消費前須先將錢存入卡內(B) 卡片可購買商品，故稱為商品貨幣(C) 若過度消費，可能會無力償還債務(D) 具有延遲支付的便利特性。

▼表(戊)		男	女
性別			
就業比例		67.0 %	49.7 %
就業者平均處理家事的時間		0.46 (小時/天)	1.97 (小時/天)
無就業者平均處理家事的時間		1.01 (小時/天)	4.03 (小時/天)

*大麥克指數 請回答 47、48 題：

《經濟學人》雜誌所編輯的「大麥克指數」是一個非正式的經濟指數，其將各國的麥當勞大麥克漢堡價格視為該國貨幣匯率，並以此作為比較物價的基準，而該指標背後也隱藏了

「購買力平價理論」的經濟意義。該理論主張，在拆除國際貿易的藩籬後，所有國家商品和勞務的價格應會相同。《經濟學人》指出 2021 年 7 月 21 日，台灣大麥克售價為 72 元新台幣，約為 2.56 美金，在美國則售價 5.65 美金，為台灣價格的 2.2 倍，而在 7 月 21 日當天，美金兌換新台幣的匯率為 28.05，依據購買力平價理論來看，新台幣可能被低估了，否則兩地物價水準應會相同。

47. 文中大麥克指數所發揮的貨幣功能與下列何者相同？(A) 彩靈在早餐店購買鬆餅漢堡(B) 超商有販賣標價不一的便當(C) 家陞把紅包錢存入郵局(D) 直長終於把房屋的貸款還清。

48. 若 7 月 21 日當天，希望臺美兩地的大麥克價格大致相同，則美金兌換新台幣的匯率應如何變化才能達成？(A) 從目前匯率升值至 12.74(B) 從目前匯率升值至 16.71(C) 從目前匯率貶值 12.74(D) 從目前匯率貶值為 61.71。

*日本熟年離婚 請回答 49、50 題：

東京婚姻研究所報告指出，導致日本女性「熟年離婚」的最大契機有兩個：一是丈夫退休時，二是孩子長大成人獨立時。

現今日本夫妻的家庭生活結構，大多數是丈夫工作，妻子為家庭主婦，在結婚後 2、30 年的歲月中，妻子一直過著白天自由一人，晚上全家到齊的生活。但是，當丈夫退休後，生活節奏就亂了套。一位選擇了「熟年離婚」的女性說：「過去，我送完孩子上學，可以自由在家裡看看電視連續劇，或者和朋友喝下午茶。但是，當丈夫退休後，每天都要一日三餐做甚麼而發愁。尤其是看到一個人在你面前晃悠，但彼此又無

話可說時，感覺十分之鬱悶。」

因此在日本人的熟年離婚，72%是由妻子提出來的。而忙碌一生的男人，本期待在家享清閒之福時，等待他的卻是妻子的離婚申請書，實在令人不勝唏噓！

49. 現今日本夫妻的家庭生活結構，大多數是丈夫工作，妻子為家庭主婦。身為家庭主婦的妻子應屬於下列何者？(A)受僱者(B)雇主(C)有酬勞動(D)無酬勞動。

50. 忙碌一生，退休在家的男人，應屬於下列哪一種身分？(A)就業者(B)創業者(C)失業者(D)非勞動人口。

~~ 試題結束 ~~

請同學再次檢查答案卡上的基本資料是否填寫正確與完整

