

高雄市立中正高級中學國中部 113 學年度第一學期國三社會科第一次段考試卷

科目代碼：05【請用 2B 鉛筆，將答案劃於答案卡上】

三年 班 號姓名：

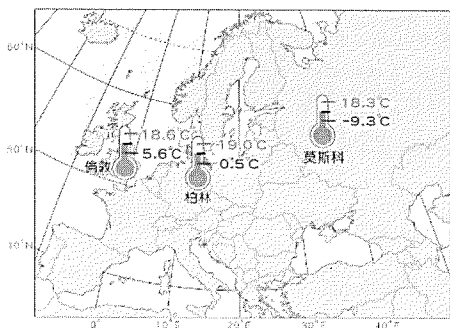
單一選擇題：共 50 題（每題 2 分）【試卷共 6 頁】

1. 南歐地形崎嶇多山，是世界主要的火山、地震帶之一，如義大利南部的維蘇威火山。此一特色與下列哪一項地理特徵有密切的關係？


(A)歐洲陸塊地質年代古老 (B)昔日曾為冰河覆蓋 (C)位居板塊的接觸地帶 (D)歐洲陸塊逐漸下降。

2. 「這裡緯度較低、夏乾冬雨，逾 3 萬公頃的農場種植大量蔬果，供應給英國與歐洲各國，因此又被稱為『歐洲的蔬果園』，但是因為溫室棚架密布，當地人也稱此地為『塑膠海』。」請問：文中所述的最有可能是下列哪一個國家？ (A)北歐的丹麥 (B)西歐的荷蘭 (C)東歐的波蘭 (D)南歐的西班牙。

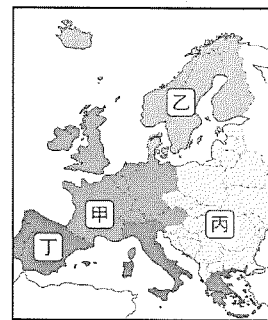
3. 圖(一)為歐洲境內三個城市的最冷月及最暖月月均溫的資料，依據圖中資訊判斷，影響這三個城市氣溫差異的主要原因為何？ (A)植被多寡 (B)地勢高低 (C)緯度位置 (D)距海遠近。



圖(一)



圖(二)



圖(三)

4. 圖(二)為冰河 U 型谷延伸至海邊，當冰河消融後，受海水入侵形成的峽灣地形示意圖。此種地形在圖(三)中哪一個地區最為發達？ (A)甲 (B)乙 (C)丙 (D)丁。

5. 計畫經濟指的是在各種生產、資源分配與產品消費等方面，由國家進行統整的計畫。因此，無論公、私營的企業都要在政府的指示下運作，不受自由市場的供需影響。請問：圖(三)中哪一地區昔日是上述計畫的主要推行地區？ (A)甲 (B)乙 (C)丙 (D)丁。

6. 節慶活動是各國發展觀光的重要資源之一，下列選項是歐洲重要節慶的舉辦地點與時間，若想避開雨季好好享受假期，參加哪個節慶遇到下雨的機率最低？ (A)南歐義大利：嘉年華，舉辦時間為二月初 (B)西歐荷蘭：花車遊行，舉辦時間為四月中 (C)南歐西班牙：番茄節，舉辦時間為八月底 (D)東歐波蘭：花環節，舉辦時間為六月底

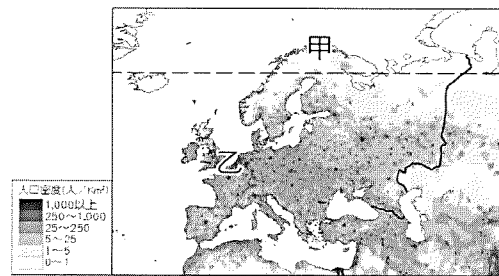
※ 歐洲人口數約為 7.46 億，與其他各洲相比，是世界人口分布最平均的一洲，但受到自然與人文環境的影響，仍存在著國家與區域間的差異。圖(四)為歐洲人口密度圖。請問：

7. 與世界各洲相比，歐洲人口分布是最平均的一洲，其成因與下列何者關係最密切？(A)經濟較發達 (B)礦產資源豐富 (C)自然環境優越 (D)海外殖民地多

8. 圖(四)中歐洲人口密度最低的「甲」區，具有下列哪一項環境特色？

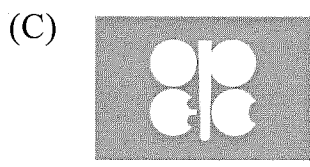


(A)地勢高聳 (B)氣候寒冷 (C)夏乾冬雨 (D)多火山地震。

9. 北歐各國的社會福利制度發展完善，其社會福利所需要的經費來源與下列何者關係最密切？(A)勞動人口比例高 (B)居民負擔高額稅金 (C)國營企業獲利高 (D)礦產資源豐富。



圖(四)

10. 下列何者是歐盟的旗幟？

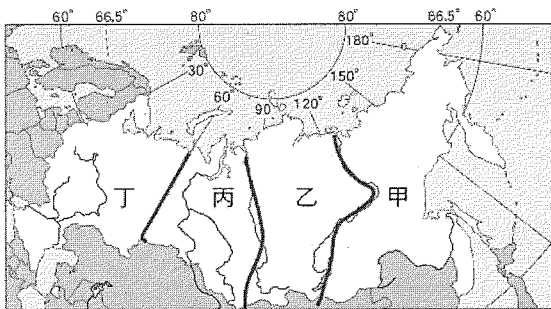


下頁有題

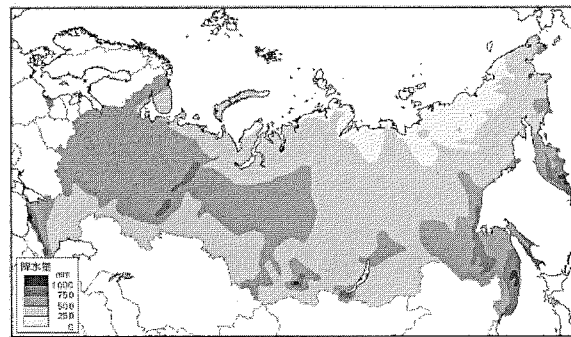
11. 歐元的發行對往來於歐洲各國的旅遊者十分便利。請問：下列哪一個歐洲旅遊行程並不適用歐元貨幣？ (A)西班牙鬼才建築師高第建築設計巡禮 (B)英國倫敦自由行浪漫之旅 (C)法國購物滑雪天堂10日遊 (D)德國格林童話名城古堡之旅。
12. 根據國際移民組織的統計數據顯示，西元2020年8月中旬，通過海路抵達歐洲的難民和非法移民達36,221人，其中到達義大利和西班牙的人數分別為15,338和10,468人，希臘等南歐國家多處難民營的實際收容量已遠遠超越設施的承載能力，不堪重負。根據上述，這些難民和非法移民最可能主要來自哪些地區？ (A)西亞、南美 (B)南美、南亞 (C)西亞、北非 (D)東非、南亞。
13. 吳老師請同學們上臺發表對「歐洲聯盟」的認識，圖(五)為四位同學的報告內容。請問：哪一位同學的敘述錯誤？ (A)承軒 (B)翊婷 (C)子清 (D)心云。

承軒：簡稱「歐盟」(EU)
翊婷：由歐洲所有國家組成
子清：以歐元作為流通貨幣
心云：會員國享有免關稅優惠

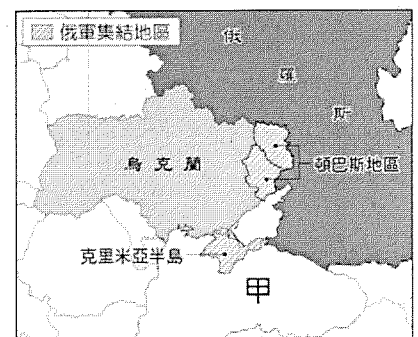
圖(五)



圖(六)



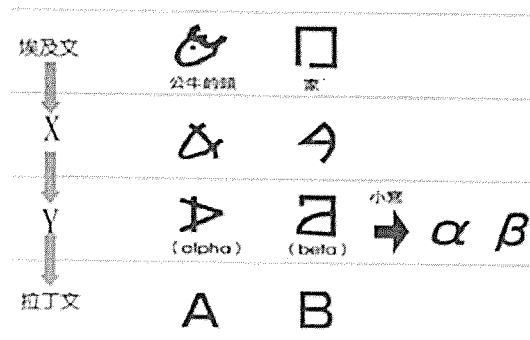
圖(七)



圖(八)

14. 猛獁象(又稱「長毛象」)的名字源於俄羅斯的古字「mammut」，意思是地下潛伏的事物，因為常常在西伯利亞的平原溼地、不受地形營力干擾的地層裡發現已死亡、並半埋於土中的巨大骨骸與象牙。根據上述，猛獁象最有可能是圖(六)中何地被發現？ (A)甲 (B)乙 (C)丙 (D)丁。
15. 圖(七)為俄羅斯年降水量分布圖。觀察圖中俄羅斯國土西半部的年降水量分布情況可以得知，俄羅斯降水的水氣最主要來自於哪一個海域？ (A)太平洋 (B)大西洋 (C)印度洋 (D)北極海。
16. 圖(八)中的克里米亞半島原為烏克蘭領土，西元2014年俄羅斯兼并該地區，之後兩國的紛爭不斷。西元2021年4月，兩國同時舉行軍事演習，俄國軍隊還在烏克蘭邊界的頓巴斯附近集結大批兵力，震驚國際，兩艘美國軍艦也因此出發前往圖(八)中的「甲」海域。請問：上述軍艦所前往的「甲」海域為下列何者？ (A)黑海 (B)北極海 (C)太平洋 (D)波羅的海。
17. 俄羅斯受惠於境內豐富的礦產，帶來可觀的收益，工業產值占GDP超過30%。該國具備此發展優勢，與下列哪項因素最相關？ (A)位高緯冬季寒冷且長 (B)高原地形面積占比高 (C)屬地質年代古老的陸塊 (D)位居板塊擠壓接觸帶上。
18. 「美索不達米亞」原意為河流之間的土地，此地延伸至地中海東岸一帶，土壤肥沃，而且形狀像一彎新月，所以又被稱為「肥沃月彎」。上述被稱為「美索不達米亞」的是哪一地帶？ (A)西亞的兩河流域 (B)中國的黃河流域 (C)埃及的尼羅河流域 (D)南亞的印度河與恆河流域
19. 有一本經典上，記載啟示如下：「我是耶和華，你的神。……曾將你從埃及為奴之家領出來。……除了我之外，你不可有別的神。」下列有關這段啟示的敘述，何者正確？ (A)此宗教是波斯文明的傳統信仰 (B)此段文字反映出猶太教的教義 (C)此宗教影響祆教與基督教發展 (D)此宗教發源自西亞波斯灣沿岸

下頁有題



圖(A)

項目	佛教	猶太教
(甲)創立地點	印度	巴勒斯坦
(乙)創始者	釋迦牟尼	耶和華
(丙)內涵	眾生平等	猶太人是上帝的選民
(丁)神祇特色	一神信仰	多神信仰

表(A)

20.在圖(A)「字母變遷」的圖表中，「X」處應該填入下列哪一選項最為恰當？

- (A)印度阿利安文字 (B)波斯文字 (C)蘇美楔形文字 (D)腓尼基文字

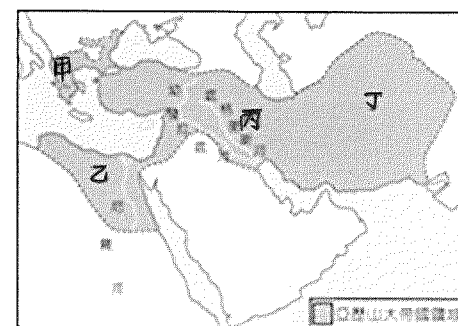
21.心恬做了一張有關佛教與猶太教的比較表格如表(A)，正確的有哪些？

- (A)甲丙 (B)乙丙 (C)乙丁 (D)丙丁

22.阿發前往中國參觀莫高窟的石窟造像，當地人告訴他，這些石窟主要是反映魏晉南北朝時期，某一種宗教盛行的影響。這是指哪一個宗教？(A)道教 (B)佛教 (C)伊斯蘭教 (D)天主教

23.亞歷山大帝國橫跨歐、亞、非三洲，其疆域如圖(B)。它最早發源於圖中何處？

- (A)甲 (B)乙 (C)丙 (D)丁



圖(B)

24.小吉和小蛙就讀不同的國中，使用不同版本的教材，但無論哪一版本教科書，介紹西方歷史時都一定會提到古希臘城邦中的雅典，這是因為雅典在西方歷史中具有下列何種重要性？(A)吸收古西亞文明並創立一神信仰 (B)樹立了日後民主政治的基本精神 (C)建立世界上第一個跨三洲的帝國 (D)創立沿用至今的西方法律制度

25.阿泉想多了解古代羅馬歷史，他到圖書館找到下列四位作者的書，其中哪一本才是最適當的？

- (A)《荷馬史詩的奇妙幻想》 (B)《猶太經典故事研究》
(C)《高盧戰記—凱撒的征服之旅》 (D)《幾何原本—羅馬人的數學成就》

26.「雅典」和「斯巴達」這兩個古希臘城邦，在希臘歷史上的發展特色為何？

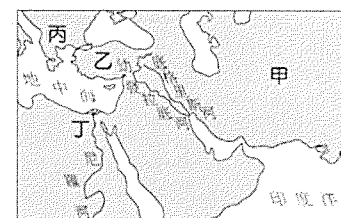
- (A)斯巴達曾領導希臘各城邦在波希戰爭中擊敗波斯
(B)斯巴達的文化藝術發達，號稱是「全希臘的學校」
(C)雅典政治為軍事統治，斯巴達則宣揚民主的精神
(D)雅典採取抽籤任官制；斯巴達以勇武著稱，武力強大

27.阿興在筆記本上寫到：「當時的學生用切斷的蘆葦桿，在柔軟的泥版上刻字，並用六十進位法進行計算，等泥版曬乾後，作業就完成了。」她應是描述上古時代哪一地區學生的上課情形？

- (A)尼羅河流域 (B)兩河流域 (C)印度河流域 (D)黃河流域

28.羅馬帝國於4世紀末分裂為東、西兩個帝國，其中的西羅馬帝國於476年，因為來自北方的哪一民族入侵而滅亡？(A)波斯人 (B)日耳曼人 (C)蘇美人 (D)鄂圖曼土耳其人

29.希臘人在建築、雕像、繪畫上，都表現出均衡、和諧、對稱之美。下列哪一遺跡可作為希臘式建築藝術的代表？(A)獅身人面像 (B)圓形競技場 (C)摩訶菩提寺 (D)帕德嫩神廟



圖(C)

30.希臘各城邦在與波斯帝國打了「波希戰爭」取得勝利後，反而陷入了內戰，也引起了圖(C)中哪一地區的民族趁機南下征服整個希臘？(A)甲 (B)乙 (C)丙 (D)丁

31.在金庸的小說《倚天屠龍記》中，曾經出現西方的「拜火教」。這種崇拜光明與火的信仰，是起源於哪一民族？(A)波斯人 (B)印度人 (C)埃及人 (D)巴比倫人

下頁有題

32.西元前6世紀，釋迦牟尼創立佛教，吸引許多信徒的跟隨。釋迦牟尼雖然擁有貴族身分，但他的主張卻深受下層民眾的支持。當時佛教獲得支持的主因應為下列何者？

- (A)相信死後審判 (B)崇尚善惡對立 (C)一神信仰興起 (D)反對種姓制度

33.「和與戰怎能由人類決定？這種事只能取決於神的意志。神和人一般，具有需要愛情與睡眠的弱點，除了飢餓與死亡，凡是人類做的事，祂們都做，也都干涉。」文中敘述較符合哪一民族的宗教觀？

- (A)古埃及人 (B)古猶太人 (C)古希臘人 (D)古印度人

34.埃及的「陽曆」是古埃及人為了什麼目的而發明的？

- (A)為幫助航海與經商 (B)預測日全蝕的發生 (C)彰顯法老的尊貴地位 (D)預測尼羅河氾濫時間

35.政府公布法規修正消息，如下圖所示。下列對於圖中內容的解讀，何者最適當？

《道路交通管理處罰條例》部分條文修正：

- 無照駕駛的罰鍰上限提高，如有致人重傷或死亡並得沒入車輛。
- 駕駛未禮讓行人致人受傷或死亡，罰鍰加倍，並吊扣(銷)駕駛執照。

- (A)此法規是由行政院交通部負責修正與執行 (B)圖中兩項修法內容皆有強化負向金錢誘因
(C)以正向非金錢誘因鼓勵汽車駕駛禮讓行人 (D)僅運用負向非金錢誘因而來嚇阻不當的行為。

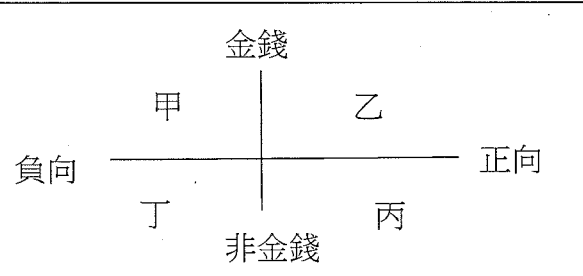
36.右表為旅行社提供的甲、乙行程資訊，若小琪、小煌、小蓉、小如四人自行來回機場接需花費1500元，根據表中內容判斷，下列哪一項消費行為的主要考量『最不可能』是價格因素？

(A)小琪：於6月27日報名甲行程
(B)小煌：於6月24日報名甲行程
(C)小蓉：於6月21日報名乙行程
(D)小如：於6月18日報名乙行程。

行程	甲	乙
出發日期	7月25日	7月20日
費用	34000元	36000元
優惠方案	6月25日前報名 折價1000元	6月20日前報名 折價2000元
交通	自行來回機場	免費機場接送

37.「蘿蔔刀」隨著抖音影片瘋迷全台，因能刺破白紙與水果，引發安全疑慮，圖(甲)是部分縣市教育局對此物品做出的規定。根據圖(甲)內容判斷，該作法屬於圖(乙)中哪一種誘因類型？

- (A)甲 (B)乙 (C)丙 (D)丁。

<p>苗栗縣蘿蔔刀非教育、學習上所需之物品，屬於校園違禁品，不准學生攜帶入校園。</p> <p>台中市高中職以下學校，嚴禁攜帶蘿蔔刀到學校，學校除勸導外或發現也有權暫時保管。</p>	
圖(甲)	圖(乙)

38.下列四個事件中，所列舉的商品或資源，何者正面臨「稀少」的問題？

- (A)連續兩個颱風過境之後，「葉菜類」價格大漲 (B)連續多日豪雨不斷，「雨水」過多把路基掏空
(C)房市買氣疲弱，建商手上的「餘屋」陷入滯銷 (D)韓國生產的「手機」，因電池爆炸而乏人問津。

39.某知名咖啡品牌與Hello Kitty聯名正式開賣!業者聯名推出的活動，是以下列何種方式影響消費行為？

- (A)降低商品價格 (B)影響個人偏好 (C)利用預期心理 (D)提高家庭所得。

40.附圖是某車廠所推出的新車款，業者在新車發表會上特別做出說明。根據途中內容判斷，業者打造此車款所考量的是下列哪一項課題？(A)生產甚麼 (B)為何生產 (C)為誰生產 (D)如何生產。

彩光特仕版是針對女性需求的車款，希望給消費者一個新的視覺體驗，讓設計更貼近使用者的騎乘體驗，提供給消費者新鮮、新穎的心情。

下頁有題

41.男爵杯子蛋糕在百貨公司設有專櫃，由於百貨公司想淘汰營業額較差的專櫃，男爵杯子蛋糕決定不計營業利潤，只求銷售成績，淘汰其中較弱的一項，只留下較適合的品項。右表是男爵杯子蛋糕各品項的每日平均銷售量，依據表中內容判斷，應為汰掉下列何者？

品項	售價(元)	成本(元)	平均銷售量
靜岡抹茶	40	10	200
伯爵紅茶	30	12	200
黑糖奶茶	50	30	200
Hershey's 巧克力	45	22	400

(A)靜岡抹茶 (B)伯爵紅茶 (C)黑糖奶茶 (D) Hershey's 巧克力。

42.所謂「生產者即生產行為的決策者，生產出各式各樣的產品，提供消費者選擇」。下列有(甲)夜市中藥燉排骨店的老闆(乙)NVIDIA 輝達的創辦人兼執行長黃仁勳(丙)便利商店的店員(丁)知名髮廊的老闆。下列哪些組合符合此一定義？ (A)甲乙丙 (B)乙丙丁 (C)甲乙丁 (D)甲丙丁。

43.著名連鎖咖啡店為提升顧客的消費意願，推出了咖啡儲值卡，凡加值 1000 元就可免費獲得咖啡一杯。此舉受到廣大消費者好評，幾乎人手一張卡，也讓咖啡店的業績上升，根據上述可知，該咖啡店推出儲值卡活動的用意為何？ (A)增加銷貨收入(B)減少銷貨收入(C)增加生產成本(D)減少生產成本。

44.小陳、小奇、小麥三人大學畢業後決定前往高高企業和熊熊企業應徵工作。右表為三人前去應徵的薪資。由於高高企業給的薪資皆高於熊熊企業，三人都決定在高高企業工作。其中表格中甲、乙、丙、丁由高到低應如何排列？ (A)乙丙丁甲 (B)乙丁丙甲 (C)丙丁乙甲 (D)丁乙丙甲。

項目	小陳	小奇	小麥
高高企業	26000 元	乙	29000 元
熊熊企業	25000 元	29000 元	28000 元
機會成本	甲	丙	丁

*日本眼鏡 JINS 的創辦人田中仁，看到南韓眼鏡主打平價、快速的配鏡方案「一副 3 千日圓，15 分鐘交貨」，相較於日本配一副眼鏡大約花 3 萬日圓，在南韓只需 1/10 的價格，還能快速交貨。新生好奇的他，回國後投身眼鏡事業，他研究了眼鏡店與產品流通的過程，發現日本眼鏡行從生產到銷售，有太多中間商，若直接向製造商大量進貨，就能壓低價格，於是他用低價買大批的鏡框和鏡片，推出「一副 5 千日圓，一天交貨」的訴求，並賦予眼鏡新的附加價值，強化產品時尚性與機能性，讓眼鏡變成彰顯個人風格的時髦配件。請回答 45-46 題：

45.有關上文內容的分析，下列何者正確？ (A)田中仁賣出一副眼鏡的利潤為 5 千日圓 (B)田中仁是主要利用非金錢誘因吸引消費者 (C)田中仁屬於人力資源的角色 (D)田中仁屬於生產者的角色。

46.若 JINS 眼鏡的成本為一副 4 千日圓，且一天可以銷售出 500 副眼鏡，則 JINS 眼鏡一天的利潤為多少日圓？ (A)500,000 (B)1,000,000 (C)2,000,000 (D)2,500,000。

下頁有題

*電價虧損，在立法院引發調漲電價的議題。麵包店業者喊話，「電價再調漲，可能會考慮歇業。」在野黨立委抨擊，電價要飆漲是錯誤能源政策造成；經濟部長強調，俄烏戰爭造成全球燃料價格飆漲，一年燃料成本 6100 億元，是台電虧損主因，如果要完全反映燃料成本，電價至少要上漲 5 至 6 成。附表是台電的發電成本，台電呼籲各界討論台電的財政狀況時，應一併正式台電與政府穩定物價的用心。請回答 47-48 題：

電力來源	自發電力				購入電力		
	火力發電	核能發電	再生能源		民營電廠 火力發電	再生能源	
			風力	太陽光電		風力	太陽光電
每度電價	3.54	1.4	3.86	3.98	4.22	6.85	4.87

- 47.上文中，麵包店業者的喊話，說明可能歇業的主要理由，在於下列何者？
 (A)顧客的喜好改變(B)人力成本節節高升(C)成本增加導致無利可圖(D)銷貨收入因電價調漲而減少。
- 48.根據表中判斷，在不考慮其他情況下，若要減少台電虧損，下列何者最能達到目標？
 (A)停止購入風力發電，多使用自發電力 (B)停止使用自發電力，並多向民間購買 (C)不管自發電力或購入電力，多使用再生能源 (D)使用民營電廠的火力發電，減少自發電力的火力發電。

*新竹縣政府在竹東鎮查獲非法繁殖品種貓的業者，部分貓咪還染上疾病。經沒入、醫治、照顧後恢復良好，第一批開放 12 隻布偶貓及 4 隻英國短毛貓給民眾認領。由於品種貓照顧上較不容易，飼養者需要有經濟基礎及時間，家畜疾病防治所呼籲民眾想清楚後再認養。而為了事後進行追蹤查核，認養者的身分限定是居住在桃、竹、苗地區且年滿 20 歲者。結果活動當天吸引 566 位民眾到場，每人有 5 支籤，可以依喜好投入貓隻的籤筒內，但每人最多認養 1 隻。請回答 49-50 題：

- 49.對於上述分配貓咪認養者的方式，下列敘述何者正確？
 (A)可以確保每個人獲得的機會均等 (B)分到資源者可能用不到造成浪費
 (C)最簡單、直接、快速的分配方式 (D)生活中大多數資源以此方法分配。
- 50.假設小庭當天為了認養貓咪，請了一天不給薪的事假，又坐計程車來回，他因此付出的機會成本為何？(A)請假當天的薪水+耗費時間 (B)坐車的交通費用+耗費時間 (C)請假當天的薪水+坐車的交通費用(D)請假當天的薪水+坐車的交通費用+耗費的時間。

試題結束