

高雄市中正高中國中部 113 學年度第一學期國二社會科第一次月考試題

【試卷共 5 頁】

班級： 座號： 姓名：

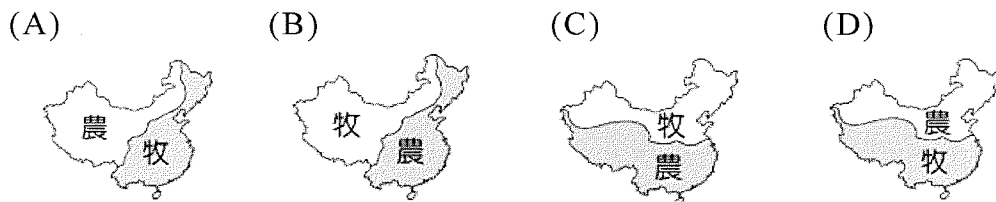
※每題 2 分，共 50 題

科目代碼:05 (請用 2B 鉛筆，將答案劃於答案卡上)

一、地理科(1-17 題)

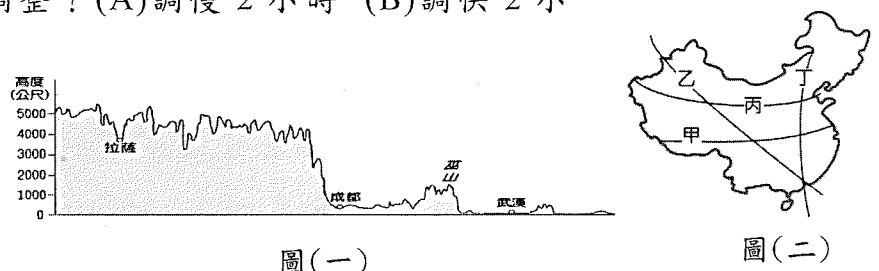
1. 中國詩詞中「滾滾長江東逝水」、「恰似一江春水向東流」、「大江東去，浪淘盡，千古風流人物」皆說明河水向東方流動的情形。請問：造成這種現象的主要原因為何？
 (A) 西部雨量較多 (B) 東部緯度較低 (C) 東部河流較多 (D) 西部地勢較高。

2. 中國的傳統產業受到自然條件的影響，其分布大致呈現下列何種狀態？

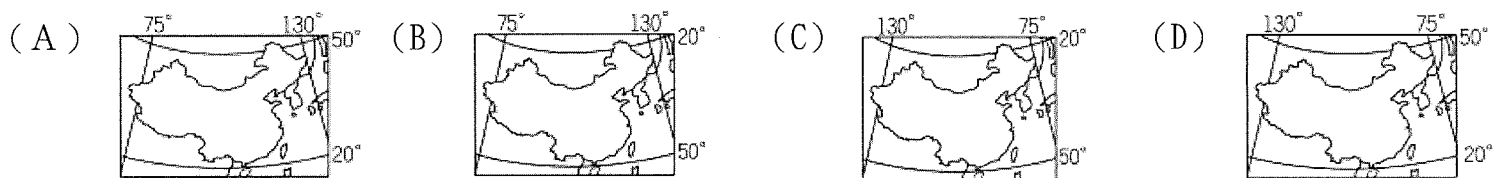


3. 住在台灣的小杰想利用新年前往中國拉薩(90° E, 30° N) 拜訪朋友，為了配合目的地所在國家的時間，他應該將手錶時間做何種調整？(A)調慢 2 小時 (B)調快 2 小時 (C)調慢 4 小時 (D)不需調整

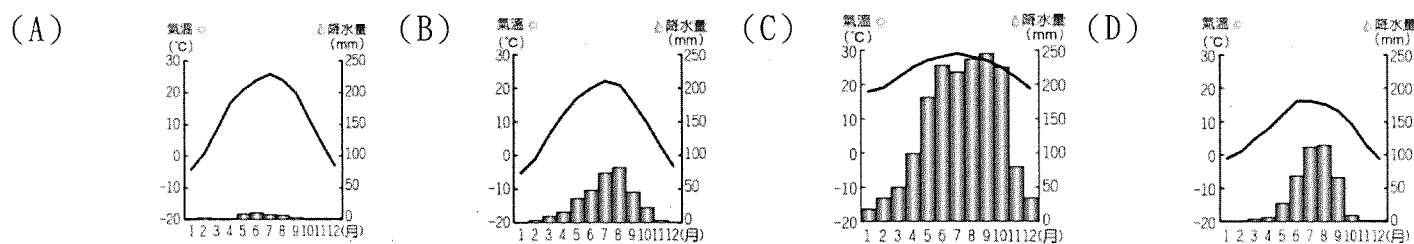
4. 圖(一)為中國某地的地形剖面圖，請問此圖是沿著圖(二)中哪條剖面線繪製而成？(A)甲 (B)乙 (C)丙 (D)丁



5. 中國的經緯度範圍為下列何者？



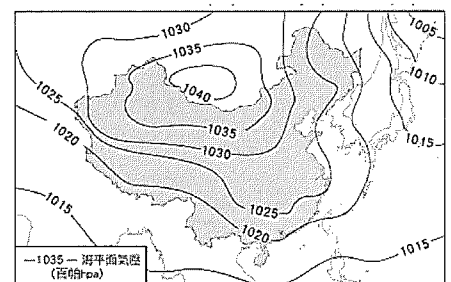
6. 下列為中國四個地區的氣候資料，哪一個地區傳統上以**犛牛**為主要交通工具？



7. 『每年冬、春，北京的空氣品質總是備受威脅，居民無奈感慨「吸霾吃土」的北京日常，滾滾黃沙，鋪天蓋地；沙塵起因是蒙古地區沙漠化，透過季風的吹送，將沙塵襲向中國東部，甚至跨越國界吹向日、韓。』根據上述引文推判，此時盛行於中國北方的季風風向為何？
 (A) ↗ (B) ↘ (C) ↙ (D) ↖

8. 《我的阿勒泰》在短短三天內擠身中國收視榜的冠軍，這部劇通過細膩的情感描繪和對新疆阿勒泰地區日常生活的真實呈現，讓觀眾深刻體驗當地的風土人情和真實生活，請問劇中最可能出現下列何種景觀？(A)終年積雪、寒冷荒涼的高原 (B)防潮通風的干欄式建築依山而建 (C)牧民騎馬，趕著駱駝經過 (D)農民揮汗於水田中插秧。

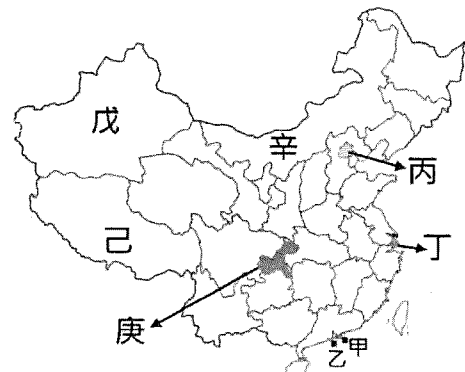
9. 圖(三)為中國某季節的氣壓分布圖，由圖中資訊判斷，該季節會出現下列何種狀況？(A)全國河川結冰 (B)降雨豐沛 (C)太平洋高壓籠罩晴朗乾燥 (D)東半部南北的溫差大。



圖(三)

■圖(四)為中國行政區，請依圖回答問題：

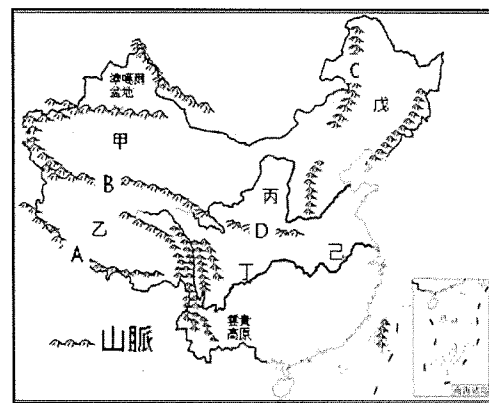
- 『新疆南部和若鐵路 2022 年 6 月正式通車後，是世界首條環沙漠鐵路線，也成為中國的新地標之一。』請問，此鐵路最可能位於圖中何處？(A)甲 (B)丁 (C)戊 (D)己
- 『○○市山地面積超過 70%，是個獨具山城特色的直轄市，整座城市建築在山上，連輕軌也需在山腰和半空中行走...』，此直轄市最可能位於圖中何處？(A)乙 (B)丙 (C)庚 (D)辛。



圖(四)

■圖(五)為中國地形分布，請依圖回答問題：

- 『窯洞民居主要分布在河北、河南、山西、陝西、寧夏和甘肅六大區域，是受流水侵蝕而溝壑遍佈的[]上一種特殊且古老的民居建築形式』，引文中[]最可能位於圖中何處？(A)甲 (B)丙 (C)戊 (D)己。
- 『此區形勢封閉，氣候濕潤，植被豐茂，被諸葛亮喻為“天府之國”』，上述引文是圖中何處？(A)甲 (B)乙 (C)丁 (D)己。
- 『「橘生淮南則為橘，橘生淮北則為枳」，此處的『淮』即為淮河，此河與位於其西部的[]山脈一起構成重要的地理現象南北分界線。』引文中[]位於圖中何處？(A)A (B)B (C)C (D)D。
- 以下哪些氣候分界大致與上題文中的南北分界線相符？(甲)一月月均溫 0℃ (乙)七月月均溫 20℃ (丙)一月月均溫 18℃ (丁)年雨量 750mm (戊)年雨量 500mm (己)南稻北麥，正確的是？(A)甲丁己 (B)乙丁己 (C)乙丙丁 (D)甲乙丁



圖(五)

■圖(六)為中國三大氣候類型分布，請依圖回答問題：

- 『日溫差大、年溫差小且植被隨著高度呈垂直變化』，請問此特徵最可能出現在圖何處？(A)甲 (B)丙 (C)丁 (D)己。
- 下表最可能是圖中哪個城市的氣候資料？(A)乙 (B)丁 (C)戊 (D)己。

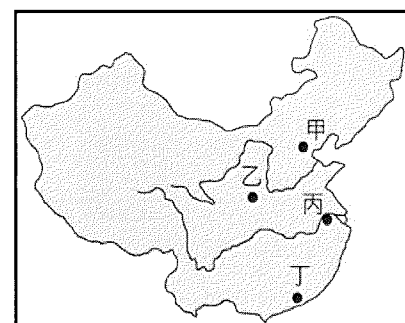


圖(六)

	1月	2月	3月	4月	5月	6月	7月	8月	9月	10月	11月	12月
氣溫	3.1	4.4	8.5	14.2	19.2	23.4	27.8	27.7	23.6	18.3	12.3	6.1
雨量	39.4	59.0	81.9	102.4	106.3	152.2	127.9	133.1	155.5	63.3	53.7	35.1

(二)歷史科(18-34題)

- 今日我們常說說的「買東西」「吃東西」，「東西」一詞源自唐朝首都的兩個商業中心：「東市」和「西市」，當時的唐朝首都可說是全球最大的城市，其中西市有許多胡人店鋪，是外族商人的聚集地，可以見到各式各樣來自西域諸國的商品如：象牙、寶石、香料、藥物等，應有盡有，大街上可見胡人女子跳胡旋舞，甚至有婦人穿著胡裝，騎馬在大街上遊覽，非常熱鬧。」請問：若想實地追尋唐朝首都舊時繁華的足跡，應前往右圖中的何處？(A)甲 (B)乙 (C)丙 (D)丁。
- 承上題，胡人文化的傳入改變了唐人的生活樣貌，掀起一股「胡風」流行。請問：出現此現象的時代背景為何？(A)唐朝對外政策寬容開放 (B)胡人君主積極推動漢化政策 (C)唐朝施行朝貢貿易體制 (D)胡人勢力壯大，唐朝共主地位受到挑戰。
- 世族是魏晉南北朝社會中的重要特色，他們長期壟斷官職，享有免除賦稅勞役的特權，請問：最初世族的形成與何種學術思想受到重視有關？(A)佛學 (B)法家 (C)道家 (D)儒家。
- 承上題，哪一種選才制度的實施更加擴大世族在社會上的影響力？(A)察舉 (B)科舉 (C)九品官人法 (D)官位世襲。

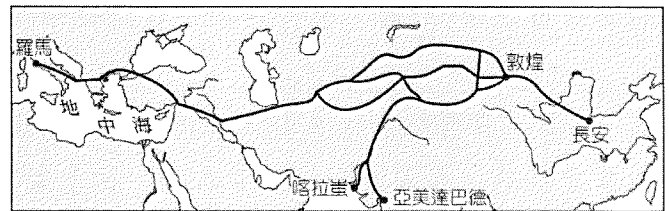


22. 詩沛最喜歡前往日本自助旅遊，因為日本到處都可以看到漢字，對辨識地名和車站有很大的幫助，大大降低不懂日語的人到日本去自助旅遊的難度。日本有漢字和平假名交雜使用的現象，開始的時間應該是對應到中國哪個朝代？(A)周朝 (B)秦朝 (C)漢朝 (D)唐朝。
23. 哪一個政權滅亡後，黃河流域長期被胡人統治，促進北方的胡漢融合？(A)漢朝 (B)曹魏 (C)西晉 (D)隋朝
24. 秦始皇建立了中國歷史上第一個統一的王朝。為了方便統治，推行統一文物。請問：統一的文物不包括下列何者？(A)語言 (B)車軌 (C)貨幣 (D)度量衡。
25. 封建與郡縣是中國各朝代在政治制度安排上常出現的兩種方式，這兩項制度在落實上各有利弊。下表有關封建、郡縣的比較，哪個欄位完全正確？(A)甲 (B)乙 (C)丙 (D)丁。

	封建	郡縣
(甲)統治者	皇帝	天子
(乙)最早實施時間	商周	東周
(丙)管理方式	君主派任官吏	君主分封諸侯
(丁)官吏來源	中央派任	世襲

26. 漢武帝曾派何人出使西域，使漢朝與西域各國開始相通，揭開經營西域的序幕？
(A)商鞅 (B)玄奘 (C)張騫 (D)文成公主。

27. 右圖是漢朝通往西方的長途貿易路線圖，請問：這條貿易路線成為漢朝時聯絡東西貿易的主要路線，也促進東西之間文化交流，與漢朝想要對付哪個草原民族有關？
(A)鮮卑 (B)突厥 (C)匈奴 (D)蒙古。



28. 「東突厥騷擾西域地區已久，聽聞他擊敗東突厥，西域國家感謝不已，決定致上『天可汗』的稱號，所以他不只是中國的皇帝，也是西北、中亞地區各民族的領袖。」請問：文中所說的「他」應該是中國的哪一位皇帝？(A)秦始皇 (B)漢武帝 (C)北魏孝文帝 (D)唐太宗。
29. 長城為中國重要的歷史古蹟，也是許多觀光客喜愛造訪的景點，請問：此景點在中國歷史上主要功能為何？(A)防禦草原民族入侵 (B)提供外來使節休憩 (C)對外貿易的重要設施 (D)各個朝代的疆域界線。
30. 同學們在課堂後討論商與西周的封建，並將討論的結論條列出來。請問：下列敘述何者正確？甲、商朝的封建是分封既有勢力；乙、周朝的封建是分封親戚與友邦；丙、商王能夠隨意指揮受封勢力；丁、周王利用宗法血緣強化對諸侯的統治 (A)甲乙丙 (B)甲乙丁 (C)甲丙丁 (D)乙丙丁。
31. 某個諺語故事描述：韋賢精通古代經典如《尚書》、《禮記》。他有四個兒子，其中幼子因為通曉經書而能當丞相。因此當時流傳一句話：留給後代子女的東西，教他們學好經書遠勝過黃金。請問：韋賢最有可能是下列何朝的人？(A)周朝 (B)秦朝 (C)漢朝 (D)唐朝。
32. 東周後期秦國將人民編入戶籍，同時也廢掉過去的貴族等地方領袖，所有人皆是國君的臣民。請問：此項做法最直接的影響為何？(A)增加賦稅勞役來源，奠定富強基礎 (B)方便政府選拔人才，任用官員 (C)抑制貴族勢力，促進社會階層流動 (D)提升君主的威信，有助維持地方秩序。
33. 右圖是中國史上某政權曾經推動的統治政策。根據內容判斷，關於此政權的敘述何者正確？(A)此皇帝應該具有鮮卑人的血統 (B)此政權原所在地理位置應該是在長江流域 (C)此政權建立的時間應該是在隋唐之後 (D)此政權推動的漢化政策對開發江南有很大的幫助。
34. 唐太宗在位期間武功全盛，將唐帝國發展為當時東亞地區最強、文化最盛的國家，對周邊國家文化發展影響深遠，若以唐帝國的文化傳播為主題做報告，下列哪一個地區不在唐文化傳播的範圍內？(A)吐蕃 (B)新羅 (C)日本 (D)天竺。

朕決定遷都洛陽，且從今日起，推行漢化措施。



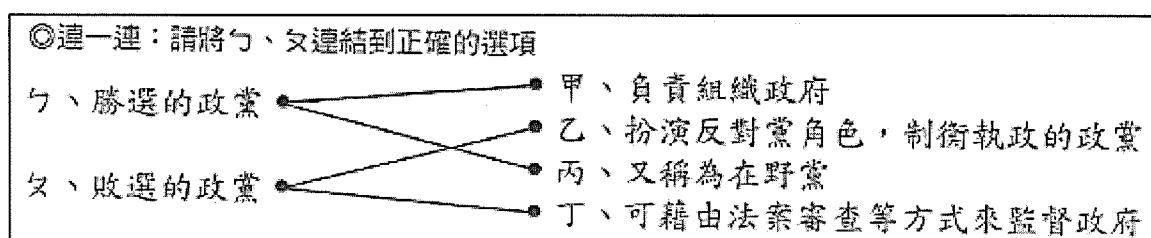
(三)公民科(35-50題)

35. 下列是一則針對希臘選舉結果的新聞報導：

希臘的國會大選於2019年7月舉行，原本執政的左翼聯盟並未取得國會過半的席次，因此將會由在野黨新民主黨取代執政黨，組成新政府。新民主黨黨魁米佐塔基斯承諾選民，希臘與北馬其頓達成國民協議，將是新政府外交工作的優先事項。

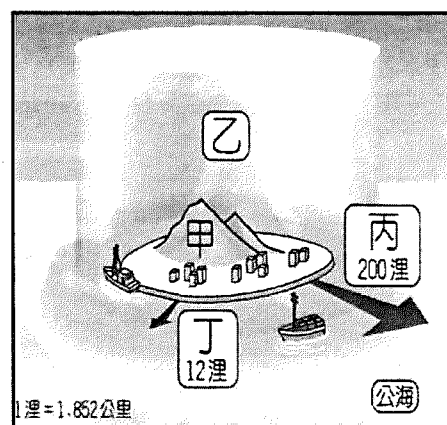
根據內容判斷，下列四位同學針對該報導所做的敘述，何者正確？(A)小玉：「新政府透過選舉由人民選出後，人民的主權會轉移給政府」(B)小綜：「新民主黨所組成的新政府具有統治權，屬於希臘的一部分」(C)小君：「政府不論是否輪替都有權推動政策，所以具有永久存在性」(D)小贏：「新政府代表希臘推動外交，顯示國家的國際地位將會轉變」。

36. 小陳說明某一政治概念時指出：「古代有篡位取得君權者，近代則有利用政變取得政權的統治者。若上述事件發生在今日，以現代民主政治運作的角度觀察，這些政治權力的來源其實都不具合法性。」小陳的說法是因為上述二種政權的來源皆缺乏哪一條件？(A)政黨政治的發展(B)人民自由的保障(C)權責相符的責任政治(D)公平競爭的選舉過程。
37. 2022年義大利國會大選，中右翼聯盟獲得45%選票，而聯盟中的義大利兄弟黨斬獲26%選票成為全國最大黨，該黨主席梅洛尼被任命為總理，成為義大利史上首位女總理，與二戰後首位右翼領袖。義大利兄弟黨自2012年創立，在2013年的大選中僅獲2%支持，在2018年大選也只有4.4%，但2022年就贏來歷史性勝利。根據上述判斷，下列相關敘述何者正確？(A)義大利是只有兩大政黨公平競爭的民主國家(B)義大利的政黨其成立目的是為監督政府施政(C)義大利女總理所籌組的政府會擁有國家主權(D)義大利兄弟黨在2022大選實現了政黨輪替。
38. 以下是小節的政黨功能學習單——



根據內容判斷，下列小節所做的線段連結，何者錯誤？(A)ㄅ—甲(B)ㄅ—丙(C)ㄆ—乙(D)ㄆ—丁。

39. 新聞報導：「隨著俄烏戰爭升級，美國在2022年3月禁止俄羅斯進入美國領空；而俄羅斯隨後採取相對應的措施。」上述美國禁止俄羅斯飛機進入的領空，最可能為右圖中哪一領土範圍？(A)甲(B)乙(C)丙(D)丁。
40. 《美國憲法第一修正案》保障美國人民多項自由(甲)，包括宗教、言論、新聞、集會遊行、請願等，也允許民眾對政府表達不滿；但如果人民在行使自由時違反法律，警察也會以(乙)加以取締。上文中的(甲)、(乙)依序應是指下列何者？(A)權利；權力(B)權利；權利(C)權力；權利(D)權力；權力。



41. 我國自1995年以來，每隔四年舉行一次總統直接選舉。下表為截至目前為止的直選結果，下列哪一敘述最能詮釋表中的內涵？

年分	1996~ 2000	2000~ 2004	2004~ 2008	2008~ 2012	2012~ 2016	2016~ 2020	2020~ 2024	2024~
當選人	李登輝	陳水扁	陳水扁	馬英九	馬英九	蔡英文	蔡英文	賴清德
執政黨	國民黨	民進黨	民進黨	國民黨	國民黨	民進黨	民進黨	民進黨

- (A)國家主權有賴政府運作而彰顯(B)國家含括各種層級的統治機關(C)政府是短暫且可以改變的組織(D)政府的統治權在國家主權之上。
42. 依據相關法律規定，人民若具有某國之國籍，便是該國的國民。下列哪一個人最可能是中華民國國民？(A)光漢：我上個月剛被徵召入伍服兵役(B)光哲：我目前在外商公司任職(C)光信：我正在臺灣大學就讀政治系(D)光如：我在英語補習班擔任外語老師。
43. 請判斷下列敘述：(1)小周翻閱《中華民國憲法》，發現內容十分簡潔。(2)大法官認為化妝品相關條例中，規定化妝品廣告須事先審查，已違反《憲法》保障廠商的言論自由。(3)《憲法》修改程序複雜，從民國36年實施迄今只經過七次修憲。請問上列3個敘述依序分別屬於《憲法》的何種特性？(A)最高性、固定性、原則性(B)固定性、原則性、最高性(C)原則性、最高性、固定性(D)原則性、固定性、最高性。

44. 國家的存在能達成許多目的，下列關於我國社會現況與國家存在目的之配對，何者正確？(A)為提升國民素質，政府積極推動十二年國民基本教育→安全(B)民間團體反對進口含有瘦肉精的美國豬，決定走上街頭抗議→秩序(C)目前我國的邦交國數量略減，外交部應更努力與他國遞交友好關係→人權(D)社會住宅的推動讓經濟上的弱勢者有可以遮風避雨之處→福利。
45. 請問下列各種法律，那些法律符合「位階高於命令，低於憲法」？(A)監獄組織通則、合作社法施行細則、法律扶助法(B)社會秩序維護法、地方稅法通則、毒品危害防制條例(C)土地登記規則、社會發展工作綱要、中華民國憲法(D)退休人員保險辦法、道路交通管理處罰條例、國籍法。

*** 閱讀下列選文，回答第 46-47 題：**

我國全民健康保險(以下簡稱全民健保)是世界稱羨的制度，民眾就醫便利，看病的經濟負擔也不大。但該制度實施以來，部分的規定曾發生若干違憲爭議，就以有關「強制納保、繳費之規定」的爭議來看，司法院釋字第 472 號指出，《憲法增修條文》明文要求政府應實施全民健保，以增進民族健康及謀求社會福利；再者，基於國家整體的公共利益考量、社會互助與危險分攤，強制人民納保及繳費是必要的手段，故前述規定與《憲法》並無牴觸。

一名李姓民眾因長年旅居國外，辦理停保健保，儘管每年都只有在春節返台探親，亦沒有就醫，仍符合復保條件。但因該民眾按照《全民健康保險法施行細則》規定辦理復保及再次停保，被中央健康保險署(以下簡稱健保署)要求補繳健保費共新台幣 2247 元。針對旅居國外者的「停保、復保」問題，李姓民眾質疑《全民健康保險法施行細則》並無法律明確授權，有違憲之虞，因而提出權利救濟，最後失敗而聲請釋憲。

憲法法庭審理後，判決指出《全民健康保險法施行細則》的規定並未侵害《憲法》保障的財產權、平等權等基本權利；但有關「健保停保與復保」之規定，因涉及重大公共利益，此一施行細則卻未有法律明確授權，應以法律或法律明確授權的命令作為依據，因此相關條文的規定在兩年後失效。衛生福利部官員表示將依照判決修訂《全民健康保險法》，以完善法制。

46. 由司法院釋字第 472 號的說明，可以判斷政府應該是基於下列何理由，而強制全體國民參加全民健保？(A)提供弱勢族群專屬的醫療服務以及經濟協助(B)強制納保才能夠將個人風險完全由國家負擔(C)全民健保透過強制納保可以分散生活的風險(D)由國家提供全民健保較能促進我國經濟發展。
47. 上述憲法法庭判決結果，若依據我國相關法令來看，政府應如何完成《全民健康保險法》的修正？(A)由中央選舉委員會直接辦理全國性的公民投票來複決(B)由行政院衛生福利部自行修訂與頒布，即可正式施行(C)由人民向立法院提出法律修正案，請立法院修正該法(D)由立法院依照立法程序三讀通過後，再送請總統公布。

*** 閱讀下列選文，回答 48-50 題：**

英國首相拉斯上任後為改善經濟，(甲)推出高達 450 億英鎊的減稅計畫政策，卻導致英鎊匯率暴跌，國外資金減少投資，經濟市場動盪。在民眾不滿的聲浪下，特拉斯取消部分計畫，並更換財政大臣。但投資者已失去信心，民調支持度也不斷暴跌，最後擋不住被要求下台負責的聲音，(乙)在任僅僅 45 天便宣布辭去首相一職，成為英國在任天數最短的首相。由於特拉斯所屬的(丙)保守黨目前仍是英國國會最大黨，在保守黨完成黨魁選舉後，(丁)新任黨魁將成為英國的新任首相。

48. 特拉斯取消部分計畫的作為，最符合民主政治運作的何項特色？(A)民意政治(B)政黨政治(C)責任政治(D)法治政治。
49. 上文(甲)~(丁)中，何者內容最符合責任政治的意涵？(A)甲(B)乙(C)丙(D)丁。
50. 根據上文，下列何者最為此則新聞的標題，最能表達新聞的重點？(A)450 億英鎊減稅計劃失敗，英國經濟市場嚴重動盪(B)為政策失當負責，特拉斯成為英國任期最短的首相(C)選後保守黨成為國會最大黨，新任黨魁將就任首相(D)為搶救暴跌的民調，前外交大臣韓特接任財政大臣。

~~ 試題結束 ~~