

高雄市立中正高級中學國中部 113 學年度第一學期國二社會科第 3 次段考試卷

二年 班 號姓名：

科目代碼：05【請用 2B 鉛筆，將答案劃於答案卡上】

單一選擇題：共 50 題（每題 2 分）

【試卷共 6 頁】

■日本企業為降低生產成本、紛紛到海外投資設廠，資金大量外流、生產線移往國外，長久下來，日本產業將呈真空狀態，造成產業的空洞化。而產業空洞化將導致  增加、工業生產力衰退、經濟成長延宕；另一方面，日本企業湧向海外生產之餘，企業本身經營方針也發生變化……。請回答 1-2 題：

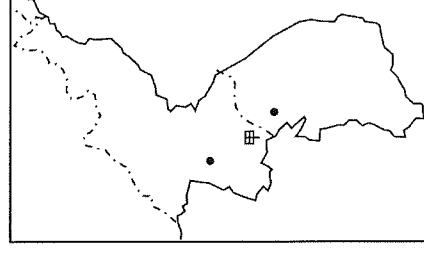
1. 上述引文中的 ，最可能填入下列何者？(A)失業人口 (B)人口老化程度 (C)人均國民所得 (D)都市化程度。

2. 文末指出『經營方針也發生變化』，請問此變化『最不可能』是 (A)利用產品專利權賺取較高利潤 (B)透過產業合作或企業合併吸納更多國際資金 (C)將人工智慧融入老人照護產業 (D)大量進口礦產資源強化重工業發展。

■一枚北韓空飄垃圾氣球於今日(2024/10/24)落在南韓市中心的總統府，這是近月來第 2 起這類事件，有媒體分析，這因為北韓開始使用全球定位系統 (GPS) 技術，使得近來空飄氣球越過圖中甲處(兩國分界)後，能精準降落於南韓總統府；但針對此分析，專家持不同看法，認為降落精確度改善的關鍵在於北韓大量投放，並根據風向與風速讓氣球達到正確高度，乘風飄散..。請依上文及圖(一)回答 3-4 題：

3. 引文中，專家認為氣球投放準確度改善是因為根據當季盛行何種風向大量投放而成？(A)西北風 (B)東北風 (C)東南風 (D)西南風。

4. 圖中『甲』為下列何者？(A)太白山 (B)鴨綠江 (C)38°N (D)38°E。



圖(一)

■下表為日本新瀉(137°E, 38°N)、平壤(125°E, 38°N)、天津(116°E, 38°N)三個城市的氣候資料，請回

答 5-6 題：

	一月	二月	三月	四月	五月	六月	七月	八月	九月	十月	十一月	十二月	年雨量
甲	-8°C	-5°C	2°C	10°C	16°C	20°C	23°C	22°C	16°C	9°C	0°C	-6°C	650mm
乙	-6°C	-2°C	4°C	12°C	17°C	22°C	24°C	25°C	20°C	13°C	5°C	-3°C	1000mm
丙	3°C	3°C	6°C	11°C	16°C	20°C	24°C	26°C	22°C	16°C	11°C	6°C	1242mm

5. 請根據最冷月均溫及年雨量判斷，表中甲、乙、丙分別為？(A)新瀉、平壤、天津 (B)天津、新瀉、平壤 (C)平壤、天津、新瀉 (D)天津、平壤、新瀉

6. 承上題，三個城市氣候特徵不同，最主要是受 (A)海洋 (B)地形 (C)季節 (D)緯度的影響。

7. 韓國實境節目《黑白大廚：料理階級大戰》多次出現的韓國傳統美食「泡菜」(Kimchi)，因 Netflix 將其翻譯成「辛奇」而引發觀眾的討論。請問「辛奇」時常出現於韓國餐桌與下列何項關係最密切？(A)颱風頻繁，農業受限 (B)冬季寒冷，作物不易生長 (C)雨量稀少，青菜缺乏水源 (D)氣候濕熱，吃辣散熱

8. 日本四季分明，每個季節景緻不同，隨著氣候回暖，適合賞櫻；氣溫變冷，適合賞楓，請問最早賞櫻及最早賞楓的島嶼分別是？(A)賞櫻：北海道；賞楓：九州 (B)賞櫻：四國；賞楓：本州 (C)賞櫻：九州；賞楓：北海道 (D)賞櫻：本州；賞楓：北海道。

9. 日本大多數農產品都擁有高身價，如青森蘋果、山形櫻桃、北海道夕張哈密瓜等。請問：若不考量其他因素，以農業耕作來看，日本農產品價格較貴的主要原因為何？(A)全年寒冷，運用溫室栽培 (B)可耕地少，生產成本高 (C)水源缺乏，抽取灌溉用水 (D)政策限制，總生產量較低

10. 南韓滑雪最佳月份大概落在11月~3月，滑雪場多集中在山區，沿坡地而建。請問：小優若從首都出發前往滑雪場，應往半島的哪一個方向前進？(A)東方 (B)北方 (C)西方 (D)南方。

11. 有關南北韓的比較，何者正確？

	(A)地形	(B)農業	(C)礦產	(D)政治體制
北韓	平原較廣	一年二穫	多	民主
南韓	高原為主	一年一穫	少	共產

12. 《白頭山：半島浩劫》是一部2019年上映的韓國火山災難劇情片，『白頭山』在台灣大多稱為「長白山」，是一個有噴發歷史紀錄的火山，但現在噴發口已變成了火口湖，因為它位處兩國交界，所以火口湖的一半是○○、一半是北韓的領土，請問○○應填入哪一國家？

(A)中國 (B)日本 (C)俄羅斯 (D)南韓。

13. 日本經濟發達，為世界重要的工業國家之一。請問：下列有關該國的敘述中，哪些正確？(甲)豐富的礦產資源(乙)便利的交通航運(丙)興盛的貿易活動(丁)廣闊的平原地形 (A)甲乙 (B)甲丁 (C)乙丙 (D)丙丁。

14. 『○○股市公開資訊統計，光是前四大財團(三星、現代、樂金、鮮京)，資產就佔全國GDP五成，四大財團的資本支出，則佔全國投資總額三五%；財團是○○的天使，也是魔鬼…』，○○應填入？(A)北韓 (B)南韓 (C)日本 (D)中國。

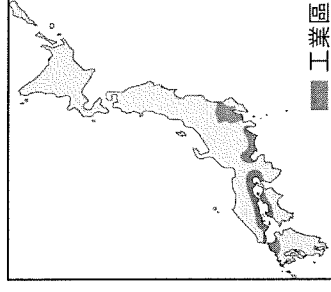
15. 日本筷子尖細的筷頭用來剔撥食物更方便，同時因為漁產多，他們很喜歡吃海魚，筷子設計成尖頭更適合扎魚肉、剃魚刺。請問：日本漁產多的原因與下列何者『最無關』？(A)氣候較暖溼(B)海岸線曲折(C)寒暖流交會(D)鄰近世界漁場。

16. 圖(二)為日本工業區分布圖，請問，此分布的工業區位為？

(A)原料 (B)勞力 (C)交通 (D)動力。

17. 甜甜想於寒假前往東北亞旅遊，請問下列何項『不可能』在此次行程中？

- (A)穿著韓服遊景福宮，體驗「溫突」的居室取暖系統。  
 (B)大同江乘船並欣賞阿里郎歌舞、參觀平壤地鐵及國家少年宮表演。  
 (C)箱根泡溫泉，觀賞富士山景色。  
 (D)印度洋卡尼島浮潛、體驗海上獨木舟及風帆活動。



圖(二)

18. 下列何者是1898年光緒皇帝領導的戊戌變法的項目內容？(A)建造新式艦隊 (B)建立京師大學堂 (C)廢除科舉制度 (D)成立總理各國事務衙門。

19. 承上題，戊戌變法僅僅推動一百多天便宣告失敗，參與新政的人士不是被逮捕，便是被迫逃往海外。請問：導致新政失敗的最大原因為何？ (A)只重視軍事國防等器物層面的改革 (B)有西方外來勢力介入

(C)慈禧太后為首的守舊派勢力反對 (D)各國組成聯軍攻入北京，皇帝被迫離京逃難。

20. 19世紀下半，英國商人Harry Potter想到上海投資開設紡織工廠，但因不合法而遭遇許多困難，但後來因為哪一事件的發生，使得Harry Potter可以合法在上海投資建廠，上海也因外資匯集，成為中國最大的工業中心？(A)1858年開港通商 (B)1885年臺灣建省 (C)1894年甲午戰爭 (D)1900年八國聯軍。

21. 承上題，當時的上海，最早只有允許日本設廠，但後來不只英國，還包括法國、美國等外籍商人都可以合法在中國通商口岸開設工廠，嚴重影響中國本土工業的發展。請問：此種外資工廠林立的情況也與西方列

強擁有何項特權有關？(A)領事裁判權 (B)協定關稅 (C)設立租界 (D)片面最惠國待遇。

22. 琦琦閱讀一本關於中日改革書籍，書中提到日本的「明治維新」與中國的「自強運動」，她閱讀完畢後做了個人筆記。請問：關於琦琦的筆記，下列敘述何者正確？(A)兩者均是面對西方勢力威脅時所進行的改革 (B)兩者改革的內容均包括政治制度的改革 (C)自強運動由光緒皇帝開始推動，明治維新則由日本天皇主導 (D)兩者均是在十九世紀前期開始推動的改革。

23. 一篇文章中寫道：「十九世紀中葉，海軍將領率領四艘軍艦來到這個國家，要求此國開港通商並與進行貿易。此國在無力抗衡情況下，與簽署條約，結束長達兩個世紀的鎖國政策。之後，此國走向「改革」的道路，成為亞洲第一個現代化國家。」上文中的「」及「改革」最有可能是下列何者？

(A)英國、自強運動 (B)美國、大化革新 (C)英國、百日維新 (D)美國、明治維新。

24. 某位欽差大臣曾要求所有鴉片商三日內交出全數鴉片，簽立切結書，聲明以後不再販賣鴉片，否則「一經查出，貨盡沒官，人即正法。」並寫了一封致英國維多利亞女王的文書，要求女王去除印度的鴉片，放棄鴉片貿易。請問：上述的欽差大臣應該是何人？(A)林則徐 (B)李鴻章 (C)曾國藩 (D)康有為。

25. 19世紀初，法國商人馬克到中國貿易。請問：馬克只能到右圖中的何處貿易？(A)甲 (B)乙 (C)丙 (D)丁。

26. 今年(2024)日本發行新版日圓紙鈔，10000元紙鈔正面的人頭肖像更換為有

「日本資本主義之父」之稱的澀澤榮一，原有舊版10000元紙鈔正面的人物則

是日本思想啟蒙大師福澤諭吉，其對推動日本現代化發展貢獻卓著，福澤諭吉

曾言：「我國與其坐等鄰國的開明，共同振興亞洲，不如脫離其行列，而與西

洋文明國共進退。對待支那(中國)、朝鮮的方法，也不必因其為鄰國而特別予以同情，只要模仿西洋人對他們的態度方式對付即可……」藉此，日本展開以下侵略行動，請問：依時間順序排列何者正確？甲、殖民台灣；乙、併吞琉球；丙、擊敗俄國；丁、併吞朝鮮 (A)甲乙丙丁 (B)乙甲丙丁 (C)甲乙丁丙 (D)乙丙甲丁。

27. 清末，通商口岸出現不少西式報刊雜誌，報導時事新聞，也帶進新思想。美國傳教士林樂知創辦的報刊，便介紹了西方各國的地理、歷史、政治等，成為當時中國接觸西方思想的重要管道。下列何者是林樂知創辦的報刊？(A)《自由中國》 (B)《申報》 (C)《萬國公報》 (D)《上海公報》。

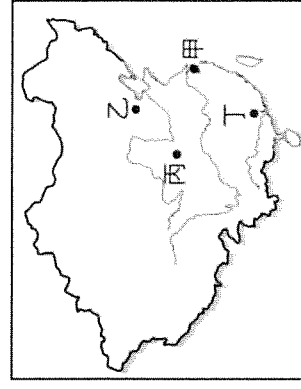
28. 家正暑假時到國外自助旅行，在IG社群網站上傳許多自拍照，照片中的背景有中國式的廟宇建築，也曾為英國統治時期的總督府建築，由這些照片可以判斷家正最有可能前往的是下列何地？(A)日本 (B)越南 (C)香港 (D)澳門。

29. 清代中期以後，清帝國在對外戰爭中屢嘗敗績，也因為戰爭的失利，造成不同的影響。請問：八國聯軍的進攻對清帝國造成何種影響？(A)中國首都被攻破，允許外國在北京設立租界 (B)各國在中國劃分勢力範圍，使中國面臨瓜分危機 (C)喪失關稅自主權，外國商品在全國傾銷 (D)付出鉅額賠款，並允許外國軍隊駐守北京使館區，使國防洞開。

30. 光緒20年，清朝與日本爆發甲午戰爭。請問：下列關於甲午戰爭的敘述，何者錯誤？(A)戰爭導火線是朝鮮問題 (B)戰爭期間，兩國海戰主要海域在台灣海峽 (C)戰後，清廷承認朝鮮獨立 (D)戰後兩國簽訂馬關條約，臺灣曾因此出現短暫的臺灣民主國政權。

31. 滿清政權是由來自中國東北的草原民族滿洲人所建立，歷代皇帝的姓氏是愛新覺羅。請問：20世紀初，哪兩個國家曾為搶奪中國東北而爆發戰爭？(A)美國和英國 (B)日本和英國 (C)日本和俄國 (D)德國和俄國。

32. 哪一事件的發生使清末中國支持立憲運動的知識份子轉而支持推動革命，決定徹底翻覆滿清政權？(A)皇



族內閣名單頒布 (B) 日俄戰爭爆發 (C) 慈禧太后發動戊戌政變 (D) 中國面臨被瓜分危機。

33. 宋嘉樹生活在清末，藉由在基督教會受洗學習英文，憑藉優秀的外語能力最後成為成功的商人。他也是宋美齡三姊妹的父親，和他親近的朋友都稱呼他為查理宋。他向友人介紹他的三個女兒時說：「她們可不是一般的女孩子，她們是新中國的新女性。」請問：查理宋教養女兒的方式，下列何者較不可能發生？
- (A) 送出國留學，訓練她們能說流利英語 (B) 從小學習小提琴、鋼琴等西洋樂器 (C) 讓她們接受基督教洗禮而成為基督徒 (D) 重視傳宗接代，要求她們遵守三從四德的規範。(註：宋美齡曾為中華民國第一夫人，排行老三，嫁與蔣中正；二姐宋慶齡，嫁與國父孫中山)
34. 老師在歷史課堂上，請同學們針對「晚清的城市風貌」此一主題進行討論，下列哪個同學的發表內容明顯有錯誤？(A) 新式交通工具輸入：20世紀初，上海已經出現汽車 (B) 文言文報刊、雜誌成為城市居民獲取新知的管道 (C) 市區已有自來水系統 (D) 出現了許多新型態的娛樂，例如：電影、西方歌劇。

35. 右圖是許永鋒參選新竹市市長時，發表的施政理念與目標，下列何者『最不可能』是「……」空缺處的內容？

- (A) 海岸線的清潔維護 (B) 在地化的長期照顧政策  
(C) 國軍的招募改採全面募兵制 (D) 國中小外籍教師參與國際化教學。

36. 政府舉行「地方制度與公職人員選舉罷免法」公聽會，會中討論焦點為地方議會正、副議長選舉及罷免是否該改為記名投票。有學者認為《憲法》規定的選舉原則，保障的一般公民投票不受干擾；而為了杜絕賄選，主張地方議會正、副議長選舉採記名投票方式，也能表現出對選民負責的態度。根據內容判斷，上述《憲法》規定的選舉原則應是指下列何者？(A) 普通原則 (B) 平等原則 (C) 直接原則 (D) 秘密原則。

37. 冠昇在回顧他擔任民選公職人員生涯時，將部分要點註記如

- 圖(甲)。根據我國現行法律規範及圖中內容判斷，下列說明何者正確？(A) 擔任第一任公職時須至市民代表會接受質詢  
(B) 擔任第二任公職時的主要職權為執行地方政府的各項政策  
(C) 第三任公職期間依《公民投票法》投票使其負起政治責任  
(D) 三任公職任職地點的地方政府層級皆為相同。

38. 表(甲)是我國四種民選的公職人員，若依照其參選年齡的限制「由高至低」排列，正確順序應為下列何者？

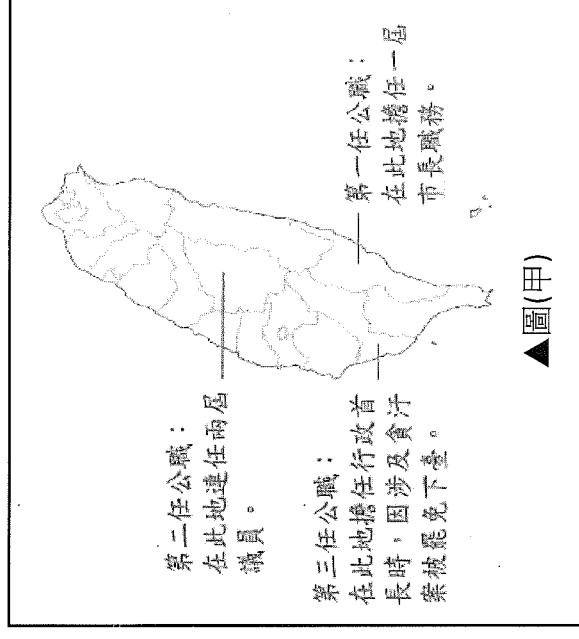
- (A) 乙丙甲丁 (B) 乙丙丁甲 (C) 丙乙甲丁 (D) 丙乙丁甲。

39. 2022年底地方公職人員選舉熱鬧登場，各政黨推選優秀人才參選。圖(乙)為某黨的初選公告，根據圖中內容判斷，其招募人才最可能是參選下列何項公職？(A) 高雄市長 (B) 桃園市復興區長 (C) 彰化縣鹿港鎮長 (D) 台中市和平區區民代表。

- 黨內初選，招募人才  
歡迎符合資格者，向黨內報名
1. 年滿 26 歲
  2. 限具有原住民身分者
  3. 有意擔任行政機關公職人員

▲圖(乙)

這次我出來參選市長，如果當選一定會推動……，落實我的政見，請大家支持我。



▼表(甲)

代號	公職人員
甲	花蓮縣議員
乙	台中市市長
丙	總統、副總統
丁	蘇澳鎮鎮長

40. 第一屆市會及街庄協議會員選舉，指的是日治時期臺灣總督府在1935年11月22日舉行的第一次臺灣殖民地選舉，為日治時期所舉辦的兩次直接民選的選舉之一，雖然這次選舉號稱是臺灣第一次民主選舉，可是

仍有如下限制：「議會員(民意代表)的總名額中僅一半開放選舉，另一半仍是官方派任。除了規定選舉人必須年滿二十五歲和住滿六個月的規定以外，並限制只有男性和年繳稅金五圓以上的人才能投票。」上述關於性別和財產的投票資格，違反現今我國投票制度的哪項原則？(A)平等(B)直接(C)普通(D)無記名。

41. 圖(丙)為我國統籌分配款的分配比例狀況，下列敘述何者正確？(A)甲的下級單位為丙(B)甲有山地原住民區的編制(C)甲行政首長候選人的年齡資格高於乙(D)乙行政首長候選人的年齡資格與丙相同。

42. 佳璇在當選後對民眾的談話內容：「我已投身地方公職長達 8 年，前兩次公職皆擔任監督的角色，這次轉戰其他跑道，謝謝民眾讓我成為執行力最棒的大家長！」佳璇的公職經歷最可能為下列何者？(A)議員、立委、市長(B)區民代表、議員、縣長(C)市民代表、議員、縣長(D)鄉民代表、議員、市長。

43. 2023 年屏東縣政府編列預算，添購警用巡邏車、偵防車、巡邏機車等警用車輛。縣長表示因警察勤務越來越繁重，加上本縣偏遠地區交通不便，添購合適車輛，藉此提升打擊犯罪效率、山區事故處理及救難勤務效能，保障縣民的生命財產。上述屏東縣政府添購警用車輛的舉措，依據我國相關法令判斷，下列敘述何者正確？(A)藉採購警用車輛，促進地方經濟發展(B)藉添購警用車輛，強化地方安全維護(C)由縣政府編列預算，縣議會負責執行(D)縣政府有監督縣議會施政狀況之職權。

44. 新聞報導：「台東縣國際熱氣球嘉年華是當地著名的觀光活動，每年吸引許多觀光人潮，但 2023 年的嘉年華活動，可能因為活動經費預算未通過而無法舉辦。對此，台東縣長拜會當地立法機關，請求該機關加開臨時會審議預算，希望預算案能夠通過，使活動得以舉辦。」上述報導內容，若依據我國法令判斷，台東縣政府與當地立法機關間的互動最符合下列哪一項概念？(A)分權制衡(B)垂直分權(C)主權在民(D)均權制度。

45. 威懺是一名政治新聞記者，圖(丁)為他於某次地方公職人員選舉在不同縣市的採訪記錄：

10 月 24 日----甲市

這裡的民眾踴躍參與 1 號市長候選人的政見發表會，發表會現場還有當地同黨的山地原住民區長及區民代表候選人站台，呼籲選民一同支持 1 號市長候選人！

10 月 29 日----乙市

我觀察某位女性候選人的政見，強調當選市民代表後將積極審議制定地方法規，並且為市民發聲，反映民眾的意見。

11 月 3 日----丙市

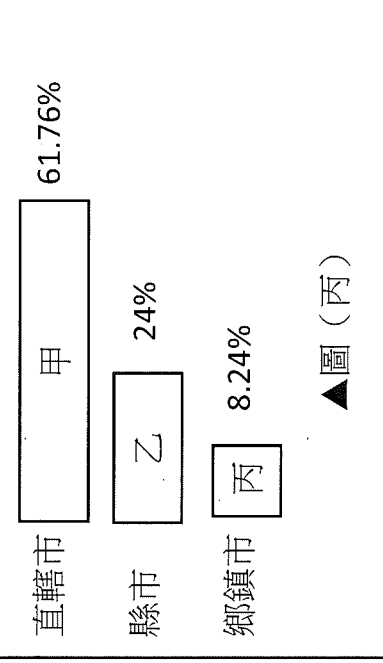
中午吃飯時，與鄰桌的市民聊天，他們提到對當地政府的看法，雖然他們的市與縣同級，獲得的中央補助比直轄市少，但地方政府仍積極推動市政，獲得多數市民肯定。

▲圖(丁)

(A)新北市、基隆市、台東市(B)桃園市、彰化市、屏東市(C)苗栗市、台南市、新竹市  
(D)高雄市、花蓮市、嘉義市。

46. 筠臻在寫課本的實作與練習如表(乙)：請問他的填入的類別為『3 市(與鄉、鎮同級者)』有幾個？

(A) 1 (B) 2 (C) 3 (D) 4。



▼表(乙)

我國有很多行政區都稱為「市」，請將下列城市填入正確的類別

1 直轄市 2 市(與縣同級者) 3 市(與鄉、鎮同級者)

桃園市 彰化市 台東市 新北市  
新竹市 馬公市 南投市 嘉義市

47. 各級地方政府作為民眾尋求的第一線政府，每天都影響民眾日常生活的品質。請問下列這些人辦理的事項中，哪一位『跑錯』樓層？(A)宗侑：已達服兵役年齡，但目前仍在就學，需要去3樓申請在學緩徵 (B)瑄心：我的小孩出生快滿2個月了，要趕快去5樓幫他報戶口，順便去2樓申請育兒津貼 (C)湘穎：我快滿14歲，可以去4樓申辦身分證 (D)襄程：最近剛買新房子，要去6樓辦理房屋登記。

樓層簡介	
7樓	稅捐稽徵處
6樓	地政事務所
5樓	衛生所
4樓	戶政事務所
3樓	役政災防課
2樓	社會人文課
1樓	警察局

48. 我國於2022年底舉辦地方公職人員選

舉，請問參考表(丙)，判斷高雄市

茂林區的選民可以拿到幾張選票？

(A) 5 (B) 4 (C) 3 (D) 2。

49. 圖(戊)為丁二報告我國的某一事件，根據

圖中資料判斷，下列敘述何者正確？

(A)投票者須年滿20歲

(B)選出民意代表來監督政府

(C)戶籍設籍在投票區達6個月以上

(D)公投為選舉、罷免權的落實。

50. 請問投票三寶「投票通知單、印章、國民身分證」中的哪一個『未攜帶』則無法進行投票的動作？(A)投票通知單(B)印章(C)國民身分證。

▼表(丙)公職人員選舉相關規定

行政官員	公職人員	任期	連任次數
	總統、副總統	四年	一次
	直轄市長、		
	縣(市)長		
	鄉(鎮、市)長		
	直轄市山地原住民區長		
村(里)長			
民意代表	立法委員	四年	不限制
	直轄市議員、		
	縣(市)議員		
	鄉(鎮、市)民代表		
	直轄市山地原住民區民代表		

以核養綠公投案

- 日本在311福島核災後曾經歷2年零核歲月，決定重啟。
- 非核家園代價是高電價的衝擊，貿易赤字大增。
- 火力發電，二氧化碳排放量居高不下。

▲圖(戊)

~~ 試題結束 ~~

請同學再次檢查答案卡上的基本資料是否填寫正確與完整