

高雄市中正高中中國中部 113 學年度第 1 學期國一社會科第三次月考試題

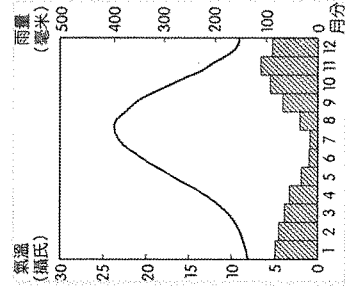
※每題 2 分，共 50 題

科目代碼:05 (請用 2B 鉛筆，將答案劃於答案卡上)

班級： 座號： 姓名：

一、地理科(1-17 題)

1. 圖(一)是世界某城市氣候圖，請問：有關該地區氣候特性的敘述中，何者最為正確？(A)年溫差約為 17 °C (B)夏季降雨量較多 (C)此地位於南半球 (D)年雨量超過 2000mm



圖(一)

2. 下列有關『天氣』與『氣候』的應用何者正確？

(A)我居住的城市夏乾冬雨，是相當適宜居住的天氣。

(B)美國阿拉斯加屬於極地天氣，全年寒冷乾燥。

(C)氣象局發布氣候預報：明天起鋒面報到，全台恐有大雷雨。

(D)週五再迎第二波冷空氣，北臺灣偏濕冷，整日天氣變化不大。

3. 甜甜在網路上看到一則漫畫，如圖(二)，針對圖中的提問，最合理的解釋為，山上 ，使得水的沸點低於 100 度，因此不容易煮熟食物，鍋蓋上壓石頭可以使沸點提高；請問 應填入(A)氣溫高 (B)氣壓高 (C)氣壓低 (D)降水多



圖(二)

4. 根據中央氣象署資料指出，今(12月16日)受 季風影響，桃園至雲林沿海空曠地區及恆春半島、蘭嶼、綠島、澎湖易有較強陣風，請問敘述中所提到的 季風，其風向應為下列何者？(A)↙ (B)↗ (C)↘ (D)↖。

5. 小正在參加旅遊活動的遊記中提到：「在台北快被烤焦了，在這裡氣溫仍舊 10 幾度，建議搭配厚外套以洋蔥式穿搭，來這避暑呼吸新鮮空氣非常療癒。」請問，小正參加的旅遊活動最可能是(A)屏東恆春搶孤 (B)嘉義阿里山賞日出 (C)澎湖花火節 (D)宜蘭礁溪冷泉 spa。

6. 下圖是某首台語歌謠的歌詞與解說，請問歌詞中的降雨類型為下列何者？

熱天的下晡， 高雄一陣西北雨， 將阮沃甲澹糊糊， 雨啊雨， 你哪會落遮粗 害阮煞密覘無路。	詞語解說： 1. 熱天：夏天 2. 下晡：下午 3. 雄雄：突然 4. 沃：淋 5. 澹糊糊：溼答答	6. 哪會：怎麼會 7. 落遮粗：下這麼大 8. 密覘無路：無處躲
--	---	---

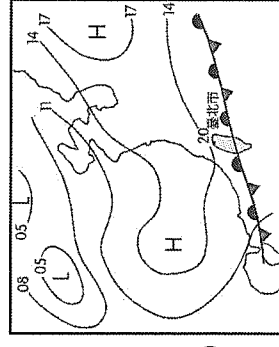
(A)

(C)

(D)



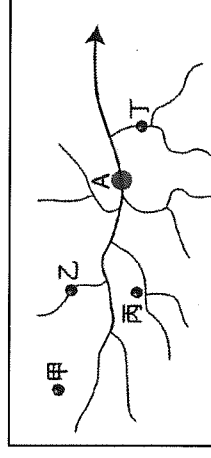
7. 小憲一家人正圍聚家中過節，電視畫面正好播放氣象報導，畫面如圖(三)地面天氣圖，請問小憲一家人此時最可能進行哪一項活動？(A)除夕(2月)吃年夜飯 (B)端午節(6月)吃粽子 (C)中秋節(9月)吃月餅 (D)冬至(12月)吃湯圓。



圖(三)

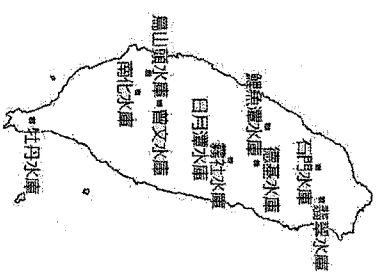
8. 承上題，圖(三)中等值線的單位是(A)°C (B)mm (C)m/s (D)hpa。
 9. 經濟部推出家電汰舊換新的節能補助，包括冷氣、冰箱都適用，○○市府考量當地多雨潮濕，造就除濕機普及率高，是全台唯一將「除濕機」納入補助範圍的縣市，若以臺灣雨量分布特徵判斷，請問○○應填入？(A)基隆 (B)澎湖 (C)高雄 (D)台中。

10. 圖(四)為某河川的水系圖，如果要在圖中A處興建水庫，甲、乙、丙、丁四處，何處坍塌對水庫水質影響最小？(A)甲 (B)乙 (C)丙 (D)丁



圖(四)

11. 臺灣受到地形因素影響，地面逕流失速度相當快，因此需興建水庫。圖(五)中哪一水庫較少出現冬季缺水的現象？(A)曾文水庫 (B)翡翠水庫 (C)南化水庫 (D)牡丹水庫



圖(五)

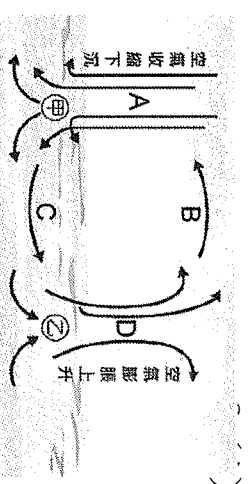
12. 暑假期間，小茹與家人一起到臺灣東部的溪邊玩水。她所在的下游地區天氣晴朗，但她抬頭望見上游山區開始變得烏雲密布，身旁河川的水位也漸漸上升，她馬上警覺到可能即將山洪暴發！文中描述的情形，除夏季的暴雨因素外，還與該地河川的何種特色最有關係？(A)含沙量大 (B)坡陡流急 (C)汙染嚴重 (D)侵蝕旺盛

13. ○○○是台灣最長的河川，因為含沙量大，河道疏濬是國內重要砂石來源，沿線土石加工業、疏濬工程及砂石車往來頻繁...請問：○○○應填入？(A)淡水河 (B)高屏溪 (C)濁水溪 (D)蘭陽溪。

14. 臺灣高鐵的橋墩在雲林縣出現裂縫，懷疑是地層下陷造成，媒體戲稱「高鐵長短腳」，引發高鐵行車是否安全的問題。造成上述現象與臺灣哪項環境問題最相關？(A)因農、漁業需求而起抽地下水 (B)冬季用水補注量超過抽取量 (C)二氧化碳排放量 (D)河川汙染嚴重。

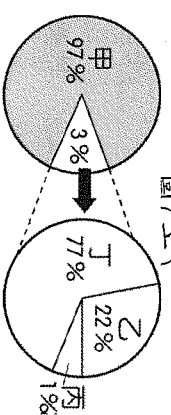
15. 「麒麟暴，草木焦。」麒麟暴意指焚風，因焚風又乾又熱因此常會使草木枯焦，臺灣哪一個縣境內，夏季位於盛行風向的背風側，其發生焚風的頻率為全臺屏東縣 (B)臺東縣 (C)新竹縣 (D)澎湖縣。

16. 圖(六)為氣壓與風向示意圖；A-D為氣流移動方向，下列何者敘述正確？(A)A、D處無風 (B)甲地氣溫較乙地高 (C)甲致雨；乙處天氣晴朗穩定 (D)甲處為高氣壓；乙處為低氣壓。



圖(六)

17. 「近代受到工業大量排放溫室氣體的影響，加速了全球暖化，使得冰原與冰川大規模融化，衝擊全球環境。」根據上文敘述判斷，圖(七)的全球水量分布比例示意圖中，哪一種水資源比例將會快速下降？(A)甲 (B)乙 (C)丙 (D)丁。



圖(七)

二、歷史科(18-34題)

18. 右表是清領後期某段時期臺灣進出口值統計表。請問：表中哪一年開始，反映出臺灣對外貿易由入超轉變為出超？

期間	出口		進口	
	年平均值	年平均值	年平均值	年平均值
1868~1869	93.0	124.5		
1870~1874	172.0	174.4		
1875~1879	282.3	272.0		
1880~1884	427.3	318.8		
1885~1889	435.7	361.8		
1890~1894	570.7	431.0		

- (A)1868~1869 (B)1870~1874 (C)1875~1879 (D)1890~1894。

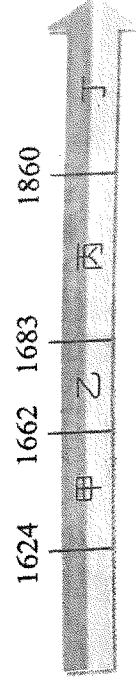
19. 充滿歷史記憶，擁有許多百年老建築的大稻埕，近年來成為情侶們約會的新熱點，每年到了七夕情人節，大稻埕碼頭更會施放煙火，吸引許多人潮聚集。追溯歷史，大稻埕興起的主要原因為何？(甲)英法聯軍後，淡水港的開放 (乙)茶葉加工集散地 (丙)蔗糖的集散地 (丁)台灣建省後因台北成為省會而繁華 (A)甲乙 (B)甲丙 (C)乙丙 (D)丙丁。

20. 清代統治臺灣初期的土地開墾，往往伴隨著水利設施的建設，請將下列當時所修築的水利設施，由南到北排列，依序為何？甲、曹公圳；乙、瑠公圳；丙、八堡圳；丁、貓霧抹圳 (A)甲乙丙丁 (B)甲丙丁乙 (C)乙丁丙甲 (D)丙乙丁甲。

21. 航運是臺灣對外聯絡的重要交通方式，清初臺灣與中國大陸之間唯一「合法」的口岸為下列何處？(A)鹿耳門 (B)鹿港 (C)八里坌 (D)艋舺。

22. 同學們在歷史課堂中比較馬偕與馬雅各兩位外國傳教士來到台灣傳教的事蹟。齊緯：「馬偕在台灣北部活動，創立台灣第一間西醫館。」；薇娟：「馬偕與馬雅各都是基督教的牧師，傳教以外對台灣的醫療也有很大的貢獻。」；達群：「他們可以進入台灣傳教是因為英法聯軍迫使清廷開放四個通商口岸。」晶晶：「馬雅各在府城成立牛津學堂和女學堂，對教育不遺餘力。」請問：哪兩位同學的說法是正確的？(A)齊緯、薇娟 (B)薇娟、達群 (C)達群、晶晶 (D)薇娟、晶晶。

23. 承上題，請問：馬偕和馬雅各應該是在下圖中哪一段時間來到台灣傳教？？(A)甲 (B)乙 (C)丙 (D)丁。



24. 考據台南七股地名的由來，可以了解台灣在清帝國時期土地開墾事業的發展具有何種特色？(A)合資

(B)官民合作 (C)獨資 (D)郊商主導。

25. 一位十八世紀末住在台灣鹿港的商人，主要貿易路線是將台灣的蔗糖賣到泉州，並將泉州的布買回台灣。請問：當時這位商人不可能參加的商業組織為何？(A)糖郊 (B)布郊 (C)泉郊 (D)洋行。

26. 大甲西社事件發生在雍正9年，官府為了興建衙門，徵派番社男子上山採取木料，因勞役嚴苛，引起社番不滿。隔年，大甲西社聯合其他部落襲擊官府。從上文判斷，關於此役的敘述，何者正確？(A)屬於清朝的分類械鬥 (B)熟番的民變事件 (C)起因為祖籍隔閡 (D)起因為漢人騙取土地。

27. 新莊萬應堂所祭拜的萬應公，也就是有應公，其實就是無主的孤魂，一般人認為死去的靈魂若無神主，無後代祭祀，不但會變成孤魂野鬼無法超生，而且會作祟危害世間，即臺灣民間的「有應公信仰」。此一信仰反映出當時哪種社會現象？(A)移民生活安定 (B)政府欺壓移民 (C)擔心官員懲罰 (D)分類械鬥頻繁。

28. 課本上有一古地圖（如右圖），地圖上有兩種不一樣的界線，老師跟小珍

解釋：「兩種線代表的意義一樣，但實線是後來界線改變後新畫的。」請

問：界線的改變，代表下列何種情況發生？(A)番界逐漸向內山地區移動

(B)茶葉種植從平地向內山移動 (C)平埔族的狩獵場逐漸擴大 (D)高山原住民生存空間變大。

29. 大雄與小夫是清帝國時期渡海來臺的漢人，雖然同姓卻未有血緣關係，他

們為凝聚彼此向心力，共同奉祀中國大陸原鄉的同姓祖先，請問：他們所共同奉祀的祖先被稱為何者？

(A)唐山祖 (B)開臺祖 (C)開漳聖王 (D)有應公。

30. 承上題，右圖是清帝國時期中國大陸的地圖，請問：大雄與小夫的祖先與

當時大多數從大陸移民來台灣的漢人一樣，最有可能來自於哪一地區？

(A)甲 (B)乙 (C)丙 (D)丁。

31. 以下關於台灣俗諺：「一府二鹿三艋舺」的說明，何者正確？(A)一府指的是位於台南地區的承天府 (B)二鹿指的是位於彰化地區的鹿港 (C)這句諺

語可以說明台灣開發的方向是由北而南 (D)艋舺位於今日新北市八里區，因八里坌開港而繁榮。

32. 右圖為開港通商後有「臺灣三寶」之稱的三項商品，此三項商品的出口

值占當時臺灣全部出口總值之94%，請問圖中的丙商品主要是從哪一

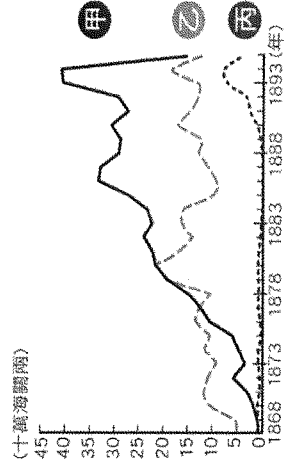
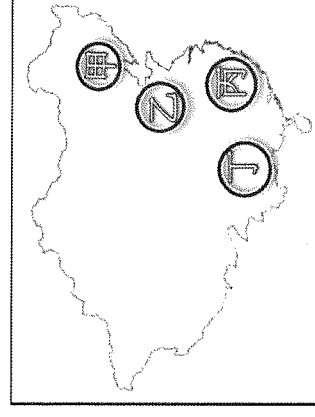
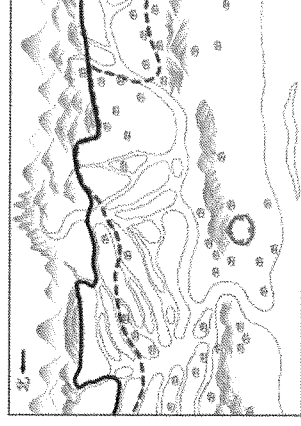
個港口出口？(A)雞籠 (B)淡水 (C)安平 (D)打狗。

33. 臺灣俗諺：「一個某，恰贏三個天公祖。」這句話反映出清帝國時期臺

灣男女人口比例嚴重失衡的現象，這種現象主要是當時什麼原因造成

的？(A)福建、廣東一帶居民以男性居多 (B)臺灣傳染病多，女性常因體弱而病死 (C)受到當時政府渡

臺禁令的限制，男子不許攜眷渡臺 (D)黑水溝太危險，許多女子不敢渡台。



34. 在原漢的衝突與對立中，原住民族生活空間遭到壓迫，有些族群選擇與漢人合作；有些族群則選擇遷居至他處，右圖是清代平埔族群的遷徙圖，下列哪一個遷徙路徑符合圖中所示？(A)中部平埔族入墾蘭陽平原 (B)西拉雅族移墾埔里盆地 (C)中部平埔族遷至花蓮 (D)噶瑪蘭族遷至南投。

三、公民科(35-50題)

35. 心怡在原住民族委員會的網站中發現有歲時祭儀專區，裡面是原住民族歲時祭儀放假日期的公告。原住民族身分者在本人、父母或配偶的歲時祭儀放假日期中，可擇一日放假。該政策主要考量最可能是下列何者？(A)落實部落自治，提升地方行政效率 (B)推動觀光發展，增加青年工作機會 (C)尊重多元文化，促進部落文化傳承 (D)凝聚居民認同，保護部落傳統領域
36. 過去法律禁止任何人擅自狩獵與砍伐，政府與原住民族在傳統習慣、傳統領域等面向產生衝突，其中林務局與原住民族常因山林管理有摩擦。近年來，林務局推動「山林共管」政策，例如：與族人展開和解，並成立林業合作社發展林下經濟，也委由族人組成巡山隊等工作。林務局過去與原住民族時有摩擦的主因，應為下列何者？(A)因過去的法律沒有考量原住民族的傳統文化 (B)因林務局對傳統領域內的山林造成環境破壞 (C)因原住民族希望將傳統領域的土地交給政府 (D)因林務局推動山林共管造成部落經濟的停滯
37. 德華的媽媽在亨利爵士的城堡擔任清潔員。當媽媽在工作時，爵士會和德華玩搔癢遊戲。遊戲時，時常碰觸德華的私密部位，雖然德華要求住手，但他並沒有停下來，反而警告他，絕對不可以跟任何人說，否則將解僱媽媽。面對爵士的警告，德華思考該不該向別人說出這件事。底線處應是下列何項兒童權利？(A)受教育權與學習權 (B)身體自主權 (C)人格發展權 (D)遊戲權
38. 學生自治是讓學生參與學校公共事務，例如：召開班會等，學生自治的先決條件為下列何者？(A)要有自治經費 (B)學生功課要很好 (C)必須符合學校和社會規範 (D)經過老師和校長的同意
39. 因應社會變遷，許多年輕的原住民族離開部落到都會區。下列何人的作法顯示其對自身文化有認同感？(A)小吉：為讓孩子適應環境，家裡禁止說族語 (B)小莉：在外為避免衝突，我會隱藏原住民族身分 (C)小舞：主動參與祭典節慶，以傳承部落精神 (D)小安：狩獵活動太過殘忍，部落應廢除此類傳統
40. 星星班正在開班會，下列誰的表現最符合現代公民應具備的德性？(A)丸尾要求同學只能選他擔任班長 (B)小玉發言前會舉手徵求主席的同意 (C)小丸子關注班遊一案，其他議題毫不關心 (D)永澤覺得成績不好的同學見識不足，建議少讓他們發言，節省寶貴的會議時間
41. 新聞快訊：某國中學生小強與同學阿志發生口角，竟在教室對阿志踹桌、搗巴掌，此事引發社會關注。有關這起國中校園安全事件的處理方式，下列何者處理的方式較適當？(A)為使學生能在校園安全就學，應禁止施暴學生進入校園 (B)為維護學生權利，可透過學生自治組織決議施暴者去留 (C)霸凌發生時，目睹的學生應該立即向學校老師尋求協助(D)施暴者對他人造成傷害，應剝奪其學習與受教育的權利

題組一

莫拉克風災造成當時高雄縣甲仙鄉小林村覆滅，但倖存的「小林人」並未沉溺於傷痛，反而努力復振流逝的文化。部分倖存的族人移居杉林區日光小林社區，族人們在復興產業及文化中找回重新生存的價值，也在溯源中發現自己原來是大武壠族，而非泛稱的平埔族，對自己的根源有更深體認。日光小林社區自獲得高雄市文化局挹注經費後，開辦「大武壠族歌舞文化節」，作為重現文化溯源成果的舞臺，許多離鄉遊子也於此時重返故鄉相聚，傳承文化香火。也有一些部落青年返鄉，發表記載小林獨特工藝的專書用手說的故事，或者像大武壠族後裔徐銘駿一樣，從傳統植物的田野調查做起，探索先輩的生活智慧，完成種回小林村的記憶一書，並在「大武壠族歌舞文化節」中發表。(資料來源：改寫自聯合報，2019/04/13)

42. 小林村舊址因莫拉克風災重度受創，被畫為禁止開發的區域，以幫助生態復原，而倖存的族人則移居重生，這顯示原住民族部落與大自然的關係應為下列何者？(A)強調物競天擇 (B)加強土地開發 (C)尊重永續發展 (D)相信人定勝天

