

高雄市中正高中國中部 113 學年度第 1 學期國一社會科第一次月考試題

【試卷共 5 頁】

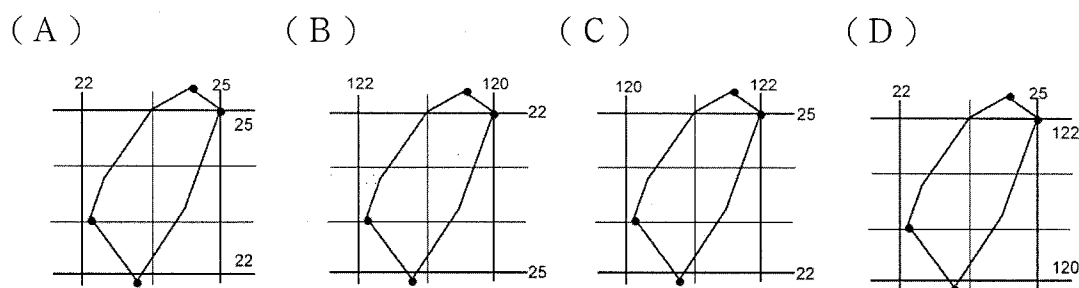
班級： 座號： 姓名：

※每題 2 分，共 50 題

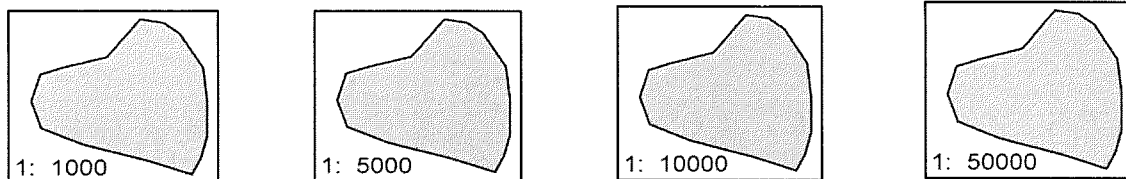
科目代碼:05 (請用 2B 鉛筆，將答案劃於答案卡上)

一、地理科(1-17 題)

- 位置的表示方法有「相對位置」與「絕對位置」兩種，請問下列何者為「相對位置」的描述？
 (A) 高雄市位於(120°E, 22°N) (B) 中正高中位於中正技擊館往東約 200 公尺處
 (C) 中正高中位於苓雅區中正一路 8 號 (D) 小明坐在 109 班教室第一排第二位
- 將地球分為東、西半球的假想線為下列何者？
 (A) 通過英國的本初經線 (B) 通過臺灣的北回歸線 (C) 通過印尼的赤道 (D) 通過挪威的北極圈。
- 下列何者為正確的臺灣經緯度地圖？

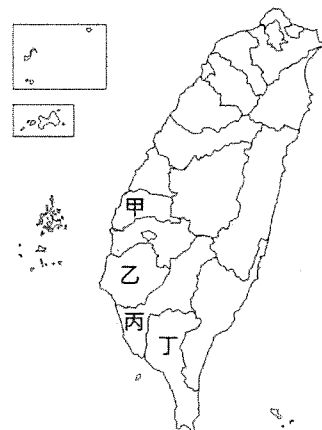


- 『越南籍漁船出現於屏東縣貓鼻頭西南的經濟海域內，海巡署艦隊分署獲報，出動兩艘巡邏艇趕往驅離』，請問：引文中的經濟海域範圍是指海岸基線向外推多少距離的海域？(A) 12 浬 (B) 200 浬 (C) 12 公尺 (D) 200 公里。
- 中正國中想舉辦一場環島路跑活動，請問下列何者環島的總路程最長？
 (A) (B) (C) (D)



- 『航班飛經他國飛航情報區時，各地塔臺便會提供飛航情報區的飛航指引，因此會向過境航班收取「過境航路服務費」，東北亞往返東南亞的航線必經臺灣飛航情報區，2019 年更以 24 億元創下歷史新高，臺灣領空也變成政府的「金雞母」。』上述引文說明臺灣哪一個位置特性？(A) 生物遷徙的中繼站 (B) 重要的交通樞紐 (C) 多元文化交會 (D) 歐亞大陸的中心。
- 下列有關全球海陸分布的敘述，何者正確？(A) 北極海被非洲、亞洲、南美洲所圍繞 (B) 最大的海洋是大西洋，最大的洲是美洲 (C) 海陸分布不均，海洋面積大於陸地 (D) 北半球的陸地面積比海洋面積大，所以人口主要居住在北半球。
- 臺灣的行政範圍除了臺灣本島外，還包括周圍許多島嶼。下列何者『不是』臺灣所管轄的島嶼？(A) 琉球群島(B) 綠島(C) 東沙島(D) 龜山島。
- 圖(一)為臺灣行政區圖，請問本校中正高中位於圖中何處？(A) 甲 (B) 乙 (C) 丙 (D) 丁。
- 有甲-丁四架飛機，分別由下表的位置出發向東飛，繞地球一周，假設航行高度皆相同，何者航行距離最長？(A) 甲(B) 乙(C) 丙(D) 丁。

	甲	乙	丙	丁
出發點	(1°E, 1°N)	(1°E, 10°N)	(1°E, 30°N)	(1°E, 60°N)

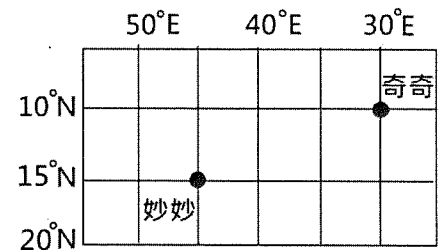


圖(一)

11. 比例尺是指圖上距離與實際距離的比例。請問：小強同學測量地圖的比例尺為 1:10000，當他在圖上測量出 10 公分時，代表實際距離為何？(A)1 公尺 (B)10 公尺 (C)1 公里 (D)100 公里。

■ 住在妙妙島上的小花想在 **7 月**搭船前往奇奇島尋寶，圖(二)為兩島的位置圖，請依圖回答問題：

12. 船隻應往哪個方向前進？(A)東北方(B)西北方(C)東南方(D)西南方。
 13. 若小花出發時日期為 7 月 17 日早上 6:00，航行時間為 2 日，則到達奇奇島最可能是下列哪個時間？(A)7 月 19 日早上 5:00 (B)7 月 19 日早上 6:00 (C)7 月 19 日早上 7:00 (D)7 月 19 日早上 8:00。



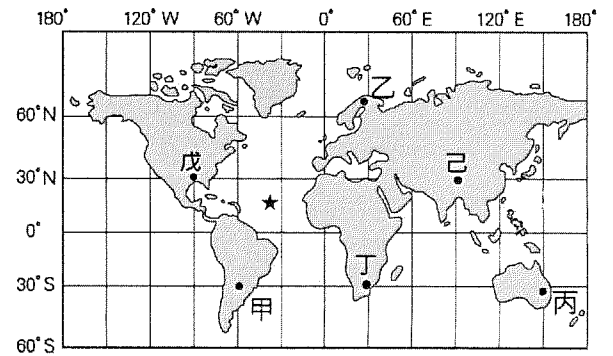
圖(二)

14. 小花在網路上查詢到小島旅行的打包清單，若**根據此清單**，小花此趟的行李中最可能出現的物品為下列何者？(A)羊毛衫 (B)圍巾(C)遮陽帽(D)防蚊液。

小島旅行建議打包清單	
熱帶	墨鏡、防蚊液、泳衣
溫帶夏季	遮陽帽、防曬乳
溫帶冬季	防水夾克、圍巾
寒帶	羊毛衫、毛線帽

■ 圖(三)為世界地圖，請依圖回答下列問題：

15. Thandeka 老師來自臺灣在非洲的友邦-史瓦帝尼，中正國中的學生想組團前往老師的家鄉拜訪，請問老師的家鄉最可能是圖中何處？(A)甲 (B)乙 (C)丙 (D)丁。
 16. 家住臺灣的小明前往圖中何處旅遊時，最需要調整日夜時差及適應季節相反的差異？(A)甲 (B)丙 (C)戊 (D)己。
 17. 圖中打上「★」的海域名稱是什麼？(A)太平洋 (B)印度洋 (C)大西洋 (D)北極海。



圖(三)

二、歷史科(18-34 題)

18. 台灣有學者主張台灣是南島語族的故鄉，依此見解，下列哪些地區或國家的原住民有機會可以來台灣尋根？(甲)印度 (乙)紐西蘭 (丙)太平洋諸島 (丁)澳洲？(A)乙丙(B)丙丁(C)甲丁(D)乙丁
 19. 對於臺灣的發展歷史來說，「這個世紀」充滿著不同於過去的意義。因為風起雲湧的外來勢力前後抵達，看中了臺灣地理位置上的優勢，在此建立政權，並將臺灣帶入世界舞臺，成為國際貿易重要的轉運站。請問：「這個世紀」所指為何？(A)十五世紀 (B)十六世紀 (C)十七世紀 (D)十八世紀。
 20. 將台灣原住民依據有無繳稅與服勞役分為熟番與生番，這樣的稱呼是出現在台灣何時？(A)荷蘭統治時期 (B)鄭氏統治時期 (C)清帝國統治時期 (D)日治時期。
 21. 「新石器革命」指舊石器時代轉變成新石器時代的變革，以下哪些為新石器時代不同於舊石器時代的主要特徵：甲-已知用火；乙-磨製石器；丙-使用陶器；丁-農業生活？
 (A)甲乙丙 (B)乙丙丁 (C)甲丙丁 (D)甲乙丁。
 22. 十六世紀後期，活動於中國東南沿海地區的海商，以□□為據點，此時的明朝政府感到威脅，因此逐漸加強□□的防務，使得海商活動中心逐漸轉移到臺灣，並開始出現漢人來臺開墾。請問：□□是指何處？
 (A)福建 (B)金門 (C)馬祖 (D)澎湖。
 23. 農業的出現，使人類食物的取得，由以往完全仰賴自然，發展成可以自主生產，其中「稻米」因具備種子較大、乾燥後能長期保存等優點，而被人類當成主食，請問：哪個文化遺址出土已經碳化的稻米？(A)長濱文化遺址 (B)大坌坑文化遺址 (C)圓山文化遺址 (D)南關里文化遺址。

24. 台灣某政權的統治者說道：「我喜歡跟英國商人貿易，我們已經達成貿易協定，讓他們在安平(台南)設立商館，希望以後可以從中買到更多軍用物資。」請問：上述應該是哪個政權？(A)西班牙政權時期 (B)荷蘭政權時期 (C)葡萄牙政權時期 (D)鄭氏政權時期。
25. 十七世紀時的荷蘭有「海上馬車夫」之稱，在荷蘭聯合東印度公司的經營之下，他們建立了橫跨東西方的巨大貿易網，首都阿姆斯特丹則成為當時歐洲最繁榮的地方，匯聚了來自世界各地的珍奇貨物。請判斷下列敘述何者正確？(A)當時荷蘭努力經營海上貿易，是大航海時代最早來東方建立據點的歐洲國家 (B)荷蘭聯合東印度公司的亞洲總部設在巴達維亞 (C)為求與中國通商，荷蘭聯合東印度公司成功占據澳門 (D)荷蘭聯合東印度公司從中國轉運香料到日本獲利許多。

26. 請問畫分人類歷史發展的「史前時代」與「歷史時代」，是依據哪一項重大技能的出現？(A)使用火 (B)石器的製作 (C)陶罐的製作 (D)文字的出現。
27. 關於鄭氏政權時期的經濟措施，下列敘述何者不正確？(A)土地拓墾事業以軍屯最為重要 (B)凡有駐兵之處即實施屯墾，生產稻米及糖以供外銷 (C)當時拓墾範圍以承天府為中心，向北、向南逐漸擴散 (D)將臺灣建設成與中國大陸、日本和東南亞的貿易轉運站。

28. 安哲整理段考時的歷史筆記，繪製了史前文化的表格(見右表)，卻被莽撞的姐姐打翻了奶茶，無法辨識出其為哪個史前文化遺址。根據筆記內容，可知此史前文化位於右圖中哪一處？(A)甲 (B)乙 (C)丙 (D)丁。

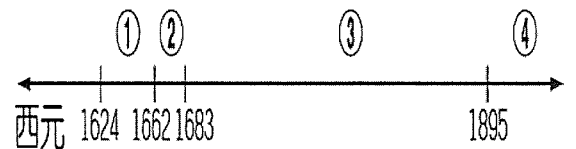
文化	
年代	距今 5300-2300 年
考古遺址	臺灣東部山麓
出土文物	磨製石器、陶器、玉器、石板棺
重要特徵	是環太平洋及東南亞地區最大的石板棺墓葬群遺址



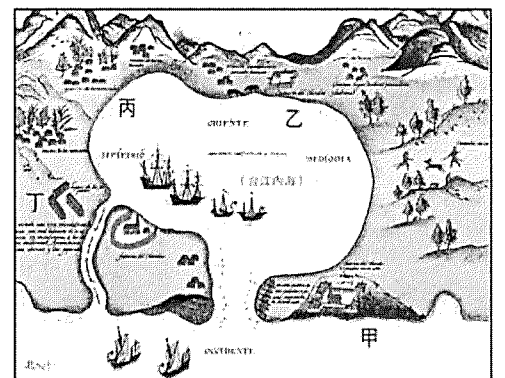
29. 雲林縣水林鄉水北村有一個園區稱為「開臺文化客廳」，當地居民透過整體營造方式，將整個社區規畫成觀光園區，當地號稱「開臺第一庄」，而雲林縣文化處還拍攝微電影來推廣當地。整個園區是紀念某位福建海商在荷蘭人占領臺灣之前，就曾招募漢人開墾雲林、嘉義一帶，並在當地落地生根留下許多文化資產，請問：這個園區紀念的海商應該是下列何者？(A)鄭經 (B)鄭成功 (C)顏思齊 (D)郭懷一。
30. 西班牙人占領臺灣北部的目的除為傳教外，亦想以臺灣作為發展對某國貿易的跳板，不料該國實施鎖國政策，導致西班牙外貿受挫。請問：西班牙人原先欲與哪一國家發展貿易關係？(A)越南 (B)日本 (C)緬甸 (D)英國。

31. 今年是西元 2024 年，干支紀年是甲辰年，請問上一次干支紀年也是甲辰年是在民國幾年？(A)民國 43 年 (B)民國 53 年 (C)民國 63 年 (D)民國 83 年。

32. 地名常能反映一地開發的歷史，今臺南下營及高雄左營、前鎮等地名的由來，便是右圖中哪一時段政權在臺灣統治的遺留？(A)① (B)② (C)③ (D)④。



33. 台南台江國家公園近年來發現，園內水域下有 8 艘荷蘭時期的沉船，學者呼籲政府能擬定挖掘計畫，讓台灣以文史與世界接軌。見右圖，曾經荷蘭統治台灣的行政中心-熱蘭遮城應該位於右圖中何處？(A)甲 (B)乙 (C)丙 (D)丁。



34. 考古學家根據挖掘出來的遺物及遺跡，來推測史前時代人類的的生活情形。右圖為甲、乙、丙三文化層，由古至今排列，下列何組合是正確？

- (A)甲：大盆坑、乙：圓山、丙：十三行
 (B)甲：十三行、乙：圓山、丙：大盆坑
 (C)甲：圓山、乙：十三行、丙：大盆坑
 (D)甲：圓山、乙：大盆坑、丙：十三行。

丙 文化層
 乙 文化層
 甲 文化層

三、公民科(35-50題)

35. 若在學校內發生性騷擾事件，可向校內的哪一個單位申請調查？(A)教務處(B)輔導處(C)學務處(D)總務處
36. 附圖是新聞報導中的標題，新聞事件中的受害者可尋求下列哪一項法律的保護？(A)《民法》 (B)《性騷擾防治法》(C)《性別平等工作法》 (D)《性別平等教育法》
37. 維護人性尊嚴的具體方式就是要落實人權的保障，一個重視人權的國家通常會以何種方式來保障民眾的權利，不受到政府或他人的非法侵害？(A)公開呼籲 (B)網路公告 (C)媒體傳達 (D)制定法律
38. 中華民國國籍的陳勇豪與加拿大籍秋美心結婚，並在加拿大生下女兒，取名叫「秋緣」。有關「秋緣」的國籍歸屬，下列何者敘述正確？
(A)小吉：因為秋緣出生地為加拿大，所以她無法取得我國國籍
(B)小伊：因為秋美心並非我國國民，所以她無法取得我國國籍
(C)小卡：因為陳勇豪具有我國國籍，所以秋緣依法可取得我國國籍
(D)大蛙：因為秋緣是混血兒，須經由歸化手續才能取得我國國籍
39. 電視劇《我們與惡的距離》熱映，引發民眾對於許多社會議題的熱烈討論，其中包括民眾對精神障礙者既定的刻板印象，導致排擠他們，使他們不能平等享有基本權利。在現實生活中，衡山基金會經常在許多場合為精神障礙者發聲，希望社會給予公平對待。該基金會的作為，是在實現現代公民應具備的何項德性？(A)和平尊重包容 (B)捍衛公平正義 (C)理性思考批判 (D)遵守法律規範
40. 「當你有了先入為主的觀念，你看人家的眼光便不同了，例如：你懷疑某人偷東西，於是他的一舉一動你看起來都像做了壞事，你對他的態度和行為也開始產生主觀、偏頗的成見，這對他而言是不公平的。」以上所要表達的主旨，最接近下列何者？
(A)被懷疑者應證明自己的清白 (B)對他人的看法屬於個人自由
(C)犯錯者的人權可用法律予以剝奪 (D)先入為主的觀念容易導致對人性尊嚴的侵犯
41. 王伯母參與里民大會討論時，常常遇見少數里民與他意見不同的情況，不過他總是說：「雖然其他人的意見與我不同，但應該要讓大家都有發言的機會，不能剝奪少數意見發聲的權利。」上述王伯母的作法，最能表現出哪一種公民素養？
(A)重視自身權利，善盡國民義務 (B)參與公共事務，積極監督政府
(C)尊重不同看法，維護基本人權 (D)熱心社會公益，經常回饋社會
42. 「少數服從多數」是現代人常常掛在嘴上的民主價值，為什麼我們不能夠以投票的方式，決定將社會中所有的資源，集中於人口較多的縣市？
(A)人口較多的縣市資源已經過多，不能再獲得分配
(B)參與和決定公共事務時，不應只以人數多寡為考量，還須以公平正義作為判斷標準
(C)資源分配應該全部由中央政府決定
(D)凡是我國公民，都有平等分配資源的權利
43. NBA 球員林書豪出生於美國加州，他的父母皆為中華民國的國民。下列關於林書豪的國籍敘述，何者正確？
(A)我國為屬人原則、美國為屬地原則，故林書豪擁有兩國國籍 (B)美國為屬地原則，故林書豪的父母也因此取得美國國籍 (C)我國為出生地規則，林書豪須回臺定居才有我國國籍 (D)我國為血統規則、美國為出生地規則，故林書豪需辦理歸化我國，才具有我國國籍。
44. 小茂是中華民國的國民，依據我國《國籍法》的規定，身為我國國民，他一定要具備下列哪一項條件？
(A)年滿 20 歲 (B)具我國國籍 (C)無逃漏稅的行為 (D)沒有犯罪紀錄
45. 電視上播出立法院開會的畫面，經常看到質詢者以兇惡的態度，批評受質詢的官員。有時則看到不同黨派之間的委員因意見不合而大吵大鬧，甚至發生劇烈的肢體衝突。這些亂象凸顯出下列何項公民德性的重要？
(A)參與公共事務 (B)捍衛公平正義 (C)和平尊重包容 (D)遵守法律規範。



46. 有一份文件在 1948 年通過，從而開啟了國際法上建立人權保障的體制，這份文獻為下列何者？
(A)《中華民國憲法》 (B)《世界人權宣言》 (C)《國籍法》 (D)《公民投票法》
47. 近年來常在社會新聞中看到，父母親因為不堪生活、經濟的壓力，而帶著子女全家自殺的不幸事件。下列敘述何者正確？
(A)每個生命都是獨立的個體，任何人都不該輕易傷害他人的生命
(B)子女為父母所生，所以父母對子女的生命當然有決定權
(C)孝順父母是子女的天職，所以子女應無條件的服從父母要求
(D)子女是獨立個體，對於父母的問題不應介入，由父母自己承擔即可。

近期台灣社會掀起「Me Too」運動，多名曾遭受性騷擾的受害者，出面公開自己的受害經歷，其中許多加害者是知名的公眾人物，引發各界譁然。此一運動不但促使立法院推動修法，也有不少國際媒體報導。台劇「入選之人—造浪者」，劇中性騷擾情節引發現實社會的觀眾共鳴，其中經典台詞：「我們不要就這樣算了，好不好？」多次被引用，成為這場運動的重要象徵。

48. 根據文中內容判斷，下列何者最可能是「Me Too」運動傳達的觀點？
(A)性騷擾是社會常態，不該大驚小怪 (B)透過觀念的改變，無法減少性騷擾
(C)保障個人身體自主，免受他人侵害 (D)性騷擾問題在公眾人物間更加嚴重
49. 文中提到的台詞「我們不要就這樣算了，好不好？」顯示若遭到性騷擾，應該以何種方式處理？
(A)忍一時風平浪靜 (B)勇於捍衛個人的身體自主權
(C)大事化小，小事化無 (D)以其人之道，還治其人之身
50. 上文指出該社會運動促使立法院推動修法，其中有關學生之間的性騷擾事件，最有可能藉由修改哪一法律嚴加防治？(A)《憲法》 (B)《性騷擾防治法》 (C)《性別平等教育法》 (D)《性別平等工作法》

~~ 試題結束 ~~

請同學再次檢查：

1. 答案卡上的基本資料是否填寫完整
2. 答案除了用 2B 鉛筆劃記於答案卡外，記得也要抄寫至試題卷上！
(答案卡批改完畢不發回)