

【試卷共 6 頁】

※每題 2 分，共 50 題

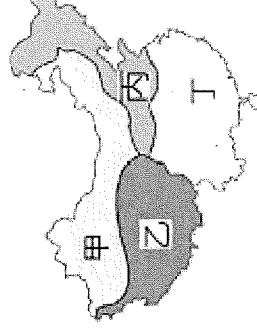
科目代碼:05 (請用 2B 鉛筆，將答案劃於答案卡上)

二年 班座號： 姓名：

一、地理科(1-17題)

■在明清年間，泰國曼谷因為挖錫礦而吸引了眾多華人移民。這些移民大多來自廣東，他們在曼谷賺了錢後，開始在這裡展開了商業之路，逐漸形成了今天熱鬧的中國城。移民往來兩地之間的海上交通主要仰賴季風，順風出航至東南亞，隔年再回到家鄉。請依引文回答 1-3 題：

1. 這些華人的祖先，主要由圖(一)中的哪個區域的移民遷徙到海外？



圖(一)

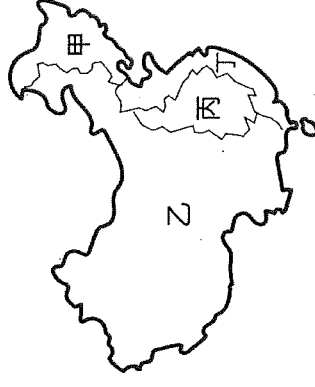
(A) 甲 (B) 乙 (C) 丙 (D) 丁。

2. 由於移出的推力與移入的拉力，使人口產生移動，請問，造成華人移動的推力為下列何者？(A)開發較晚 (B)土壤肥沃 (C)山多平原少 (D)水旱災頻繁。

3. 依上述引文判斷，華人出航至東南亞的主要季節與風向為下列何者？

(A) 冬季；東北季風 (B) 夏季；西南季風 (C) 夏季；東南季風 (D) 冬季；西北季風。

■圖(二)為中國四大經濟區圖，請依圖回答 4-5 題：



圖(二)

4. 圖中哪一個經濟帶人口眾多，對外交通便利，進出口貿易發達，科技產業密集，是中國經濟發展的核心地區？(A) 甲 (B) 乙 (C) 丙 (D) 丁。

5. 造成乙區經濟發展落後的主要原因為何？(A) 礦產資源枯竭 (B) 工廠設備老舊 (C) 對外交通不便 (D) 土地面積狹小。

■圖(三)為中國『一帶一路』政策路線規劃圖，請依圖回答 6-8 題：

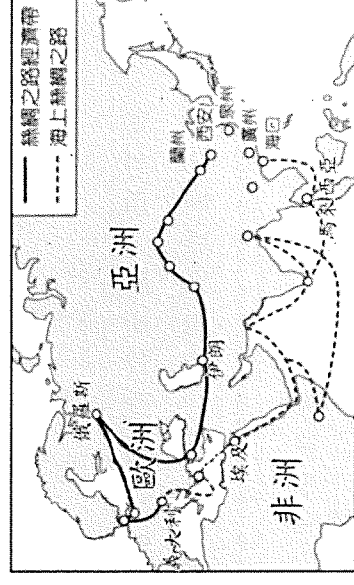
6. 「海上絲綢之路」走的路線以經過哪一個大洋為主

(A) 太平洋 (B) 印度洋 (C) 大西洋 (D) 北極海。

7. 下列何者「不是」中國提出「一帶一路」政策的主要原因

(A) 消化國內過剩工業產能 (B) 擴大貿易市場，增加國際影響力 (C) 能源取得穩定便利 (D) 串聯七大洲進行貿易，加強與紐澳的區域合作。

8. 中國哪一個經濟特區最接近「一帶」，中國政府期望將當地建設成向西出口的加工基地，出口紡織品、食品加工產品至鄰國，邊境貿易興盛？(A) 深圳 (B) 喀什 (C) 廈門 (D) 珠海。



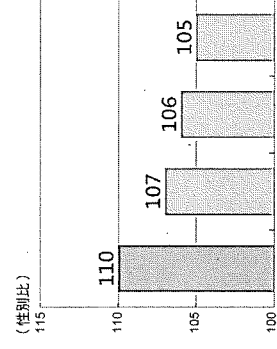
圖(三)

9. 圖(四)為 2022 年世界及部分國家新生兒性別比，造成圖

中中國性別比與其他國家有明顯差異的主要原因為(甲)重男輕女觀念式微 (乙)開放生育第二胎 (丙)實施一胎化政策 (丁)人口邁入高齡化正確的為 (A) 甲乙 (B) 乙丁 (C) 甲丙 (D) 丙丁。

10. 煤、鐵等資源笨重不便遠運，而中國的北部區域重工業發達，由此可知中國北部區域的重工業發展與下列哪一工業區位關聯性最強？(A) 原料區位 (B) 勞力區位 (C) 交通區位 (D) 市場區位。

11. 深圳、珠海經濟特區有許多電子公司原先是幫外國廠商代工組裝 3C 周邊產品，如耳機、電子錶等，這幾年都加碼投資研發，推出自有品牌的產品。此發展顯示中國的製造業正進行何種轉型？(A) 原料密集 → 資本密集 (B) 勞力密集 → 技術密集 (C) 動力密集 → 技術密集 (D) 資本密集 → 勞力密集。



圖(四)

【※繼續作答】

12. 中國東部海岸像是一張弓，長江流域就是一支箭，上海正好位在這副弓箭的「T」字支點上，所以成為中國工、商、金融中心；請問以上描述主要說明上海的哪一項優勢？(A)腹地廣大 (B)港闊水深 (C)港區面積遼闊 (D)勞力資源充足。
13. 中國積極與各國簽訂自由貿易協定，例如，2020年與東南亞、日、韓、澳、紐等國簽署『區域全面經濟夥伴協定』(RCEP)，該經濟協定可能為中國帶來的主要效益為？(A)提升生產技術，促使產業升級 (B)經濟活絡，人口快數增加 (C)增加國土面積，擴大貿易範圍 (D)減免關稅，降低進出口限制。
14. 近年來發現中國糧食作物栽種面積大幅減少，內蒙古地區出現企業化乳業集團的畜牧場等現象。請問：導致中國近代傳統農牧活動產生上述變化的主因是下列何者？(A)因應市場的需求 (B)第一級產業勞動力不足 (C)共產制度的計畫經濟政策 (D)氣候變遷造成耕地沙漠化。
15. 下列哪一項事實可以說明中國逐漸成為全球最大的消費市場？(A)出口貿易額名列世界前茅 (B)消費能力龐大，吸引國外知名購物中心進駐 (C)外國企業將工廠遷往東南亞 (D)由國外輸入許多工業原料到中國。
16. 『自2014年底，南水北調工程中東線全面完工以來，效益顯著，使首都城區70%以上用了南水』，這是頤和園遊船廣播裏的一段話，引文中的工程主要目的為下列何者？(A)長江流域的汙染管控 (B)珠江流域的內河水運 (C)黃河流域的缺水策略 (D)三峽大壩的水位抬升。
17. 『中國企業近年來由於經濟發展快速，快速累積大量資金，因此紛紛併購國外企業，希望加速國內產業升級。』依上述引文判斷，下列哪一個企業較『不會』被納入中國企業併購的名單中？(A)湛藍高精度光學鏡頭 (B)瑞典富豪(volvo)汽車 (C)義大利Alpi Aviation軍用無人機公司 (D)愛德華成衣工廠。

二、歷史科(18-34題)

18. 歷史老師在講解歷史第三章「宋元多民族並立的時期」時以表格方式整理出多民族的政治發展。請問：老師製作的表格裡『最不可能』列出哪一個民族？(A)蒙古族 (B)匈奴族 (C)契丹族 (D)女真族。
19. 西晉末年因首都遭外族攻破並擄走皇帝而造成西晉的滅亡，北宋末年歷史重演，同樣發生外族攻陷首都，抓走宋國兩個皇帝的悲劇。關於造成這兩個朝代滅亡的禍事，下列說明何者正確？(A)前者首都在黃河流域；後者首都在長江流域 (B)入侵的外族均為草原民族 (C)宋因此喪失國防重地「燕雲十六州」 (D)兩朝宗室均因此遷都到南京。
20. 關於『澶淵之盟』的說明，下列敘述何者正確？(甲)是北宋與金國之間的盟約 (乙)此盟約為宋真宗親征後所簽訂 (丙)宋朝因為戰敗，只好忍辱簽訂此約 (丁)兩國約為兄弟，劃定疆界，每年宋必須給予對方許多銀與絹，稱為歲幣 (A)甲乙 (B)甲丁 (C)丙丁 (D)乙丁。
21. (甲)鐵木真 (乙)忽必烈 (丙)朱元璋 (丁)趙匡胤，以上人物均是影響中國歷史的重要君主，依出現時間先後順序排列應是(A)甲乙丙丁 (B)丁乙甲丙 (C)丁甲乙丙 (D)甲丁乙丙。
22. 以下是中國某朝代首都的簡介：「這是一座依計畫興建的城市，城中可見基督教教堂、伊斯蘭教清真寺及佛教寺廟。朝廷聘用色目人擔任財政官員，並推行全國性紙幣政策，加上各地物資的集中，讓這座城市成為金融經濟中心。」上述城市最可能是指下列何者？(A)臨安(杭州) (B)長安(西安) (C)汴京(開封) (D)大都(北京)。
23. 某朝代曾有大臣上書皇帝：「現在國庫銀錢告急，必須使貿易更暢通，從外國商船賺取更多收入，因此我認為應該廢除○○政策。此外，沿海人民大半因為○○政策而無法謀生，在不得已之下便會與倭寇勾結，出海走私或打劫，反而助長倭寇勢力壯大。」請問：上文中○○政策應為何者？(A)朝貢 (B)海禁 (C)禁教 (D)鎖國。

【※繼續作答】

24. 承上題，由上書內容可以推測某朝代應為(A)北宋 (B)元朝 (C)明朝 (D)清朝。
 25. 福建泉州的清淨寺是中國現存最早的清真寺，創建於北宋大中祥符2年(西元1009年)，至今已存在上千年。請問：當時建造此宗教建築的時代背景應為何者？(A)國際貿易興盛，許多穆斯林商人東來貿易 (B)蒙古西征促使伊斯蘭教傳入 (C)新航路的發現帶來繁榮商機 (D)國防力量弱，信仰伊斯蘭教的草原民族趁機入侵。

26. 《吃一場有趣的宋朝飯局》作者在該書一開始就建議讀者，想穿越的人最好穿越到宋代，不但食物比較好吃，娛樂也比以前多很多。下列關於宋朝的描述，何者是正確的？(A)到了晚上，街道仍是非常熱鬧，有各種小吃店美食 (B)《清明上河圖》是了解南宋庶民生活的最佳史料 (C)在宋朝的筵席上會出現馬鈴薯燉肉等名菜 (D)朝貢貿易興盛，進口香料大量使用在食物的烹調。
 27. 利瑪竇是義大利籍的傳教士。1583年來到中國居住，頗受士大夫的敬重。他除了積極傳教之外，也對中國典籍進行鑽研，還廣泛結交中國官員與社會名流，對中西文化交流作出了重要貢獻。請問：有關利瑪竇在中國傳教活動的進行，下列敘述何者正確？(A)是基督教長老教會的傳教士 (B)為使傳教活動順利進行，容許中國教徒可祭祖、祭孔 (C)與徐光啟合作翻譯《四書集注》(D)將中國的地理學、數學介紹到歐洲。

28. 承上題，因為西方傳教士扮演東西方文化交流的重要角色，歐洲因此曾經掀起慕華之風，盛行「中國熱」，但此文化交流的熱潮卻因清朝哪一皇帝在位時下令禁教而中斷？(A)康熙 (B)雍正 (C)乾隆 (D)嘉慶。

29. 十七世紀末日本開始流行「蘭學」，荷蘭人將歐洲新學說、科技發展等介紹至日本，也為近代日本的科學發展奠定基礎。請問：「蘭學」形成的原因為何？(A)荷蘭比其他歐洲國家更積極傳教 (B)與日本貿易最大的是荷蘭 (C)荷蘭是第一個成功航行至東方的歐洲國家 (D)日本在鎖國期間，歐洲國家中只允許荷蘭前來貿易

30. 依據右表的内容判斷，「○○○○」應填入下列何者最符合史實？(A)番薯作物引進中國 (B)基督教傳教士大舉東來 (C)朝貢貿易達到巔峰 (D)勢力範圍遍及大西洋沿岸。

31.

| | |
|----|---------------|
| 時間 | 1405~1433年。 |
| 方式 | 聘用熟悉海路的穆斯林水手。 |
| 航程 | 最遠抵達非洲東岸。 |
| 影響 | ○○○○ |

13世紀時，有位來自威尼斯的歐洲商人馬可波羅(Marco Polo)口述自己在東方的經歷與見聞，完成《馬可波羅遊記》一書。據遊記所述，馬可波羅到中國經商，受到皇帝的重用，留居中國17年。而且首都築有通往各地的道路，每隔一段距離就設置招待所，供政府官員和過往商旅使用。此外，他還發現人們在山中開採黑色的石頭，把它當成燃料，比木柴還要好用！

根據上文，文中提到的招待所，應該是指(A)驛站 (B)市舶司 (C)會館 (D)正店。

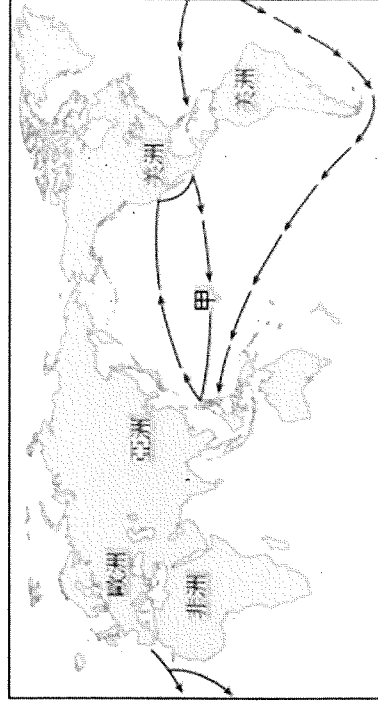
32. 八達嶺長城是現今中國觀光勝地，為明代所修築興建。而明代之所以致力於維持長城的完整，是為了抵禦來自於北方的外敵。請問：上述的「外敵」是指下列何者？

(A)蒙古 (B)日本 (C)倭寇 (D)藏族。

33. 清朝統治者以少數民族入主中國，比起蒙古人，清朝統治者在治理帝國上特別小心謹慎，一方面採取懷柔政策，一方面也使用高壓手段。(甲)強迫漢人薙髮留辮 (乙)大興文字獄 (丙)實施種族政策 (丁)舉行科舉制度。以上哪些是清初採用的手段？

(A)甲乙丙 (B)乙丙丁 (C)甲丙丁 (D)甲乙丁。

34. 見右圖，尼古拉斯是西班牙商人，利用東西貿易累積龐大的財富，請問：下列哪一組商品可能是他透過甲貿易路線進口到亞洲的商品？(A)玉米、早熟稻 (B)香料、白銀 (C)番薯、玉米 (D)馬鈴薯、香料。



【※繼續作答】

三、公民科(35-50題)

35. 小玉長期關注環境保護議題，他最近在一項公職人員選舉中成功當選，其政見包括當選後要修法禁止全國各地的水源區設立工廠，以保護水源不受汙染。依我國現行法律規定與題文判斷，下列何者最可能也是小玉所當選公職的職權？(A)提出當地縣市的總預算案(B)彈劾違法失職的公務人員(C)向地方行政首長提出質詢(D)提出總統、副總統彈劾案。

36. 行政院為因應少子化問題，建構安心懷孕友善生養的環境，自2021年7月1日起，擴大不孕症治療(試管嬰兒)補助對象，取消排富條款，並以妻子年齡作為區分對象。對此，中央政府於2023年度共編27.26億元預算案，協助不孕夫妻圓夢，減輕進行試管嬰兒方案之負擔。此外，有甲機關人員指出，針對該補助政策，行政院應向甲機關提出施政報告，相關部會首長應列席接受質詢；同時，乙機關人員表示，行政院應將做成的決算報告，送交乙機關審核，以監督該補助政策預算運用之狀況。若依我國相關法令判斷，下列關於報導內容之推論何者正確？(A)由行政院編列該補助預算，送交監察院審議(B)行政院對預算案認為窒礙難行，移請監察院審議(C)甲機關人員的說法，顯示其可能為中央民意代表(D)乙機關人員的說法，其任職的機關可能為司法院。

37. 台灣透過憲法法庭辯論，判定「婚姻平權」受《憲法》保障，宣告《民法》未保障同性結婚婚屬違憲，並限期主管機關於公告後兩年內，修改相關法律，使台灣人權邁進一大步。憲法法庭發揮的功能可說明權力的何種概念？(A)分權制衡(B)權能區分(C)主權在民(D)軍權制度。

38. 中共軍機持續擾台，國防議題再次成為國人關注的焦點，其中「服兵役」的議題再次浮上檯面，表(甲)為一則針對「男女皆兵制」的網路民調結果，然而，我國《兵役法》中規定男子才有服兵役之義務，若想實施「男女皆兵制」須先依賴相關單位的修法。依內容判斷，下列敘述何者正確？(A)傳播媒體透過民調了解民意屬於公共意見的影響性(B)國防預算的編列與武器採購為行政院之職權(C)民調顯見「男女皆兵制」不被女性支持(D)文中相關單位指司法院。

| ▼表(甲) | | |
|-------|-----------|-------------|
| | 男女都服兵役支持度 | |
| | 支持 | 不支持 |
| 總計 | 52.0% | 37.0% |
| 性別 | 男 | 56.0% |
| | 女 | 48.1% |
| | | 不知道/ 沒意見 |
| | | 11.0% |
| | | 13.7% |
| | | 8.3% |

39. 《憲法》第7條：「中華民國人民，無分男女、宗教、階級、黨派，在法律上一律平等。」而我國在男性有服兵役的義務，女性無服兵役義務，是考量男女生理上之差異。下列敘述中，哪一個人的說法「有誤」？(A)宇正：有錢人能接受國民教育，窮人不行，是違反了形式上的平等(B)冠昇：我國憲法賦予人民形式上平等與齊頭式平等(C)宗值：合理的差別待遇也是給予民眾立足點的平等(D)柏鈞：人民在法律上享有同等權利，不得有特權。

40. 「有知名作家認為之後政府就可以給任何人定罪，可以關押任何少數族群。」關於定罪，在我國應和下列哪一選項的機關職權相同？(A)監督行政，質詢行政官員(B)審核行政院提出的決算(C)對立法院通過的法律案提出覆議案(D)審理總統、副總統彈劾案。

41. 圖(甲)為振偉報告我國的某一事件，根據圖中資料判斷，下列敘述何者正確？(A)投票者須年滿20歲(B)選出民意代表來監督政府(C)公投為創制、複決權的落實(D)公投為《憲法》保障的受益權。

42. 某政府單位修正《公務人員高等考試三級考試暨普通考試規則》，依此發布關於國家考試的重要變革，考量到現行出任公務人員基礎訓練已有安排公文寫作課程，各機關實務訓練階段也會配合業務辦理公文寫作練習，因此自112年起

以核養綠公投案

- 日本在311福島核災後曾經歷2年零核歲月，決定重啟。
- 非核家園代價是高電價的衝擊，貿易赤字大增。
- 火力發電，二氧化碳排放量居高不下。

▲圖(甲)

高普考試國文將刪除列考公文。另外為落實國家雙語政策，高考三級全面提升英文占比重，並將英文檢定列入僑務行政、國際文教行政、新聞及觀光行政等四類科應考資格。文中政府單位的首長產生方式最可能為下列何者？(A)由總統直接任命 (B)由人民投票選出 (C)由該單位委員互選 (D)由總統提名，經立法院同意後任命。

43. 圖(乙)是公民老師指派給學生做的學習單，並請同學修正代號處的錯誤內容---

多年前台中衛爾康西餐廳曾發生火災，造成 64 人死亡，當時的台中市長因此遭到(甲)大法官彈劾，經過(乙)憲法法庭審理後被休職半年。此一重大公安意外發生後，(丙)考試院陸續修訂通過《消防法》、《公寓大廈管理條例》等各項法律，實施公共場所須強制使用防火建材、逃生通道必須保持暢通等改革，(丁)司法院內政部也將消防業務從警政署獨立出來，成立消防署，落實「警消分離」制度。

▲圖(乙)

根據內容判斷，下列針對代號中雙底線處的修改，何者正確？(A)甲改為立法委員 (B)乙改為懲戒法院 (C)丙改為行政院 (D)丁改為總統府。

44. 韓劇「非常律師禹英瑤」收視大獲好評，是在描述擁有天才頭腦但患有自閉症的禹英瑤，自小熱愛並專注法律研讀，父親(甲)為了避免孩子被歧視，搬遷到鄉村。禹英瑤完成大學學業後，(乙)通過國家考試，且不因自閉症的社交障礙，還(丙)獲得進入大型律師事務所的工作機會，協助委託人在法庭上進行(丁)訴訟，成為一名不一樣的律師。上述畫雙底線的部分，依序符合我國《憲法》保障的那些基本人權？(A)平等權、自由權、受益權、參政權 (B)自由權、參政權、平等權、受益權 (C)自由權、受益權、參政權 (D)平等權、參政權、受益權、受益權。

45. 林獻堂在日治時期帶領台灣民眾向日本帝國議會請願，要求設置台灣議會，讓台灣制定法律與預算審核權改由台灣議會進行，雖然最後失敗告終，但是這件事在台灣民主運動史上卻是一個重要的里程碑。根據上文判斷，台灣議會的性質，接近我國現今的哪種政府機關？(A)行政院 (B)立法院 (C)司法院 (D)監察院。

46. 在我國權力分立的中央行政體制下，發布緊急命令雖是總統的職權，但其實還有一些必要程序。根據發布流程，若緊急命令要生效，其程序下列何者正確？(A)先行政院會決議，後立法院追認 (B)先由監察院調查，後懲戒法院通過 (C)先行政院會決議，後監察院追認 (D)先立法院同意，後司法院憲法法庭審理。

47. 宸愷校外教學分別參觀了位在台北市博愛特區的監察院與立法院，聽取此兩機關的簡報並做下筆記，如表(乙)，表中資料何者「有誤」？(A)甲 (B)乙 (C)丙 (D)丁。

| ▼表(乙) | |
|-------|----------------|
| 甲、立法院 | 具監察院長的人事同意權 |
| 乙、立法院 | 聽取監察院的決算報告 |
| 丙、監察院 | 其彈劾對象皆須受立法院質詢 |
| 丁、監察院 | 監察權是從立法權中獨立出來的 |

48. 上課時，老師將國家經費的運用流程製成表(丙)，並故意打亂順序，請同學們分組後將正確的流程排列出來。下列哪一組的排列完全正確？

(A)紅隊：乙→甲→丙→戊→丁 (B)黃隊：丙→甲→丁→乙→戊
(C)紫隊：丙→戊→甲→丁→乙 (D)白隊：丙→甲→戊→乙→丁。

| ▼表(丙) | |
|-------|---------|
| 甲 | 立法院審查預算 |
| 乙 | 監察院審計決算 |
| 丙 | 行政院編列預算 |
| 丁 | 立法院審核報告 |
| 戊 | 行政院執行預算 |

【※繼續作答】

*請閱讀下列選文，並回答第 49~50 題：

○○院三讀通過《疫後特別條例》，其中包括交通部所推出的「公共運輸月票補助方案」，鎖定北基桃、中彰投、南高屏三個生活圈來推動交通月票，北北基桃月票每月約 1200 元；中彰投、南高屏月票則預計在 1000 元以內，可搭乘捷運、公車、輕軌、客運及公共自行車等。行政院隨即將 3800 億元的特別預算案送審，預算包括擴大公共運輸補貼與加速吸引國際觀光客。

行政院長受訪表示，《疫後特別條例》和特別預算就是為了特別照顧租屋族、中低薪購屋族、通勤族、學貸族等。關於北北基桃、中彰投、南高屏等地區的月票會按照各地區的特性來設計方案，讓每個民眾都能得到很好的照顧。

49. 「行政院隨即將 3800 億元的特別預算案送審」，上述中的送審是交由五院中的哪一個院進行預算的審查？(A)立法院(B)司法院(C)考試院(D)監察院。

50. 承上題，下列何者同樣為此院會職權的一部分？(A)同意行政院長提名的官員任命 (B)對交通部不當施政提出彈劾 (C)提出《憲法》修正案 (D)審查各縣市地方法規。

~~ 試題結束 ~~

請同學再次檢查答案卡上的基本資料是否填寫正確與完整