

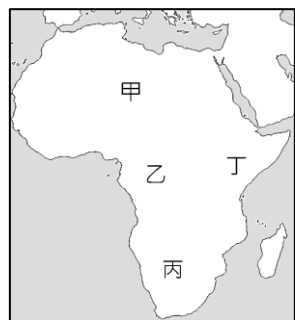
※每題 2 分，共 50 題

科目代碼:05 (請用 2B 鉛筆，將答案劃於答案卡上)

一、地理科(1-17 題)

01. 「非洲因為 ，所以蘊含豐富礦產資源，擁有世界上約 30% 的礦產資源，其中稀土對於現代文明不可或缺，不僅是生產智慧型手機、電動車和風力渦輪機的關鍵材料，對於快速發展的綠色能源領域也尤其重要。」請問上述引文的  應填入下列何者？(A) 有廣大熱帶雨林 (B) 長年受到歐洲殖民 (C) 板塊擠壓 (D) 地質古老。

02. 『這裡是世界上最大的斷裂帶，素來有「地球疤痕」之稱，兩個大陸板塊的拉伸作用產生寬度達幾十至 200 公里，深度在 1000-2000m，全長約五千八百公里的地塹，持續以每年幾毫米的速度不斷擴張…』請問，此區位於圖(一)中何處？



圖(一)

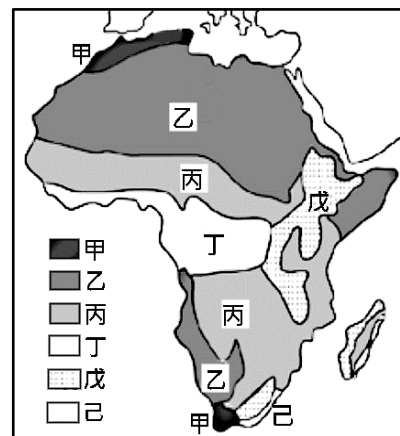
(A) 甲 (B) 乙 (C) 丙 (D) 丁。

03. 「非洲喀拉哈里盆地的布希曼人，是現今地球上最古老的人類，這些族人，天生具有絕佳的追蹤能力，是唯一能在沙漠中生存的部落，住簡陋的茅屋、用獸骨製箭，為避免水分容易蒸發，以駝鳥蛋殼盛裝飲用水」上文所述布希曼人居住地區的氣候成因為何？(A) 深居內陸距海遠 (B) 地勢高聳 (C) 副熱帶高氣壓籠罩 (D) 暖流經過

■ 圖(二)為非洲氣候分布圖，請依圖回答第 4-9 題：

04. 圖中可看出氣候大致呈現南北對稱的特色。請問：此特色和下列哪一條經、緯線通過非洲中部的關係最大？(A) 北回歸線 (B) 赤道 (C) 本初經線 (D) 南回歸線。

05. 圖中甲→乙→丙→丁的降雨特徵變化順序為何？(A) 終年有雨→夏雨為主→冬雨為主→終年少雨 (B) 終年少雨→夏雨為主→冬雨為主→終年有雨 (C) 夏雨為主→終年有雨→終年少雨→冬雨為主 (D) 冬雨為主→終年少雨→夏雨為主→終年有雨



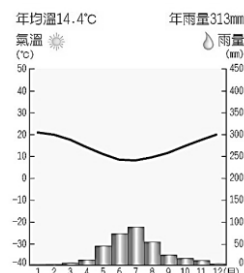
圖(二)

06. 非洲的馬賽馬拉國家保護區隨著季節和降雨，每年七月至十月，生活其中的動物族群不斷地移動追逐嫩草，數百萬隻角馬、斑馬和羚羊從塞倫蓋蒂草原遷徙至此，遊客可搭乘熱氣球俯瞰這場自然奇觀，感受壯麗景色與野生動物的生存競技。請問，上述景觀主要出現於圖中何種氣候區？

(A) 甲 (B) 乙 (C) 丙 (D) 丁

07. 土豚生長於漠南非洲，近年來已成為科學家研究氣候變化影響的重要對象，土豚的糞便中不僅包含了它們的 DNA，還隱藏著關於牠們生活方式和環境適應性的豐富資訊，研究結果顯示，土豚在乾燥和炎熱的地區，遺傳差異更大，這暗示著土豚在惡劣環境不易遷徙，請問，根據以上敘述判斷，圖中哪種氣候分布區最不利牠的遷徙？(A) 甲 (B) 乙 (C) 丁 (D) 己。

08. 請問以下何者為圖(二)中『丁』氣候區的植被示意圖？



圖(三)

09. 圖(三)應該是圖(二)中哪種氣候區的氣候圖？(A) 甲 (B) 乙 (C) 戊 (D) 己

10. ○○的葡萄酒釀造歷史超過 300 年，融合舊世界與新世界的特色。在種族隔離時期，因面臨國際制裁，影響葡萄酒出口，1990 年曼德拉獲釋後，葡萄酒業才得以逐步復甦，並在 1993 年

諾貝爾和平獎晚宴上提供斯泰倫博斯酒莊的葡萄酒…，請問，以上○○是下列哪一個國家？(A)剛果 (B)象牙海岸 (C)南非 (D)索馬利亞。

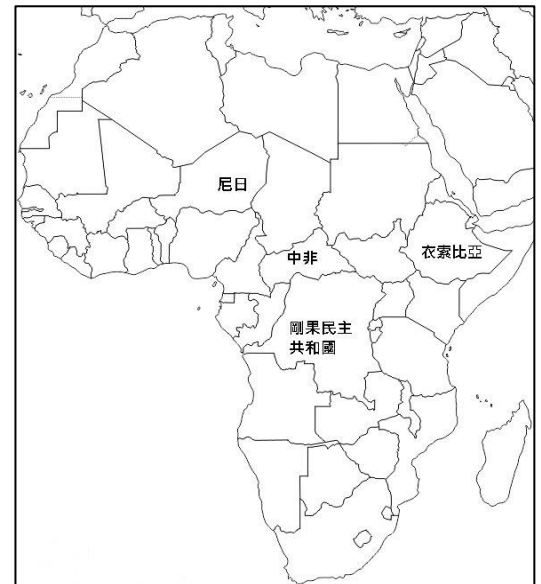
11. 象牙海岸是全球最大的可可生產國，其產量占世界總量的 39%，為國家經濟提供重要收入。然而，儘管在可可產業上佔據主導地位，該國仍需依賴國外進口玉米、稻米等糧食，以滿足國內需求，原因為何？(A)種植單一物種經濟作物 (B)沙漠化導致可耕地減少 (C)戰爭頻繁致耕地被破壞 (D)氣候乾燥沙漠面積廣大
12. 史瓦帝尼王國位於非洲南部，為我國在非洲唯一邦交國，我國對史瓦帝尼的投資，大多集中於成衣產業許多台商紛紛至此設廠，除了善用美國對史瓦帝尼的關稅優惠外，主要是考量的設廠區位優勢為何？(A)技術 (B)勞力 (C)原料 (D)交通。
13. 19 世紀以前，歐洲人對南非洲一無所悉，主因是非洲早期對外海運不便，不易與外界交流，居民長期維持較原始的生活方式。下列哪項敘述，是造成非洲對外海運不便的主因？(A)裂谷橫互 (B)氣候南北對稱 (C)港口冬季結冰 (D)海岸平直少良港。

14. 非洲最高峰吉利馬札羅山，山頂終年白雪皚皚，山下草原野生動物奔馳，已成為東非最具代表性的風景明信片，在氣候變遷、全球暖化影響之下，冰川與積雪已大幅消融，預估大約在 2033 年前就會完全消失。請問，山頂終年白雪皚皚的主要原因為下列何者？(A)緯度高 (B)地勢高 (C)日照時數短 (D)降雨豐沛。

| 項目  | 特徵               |
|-----|------------------|
| 太陽能 | 高日照時數、乾燥氣候、晴天比例高 |
| 地熱  | 活躍的地熱活動、火山地帶     |
| 水力  | 大量降雨、高度落差        |
| 風力  | 穩定強風、沿海地區、山脈迎風面  |

表(一)

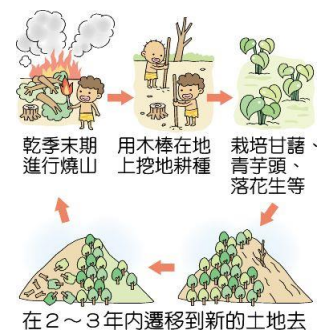
15. 近年來，隨著全球對可持續能源的需求增加，非洲各國正在加快能源轉型步伐，以減少對化石燃料的依賴。請參照表(一)發展特徵及圖(四)國家位置綜合判斷，下列有關各國再生能源發展的重點項目配對何者『錯誤』？(A)剛果民主共和國-水力 (B)尼日-太陽能 (C)中非-風力 (D)衣索比亞-地熱能。



圖(四)

16. 早期肯亞平均所得低，銀行帳戶是少數人專利，電信公司 Safaricom 從 2007 年開啟肯亞行動支付服務，不需要全面鋪設電話纜線，僅需架設足夠基地台，使用低階手機就能透過簡訊方式支付、轉帳，不用千里跋涉到銀行排隊兌現，對於偏遠的農村地區居民有吸引力，2014 年，全國 4000 萬人口中，已有超過 2650 萬人有行動支付帳號，路邊隨處可見綠色招牌的電信加值小屋」。由上述引文判斷，行動支付在肯亞盛行的主要原因為何？(A)政府強制所有民眾使用行動支付 (B)銀行密集分布，方便民眾手機儲值 (C)都市化程度高，只有少數鄉村地區使用現金交易 (D)基礎建設不足，手機支付比銀行更容易取得。

17. 圖(五)為非洲部分地區農民所採行的農業方式，請問此種方式主要出現在下列哪一個區域？(A)剛果盆地 (B)喀拉哈里盆地 (C)撒哈拉盆地 (D)南非西南沿海



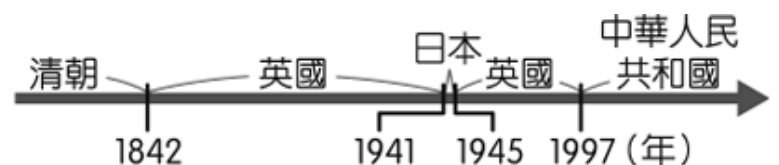
圖(五)

## 二、歷史科(18-34 題)

18. 西元 1960 年代，中國官方媒體將原本的宣傳標語「學習蘇聯先進經驗建設我們的祖國」，紛紛塗改成「打倒美帝(美國帝國主義)、打倒蘇修(蘇聯修正主義)」，請問：何種原因導致中國官方媒體立場出現如此大的變化？(A)中共與美國建交 (B)蘇聯干涉中共內政外交 (C)蘇聯譴責中共六四事件 (D)蘇聯強迫中共參加越戰。

19. 軒睿看了一部歷史紀錄片，裡面提到：1950年，一場爆發於朝鮮半島的戰爭，牽動了美國與蘇聯這兩大超級強權。美國支持南方的政府，蘇聯支持北方的政府，這場戰爭最後以簽訂停戰協定告終，半島南北對立的局面一直持續到現在。請問：這部紀錄片所描述的戰爭，造成下列哪些影響？(甲)促成聯合國成立，以維持世界和平 (乙)強化美國對東亞的軍事部署 (丙)蘇聯與中共因立場不同而關係破裂 (丁)臺灣因此獲得美國經濟與軍事方面的援助 (A)甲乙 (B)乙丙 (C)丙丁 (D)乙丁。
20. 冷戰時期，美、蘇兩大陣營各自擁有數量龐大的核彈，兩國只要打起來恐怕會造成世界毀滅，所以雙方都不敢貿然出手，但因競爭激烈又常背地裡干預他國戰爭，使整個世界局勢危機重重，直到蘇聯於1990年代初期解體，冷戰才真正地結束。請問：「冷戰」局面的形成是在哪一場軍事戰爭之後？(A)第一次世界大戰 (B)第二次世界大戰 (C)韓戰 (D)越戰。
21. 1950年代，美國積極在亞洲推動反共組織的成立，但與會會員國因自身政局不穩，或實力不足，再加上東南亞國家越來越不願意捲入美蘇之間的對抗，最終這個反共組織在1977年即宣布解散。請問：該組織主要是為了圍堵哪個國家而成立？(A)中華人民共和國 (B)北韓 (C)越南 (D)菲律賓。
22. 在一篇名為《中國共產革命七十年》的文章中提到：「從形式來看，1989年的天安門事件很像70年前的五四運動，都是以(甲)為中心，然後擴向全國各大城市；也都是以(乙)為中心，然後吸引社會其他各階層參加。……事件的發生，是兩個因素的互動所致。一方面是領導人改革政策的內在矛盾；另一方面則是中共內部的繼承人問題，不同的繼承人對(乙)運動有不同的看法；有主張強硬鎮壓的，也有主張溫和互動的……。」請問：上文中的(甲)是指哪一個城市？(A)南京 (B)上海 (C)北京 (D)廣州。
23. 承上題，文中的(乙)應是指哪一種身分的人？(A)軍人 (B)商人 (C)農民 (D)學生。

24. 右圖呈現的是某地不同時期統治者的演變情況，此地最可能是下列何者？(A)海南 (B)香港 (C)澳門 (D)臺灣。

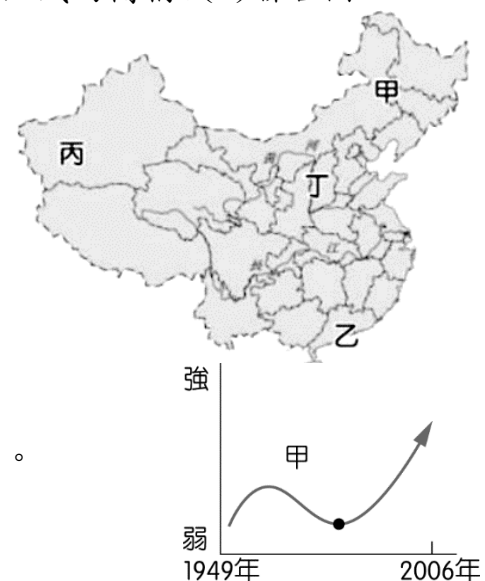


25. 路透社報導：2023年的○○峰會於印尼召開，主題為『成長的中心』。十個成員國內有八位國家領袖出席，會議聚焦於在美國與中國兩大強權的競爭下，如何保持該區域的經濟成長、區域安全等議題。請問：報導中的○○最可能是哪一組織的簡稱？(A)聯合國 (B)世界貿易組織 (C)東南亞公約組織 (D)東南亞國家協會。

26. 中華人民共和國在改革開放初期設立經濟特區，請問：經濟特區設立的地點集中在右圖中的哪個區域？(A)甲 (B)乙 (C)丙 (D)丁。

27. 老師針對中共所實施的大躍進運動進行解說，其中不會出現下列何者？(A)開始推動的年代為1970年代 (B)運動目標要在短時間內農、工業趕上英、美 (C)此運動的推動者是毛澤東 (D)大量興建土高爐以求煉鋼成效。

28. 右圖為中共建國以來的經濟發展情形。圖中甲點之後經濟開始迅速發展，與下列哪一位領導人的改革有關？(A)毛澤東 (B)蔣中正 (C)鄧小平 (D)習近平。



29. 右表是中國兩個時期，農村中不同階級的人口比例與土地占有比例的比較。根據表中數據判斷，造成這兩個時間點的數據變化，最有可能與哪一原因有關？(A)中共建國初期在農村進行土地改革 (B)中日戰爭之後大量地主脫產、死亡 (C)毛澤東成立人民公社，推行大躍進 (D)鄧小平為扭轉經濟，推動改革開放。

|    | 1950年 |        | 1954年 |        |
|----|-------|--------|-------|--------|
|    | 人口比例  | 土地占有比例 | 人口比例  | 土地占有比例 |
| 貧農 | 85.5% | 45.2%  | 92.1% | 91.4%  |
| 中農 |       |        |       |        |
| 富農 | 14.5% | 54.8%  | 7.9%  | 8.6%   |
| 地主 |       |        |       |        |

30. 在一場長達十餘年的戰役中，美軍為了取得戰爭優勢，力圖讓當地共產黨游擊部隊無所遁形，不惜在當地噴灑含有劇毒戴奧辛的落葉劑(橙劑)，使當地森林、山區變成一片光禿禿，不僅當時造成饑荒，時至今日仍有數百萬人受到落葉劑後遺症折磨。請問：上文中描述的地區位於右圖中何處？



(A)甲 (B)乙 (C)丙 (D)丁。

31. 某中共領導人接見日本國會議員時提到：「戰後日本很快就發達起來，這經驗很值得中國學習。但別人的經驗照搬也不行，中國有中國的條件，日本有日本的條件。我們不但要引進發達國家的資金和技術，充分利用各國的好經驗，並且要把這種經驗與中國的實際情況結合起來。」上述談話最可能與下列何者有關？(A)發起文化大革命,破四舊、立四新 (B)推動農工大躍進,超英趕美 (C)沒收地主土地,分配給多數的貧農 (D)實施改革開放,設經濟特區

32. 1968年5月，法國數以千計的學生占領巴黎許多大學校園，巴黎美術學院的學生，甚至搗毀校內供素描教學之用的石膏像，視其行為為破除傳統。請問：上述巴黎學生的這些行為是在模仿中國的哪一群體呢？

(A)五四運動的學生 (B)六四天安門的群眾 (C)文革時期的紅衛兵 (D)人民公社的農民。

◎請閱讀以下短文後，回答33、34題：

大陸電影《活著》的劇情中，藉著福貴的視角，見證了中共自建國以後中國的社會變遷，其中，電影中有一幕畫面演到了福貴的女兒鳳霞產子的過程，當時鳳霞已經要臨盆了，福貴一家瘋瘋火火地將鳳霞送入醫院，但到了醫院時才發現那些經驗老到的醫生早已被送入勞改營，因為老醫生們被冠上違背共產黨思想的罪名，醫院後來是由一群身戴紅臂章、對於毛澤東有無限憧憬、但醫療經驗明顯不足的青年醫生，去處理病患的病情。

最終，鳳霞的孩子順利出世，但鳳霞因在生產的過程中，突然大出血，那群青年醫生來不及妥善處理，她最後撒手人寰，留下福貴一家要承受白髮人送黑髮人的痛苦。

33. 請問：根據文中所提，醫院之所以會被一群「對於毛澤東有無限憧憬、但醫療經驗明顯不足的青年醫生」給佔據，可能是因為當時中國社會正處於甚麼情況？(A)抗美援朝期間 (B)大躍進期間 (C)文化大革命期間 (D)改革開放期間。

34. 承上題，毛澤東為何要發動文化大革命？(A)為了超英趕美 (B)為了實現無產階級專政理想 (C)為了權力鬥爭(D)為了對抗蘇聯。

### 三、公民科(35-50題)

35. 下列是中正國三位行政首長針對防疫政策的發言內容：

疫情指揮中心：「為防範新冠肺炎影響人民健康，政府會視情況要求民眾進行居家隔離。」

市長：「本市規定民眾搭乘捷運未戴口罩將處以一萬五千元罰鍰。」

區長：「民眾出國時都要先經政府許可，請上本區官網查詢。」

上述三位行政首長的發言內容，與下列哪項主題最為相關？

(A)行政救濟的各種途徑(B)行政管制的各種手段(C)行政法是憲法的具體化(D)行政命令僅就行政權規範。

36. 普丁舉行生日派對，邀請朋友參加，下列是提及年齡話題時，他們各自的回應。依我國相關法律規定，四個人的年齡由大到小排列為何？

梅克爾(女)：我明年才有公民投票的資格。 習近平(男)：我去年還是《少年事件處理法》中的少年。

石破茂(男)：我剛符合童工年齡。 桑娜馬林(女)：我今年剛成為限制責任能力人。

(A)梅克爾、石破茂、習近平、桑娜馬林 (B) 習近平、梅克爾、石破茂、桑娜馬林

(C)桑娜馬林、石破茂、梅克爾、習近平 (D) 習近平、梅克爾、桑娜馬林、石破茂。

37. 公民老師在黑板上列出《動物保護法》新舊條文之相關規定的比較：

|      |   |
|------|---|
| 過去規定 | 宰殺動物，處新臺幣5萬元以上25萬元以下罰鍰，並得公布其姓名。         |
| 現行規定 | 宰殺動物，處2年以下有期徒刑或拘役，併科新臺幣20萬元以上200萬元以下罰金。 |

同學發現有罰鍰、罰金的不同處罰規定，有關兩者的區別，何者的說法正確？

- (A)罰金是刑罰的從刑，罰鍰為行政罰 (B)兩者都是由法院負責處罰  
(C)罰鍰屬行政責任，罰金處刑事責任 (D)罰金的處罰較重，金額一定比罰鍰高。
38. 因為父母疏於關心照顧，15歲的阿牽加入了幫派。某天14歲的弟弟阿玉與同年齡的同學小豪在學校發生爭執，阿牽為了幫弟弟出氣，帶弟弟以及20歲剛結婚的幫派大哥阿山，約了小豪放學在公園理論，後來演變成鬥毆事件，全被警方逮捕。根據內容判斷，適用《少年事件處理法》處置的人有幾位？  
(A) 1 (B) 2 (C) 3 (D) 4。
39. 姜哲利用暑假打工，卻不慎摔傷。由於姜哲未達可工作的年齡，雇主沒有投保勞保，導致姜哲家長和雇主任理賠金額談不攏，而向法院提告。根據上述內容判斷，下列何者正確？  
(A)姜哲未滿法定工作年齡，所以他未滿15歲(B)雇主違反《兒童及少年福利與權益保障法》  
(C)姜哲為限制行為能力人，所以無法受雇工作(D)姜哲家長提起行政訴訟，要求雇主賠償醫藥費。
40. 老師在課堂上分享一則新聞案例如右圖，根據內容判斷，檢察官依據的法律也適用於下列何種情況？  
(A)電視臺未經篩選播放情色電影  
(B)雇主安排童工於深夜清潔打掃  
(C)爸爸帶小孩出入18禁遊藝場所  
(D)KTV雇用童工陪客人喝酒伴唱。
- 18**

警方破獲非法情色網站，影片內容都是未成年少女，檢方偵查後依法將嫌犯起訴。
41. 過往我國的臺視、中視、華視三家無線電視臺和黨政軍錯綜複雜的關係，一直讓它們擺脫不了為政府政令宣導的工具角色，因此在1995年黨政軍退出三臺後，有條款要求：「政府、政黨、其捐助成立之財團法人及其受託人不得直接、間接投資民營廣播、電視事業、系統經營者及衛星電視廣播事業。」甲公司在收購電視臺時，因一名議員購買一張股票而被國家通訊傳播委員會認定該公司違反條款問題而開罰，即使事後該公司成功撤銷該罰鍰，但失去的商機也拿不回來。上述甲公司應是如何進行權利救濟程序？  
(A)訴願→行政訴訟(B)請願→行政訴訟(C)請願→民事訴訟(D)直接提行政訴訟。
42. 15歲少年打籃球時，因傳球不慎擊到行經的機車，導致機車騎士摔傷，數個月無法工作，甚至須請看護照顧，而對該名少年提告過失傷害，法庭判決結果以訓誡確定，並且該少年須賠償近84萬元。有關該名少年的敘述何者正確？  
(A)屬於無責任能力者(B)屬於無行為能力者(C)84萬元為罰鍰(D)法庭是以保護事件來審理。
43. 小杏四人是在社群網站上認識的網友，某天他們剛好上線聊天如下：  
小杏：「我在上個月投下人生的第一張候選人選票。」  
小捷：「明天過完生日，我就可以合法喝啤酒了。」  
小晶：「老闆要我補交法定代理人的同意書才能工作。」  
小君：「我今天去應徵工讀生，老闆卻說我還差幾天才符合年齡資格。」  
根據內容判斷，上述四人何者目前年齡最小？  
(A)小杏(B)小捷(C)小晶(D)小君。
44. 新聞報導：「某建設公司建案經某市政府工務局認定為違章建築，準備執行拆除作業。洪姓建商不服，因此提出訴願；訴願結果被駁回後，洪姓建商繼續提出行政訴訟，希望獲得平反。」根據上述內容，下列敘述何者正確？(A)工務局的作為侵犯居住自由(B)訴願應該是向市政府提出(C)行政訴訟是向憲法法庭提出(D)訴訟目的是為了減輕刑責。
45. 四位同學在下課時間討論行政處分與行政救濟，根據內容判斷下列敘述何者最適當？  
小玉：「不滿拘役的天數應向主管機關提出訴願。」小宗：「不服行政處分的罰鍰金額應提出訴訟。」  
小怡：「如果不服訴願結果還可以提出行政訴訟。」小瑩：「罰鍰和拘役都是行政處分，皆可提訴願」  
(A)小玉(B)小宗(C)小怡(D)小瑩。

46. 受疫情影響與消費者的習慣改變，我國網購銷售金額逐年上升，近年已使用 2.2 億個網購包裝。環保署考量應減少網購產生的廢棄物，因此公告「網際網路購物包裝限制使用對象及實施方式」，規範網購包裝材料的限制與違規罰則，預計於 2023 年 7 月開始實施。根據上文判斷，下列何項敘述最適當？
- (A)環保署在處罰違規者前，須先經過法官判決(B)環保署的作為將限制人民權利，須依法行政  
(C)環保署公告規範，代表其有制定法律的權力(D)違規者不服處罰時，應向環保署提起訴訟。
47. 為璿在社群網站上看到有人詢問：「依法可以成為童工的少年若觸犯《刑法》，是否要接受刑罰的處罰？」關於該問題，下列何項回答符合我國現行的法律規定？
- (A)屬於無責任能力者，只須接受保護處分(B)不論犯罪輕重，皆不得讓少年接受刑罰  
(C)若被法官裁定感化教育，即為受到刑罰(D)若犯罪情節重大，可能被判處有期徒刑。

\*請閱讀下列選文，並回答第 48~50 題：

日前臺北市內湖區發生一起 15 歲少年趁祖父出國時，無照駕駛偷開祖父的休旅車，因不諳操作，在巷弄會車時不慎誤踩油門，導致車輛失控，先撞擊對向機車與腳踏車後，再高速撞進轉角臭豆腐店，造成 3 死 2 傷的悲劇。其父親及祖父對於少年偷開車一事完全不知情，但對於為何少年能夠在祖父出國時取得車鑰匙並未特別交代，事後該名少年也被報導曾經於個人社群平臺上自曝無照駕駛的限時動態，由此可知並非首次無照駕駛。

根據《刑法》第 284 條前段規定，過失傷害人者，處一年以下有期徒刑、拘役或十萬元以下罰金，屬於告訴乃論罪；而《刑法》第 276 條規定，因過失致人於死者，處五年以下有期徒刑、拘役或五十萬元以下罰金，屬非告訴乃論罪。再根據《道路交通管理處罰條例》第 86 條規定，汽車駕駛人未領有駕駛執照駕車，因而致人受傷或死亡，依法應負刑事責任者，得加重其刑至二分之一。但因少年未滿 18 歲，有關刑事部分，仍須依照《少年事件處理法》相關規定辦理。

48. 關於該名 15 歲少年及其事件後續發展的敘述，下列何者最正確？
- (A)過失致死罪處最重為五年以下有期徒刑，因此將以少年保護事件程序進行處理  
(B)屬於曝險少年，因此將以少年保護事件程序進行處理  
(C)屬於曝險少年，因此將以少年刑事案件程序進行處理  
(D)因情節重大，因此將以一般刑事案件程序處理。
49. 根據上文，關於 15 歲少年之父親的相關責任，下列何者說明正確？
- (A)雖不知孩子無照駕駛，但仍須負連帶刑事責任  
(B)雖不知孩子無照駕駛，但仍須負連帶民事賠償責任  
(C)雖不知孩子無照駕駛，但仍須負刑事及民事賠償責任  
(D)因不知孩子無照駕駛，所以完全沒有相關的法律責任。
50. 關於這起案件的處理程序，下列何者正確？
- (A)先由地方法院法官進行偵查後再決定是否起訴  
(B)少年法庭法官若認為犯罪情節重大，將自行偵查、起訴，並作出審判  
(C)少年法庭法官審理後，可能裁定交付保護管束  
(D)少年保護官負責調查，並依情節輕重判斷屬於少年保護事件或少年刑事案件。

~~ 試題結束 ~~

請同學再次檢查答案卡上的基本資料是否填寫完整