

高雄市立中正高級中學國中部 113 學年度第二學期國三社會科第 2 次段考試卷

三年 班 號姓名：

科目代碼：05【請用 2B 鉛筆，將答案劃於答案卡上】

單一選擇題：共 33 題（每題 3 分第 33 題 4 分）

【試卷共 4 頁】

1. 表(一)為臺灣四家企業為了提升競爭力而採行的方法，其中何者主要是為了達到增加產品附加價值的目的？(A)甲 (B)乙 (C)丙 (D)丁。

表(一)

企業	採行的方法
甲	製鞋廠從中國沿海邊廠到內陸
乙	紡織廠研發吸溼排汗的機能布料
丙	煉鋼廠設置在高雄臨海工業區內
丁	電子廠自東南亞引進大量外籍勞工

2. 中正國中的孩子即將於六月初畢業，為了感謝勞苦功高的老師們，在班會課討論後決定由全班同學共同準備營養又省錢的謝師宴，且為響應節能減碳、降低污染的環保政策，決定以食物里程來選用食材。若只考量運送距離，下列哪一項食材因產地離台灣最遠，選用的機率最低？

養生穀物消費調查

消費族群分析	消費者偏好分析
1. 年齡：	1. 品種：
2. 性別：	2. 口感：
3. 職業：	3. 營養價值：
4. ……	4. 價格：

(A)韓國的煎餅 (B)香港的叉燒肉 (C)紐西蘭的奇異果 (D)日本的味噌湯。

3. 某稻農為了因應外在環境的衝擊，進行調查分析(結果如表二)，他改變其耕作與經營模式，以提升獲利。上述現象反映出農業發展的何種特色？

表(二)↑

(A)全球化經營 (B)機械化生產 (C)產品商品化 (D)勞動力老化。

4. 112 年各縣市衛生局稽查出多家知名食品公司，包含維力食品、八方雲集、海底撈等檢出蘇丹紅色素，檢測出不合格的產品包含各式辣椒粉、辣椒油、咖哩粉、胡椒鹽、黑／白胡椒粉、沙茶醬、香辣豬肉乾等，波及整個餐飲業，導致人心惶惶，上述食安事件導因於加工過程出現何種問題？

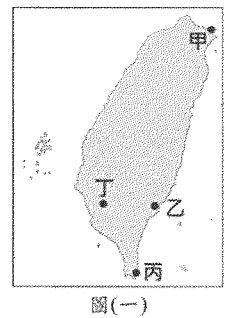
(A)保存期限過短 (B)使用基因改原料 (C)運送過程不當 (D)使用工業添加物。

5. 臺灣一處具有特殊泥岩惡地景觀的地點，於 2020 年 7 月由地方政府審議通過為地質公園。該地位處板塊交界附近及海岸山脈最南端，泥岩夾雜外來岩塊的地層，為該地質公園主要特色。上述地質公園最可能位於右圖(一)中何處？

6. 表(三)是 2022 年 8 月時，我國前四大外籍移工來源國的部分資料：

表(三)

類別		產業移工 (營建業、製造業、漁業)	社福移工 (看護、家庭幫傭)	總人數 比例
國 籍	越南	45.4%	12.7%	35.4%
	菲律賓	25.3%	12.2%	21.3%
	印尼	16.1%	74.9%	34.1%
	泰國	13.2%	0.2%	9.2%
性 別	男	71.4%	0.8%	49.8%
	女	28.6%	99.2%	50.2%



根據表中資料，我們可觀察到關於外籍移工的何種現象？

(A)外籍移工的勞動權益因國籍而受到差別待遇 (B)外籍移工從事的工作類別存在明顯性別差異

(C)我國第二級產業主要外籍移工來源國為印尼 (D)我國第三級產業主要外籍移工來源國為越南。

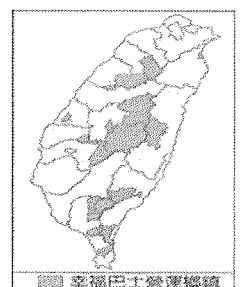
7. 高雄的某社區有數十位農民合作舉辦農民市集活動，市集內販售許多來自附近耕種的新鮮蔬果，希望推廣農產品健康生產的觀念。上述較符合哪一項概念？

(A)地產地消 (B)全球化貿易 (C)作物單一化 (D)有機農業。

8. 交通部公路總局為了滿足部分地區民眾就學、就醫及洽公的需求，以及達成某項目的，推動「幸福巴士」政策。附圖為 2019 年 8 月時設有營運路線的行政區分布。根據上述及右圖(四)資訊推論，該目的最可能為下列何者？

(圖四)→

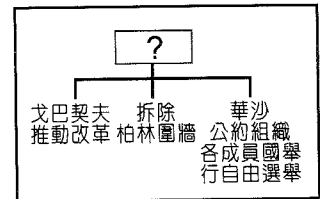
(A)串連北中南的工業園區 (B)降低高速公路的車流量 (C)增加高鐵接駁的便利性 (D)彌補公共運輸網的不足。



9. 民國 91 年，臺灣加入世界貿易組織，對我國第一級產業造成非常大的衝擊，在當年甚至造成農民上街抗議包圍總統府的事件。然而多年後的今天，第一級產業並未被淘汰，農民透過許多轉型對策，降低外國農產競爭所帶來的衝擊。上文的轉型對策，並『未』包含以下何者？(A)結合觀光活動，發展休閒農業 (B)推動稻田轉作高經濟價值作物 (C)降低單位面積產量，採粗放經營模式 (D)品種改良，發展精緻農業。
10. 臺灣本島的經緯度約介於 22°N~25°N，120°E~122°E 之間，降水的空間分布受到地形及季風的影響而有顯著差異。附表為本島四個氣象測站的資料，根據各測站位置及地形判斷，何者的年降水量可能最多？(A)甲 (B)乙 (C)丙 (D)丁。
11. 世界氣象組織(WMO)定義熱浪標準為連續 5 日的每日最高氣溫，皆高於歷年最暖月的最高氣溫平均值 5°C 以上。表(五)為臺北測站 1981 至 2010 年氣溫相關資料，根據上述定義，臺北在下列何種情形即達到此一熱浪標準？

測站	緯度	經度	高度 (m)
甲	23.98°N	121.61°E	16.0
乙	25.13°N	121.74°E	26.7
丙	22.99°N	120.20°E	40.8
丁	23.95°N	120.59°E	34.0

- (A)連續 5 天出現 31.6°C 以上高溫 (B)連續 5 天出現 34.3°C 以上高溫 (C)連續 5 天出現 34.6°C 以上高溫 (D)連續 5 天出現 39.3°C 以上高溫。
12. 有一場軍事行動：「短短 2 小時的襲擊中，美國 19 艘大型船艦被擊沉，150 架飛機被炸毀，美軍官兵死 2409 人，傷 1178 人，平民死 68 人，而日本付出的代價僅為損失飛機 29 架和袖珍潛水艇 5 艘……」上述事件，對第二次世界大戰造成何種關鍵性影響？(A)美國對同盟國陣營宣戰 (B)歐、亞兩戰場合而為一 (C)協約國開始對抗軸心國 (D)美國受重創，導致戰敗
13. 有一個人對當時世界局勢的觀點如下：「美國透過馬歇爾計畫和柏林空運行動，把錢送到歐洲……此時，共產黨正在全世界蔓延。」上文所指的時代背景為何？(A)《門羅宣言》發表 (B)珍珠港事變爆發 (C)美、蘇冷戰 (D)獨立國家國協成立
14. 附圖中，「？」是老師上課講解的主題，根據圖中內容判斷，此主題最可能是下列何者？(A)冷戰時代的結束 (B)第三世界的形成 (C)以阿衝突的影響 (D)法西斯主義的潰敗



15. 聯合國前身為國際聯盟，成立主要目的皆為維護世界和平。下列有關聯合國的敘述，何者正確？(A)總部設在瑞士日內瓦 (B)安全理事會的五強指美國、英國、法國、俄羅斯、日本 (C)安理會有權要求會員國提供武力 (D)聯合國已名存實亡
16. 19 世紀時，歐洲列強在世界各地占有不少殖民地，進入 20 世紀以後，因為國勢衰微，已經無力控制各殖民地，給予這些殖民地獨立建國的機會，因此出現許多新興國家。造成歐洲列強損失慘重、國力轉弱的，應該是下列哪一場戰爭？(A)韓戰 (B)越戰 (C)德法戰爭 (D)第二次世界大戰
17. 「在會議中決定戰後東歐各國的收復交由蘇軍處理，蘇聯對日宣戰後，在中國的東北享有特權，這個會議的簽訂對戰後國際局勢發展影響頗大」。上文中描述的是下列哪一個會議？(A)維也納會議 (B)慕尼黑會議 (C)開羅會議 (D)雅爾達會議
18. 欣欣在報紙上經常看到「第三世界」一詞。有關第三世界的敘述，下列何者正確？(A)以蘇聯為首的共產國家 (B)都是歐洲聯盟的會員國 (C)都是工商業發達的國家 (D)通常不與美國或蘇聯結盟

19. 蘇聯在「某處」部署核子導彈，直接威脅美國本土的安全，美國甘迺迪總統宣布美國進入緊急狀態，美蘇之間的關係一度非常緊張。上文中的某處，應是指下列何地？ (A) 西柏林 (B) 東柏林 (C) 古巴 (D) 墨西哥
20. 義大利的法西斯黨與德國的納粹黨都是在戰間期興起的極權政權，這兩個政黨有何相同之處？ (A) 皆主張撕毀《凡爾賽條約》 (B) 皆主張「恢復古羅馬光榮」 (C) 皆是第一次大戰的戰敗國 (D) 皆主張消滅共產黨
21. 第二次世界大戰後，猶太人因為得到歐美列強的支持而建國，反而引發數十年與阿拉伯國家之間的爭端。猶太人建國的地點，是在下列哪個地區？ (A) 敘利亞 (B) 巴勒斯坦 (C) 黎巴嫩 (D) 西奈半島
22. 《安妮的日記》記載 1942 至 1944 年安妮一家因遭受迫害而躲藏的故事，見證了德國當權者實施種族政策的恐怖。此位德國當權者為下列何者？ (A) 希特勒 (B) 墨索里尼 (C) 俾斯麥 (D) 史達林
23. 我國生產的半導體，在外銷上具有明顯優勢；但是我國鳳梨的外銷經常面臨強大的競爭，還曾發生過被中國拒絕進口的爭議。依據上述內容判斷，對於我國的國際貿易發展，下列何者的解讀最合適？ (A) 我國鳳梨被中國拒絕進口，可以向世界貿易組織要求解決爭議 (B) 我國若完全開放市場，對半導體業者及農民均有明顯負面影響 (C) 我國所生產的鳳梨，在國外市場上的價格多半比競爭對手低廉 (D) 我國的新臺幣若升值，會更有利於半導體業者拓展害外的市場。
24. 老師請同學針對★提出報告，下列為珩銘這組的報告節錄。根據內容判斷，★最有可能為下列何者？

◎三要

◎三不

- 要能自我反思批判
- 不要以為眼見就能為憑
- 要有主動探究的意願
- 不要以自己的立場解讀
- 要有多元思考的能力
- 不要隨意轉發訊息

- (A) 科技發展加快訊息傳播速度 (B) 解讀媒體報導隱含的價值觀 (C) 大眾媒體改變公共參與模式 (D) 培養閱聽人的媒體識讀能力。
25. 右圖為某個國際組織的簡介，依據內容判斷，下列關於該組織的解讀，何者最適當？(A) 組織影響力僅限於少數國家(B) 組織日常運作呈現營利性質(C) 性質屬於全球性的國際組織(D) 督促重視全球貧富差距現象。

目標：致力於保護各地生物多樣性與減碳

行動：①譴責中國大量新建燃煤電廠  
②促使歐盟通過森林保護法案

資金：完全依賴個人與獨立基金會捐款，避免遭到公權力干涉

26. 詠晴從事進口貿易的生意，每個月她都會從美國進口小麥粉，從泰國購買椰糖及香料，從日本進口海鮮，從南韓購買人蔘。根據下表新臺幣與各國的匯率資料，近年來詠晴在哪個國家的進口貿易上成本會增加？(A) 美國(B) 泰國(C) 日本(D) 韓國。

	新臺幣：美元	新臺幣：泰銖	新臺幣：日圓	新臺幣：韓元
2月1日	1：0.03	1：1	1：3.2	1：30
3月1日	1：0.032	1：0.87	1：3.3	1：31
4月1日	1：0.033	1：0.73	1：3.4	1：32

27. 有些公司會在工作時間以外安排員工值班，協助接聽電話、巡邏及處理緊急事故。勞動部提醒，除了應符合工時限制外，超過正常工作時間的部分，應給付加班費，違反規定者依法可處新臺幣 2 萬至 100 萬元罰款。根據上述判斷，下列敘述何者『錯誤』？(A) 罰則規定在《勞動基本法》 (B) 違反上述的規定將會被處以罰金 (C) 相關規定是為了保障勞工的權益 (D) 業者遭罰若不服可以提請訴願。

28. 「悠遊卡」是常見的電子錢包之一，只要事先在卡片裡儲值，購物時透過感應卡片即可結帳，省去收取現金的時間和程序，使用通路廣泛，受到許多民眾的歡迎。根據上述內容判斷，下列敘述何者正確？  
 (A)悠遊卡屬於商品貨幣 (B)發行機構為中央銀行 (C)用於支付租賃契約的租金 (D)具備貨幣交易媒介的功能。

工作機會	月薪	通勤費用
甲	40000 元/月	2000 元/月
乙	★★★/月	3000 元/月
丙	39000 元/月	1500 元/月

29. 右表為羽涵將找到三份工作的薪資與通勤成本繪製的表格，其中有個地方被弄髒看不清楚，若羽涵以所得最高為依據而最後選擇乙的工作機會。根據內容判斷，下列敘述何者最適當？  
 (A)甲工作是機會成本最低的選擇 (B)乙工作機會成本的月薪應為 41000 元 (C)選擇乙工作的機會成本為甲工作 (D)選擇丙工作的機會成本與乙工作相同。

30. 冠婷茶飲料店每天製作 500 杯珍珠奶茶，每杯成本 50 元，售價 60 元，為了保持品質，當天沒賣完的珍珠奶茶會全部丟掉，右表為近日消費者對該店珍珠奶茶的需求狀況。根據表中資料判斷，下列何者正確？

日期	需求數量(杯)
3 月 7 日	500
3 月 8 日	400
3 月 9 日	550
3 月 10 日	650

- (A)3 月 8 日沒獲利且賠本 (B)總收入為 126000 元  
 (C)3 月 10 日獲利 6500 (D)總生產成本 10500 元。
31. 下表為我國兩種智慧財產權的比較，根據內容，何者正確？

- (A)甲 (B)乙 (C)丙 (D)丁。

	專利權	商標權
(甲)產物	能產生經濟價值的有形產物	不能產生經濟價值的無形產物
(乙)取得方式	完成時取得	經申請註冊後取得
(丙)立法目的	受《專利法》規範，目的在調和社會公共利益	受《商標法》規範，目的在於促進企業正常發展
(丁)作用	具有產業利用價值的發明與重要研究成果	用來區別自己與他人商品或服務的標誌

32. 就目前我國身處的國際環境及參與國際社會事務，拓展國際生存空間的說法，下列敘述何者正確？  
 (A)1971 年中華人民共和國取代我國進入聯合國後，在中國當局堅持「一邊一國」的原則下，不斷打壓我國的國際政治地位 (B)2002 年我國以「中華民國」身分成為世界貿易組織的成員 (C)2009 年我國派出代表，以「中華臺北」的名義出席世界衛生大會，分享 S A R S 的防疫過程 (D)台灣路竹會透過兒童資助計畫來改善貧困地區孩童的生活。

33. 泳沛從網站上網搜尋到中正企業的徵才訊息如下：「凡是臺灣大學應屆畢業生到本公司上班，可比其他大學畢業生月薪多 10000 元」，此訊息非常吸引他，因此他決定努力念書，日後選擇臺灣大學就讀。若從誘因理論判斷，泳沛最可能受到右表哪一類型誘因的影響？

	正向誘因	負向誘因
金錢誘因	甲	乙
非金錢誘因	丙	丁

- (A)甲 (B)乙 (C)丙 (D)丁。