

高雄市中正高中國中部 113 學年度第 2 學期國一社會科第三次月考試題

【試卷共 5 頁】

班級： 座號： 姓名：

※每題 2 分，共 50 題

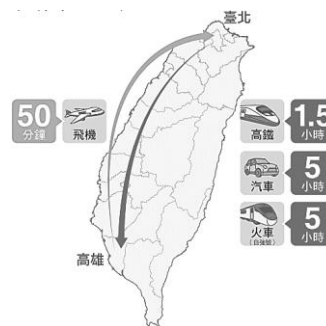
科目代碼:05 (請用 2B 鉛筆，將答案劃於答案卡上)

一、地理科(1-17 題)

城市	第一級產業	第二級產業	第三級產業
甲	50%	35%	15%
乙	45%	20%	35%
丙	15%	25%	60%
丁	30%	40%	30%

1. 右表為四個城市的三級產業人口比例，請問哪一個城市的都市化程度最高？(A)甲 (B)乙 (C)丙 (D)丁。

2. 圖(一)為臺北和高雄兩地之間的旅時變化圖，下列解釋何者最能正確傳達此圖代表的訊息？(A)都市擴張形成大型都會區 (B)鄉村人口往都市集中的過程 (C)交通便利使人口往郊區搬遷 (D)交通工具革新帶來時空收斂。



圖(二)為臺灣主要鐵路路線分布圖，請依圖回答問題：

3. 影響圖中鐵路系統呈環狀分布的主因為下列何者？(A)地形(B)氣候(C)資源 (D)人口。

4. 「阿里山鐵道是當今世界集登山鐵道(坡度超過50/1000)、高山鐵道(海拔1000公尺以上)、森林鐵道(伐木)於一身的鐵道遺產，同時也是亞洲海拔最高的窄軌登山鐵路，擁有世界最複雜的同心圓螺旋線、海拔落差最大的鐵路。」請問上述鐵道位於圖中何處？(A)甲(B)戊(C)辛(D)壬。

5. 圖中『丁』是環島鐵路中最後完成的一段，因為路線規劃穿越○○山脈，沿線須興築許多的隧道與橋樑，施工不易，整整耗時十一年才完工，請問上述○○山脈為下列何者？(A)玉山 (B)海岸 (C)中央 (D)阿里山。

6. 臺灣高鐵通車後，臺北至高雄只需要90分鐘的時間，臺灣正式帶入一日生活圈的型態。請問：若甜甜搭乘高鐵經沿線各地品嚐當地美食，其行程中『不包括』下列何者？(A)桃園大溪豆干(B)屏東萬巒豬腳(C)臺南棺材板(D)台中太陽餅

7. 臺灣的水運發展中，海運一向比河運發達，這主要與臺灣河流的哪些特徵有關？(甲)河流湍急 (乙)河流數稀少 (丙)流量變化大 (丁)河流流路曲折 (A)甲乙 (B)甲丙 (C)乙丙 (D)丙丁。

8. 日本歌手優里想要去台灣屏東墾丁玩水，她希望能搭乘直飛的航班，從日本直接前往離目的地最近的機場。請問：她應選擇到下列哪一個機場的航班最合宜？(A)臺北航空站 (B)臺灣桃園機場(C)高雄航空站(D)恆春航空站。

9. 「公路縱橫，想去哪就去哪。」「路在腳下，暢行全台！」此廣告詞與公路的哪一特性關係最密切？(A)機動性較高 (B)運輸費用較便宜 (C)行車花費時間較短 (D)載運容量較大。

10. 甜甜開車迷路了，查詢了一下手上的apple watch指北針如圖(三)，請問甜甜最可能行駛於下列哪一條道路上？

- (A)  (B)  (C)  (D) 

11. 『國道5號是連接台北與宜蘭的重要交通動脈，而穿越○○山脈的隧道則是其中最關鍵的工程之一，全長約12.9公里，是全台最長的公路隧道。這條高速公路極大縮短了北宜之間的通勤時間，讓人們能更便捷地往返東北角及宜蘭地區。請問：引文中的○○為下列何者？(A)中央 (B)雪山 (C)海岸 (D)玉山。



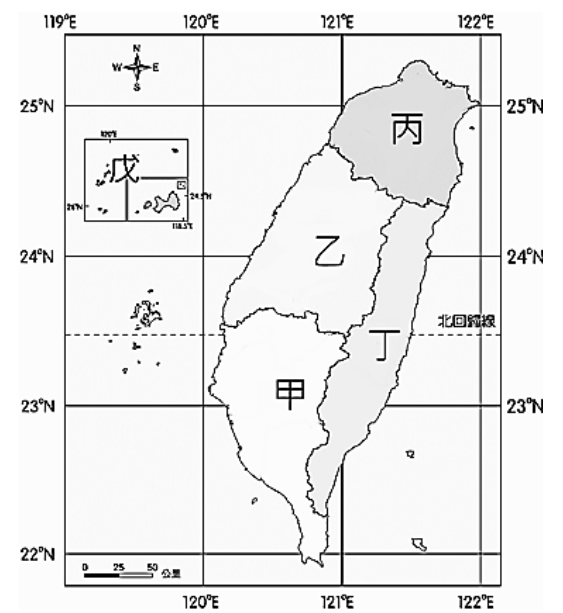
圖(二)



圖(三)

■圖(四)為臺灣區域畫分圖，請依圖回答下列問題：

12. 2025年苗栗白沙屯拱天宮媽祖進香活動於5月1日深夜登轎出發，於5月3日抵達雲林北港朝天宮進行進火儀式。今年進香吸引超過32萬名香燈腳參與，創下歷史新高，請問繞境的路線主要位於圖中的哪一個區域？(A)甲(B)乙(C)丙(D)丁。
13. 八八坑道-由堅固花崗岩鑿建的軍事坑道，曾是戰略防禦的重要據點，坑道內恆溫16-19度，濕度穩定，為高粱酒的熟成提供絕佳環境，如今則搖身一變，成為酒廠的天然酒窖。根據上述，若想窺探這個坑道的實況，應前往圖中的哪一個區域？(A)甲 (B)乙 (C)丁 (D)戊
14. 本區擁有發達的養殖漁業、稻米種植及熱帶水果產業，長期依賴外銷市場。美國近期調整關稅政策，影響冷凍吳郭魚、鬼頭刀及稻米出口。政府已啟動補助計畫，強化冷鏈設備、拓展多元市場，並與業者協商應對策略，以減少貿易衝擊。請問上述區域位於圖中哪一個區域？
(A)甲 (B)乙 (C)丙 (D)丁。
15. 此區原為臺灣的「穀倉」，近年來因中山高速公路通車，改種花卉、蔬菜等高經濟價值作物，且此區聚集眾多頂尖的精密機械製造企業，因此成為臺灣兼具科技實力與農業資源的重要經濟區域。請問此區位於圖中何處？(A)甲(B)乙(C)丙(D)丁。
16. 臺灣區域發展不均主要涉及資源分配、交通建設、產業集中化及城鄉差距等問題。請問下列哪一項計畫對於均衡區域發展較『無』顯著影響？(A)東部鐵路雙軌化，增加班次，提升鐵路運輸效率 (B)提供各地創業資源與補助，鼓勵青年留鄉 (C)各地興建核能發電廠與火力發電廠 (D)擴大推動遠距醫療，改善偏鄉醫療資源
17. 『臺灣的國家公園風景佳，一直是國內外遊客熱愛的旅遊勝地，根據交通部觀光署最新數據，唯一同時擁有死火山地形、硫磺氣孔和溫泉自然景觀的，以超過450萬的造訪人次，力壓其他知名國家公園，成為臺灣最受歡迎的國家公園景點』，請問引文中的為下列何者？ (A)陽明山 (B)澎湖南方四島 (C)太魯閣 (D)墾丁 國家公園。



圖(四)

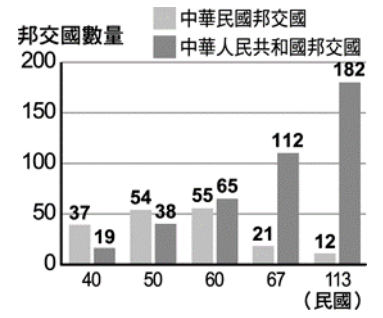
二、歷史科(18-34題)

18. 臺灣在光復初期，在台灣農民人口中，自耕農只占約33%，其餘都是佃農。但十年後，台灣自耕農的比例，由原本的33%提升到58%，在耕地面積比例上，耕地屬於自耕農所有的比例也提高到84.8%，佃租地只占15.2%。請問：自耕農比例提高與政府推動的哪一政策有關？(A)進口替代 (B)出口導向 (C)產業升級 (D)土地改革。
19. 戰後臺灣政府以「適當的時機，適當的政策」建立臺灣經濟發展成功的經驗，成為許多開發中國家研究與學習的對象。請問：民國40年代，臺灣的經濟發展策略為何？(A)產業升級，全力發展資訊電子產業 (B)提升農產量，發展輕工業，並減少相關產品進口 (C)設置加工出口區，吸引外商投資 (D)加強基礎建設，帶動重化工業發展。
20. 臺灣作家黃春明的第一本短篇小說集《兒子的大玩偶》是民國60年代臺灣鄉土文學風潮中之代表作，後來更被翻拍成電影。請問：當時的鄉土文學作品主要內容大多為何？(A)關注農民、勞工等小人物的遭遇 (B)關懷祖國大陸的思鄉情懷 (C)關懷教育文化、校園安全的推動 (D)凝聚反共愛國思想的民族意識。
21. 承上題，鄉土文學的興起與當時的哪一時代背景有關？(A)內政與外交面臨嚴厲挑戰 (B)白色恐怖造成人人自危 (C)清除日本文化，提倡中華文化 (D)原住民正名運動的蓬勃發展。
22. 民國50年代，臺灣較其他發展中國家搶先一步吸引外資到臺灣投資設廠，為臺灣經濟發展帶來榮景。請問：此與政府推動哪一項政策有關？(A)高速公路便捷的交通 (B)新竹科學工業園區的成立 (C)實施耕者有其田 (D)加工出口區的設置。
23. 《山豬·飛鼠·撒可努》一書是教育部指定國中必讀課外優良讀物，「撒可努」就是作者亞榮隆·撒可努(Sakinu Yalonglong)的名字，他是排灣族原住民，但自他出生起，有一段時間，他的身分證上只能寫著漢人名字「戴志強」。請問：臺灣原住民族過去有一段頗長的時間被迫放棄自己的原住民名字，只能使用漢

名，應是從何時開始的現象？(A)民國 20 年代-30 年代開始 (B)民國 30-40 年代開始 (C)民國 50-60 年代開始 (D)民國 60-70 年代開始。

24. 以下是戰後臺灣的重要歷史事件，如果依照發生的時間順序排列，下列何者正確？(甲)韓戰爆發，美國派第七艦隊協防臺灣；(乙)國軍的清鄉行動，造成人民嚴重死傷；(丙)八二三炮戰，兩岸情勢緊張；(丁)開放人民前往中國大陸探親 (A)甲丙乙丁 (B)甲乙丁丙 (C)乙甲丙丁 (D)乙甲丁丙。

25. 右圖為我國邦交國變化圖。造成我國邦交國數目開始少於中華人民共和國邦交國數目的主要關鍵原因為何？(A)中共宣布要以武力解放臺灣 (B)我國退出聯合國 (C)中共與美國建交 (D)中華人民共和國採取金錢外交，援助許多非洲國家。



26. 蔣經國總統曾在某聲明中提及：『中華民國不論在任何情況下絕對不與中共政權交涉，並且絕對不放棄光復大陸與解救同胞的神聖任務，這個立場絕不會變更。』此立場在國民黨中常會中，更進一步發展成為『不接觸、不談判、不妥協』的「三不政策。」請問：這是為了因應何種變局所作出的政策回應？(A)中國武力解放臺灣的宣示 (B)中國成立海協會 (C)中國改採和平統戰 (D)中國加入聯合國。

27. 下列哪一件事情在發生的時間順序上會是最晚？(A)品叡跟同學前往美國大使館蛋洗美國大使座車，抗議美國與中華民國斷交 (B)長峰在國民政府空軍服役，因戰敗撤退來台，被安排在三重空軍一村重建家園 (C)輝英跟太太參加了「反核四運動」，上街頭示威抗議 (D)本來是沒有自有耕地的志民，參加了「公地放領」政策，獲得自耕農的身份。

28. 美國在民國在 40、50 年代曾提供臺灣許多軍事、經濟援助。這是因為哪一場戰爭爆發所導致的結果？(A)韓戰 (B)古寧頭戰役 (C)越戰 (D)八二三炮戰。

29. 中華民國政府曾與美國簽訂《中美共同防禦條約》，目的在透過加強兩國合作集體防禦以維護西太平洋區域安全。請問：此條約於何時終止？(A)民國 43 年 (B)民國 60 年 (C)民國 68 年 (D)民國 76 年。

30. 以下關於『一國兩制』的說法，何者正確？(A)「一國兩制統一中國」的政治標語出現在兩岸處於武力對抗時期 (B)臺灣對於一國兩制採取可以協商的態度 (C)中共將一國兩制實踐於在香港、澳門等地區 (D)中共因推動一國兩制，放棄以武力解放臺灣的可能。

31. 歷史老師在課堂上請同學比較臺灣對外關係發展兩階段「彈性外交」與「務實外交」的差異，哪一位同學的說法是正確的？(A)彈性外交時期臺灣仍是聯合國的會員國 (B)彈性外交時期開始於臺灣與美國斷交時 (C)務實外交時期我國不再堅持中華民國是唯一代表中國的合法政權 (D)務實外交時期開始於蔣經國擔任總統時。

32. 晴雅去金門旅遊，聽導遊說起金門的歷史，回家後做了旅遊筆記，請問：晴雅的筆記有何處需要修改？(A)八二三炮戰時，金門飽受中共炸彈襲擊 (B)兩岸小三通時期，金門是率先開放的據點 (C)古寧頭戰役戰場也是金門觀光景點之一 (D)金門在兩岸交流時期才終於不再受到中共炮彈攻擊。

33. 以下是一則 2024 年 2 月在台灣電視台播放的新聞報導：「一艘中國快艇在金門海域翻覆，造成兩人死亡。○○在事件發生後，立即與對岸□□□聯繫，並協助處理大陸船員家屬來台事宜。然而□□□未對○○○的函件作出正式回應…」請問：上文中的○○○與□□□應該分別代表什麼？(A)陸委會、國臺辦 (B)國臺辦、陸委會 (C)海協會、海基會 (D)海基會、海協會。

34. 近年來，台海局勢持續受到國際關注。2024 年底，美國國會再次強調對台安全承諾，表示將依循一項自 1979 年以來就存在的法律，持續協助台灣維持自我防衛能力。請問：上文中提到的法律應是 (A)臺灣關係法 (B)動員戡亂時期臨時條款 (C)反分裂國家法 (D)臺美關係法。

三、公民科(35-50 題)

35. 盈盈從新聞報導看到以下內容：「2021 年塔利班組織攻陷阿富汗首都喀布爾，正式對阿富汗國家事務全面掌權，並宣布大學『暫時禁止』女學生進入，除了受教權被剝奪，阿富汗女性還被要求在公眾場合必須穿上從頭覆蓋到腳趾的罩袍，不能在沒有男性監護人的陪伴下獨自登機，不被允許從事絕大部分職業。」此報導想傳達的內容最符合下列何者？(A)塔利班組織致力於維護女性的人性尊嚴 (B)阿富汗家庭的保護照顧以及教育功能不彰 (C)塔利班組織具有志願結社的民間性特徵 (D)該地區的性別歧視使女性面臨不公平處境。

*附表是理想國在四個地區關於人口與醫療資源的資料：請回答 36~38 題

地區	幼年人口比例 (%)	老年人口比例 (%)	醫院數 (間)	醫師人數 (人)	平均每位醫師負擔人數 (人)
甲	16.34	20.71	40	5,196	277.36
乙	11.93	15.74	33	2,015	772.51
丙	13.31	18.62	7	930	978.05
丁	12.75	16.43	16	838	467.76

36. 請從上述表格中，判斷醫療資源是否充足，下列哪一選項是正確的？(A)每一地區設立醫院間數愈多，表示醫療資源愈缺少 (B)每一地區醫師人數愈多，表示醫療資源愈充足 (C)平均每位醫師負擔人數愈少，表示醫療資源愈充足 (D)每一地區老年人口比例愈高，表示醫療資源愈缺少。

37. 根據表中資料判斷，關於甲、乙、丙、丁四個地區的醫療資源，下列何者推論最合理？(A)甲地區因為幼年人口比例高所以醫療資源最缺乏 (B)乙地區老年人口比例最低的地區醫療資源最充足 (C)丁地區最容易出現醫師不足的問題 (D)丙地區的醫療資源最為不足。

38. 生活於醫療資源缺乏地區的居民，可能在需要醫療協助時無法得到妥善的醫療照護，甚至因無法即時取得資源而面臨生命危險。面對此情況，社會應如何追求公平正義？(A)在每一地區配置相同數量的醫護人數與醫院數，以達到公平 (B)補足醫療資源缺乏地區的醫護人數與醫院數，降低醫療負擔 (C)集中所有先進設備在醫療資源充足區，使該區發展醫療專業 (D)重視弱勢群體的需求，將資源全集中於醫療資源缺乏的地區。

*我所說的「一樣」，是不論任何地區，學生都一樣有熱騰騰的營養午餐可吃、有一樣高水準的教科書可讀、有一樣基本素質優良的教師、有相同的教學理念被完整執行，以及充足的課外讀物鼓舞著學生的心靈。(作家陳之華在〈芬蘭教育：競爭力從何而來？〉) 請回答 39-40 題

39. 上文中的觀點，最符合下列哪個選項的敘述？(A)每個人都有公平取得地位或資源的機會 (B)每個人都享有基本的自由 (C)對需要幫助的人給予不同的生活照顧 (D)為了整體利益犧牲少數人的權利。

40. 下列哪一個實例，最符合這個觀點？(A)我國實施國民義務教育 (B)圖書館新增有聲書或點字書資源 (C)《兒童權利公約》規定兒童權利應受到保障 (D)設置孕婦、育有六歲以下兒童者之停車位。

41. 2019 年 5 月日本德仁天皇即位，出席各種國內外的重要場合，參與主持國家榮典儀式。請問天皇是透過何種方式獲得該社會地位？(A)與生俱來或傳承而來 (B)後天努力 (C)職業聲望 (D)透過教育。

42. 「西元 2021 年是臺灣教育史上頭一遭，學校停課超過 6 週，而且直接停課到暑假。華視採訪團隊前進到桃園市復興區(山地原住民區)的巴陵國小，發現遠距教學背後，山上孩子上課的地點，有人竟然是在果園裡，也有人得追著微弱的訊號到處移動，學習環境非常克難。」請問上述報導呈現出哪一種不公平現象？(A)貧富差距 (B)性別歧視 (C)族群議題 (D)城鄉差距。

43. 家佳的媽媽今年 41 歲，自結婚後就選擇待在家裡當家庭主婦，她每天處理各種家務，忙得團團轉，總覺得時間不夠用。家佳的媽媽適用下列哪一種社會保險？(A)國民年金保險 (B)農民保險 (C)勞工保險 (D)公教人員保險。

*映雪為 921 大地震受災戶，老公已因病去世，她獨自帶著 3 歲的女兒小玉及 5 歲領有中度身心障礙手冊的兒子大偉過活，名下沒有房產，領有低收入戶補助，目前申請社會住宅中。因沒有一技之長，只能打零工維持生計。請問：

44. 映雪一家有幾人可以享有社會福利措施？(A)四人 (B)三人 (C)二人 (D)一人。

45. 映雪決定先接受職業訓練再找工作，於是到就業服務站諮詢相關課程。職業訓練是哪一項社會福利措施的內容？(A)醫療保健 (B)社會住宅 (C)社會津貼 (D)國民就業。

46. 大偉有中度身心障礙手冊每個月可以領取身心障礙生活補助。身心障礙生活補助是哪一項社會福利措施的內容？(A)社會保險 (B)福利服務 (C)社會津貼 (D)社會救助。

47. 921 大地震，政府針對災民發放慰問金，並協助災區重建。上述政府的措施屬於哪一項社會福利制度？(A)社會保險 (B)社會津貼 (C)福利服務 (D)社會救助。

48. 流感季節到了，映雪帶著小玉至衛生所施打免費疫苗。嬰幼兒免費接種疫苗屬於哪一項社會福利措施？

(A)社會保險 (B)福利服務 (C)醫療保健 (D) 社會救助。

49. 映雪找到工作後，使用政府提供的兒童托育服務，不用擔心小玉及大偉的照顧問題。兒童托育服務屬於哪一項社會福利措施？ (A)社會保險 (B)福利服務 (C)社會救助 (D)醫療保健。

50. 二十年後，映雪成為有十家連鎖早餐店的負責人，並獲選當年度該縣十大創業楷模。由地震受戶搖身變為創業楷模，請問映雪的經歷，屬於下列哪一種現象？ (A)社會角色 (B)社會地位 (C)社會流動 (D)社會階級。

~~ 試題結束 ~~

請同學再次檢查：

1. 答案卡上的基本資料是否填寫完整

2. 答案除了用 2B 鉛筆劃記於答案卡外，記得也要抄寫至試題卷上！

(答案卡批改完畢不發回)