

高雄市中正高中國中部 113 學年度第 2 學期國一社會科第二次月考試題

【試卷共 4 頁】

班級： 座號： 姓名：

※每題 2 分，共 50 題

科目代碼:05 (請用 2B 鉛筆，將答案劃於答案卡上)

一、地理科(1-17 題)

1. 產業結構比例是觀察一個地區經濟發展的關鍵指標。右表為四個國家人民從事各級產業比例圖，請依表中資料判斷，哪一個國家經濟的發展程度最高？

城市	第一級產業	第二級產業	第三級產業
甲	50%	35%	15%
乙	45%	20%	35%
丙	15%	25%	60%
丁	30%	40%	30%

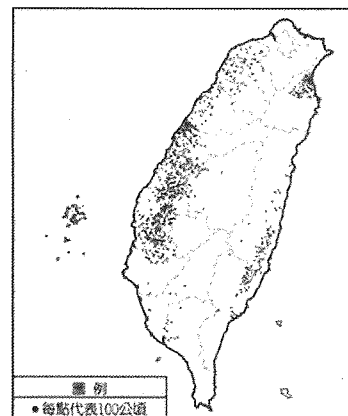
(A)甲 (B)乙 (C)丙 (D)丁。

2. 『2024年美國從台灣進口的貿易額為409.68億美元，出口至台灣的貿易額為169.61億美元，呈現大量的逆差，美國總統川普上任後，為減少逆差，實施對台灣大部分產品課徵32%的對等關稅…』上述引文中的『呈現大量的逆差』是指美國對台灣的貿易狀況為下列何者？(A)出口值>進口值，稱為出超 (B)出口值>進口值，稱為入超 (C)進口值>出口值，稱為出超 (D)進口值>出口值，稱為入超。

3. 臺灣以「水果王國」名揚四海，溫帶水果如拉拉山水蜜桃、梨山蘋果，與熱帶水果台南玉井芒果、台東釋迦相輝映，各類水果清甜濃郁，呈現豐富多元的風味，展現農業的驕傲與魅力。請問台灣有此美名的主要原因是(A)國內市場廣大 (B)集約度高 (C)生產成本低 (D)地形氣候多樣。

4. 「寬植到臺灣西南部海岸散步，旅途中行經某地，看見方形或矩形魚塭，沿著公路延伸，形成一片片規整的水域，打水車不斷運轉，發出啪嗒啪嗒的聲響。周圍的濕地草叢中，偶爾可以看到鳥群棲息，增添了生態的豐富性。」根據上文描述的景觀，寬植最可能是途經何種漁業活動區域？(A)沿岸漁業 (B)近海漁業 (C)養殖漁業 (D)遠洋漁業。

5. 圖(一)是臺灣早期某種主要農作的分布圖。請問：針對此作物的敘述，下列何者最正確？(A)屬於經濟作物 (B)以南投縣栽種的比例最高 (C)尚未受到國際農產品進口的影響 (D)適合栽種於地勢平坦的區域。



圖(一)

6. 下表為某工廠設於甲、乙二地的成本分析，該工廠老闆根據此分析結果，決定將工廠設於乙地，以減少支出。若僅由表中資料判斷，下列何項區位要素是其設廠最主要的考量？(A)原料 (B)市場 (C)勞工 (D)動力

成本地點	原料運輸	勞工	動力	產品運輸	其他
甲地	500	200	100	200	50
乙地	200	180	120	300	30

單位：萬元

7. 金明到高雄科工館進行校外教學，回程時老師交代作業必須整理台灣工業發展的歷史，其中金明蒐集的資料有：(甲)成衣工業 (乙)鋼鐵工業 (丙)資訊半導體工業 (丁)鳳梨罐頭食品工業，若依民國 40 年~民國 70 年順序排列，下列何者最正確？(A)甲乙丙丁 (B)乙甲丁丙 (C)丁甲乙丙 (D)丙丁甲乙。

8. 臺灣早期農民耕作，每日天未亮便開始勞動，頂著烈日或忍受風雨，四季也得依著節氣進行農事活動，如春種、夏耘、秋收、冬藏，務農者付出了大量體力與時間，期望利提高每一小片耕地的產量，養活一家人；請問以上描述是形容臺灣農業經營的哪一種特色？(A)經營集約度高 (B)農業技術先進 (C)作物種類繁多 (D)農產品商品化。

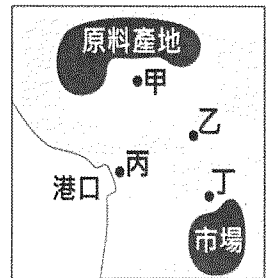
9. 以 iPhone 為例，螢幕出自南韓、記憶體和鏡頭出自日本、處理器出自台灣、電池和機框出自中國，組裝作業有 8 成在中國，印度負責 10%至 15%，其餘則由越南和其他國家分擔。請問：其中有關 iPhone 組裝作業的描述，最主要是基於下列何項種考量？(A)節省運送費用 (B)減少能源消耗 (C)考量勞力成本 (D)較靠近原料產地。

【※續下頁】

10. 經營咖啡廳的浩安參加了高中的同學會，大家聊起了彼此的職業，小延在電玩公司擔任工程師、小凡是位電視台記者，小喬是宅配外送員，小潔則種植有機蔬菜。請問：上述有幾個人是從事第二級產業活動？(A)1個 (B)2個 (C)3個 (D)4個。
11. 每年4月至6月份，正值黑鮪魚的產卵期，魚群隨著 而來，漁民都會前往東部海域捕捉黑鮪魚。今年第一尾公黑鮪於4月6日，在北緯20度，東經122度的海域捕獲，2025年屏東黑鮪魚季正式拉開序幕，請問，引文中 為下列何者？(A)黑潮洋流 (B)中國沿岸流
12. 表(一)為臺灣四家企業為了提升競爭力而採行的方法，其中何者主要是為了達到增加產品附加價值的目的？(A)甲 (B)乙 (C)丙 (D)丁
13. 台塑、中鋼的煉油廠址分別鄰近麥寮港及高雄港，其主要考量的工業區位為何？(A)政策 (B)勞工 (C)交通 (D)原料。
14. 「新竹科學園區設立後，加速了高科技產業的發展，對臺灣的工業發展影響深遠。請問，有關該產業特色的敘述，下列何者錯誤？(A)資本密集度高 (B)產品利潤較高 (C)技術密集度高 (D)勞力密集度高
15. 「臺灣由於礦產不豐，遂從各國進口原料，將之製成產品後輸往世界各地。」由上述可知，下列哪一項是臺灣經濟發展的命脈？(A)低廉勞工(B)國際貿易(C)廣大國內市場(C)雄厚資本。
16. 臺灣重要的經濟作物性喜暖濕，當雲霧繚繞時，空氣濕度高，有利於該作物生長，因此臺灣的多種植於排水良好的丘陵地。請問：上文中應填入何者最適合？(A)水稻 (B)甘蔗 (C)棉花 (D)茶樹。
17. 金明大學畢業後，決定回鄉接手家族事業，經過多方考量與計算，發現在圖(二)丁區開設這類型工廠能節省最大的成本。據上文推論，金明回鄉接手的工業類型最可能是下列何者？(A)鋼鐵工廠 (B)玻璃工廠 (C)煉鋁工廠 (D)大理石建材工廠。

表(一)

企業	採行方法
甲	製鞋廠將生產基地轉移至印尼
乙	毛巾工廠將毛巾做成蛋糕造型
丙	水泥廠將工廠遷至花蓮和平鄉
丁	鐘錶廠從東南亞引進大量外籍勞工




圖(二)

二、歷史科(18-34題)

18. 下列哪些組織或運動是林獻堂與蔣渭水共同參與的？(甲)臺灣地方自治聯盟 (乙)臺灣文化協會 (丙)臺灣議會設置請願運動 (丁)臺灣民眾黨 (A)甲乙 (B)乙丙 (C)丙丁 (D)乙丁。
19. 雷震是臺灣史上自由民主言論與民主運動的代表性人物之一。他於1949年隨中華民國政府來臺，創辦雜誌，並曾擔任國策顧問，但後來卻因罪入獄十年。請問：以下關於雷震的敘述，何者正確？(A)他創辦的雜誌為《臺灣民報》 (B)他曾籌組《自由民主黨》 (C)他在雜誌中勇於批評政府弊端 (D)在美麗島事件中遭受波及被逮捕入獄。
20. 1920年代，臺灣政治社會運動積極展開，主要是受到哪一場戰爭後民族自決思潮盛行的影響？(A)甲午戰爭 (B)第一次世界大戰 (C)第二次世界大戰 (D)中日戰爭。
21. 陳澄波是臺灣早期留學日本學習西洋畫(油畫)的代表之一，他赴日就讀東京美術學校，其畫作「嘉義街外」於1926年入選日本第七屆「帝國美術展覽會」，成為臺灣以西洋畫(油畫)入選該展覽的第一人。但他在臺灣光復後卻因某事件的發生，最終被政府槍決於嘉義火車站前，享年僅52歲，是臺灣藝壇的一大損失。請問：上文中的某事件應是？(A)美麗島事件 (B)白色恐怖 (C)二二八事件 (D)國共內戰。
22. 承上題，日治時期很多臺灣的青年學子和陳澄波一樣選擇赴日求學，其主要原因為何？(A)台灣高等教育就學機會較為不足 (B)留日有助於取得日本國籍 (C)日本推動同化政策，鼓勵臺灣人赴日求學 (D)有留日背景者，回台求職較為容易。
23. 義務教育一直是臺灣人力培育的重要管道，尤其國民的基本知識與公民素養，更需在義務教育階段加以培育，以使國家社會能持續不斷地發展與進步。請問：臺灣最早實施義務教育是在何時？(A)1895年 (B)1937年 (C)1943年 (D)1968年。

【※續下頁】

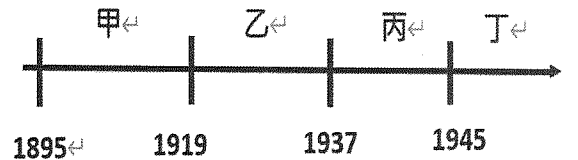


24. 右圖是關於臺灣史上第一次選舉活動的報導，報導中蔡式毅以最高票1245票當選，他是第一位通過日本律師考試的臺籍人士，後轉投入政治活動。請問：關於此次選舉，下列敘述何者正確？(A)這次選舉活動是由林獻堂等人籌組的臺灣文化協會爭取而來 (B)這是臺灣議會設置請願運動的具體成果 (C)這次選舉採取半數民選，半數官派，選民有資格限制 (D)這類選舉活動，後因國內推動戒嚴而不再舉行。

25. 日治時期，臺灣流傳著「第一愁，種甘蔗乎會社磅；第二愁，吃菸吹風；第三愁，選舉運動」的俗諺，其中「吃菸吹風」是指吸食鴉片。請問：日治時期臺灣總督府如何處理鴉片問題？(A)將吸食鴉片是為三大陋習之一，即刻全面禁止販售 (B)採取漸禁政策，將鴉片列為專賣，吸食者需有許可證才可購買 (C)百姓可以自由買賣鴉片 (D)只准許鴉片作為醫療用途。

26. 阿信於公學校以優異成績畢業，如果阿信要繼續升學，日本方面不會鼓勵阿信唸哪一種學校？(A)普通中學 (B)農林工商學校 (C)醫學校 (D)師範學校。

27. 某位記者報導米荒現象：「臺灣上半年產米量是6,200萬石，現在人口670萬，最多消費也不會超過6,000萬石。因此，米糧生產不虞匱乏，主要是因為有人走私轉賣，導致米價在半個月間，由每斤12~14元暴漲至30元。」請問：該篇報導刊登的時間可能是右圖中哪一段時間？(A)甲 (B)乙 (C)丙 (D)丁。



28. 右圖是「美麗島事件」時的審判長與時任《美麗島》雜誌總經理施明德之間的對話。請問：施明德所提出的開放黨禁、報禁並廢除戒嚴令等訴求，最後在哪位總統的改革下終於完成？(A)蔣中正 (B)蔣經國 (C)李登輝 (D)陳水扁。

審判長：當初你們五人一起討論要辦雜誌嗎？
施：辦雜誌是其中一項。
審判長：目的是什麼？
施：我們辦雜誌的目的是要求政府改善人民生活狀況及民主政治等問題。其中包括黨禁、報禁、戒嚴令及「萬年國會」。

29. 1990年3月臺灣大專生發起三月學運，又稱為野百合學運，以野百合命名，取其為臺灣固有種，並有堅毅不拔的草根性。請問：這個運動的訴求應為下列何者？(A)為二二八事件平反 (B)要求解嚴 (C)要求廢除黨禁報禁 (D)廢除《動員戡亂時期臨時條款》。

30. 日治時期引進星期制，使臺灣民眾開始習慣利用假日出遊踏青。秀雄和玉枝是一對情侶，常利用假日出門約會，玉枝有寫日記的習慣，下列哪一項敘述不可能出現在她的日記裡？(A)一起到二二八和平公園散步，那裡的景致很美 (B)秀雄到菊元百貨買了一件洋裝給我，好開心 (C)今天到臺灣總督府博物館看展覽，非常充實的一天 (D)走累了，就到附近的咖啡廳喝咖啡、吃蛋糕。

31. 據說白色恐怖的時代，情治、特務系統無孔不入，很多人因為特定的言論和行為，受到情治單位迫害。請問：這種情形的發生最有可能是在哪一事件發生之後？(A)宣布戒嚴以後 (B)宣布解嚴之後 (C)美麗島事件 (D)野百合學運。

32. 下列歷史事件依序分別發生在哪一個總統任內？(甲)民主進步黨成立、美麗島事件發生 (乙)中央民代全面改選、首任由臺灣民眾直選的總統 (丙)首次政黨輪替。(A)蔣中正、陳水扁、李登輝 (B)蔣經國、李登輝、馬英九 (C)蔣經國、李登輝、陳水扁 (D)蔣中正、蔣經國、李登輝。

33. 臺灣社會在某個時代，無論是政府機關、學校、或工廠，經常貼有舉報匪諜、人人有責或小心！匪諜就在你身邊的標語。請問：這種現象最早出現在哪個年代？(A)1930年代 (B)1950年代 (C)1960年代 (D)1970年代。

34. 多惠參加學校戶外教學活動，參觀了一所高中，這所高中的前身是日治時期第一所由臺籍人士爭取創辦專門招收臺灣人子弟的中學校，請問：多惠參訪學校應該是位於 (A)台北市 (B)台南市 (C)高雄市 (D)台中市。

三、公民科(35-50題)

35. 人一出生就生活在團體裡。下列哪些是一般「青少年」常會接觸的團體？(甲)家庭(乙)班級(丙)政黨(丁)社區 (A)甲乙丙 (B)甲乙丁 (C)乙丙丁 (D)以上皆是。

【※續下頁】

36. 結社自由是我國人民享有的權利，下列哪一位的敘述與志願結社有關？(甲)大宇：人民基於自由意願加入團體 (乙)明德：大姐大學畢業後到民間企業上班 (丙)大林：張穆庭創立政黨名為「民生黨」 (丁)小佳：我爸爸加入「綠黨」。(A)甲乙丙 (B)甲丙丁 (C)甲乙丁 (D)以上皆是。
37. 庭好將今天的報告做成以下摘要，該報告的主題最有可能為下列何者？「◎參加管樂隊活動很多，也可認識不同班級的同學 ◎在學校裡除了學習知識，也能學習人際互動的技巧」 (A)言論自由的保障 (B)社會秩序的維護 (C)參與團體的益處 (D)活動方式可以影響政府決策。
38. 下列何者不屬於團體？ (A)學校管樂隊 (B)電影院看電影的民眾 (C)社區守望相助隊 (D)家扶基金會。
39. 家明想為社會貢獻一份心力，希望藉由參與團體成為志工從事公益活動。請問：家明應該參加下列哪一個團體才能達成這個目標？ (A)中正校友會 (B)中正排球隊 (C)世界展望會 (D)台灣民眾黨。
40. 余翔是國內某連鎖餐飲業廚師，他覺得公司福利不佳，工時太長，想要爭取改善，那麼他參加下列哪一種團體，最能達成上述目的？ (A)政黨 (B)工會 (C)公益團體 (D)公司聯誼會。
- *快樂市政府網站上出現一則公開貼文，內容如下：「有快樂市民眾提議，快樂市政府應取消贈送免費小燈籠，以保護環境並節省公帑，但也有民眾持反對意見。本府擬擇日辦理網路投票，由快樂市民進行投票做最終決定。」
41. 市府免費贈送小燈籠，花費高達數千萬，政府決定在網路上讓市民就是否繼續免費贈送進行投票。這是公共意見具有何種特性？ (A)差異性(B)影響性 (C)公開性(D)變動性。
42. 民眾分為兩派，有人贊成取消，有人反對取消。這是公共意見具有何種特性？ (A)差異性 (B)影響性 (C)公開性 (D)變動性。
43. 快樂市政府最終將民眾的投票結果，作為續辦與否的主要依據。這是公共意見具有何種特性？ (A)差異性(B)影響性 (C)公開性 (D)變動性。
44. 環保團體號召民眾一起上街抗議，要求政府停用燃煤電廠，避免破壞空氣品質。關於上述民眾表達意見的方式，下列說明何者正確？ (A)是表達公共意見經常使用的方式之一 (B)必須團體成員全部出動才有效力 (C)必須由民意代表代為提出 (D)這種表達方式對政府決策毫無影響。
45. 2024年《天下》雜誌縣市長施政滿意度結果出爐。民調的結果公布後，引起廣泛的討論，也讓民調落後的首長有所警惕。請問：《天下雜誌》此舉主要是在發揮傳播媒體的何種功能？ (A)傳承文化 (B)教育民眾 (C)監督政府 (D)增進公益。
46. 公民課上，四位同學談論自己平常使用媒體的習慣。請問：誰的媒體識讀能力最需要加強？ (A)錦年：在確認資訊真實性前，我不會任意轉傳消息 (B)祈安：若對新聞內容有疑惑，我會去請教領域專家 (C)安平：我會關注不同立場的報紙如何報導同一事件 (D)俊傑：我向來只看新聞標題不看內文，以節省時間
47. 在資訊爆炸的時代，若想避免受到假訊息的影響，請問：閱聽人哪個作法最恰當？ (A)培養媒體識讀能力 (B)新聞自由不容限制，不需政府立法規範 (C)報紙刊登的新聞不是假訊息 (D)拒看所有新聞頻道。
48. 每當選舉的時候，很多候選人飽受媒體醜化與攻造謠抹黑的訊息洗腦了無數群眾。下列何者可以作為判斷媒體訊息真假的參考？(甲)查看訊息來源與出處(乙)查核作者的信譽(丙)了解作者的背景與經歷(丁)認識媒體的政治立場 (A)甲乙丁 (B)甲丙丁 (C)乙丙丁 (D)甲乙丙丁。
49. 目前在 PPT、Dcard 上常見鄉民(指 PPT 網路論壇使用者) 在 PO 文的下方寫著「禁止記者抄襲報導」，甚至有網友會挑釁寫著「記者快來抄啊，就怕你不敢抄。」凸顯出網友高度抗拒記者從網路找新聞素材，有人笑稱當今媒體就是「三器新聞」—網路瀏覽器、行車紀錄器、街頭監視器所組成的新聞，這樣的三器新聞最為人詬病之處，應該是下列何者？(A)公共意見將逐漸消失不見 (B)降低政府審查媒體的成本 (C)積極迎合廣告主的偏好 (D)削減新聞媒體的專業性。
50. 媒體如果未善盡查證責任，報導不實新聞，依據我國法律，可以由哪個單位開罰？ (A)行政院法務部 (B) 臺灣事實查核中心 (C)各縣市新聞局 (D)國家通訊傳播委員會。

~~ 試題結束 ~~※請同學再次檢查答案卡上的基本資料是否填寫正確