

※每題 2 分，共 50 題

科目代碼:05 (請用 2B 鉛筆，將答案劃於答案卡上)

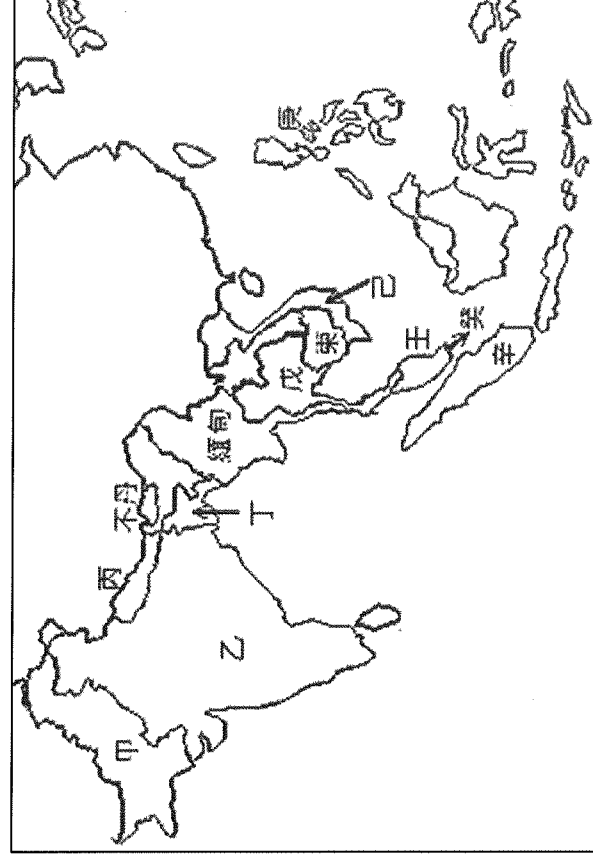
一、地理科(1-17 題)

■ 圖(一)為東南亞與南亞行政區圖，請依圖回答 1-3 題：

01. 『這個國家處在太平洋火環地震帶上，耶誕節前夕遭遇超級颶風萊伊侵襲，摧毀了許多教堂的屋頂並切斷了電力供應，但天主教徒仍然毫不間斷地在燭光下參加傳統的聖誕節前黎明彌撒…』，請問，這個國家位於圖中何處？(A)甲 (B)乙 (C)庚 (D)壬。

02. 『2025 年的大壺節，從 1 月 13 日起一路延續至 2 月 26 日，已吸引超過 5 億人參與，在神聖沐浴日中，民眾可看見全身塗灰的印度教徒們手持三叉戟、劍、矛等工具，一邊唱歌、擊鼓，一邊高喊著讚美印度教神靈濕婆的口號，緩慢走入聖河交匯處，其壯觀程度甚至可從太空中清楚看見…』，請問，這個景象最可能出現在圖中哪個國家？(A)甲 (B)乙 (C)戊 (D)癸。

03. 『某國境內多山，稻米沿河岸和山坡梯田分布；這些梯田全是勤勞的農民，千百年來靠著雙手，一代一代辛勤築造而成。除了稻作之外，山坡地盡是大片的橡膠園和咖啡園，全國伊斯蘭教寺廟林立，人種及語言多采多姿。…』上述國家應位於圖中何處？(A)甲 (B)乙 (C)戊 (D)己。



圖(一)

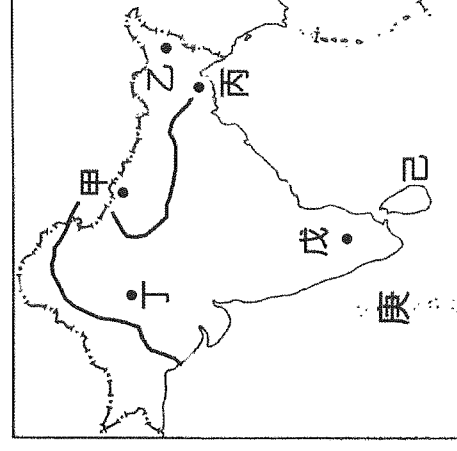
04. 若旅途中不想被豪雨及酷熱的溫度影響，破壞遊興，破壞遊興，她應選擇哪一個月份前往較舒適？(A)4 月 (B)7 月 (C)9 月 (D)12 月。

05. 旅途開始第一站，阿花想從台灣直飛圖中『戊』區，拜訪在『印度矽谷』工作的朋友拉爾 (Lal)，請問她購買的航班目的地應該是下列哪一個城市？(A)邦加羅爾 (B)新德里 (C)曼谷 (D)雅加達。

■ 阿花計畫前往印度半島旅遊，她將旅遊區域標示於地圖上(圖二)


請回答第 4-10 題：

06. 她在網路看到圖(三)的照片，此處為世界最潮濕的地方，有『世界雨極』之稱，山區原住民將樹根引導過河，紮根在對岸，形成橋梁，雖然需歷時 10 到 15 年才能成形，卻非常耐用，隨著樹根愈長愈壯，橋體也會愈變愈大，甚至可承受 50 人在上面行走，堪稱是工程奇觀，請問，她想探訪此奇觀，應該到圖(二)中何處？(A)甲 (B)乙 (C)丁 (D)戊。



圖(二)

07. 若想體驗騎駱駝在沙漠中行進，晚上夜宿沙漠，請問，圖(二)中何處是她最佳的旅遊地點？(A)丙 (B)戊 (C)丁 (D)己



印度乞拉朋吉-樹橋

圖(三)

08. 她若到圖中「己」小島，可品嚐到當地哪種聞名全球的物產？(A)甘蔗 (B)可可 (C)咖啡 (D)茶

09. 如果從戊→丙→甲，她依序會經過哪三種地形主體？(A)高原-平原-高山 (B)平原-高原-高山 (C)高山-平原-高原 (D)高山-高原-平原。
10. 圖(二)中某一站，因為地勢低窪，每逢豪雨必發生洪患，2002年而塑膠袋堵塞排水系統，使得洪水災情更加慘重，於是政府下令禁用塑膠袋，現今當地人完全不使用塑膠袋，而是使用當地盛產的天然纖維-黃麻所製的購物袋，請問，此一站最可能位於圖(二)中何處？(A)甲(B)丙(C)丁 (D)戊。

■ 根據國際自然保育聯盟 (IUCN) 指出，紅毛猩猩屬極瀕危動物，牠們大多棲息在熱帶雨林地區的樹上，近日，東南亞某國政府宣布了一項新計劃，將其國寶紅毛猩猩作為一種外交手段，向購買其棕櫚油的國家贈送紅毛猩猩，以展示對生物多樣性的承諾，不過，這項計劃卻引起了環保組織的嚴厲批評，批評指出，此產業為了種植油棕，原本的雨林被大量砍伐，導致紅毛猩猩棲息地破壞，這對其生存造成了嚴重威脅... 請依上文，回答11-14題：

11. 上文中的某國政府最可能是下列哪一個國家？(A)印度 (B)馬來西亞 (C)孟加拉 (D)越南。
12. 下列有關該國的氣候特色敘述何者正確？(A)夏季盛行西南風 (B)夏雨冬乾 (C)冬季盛行西北風 (D)全年高溫多雨。
13. 文中提及的產業為下列何者？(A)稻作農業 (B)綠洲農業 (C)熱帶栽培業 (D)游牧。
14. 承上題，該國發展此項產業需要許多條件的配合，下列何者『不是』其必要條件？
(A)機械化耕作(B)大量資金勞力 (C)交通便利 (D)氣候濕熱。
15. 中國將在橫斷山脈的瀾滄江興建水壩，致使6000萬人賴以為生的湄公河下游國家國家承受嚴峻乾旱之苦。請問：下列哪一個國家是受害國家之一？(A)越南 (B)印尼 (C)菲律賓 (D)馬來西亞。
16. ○○知名外送平台 Zomato，近期宣布推出「綠色外送」：新外送員有別於一般運送葷食、身著紅衣的外送員，綠衣外送員將只會從特定的「純素」餐廳取單外送給顧客；但因「嚴格茹素」涉及最敏感的種姓制度，因此遭廣泛砲轟，請問上述○○為下列哪個國家？(A)印尼 (B)越南 (C)泰國 (D)印度。
17. 東協國家從製造業為主的經濟體逐漸轉變為商品豐富的生產者或金融服務供應商，估計2050年東協將超越德國，成為全球第4大經濟體。請問：東協國家發展的優勢為何？(甲)便宜的勞動力(乙)豐富的自然資源(丙)完善的交通(丁)高科技技術(戊)消費市場龐大，正確的有？(A)甲乙丙 (B)乙丙丁 (C)甲乙戊 (D)乙丁戊。

二、歷史科(18-34題)

18. 民國4年5月9日23時，北京的國民政府以「國力未充，難以兵戎相見」為由，對外宣布接受日本提出的「二十一條要求」中的大部分條件，當時在同意條約上簽字的總統為下列何人？(A)段祺瑞 (B)孫中山 (C)袁世凱 (D)張作霖。
19. 承上題，同意日本所提出「二十一條要求」中的大部分條件，等同承認日本在中國何地擁有特殊權益？
(A)山東 (B)東北 (C)雲南 (D)廣東。
20. 某部以民初為背景的戲劇中，描述不同派系軍閥彼此為搶奪權力、地盤而爆發大大小小的內戰，人民被迫過著顛沛流離的生活，苦不堪言。請問：開啟中國軍閥亂政時期的原因為何？(A)袁世凱死後，群龍無首 (B)孫中山推動護法，南北分裂 (C)臨時約法被毀棄，國無法紀 (D)辛亥革命，各省獨立。
21. 一位學生在報告中引用了以下資料：「北京大學等13所院校三千餘名學生聚集天安門，舉行了聲勢浩大的示威活動，參與遊行的部分學生隊伍並衝進了官員的住所，不僅將裡面的人痛打一頓，還放火點燃住宅。北洋政府出動武裝軍警鎮壓，逮捕示威學生32人。為抗議反動政府的鎮壓和營救被捕學生，北京各大專學校的學生從第二天起進行總罷課。社會各界也紛紛舉行罷市、罷工以支援學生們的愛國行動。在群眾運動的強大壓力下，被捕的32名學生全部獲釋。」根據上述的內容，可以推斷學生報告的主題應是(A)保路運動 (B)二次革命 (C)五四運動 (D)新文化運動。

22. 承上題，學生遊行示威抗議的布條中不可能出現下列哪些字樣？(A)還我青島 (B)廢除二十一條 (C)掃除親日官員 (D)袁世凱下台。
23. 承第 21 題，此事件的發生與下列哪一場戰爭有關？(A)甲午戰爭 (B)第一次世界大戰 (C)第二次世界大戰 (D)八國聯軍。
24. 翻閱民初就讀北京大學的大學生日記，下列哪一項生活經驗的記錄是正確的？(A)閱讀到「新青年」雜誌上介紹共產主義思想的文章 (B)在書局買到魯迅以文言文撰寫的「狂人日記」 (C)因參與反政府的保路運動遊行而遭到逮捕 (D)為表達對民主制度的支持，積極反對溥儀的洪憲帝制。
25. 民國 6~17 年所謂的南北分裂時期中國境內出現了兩個政府，當時民間有一副對聯如右圖，嘲諷當時南爭北鬥的政治亂象。請問：南北分裂時期的南北分別指何地？(A)南京、北京 (B)廣州、天津 (C)武漢、南京 (D)廣州、北京。
26. 民國初年發生的「二次革命」，其發起者與主要討伐對象分別為何者？(A)同盟會、溥儀 (B)國民黨、袁世凱 (C)革命黨、段祺瑞 (D)共產黨、蔣中正。
27. 民初《新青年》雜誌對知識分子產生很大的影響，下列關於這本雜誌的敘述有哪些是正確的？(甲)創辦者為蔡元培 (乙)極力批判西方流行的新思潮 (丙)提倡「德先生」與「賽先生」 (丁)提倡白話文學與新式標點符號。(A)甲乙 (B)乙丙 (C)丙丁 (D)甲丁。
28. 北京大學是中國第一所大學，下列有關北京大學的敘述，下列何者正確？(A)成立於庚子後新政之後 (B)初名「北京同文館」，後更名為「北京大學」(C)胡適曾擔任北京大學校長，鼓勵自由學風 (D)民國初年成為新文化運動重鎮。
29. 中華民國憲法乃國家根本大法，而民初頒布的中華民國臨時約法，其重要性相當於憲法，卻曾兩度遭到毀棄，分別與何人執政有關？(A)袁世凱、溥儀 (B)袁世凱、段祺瑞 (C)段祺瑞、溥儀 (D)袁世凱、張作霖
30. 孫中山與革命同志陸皓東以興中會之名義在廣州起事前曾說：「我費盡心血的萬言書不被李鴻章重視，又見國家戰敗屈辱求和，朝廷與官府的腐朽造成民不聊生，因不減滿清，不足以復興漢族。」請問：孫中山之所以展開革命，是受到哪一事件的刺激？(A)甲午戰爭 (B)八國聯軍 (C)日俄戰爭 (D)英法聯軍。
31. 文繡是末代皇帝溥儀的「淑妃」，13 歲進宮，22 歲決心脫離皇室婚姻的枷鎖，自行離開與溥儀的居所並公開登報要求離婚，成為歷史上唯一一位「休夫」的妃嬪。請問：文繡的做法說明當時中國婦女越來越勇於追求獨立自由，挑戰傳統家庭以夫為天的思維，這種風氣的轉變與哪一項運動關係最為密切？(A)自強運動 (B)新生活運動 (C)維新運動 (D)新文化運動。
32. 共產主義思潮是藉由下列何項事件引入中國，並與何國的支持有密切關係？(A)新文化運動、蘇聯 (B)立憲運動、日本 (C)五四運動、日本 (D)護法運動、蘇聯。
33. (甲)辛亥革命 (乙)五九國恥 (丙)洪憲帝制 (丁)護法運動。請將上述史事的發生時間依先後順序排列：(A)甲乙丙丁 (B)乙丁甲丙 (C)甲丙乙丁 (D)甲乙丁丙。
34. 林覺民是福建省人，1907 年考入日本慶應義塾大學攻讀哲學，後來受民主革命風潮的影響，加入日本當地整合各方勢力的中國革命組織，1911 年回國參加革命行動，事發前三天，給妻子陳意映留下一封著名的《與妻訣別書》。3 月 29 日領先襲擊總督衙門，後受傷被捕，從容赴死。請問：下列有關這次起義行動的敘述，何者正確？(A)內容所述的事件發生在光緒皇帝主政時期 (B)這次事件的策畫者主要是想促使滿清實施君主立憲 (C)這個事件發生地在廣州 (D)這個事件奠定日後保路運動的成功基礎。

三、公民科(35-50 題)

35. 直隸在某人力銀行網站看到一則提醒，如圖(甲)。根據圖中內容判斷，此則提醒與下列哪一個法律原則最直接相關？(A)消滅時效 (B)契約自由 (C)誠實信用 (D)權利濫用禁止。

法律小站

勞動契約為勞雇雙方的約定，無論公司以口頭通知錄取或向求職者發出書面錄取通知，一旦求職者回覆接受，雙方勞動契約即成立，惟契約內容如基本工資、工時等不能違反相關法律規定。

圖(甲)

36. 老師在課堂上講述《民法》契約概念時所舉的例子：『17歲的楊恩齊和房東簽訂3年租約』，請同學進行討論。根據內容判斷，下列哪個敘述是正確的？(A)楊恩齊自行與房東簽訂租約後即具法律效力(B)此契約簽訂需經楊恩齊的父母同意才有效力(C)此租賃契約生效後，楊恩齊有交付租金的權利(D)3年租約太長，已違反公共秩序、善良風俗。

37. 圖(乙)為王武遞交的一份申請文件，根據圖中內容判斷，有關王武與趙高的民事糾紛解決，下列敘述何者正確？

稱謂	姓名	性別	出生日期	身分證字號	地址
聲請人	王武	男	1985/12/12	A123456789	高雄市中正一路8號
對造人	趙高	男	1999/09/09	H196543210	高雄市中正一路2號
事件概述：(略)					
此致 高雄市長 中華民國114年3月26日 聲請人：王武					

圖(乙)

- (A)為當事人雙方私下訂立的和解契約 (B)若有一方反悔，無法聲請強制執行
(C)需花費相當多的時間和金錢解決糾紛(D)調解書須送法院核定，效力與法院判決相同。
38. 搭乘火車時，遇到一起副站長和乘客之間的糾紛事件，兩人對話如下。根據兩人對話分析，下列敘述何者正確？

副站長：「台鐵規定坐過站，這段路程補票除了原票價外，還要罰5成，等於是1.5倍票價，而從坐過站再坐回預定抵達站，要再另外購票。」

乘客：「為何要罰我票價，我從另一個月臺返回不行嗎？我要報警！」

副站長：「這不合乎規定，請補完票價，本站會與您解除運送契約，請您出站。」

- (A)副站長有支付票價的義務 (B)該運送契約屬於借貸契約 (C)乘客在契約中屬於買受人
(D)兩方間意思表示一致。

39. 一對有感情糾紛的情侶，為化解糾紛，雙方簽署相關文件。乙女在文件中偷夾了一份如圖(丙)的契約給甲男簽名，後續甲男封鎖乙女時，乙女以違約理由要求甲男賠償。有關於則紛爭的分析，下列何者正確？(A)契約無效，內容違反公序良俗(B)契約無效，沒同時簽名加蓋章(C)契約有效，乙女要支付違約金(D)契約有效，甲男已經簽名同意。

40. 一名大學生在飲料店工作，因不滿下班前有客人下訂單，因此徒手抓珍珠製作並將畫面傳到社群網站，此行為重創飲料店形象。該店員的母校受訪時表示：「該生已畢業，是成年人，要為自己行為負責，本校會加強教育，讓校內學生引以為鑑。」該校要表達的意思為下列何者？(A)該生是完全責任能力 (B)母校要承擔賠償的責任 (C)該生打工需要法定代理人同意(D)該生是完全行為能力。

41. 家宏經營球鞋販售服務，有天接到客戶年柏的電話訂單後，馬上將球鞋寄出，但球鞋寄達後，年柏卻聲稱沒錢購買，不願取貨付款。有關上述情況的法律責任，下列何者的主張較正確？(A)因為年柏不是故意棄單，因此不具備侵權行為的要件(B)家宏可主張棄單行為損害其權益，要求年柏賠償損害(C)雙方沒有訂立書面契約，以致家宏無法要求年柏賠償(D)年柏未取貨，家宏並無損失，因此年柏沒有法律責任。

契約內容(摘要)：

甲男(以下簡稱甲方)；乙女(以下簡稱乙方)

*甲方與乙方為摯友或以上的關係直到永遠。

*甲方與乙方為情侶或以上關係至少3年。

*若任一方違反一次或逾時1天，按次或按天連續支付懲罰性違約金1萬元。

立約人簽章：

甲男(甲方)-(甲男採簽名方式)

乙女(乙方)-(乙女採蓋章方式)

圖(丙)

42. 佳璇開車不慎撞壞琨其的機車，事發當下，琨其向佳璇索賠5萬元，佳璇承諾1個月後給付金錢。但1個月後，佳璇卻拒付錢，琨其決定聲請調解為自己爭取權益，經過兩次協調，終於取得共識。有關該案件化解糾紛方式的差異分析，下列何者正確？(A)琨其聲請調解，是希望透過第三人居中協調，以解決雙方糾紛(B)琨其聲請調解後，不論是否成立，都不能以訴訟方式爭取權益(C)調解的共識，為契約性質，無法強制佳璇支付賠償機車的費用(D)車禍時的承諾，為私下和解，可向法院聲請強制佳璇支付費用。

43. 寬裕將限量款高級自行車借給17歲的元佑騎去環島，元佑卻不慎將車撞毀，所幸沒有波及他人，事發後雙方自行簽訂高額賠償契約。不過元佑的父母得知後反對這份契約，於是元佑事後反悔不願依約賠償，寬裕因此告上法院要求元佑履行契約，但法官以該契約無效為由，判決寬裕敗訴。關於上述內容，下列哪一項推論最合理？(A)二人簽訂的契約因為違反公序秩序而無效(B)元佑應負的法律責任與遭警察開罰單相同(C)寬裕敗訴的原因是元佑為限制行為能力人(D)寬裕不服判決可以再向行政法院提出上訴。


44. 多熙和交往3個月的男友決定攜手共度未來，也已完成結婚登記手續。但相愛容易相處難，兩人在婚後發現彼此個性不合，又對離婚持不同意見，最終決定依法律途徑解決。根據上文所述，下列何者正確？(A)兩人應該向法院提出刑事訴訟(B)由檢察官裁定兩人的離婚結果(C)法官將會介入調查該離婚事件(D)此訴訟案由當事人主動提出。

45. 李太太在房仲介紹下買了一間高雄苓雅區的公寓，簽約後卻發現購買的房子為凶宅，認為房仲沒有善盡告知義務，因此想解除契約，但房仲不願解約，李太太在無計可施之下決定聲請調解。李太太應到下列何處聲請調解？(A)苓雅區公所(B)高雄區公所(C)高雄市政府方法院(D)苓雅區警局。

46. 右圖為《民法》中年齡與行為能力程度的示意圖，甲、乙、丙分別代表不同程度的行為能力。下列何者最可能與圖中的

「乙」屬於相同程度的行為能力？

- (A)19歲因故未升學的阿價 (B)8歲意外失去雙親的奇奇
(C)受法院監護宣告的大明(D)遭到褫奪公權宣告的阿世。



*閱讀下列文章，回答第47-48題：

新北市樹林區日前發生一名女子墜樓，把一名路過男子壓成重傷，女子則宣告不治。律師表示，如果跳樓輕生造成路人受傷或死亡，對女子而言為應注意能注意而未注意，因此路人或其家屬可主張女子過失傷害行為，但女子已死亡，應獲不起訴處分。

另外，路人或其家屬可請求損害賠償，但女子已死亡，家屬繼承遺產，被害家屬則能提出訴訟，對醫藥費、工作損失、生活需求、精神慰撫等損失進行求償。假若女子仍為未成年，路人可向其法定代理人要求負連帶賠償責任。

47. 無辜民眾的家屬可提起訴訟，要求對方家屬負起損害賠償責任。下列哪一現象，最可能出現在上述的訴訟官司中？(A)無辜民眾的家屬應是原告，要求對方家屬負起刑事責任(B)對方家屬只要證明女子行為非故意，即可免除賠償責任(C)在訴訟程序中，法官負責蒐集雙方證據並依法進行判決(D)雙方家屬在法官面前達成和解，該和解具有強制執行力。

48. 文末提及假若女子為未成年人，路人可向其法定代理人要求負連帶賠償責任。上述論點主要是基於下列哪一理由？(A)未成年人缺乏完全的行為能力，故法定代理人有連帶賠償責任(B)未成年人缺乏完全的責任能力，故法定代理人有連帶賠償責任(C)未成年人完全不須負責，法定代理人負起完全的賠償責任(D)未成年人須經法定代理人同意，才負起賠償責任。

*閱讀下列文章，回答第 49-50 題：

近來，有雇主要求新報到的員工，都須提供「警察刑事紀錄證明書(良民證)」，甚至「未提供就解約！」臺北市勞動局對此表示，許多公司在工作規則中，除訂定員工須提供基本資料，如：「良民證」、「個人信用報告」等，有些還會在「如未提供，視同解除雙方勞動契約」等規定。不過，這些要求員工提供的資料，除非和工作相關或於《就業服務法》中有明訂，不然雇主要應尊重員工的意願，不可逾越法令規定。例如：要求保全人員提供良民證是合法的，但若要求所有新報到的員工都須提供良民證，則於法無據。

49. 某公司若要求所有新報到的員工都須提供良民證，因於法無據，「如未提供，視同解除雙方勞動契約」等規定即屬無效。上述符合契約訂立的何項原則？(A)誠實信用原則(B)消滅時效原則(C)權利禁止濫用原則(D)契約自由原則。
50. 法律上，皆未明文規定勞動契約應以書面約定。因此，當雇主與求職者意思表示一致，契約即可生效。根據上述說法，勞動契約最可能在下列哪一時機，正式發生契約效力？
- (A)求職者接受公司人資主管的面試(B)公司主管寄送錄取通知給求職者(C)錄取者前往公司報到成為新員工(D)報到後依規定繳交資料的新員工。

~~ 試題結束 ~~

請同學再次檢查答案卡上的基本資料是否填寫完整