

高雄市中正高中國中部 113 學年度第二學期國二社會科第二次段考試題

【試卷共 6 頁】

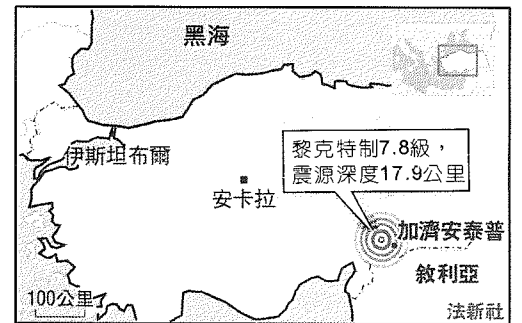
班級： 座號： 姓名：

※每題 2 分，共 50 題

科目代碼:05 (請用 2B 鉛筆，將答案劃於答案卡上)

一、地理科(1-17 題)

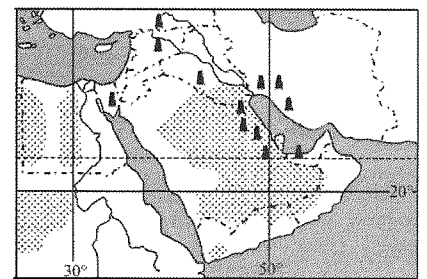
1. 2023/2/7 土耳其東南部當地時間昨日發生 7.8 級大地震，造成土耳其和鄰國敘利亞合共逾 2,300 人死亡，逾萬人受傷。當時多地天氣寒冷、雨雪交加，許多人被困在瓦礫中。依據圖(一)推測地震震央位於下列哪個地形區?(A)高加索山 (B)伊朗高原 (C)安納托力亞高原 (D)美索不達米亞平原。



圖(一)

2. 『2023 年 10 月 7 日，哈瑪斯士兵襲擊以色列南方，劫持參加音樂祭的少男少女，以色列與哈瑪斯自此展開全體戰，其戰爭的核心原因為爭奪以猶太教、基督教、伊斯蘭教三教共同聖地為首都的肥沃之地』，上述引文中『首都』應為下列何者?(A)麥加 (B)耶路撒冷 (C)伊斯坦堡 (D)巴格達。


3. 埃及以高品質的棉花聞名，特別是埃及長絨棉，被廣泛用於製作奢華紡織品。此國家雖屬於熱帶沙漠氣候，卻能大量栽種棉花，最主要是仰賴何種灌溉水源?(A)利用迎風坡雨水 (B)引用尼羅河河水 (C)回收利用再生水 (D)鑽取深層地下水。



圖(二)

4. 請問圖(二)中的資源最可能是下列何者? (A)森林 (B)鐵礦 (C)水力 (D)石油

5. 近期，組織成員國決定加速解除石油減產措施，導致全球油價大幅波動。美國新關稅政策與此組織增產計畫共同影響市場，布倫特原油價格跌破 65 美元，創下近四年新低，請問應填入(A)WTO (B)APEC (C)OPEC (D)ASEAN。



圖(三)

6. 圖(三)為甜甜到伊朗旅遊時所拍的照片，他們大多使用土坯建成的平房並在屋頂建造風塔，請問：此種建築景觀的主要與當地何種特徵有關?(A)沙漠氣候(B)戰爭頻繁 (C)板塊接觸 (D)宗教習俗。

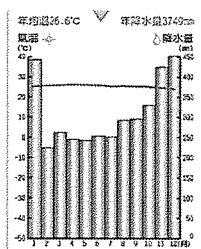
摩洛哥位於北非，擁有多樣化的氣候，從北部地中海沿岸的溫暖環境到內陸的乾燥沙漠，當地美食塔吉鍋運用獨特的燉煮方式料理食材，融合肉類、蔬菜與香料，展現北非風味。請回答第 7-10 題：

7. 若遵循當地主要宗教的飲食規範，塔吉鍋『最不可能』出現哪種肉類料理?
(A)牛 (B)羊 (C)雞 (D)豬肉。

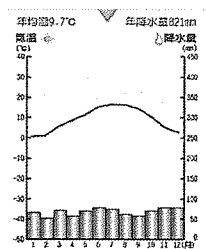
8. 不同氣候類型通常孕育出特定的代表植物，若依當地氣候判斷，塔吉鍋中『最不可能』出現的『當地』食材為下列何者? (A)葡萄乾 (B)可可豆 (C)橄欖 (D)椰棗。

9. 下列氣候圖，何者最可能是北部沿岸地區的氣候圖?

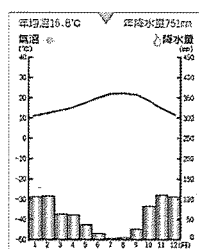
(A)



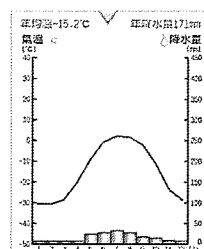
(B)



(C)



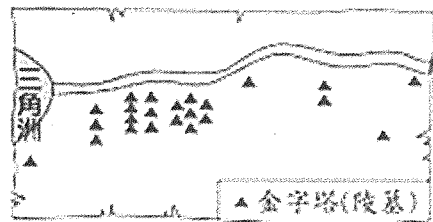
(D)



【※續下頁】

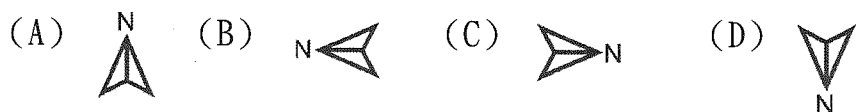
10. 文中提及當地的乾燥沙漠成因為下列何者？(A)冬季受西風帶影響 (B)位於季風背風側 (C)地勢高聳，水氣含量少(D)副熱帶高氣壓籠罩。

圖(四)為埃及金字塔的分布圖，金字塔的主要用途為法老王的陵寢，有保護法老王的功能，並讓法老王由人轉為神的安全設施，古埃及人認為西方代表死亡與來世，在他們的世界裡，以尼羅河為界線劃分為東、西二個部分，城市多位在尼羅河東岸，而亡者多埋葬在尼羅河西岸，一如日出與日落的方位，象徵生命的開始與結束，請依上述文章回答第 11-12 題：



圖(四)

11. 若金明想在圖(四)中標示遺漏的方向標，請問下列何者正確？



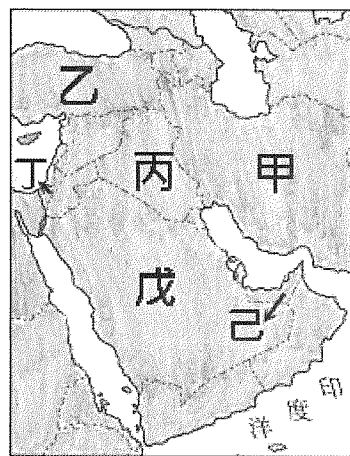
12. 呈上題，圖中的三角洲位於下列哪個海域沿岸？

(A)地中海(B)大西洋(C)印度洋(D)太平洋。

圖(五)為西亞國家分布圖，請依圖回答第13-17題：

13. 『在短短10分鐘內，遊客可以穿越博斯普魯斯海峽，從歐洲岸抵達亞洲岸，體驗兩大洲交匯的奇妙感受，伊斯坦堡正是這座橋樑的象徵，融合東西方文明，其清真寺、宮殿與市集展現獨特魅力』，引文中的國家位於圖中何處？(A)甲(B)乙(C)丁(D)己。

14. 西亞位於歐、亞、非三洲交通要道，阿拉伯聯合大公國的杜拜機場因轉機方便省時，每年乘客數量已躍升至全球第三名，而且世界最高的大樓就位於該國杜拜境內的哈里發塔，高度為829.84公尺，是當前世界上最高的人造結構物。請問此國位於圖中的何處？(A)丙 (B)丁 (C)戊 (D)己。



圖(五)

15. 在這個高原上，人類利用鑽井方式，開發深層地下水，這些農田利用中心樞軸灌溉技術，透過旋轉式噴灑水源，均勻灌溉土地，從高空俯瞰，大片圓形農田宛如唱片般排列，展現井然有序的灌溉系統，請問上述景觀最可能出現於圖中哪個國家？(A)甲 (B)丙 (C)丁 (D)戊。
16. 伊斯蘭教為世界性的宗教，在各地有許多信徒，住在伊朗的阿麗，每天定時向聖地朝拜時，需面對哪個方向？(A)西北方 (B)東北方 (C)西南方 (D)東南方。
17. 『西亞某個國家的工程師在1950年代發現植物根部少量供水能顯著提升生長效果，於是開發出滴灌系統，並在全球推廣。如今，滴灌被廣泛應用於世界各地，尤其是在乾旱或缺水的地區，例如美國加州、印度、澳洲和中東地區』。請問引文中某個國家位於圖中何處？(A)乙 (B)丙 (C)丁 (D)戊。

二、歷史科(18-35 題)

18. 意彤在爺爺的遺物中發現一張舊紙鈔(如右圖)，她發現這張紙鈔的面額比現今市面上流通的鈔票面額大很多。請問：這張舊紙鈔可能是中國在哪一段時間發行的貨幣？(A)十年建設期間 (B)軍閥亂政時期 (C)八年抗戰期間 (D)國共內戰期間。

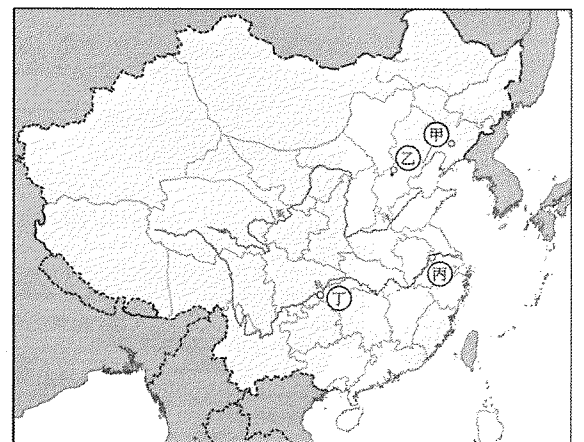
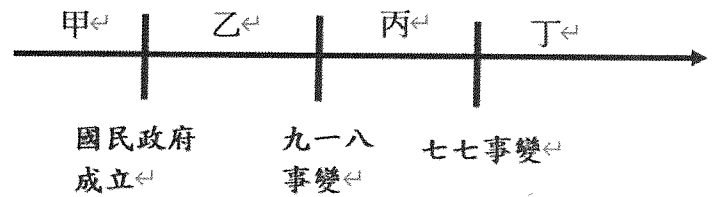


19. 下列哪一個事件是發生在北伐期間？

(A)上海清黨 (B)聯俄容共 (C)黃埔建軍 (D)廣州國民政府成立。

【※續下頁】

20. 小東閱讀中共發展史，了解到中共曾經為躲避國民黨圍剿，歷經一段「兩萬五千里長征」的艱困時期，使中共根據地從甲地遷移到乙地，最後又因西安事變的發生而得以死裡逃生。請問：甲地、乙地應該分別代表何地？(A)廣東—江西 (B)江西—湖北 (C)江西—陝西 (D)江蘇—陝西。
21. 承上題，探討西安事變發生的原因，以下哪位同學的發言是正確的？(A)由中共策畫，有蘇聯勢力協助 (B)蔣中正主張先攘外再安內的政策導致剿共陣營分裂 (C)張學良的東北軍希望能停止剿共，一致抗日 (D)日本不希望中國統一，阻礙國民政府的剿共行動。
22. 第二次世界大戰後期，美國為早日結束戰爭，希望拉攏□□加入對日作戰，與之簽訂雅爾達密約，也因此造成戰後國民政府在接收○○時遭受困難，反利中共勢力的壯大。請問：□□和○○分別是 (A)德國、山東 (B)蘇聯、東北 (C)英國、河北 (D)蘇聯、山東。
23. 見右圖，請問：國共第一次合作與第二次合作分別是在何時？(A)甲、乙 (B)乙、丁 (C)甲、丁 (D)乙、丙。
24. 承上題，國民政府曾於丙時期發行法幣，法幣的發行結束了清末以來幣制紊亂的情形。請問：丙時期應該是指(A)1910年代 (B)1920年代 (C)1930年代 (D)1940年代。
25. 日軍偷襲珍珠港，美國因而對日宣戰，使得歐亞戰場合而為一。請問：珍珠港事件對中國的歷史發展有何重要的影響？(A)與英美同盟，廢除不平等條約 (B)與美蘇兩國共同發表開羅宣言 (C)收回關稅自主權 (D)加入聯合國，提升國際地位。
26. 國民黨在「國共內戰」中失利的的原因，下列何者錯誤？(A)未能解決通貨膨脹問題 (B)未能擁有軍事優勢 (C)官員貪汙腐敗 (D)物價飛漲，民怨時起。
27. 日本 731 部隊曾於侵略中國時被指犯下危害人類罪及戰爭罪¹，此部隊在「滿洲國」利用活人進行細菌實驗，造成至少 3000 人以上死於活體實驗。以下關於滿洲國的敘述，何者不正確？(A)末代皇帝溥儀曾任滿洲國的皇帝 (B)滿洲國建立於盧溝橋事變之後 (C)滿洲國因第二次世界大戰日本投降而歸還中國 (D)是張作霖、張學良父子的故鄉。
28. 國民政府曾於北伐期間分裂為二，分別位於何處？(A)廣州、武漢 (B)武漢、北京 (C)南京、北京 (D)武漢、南京。
29. 孫中山的《建國大綱》將國家建設分為軍政、訓政、憲政三個階段。請問：訓政的開始與哪一事件密切相關？(A)北伐完成 (B)十年建設完工 (C)全面展開抗日戰爭 (D)國共內戰開始。
30. 「國民政府宣布將遷都□□，以西南各省做為抗戰大後方，並利用中國廣土眾民的條件，制定長期抗戰方針。」請問：□□是指哪一個都市？(A)重慶 (B)成都 (C)南京 (D)北平。
31. 承上題，當時所謂的「長期抗戰方針」是指什麼策略？(A)速戰速決 (B)停止內戰，一致抗日 (C)攘外必先安內 (D)以空間換取時間。
32. 東京「日日新聞」刊載隨軍記者的一篇文章中寫著：「准尉宮岡和野田約定作一個砍殺一百敵人的比賽。兩人在紫金山下相見，彼此手中都拿著砍缺了口的軍刀。……很不幸因確定不了誰先達到一百之數，因此，兩人重新再賭誰先殺滿一百五十名中國人。」上文是描寫日本人在右圖中何處的殘酷大屠殺？(A)甲 (B)乙 (C)丙 (D)丁。
33. 民國 13 年建校的陸軍軍官學校，今日之校址為高雄市鳳山區維武路 1 號，當年該校是依孫中山指示籌辦，作為統一中國的重要革命武力。請問：其最早創校校址位於何處？(A)南京 (B)武漢 (C)北京 (D)廣州。



【※續下頁】

34. 「國民政府」於何時改稱為「中華民國政府」？ (A)袁世凱去世之後 (B)北伐完成之後 (C)中華民國憲法實施之後 (D)國共內戰結束後。

三、公民科(35-50題)

35. 圖(甲)為二二八事件轉型正義報導，「去蔣化」近年來如火如荼進行。有位自由臺灣黨黨員想移除中正紀念堂的蔣介石銅像，國民黨主委指出中正紀念堂及其館內範圍為國定古蹟，受《文化資產保存法》保護，故向臺北地檢署按鈴控告其行為涉妨害秩序。上述國民黨主委到地檢署按鈴控告的行為可稱為何者？ (A)自訴 (B)告訴 (C)告發 (D)公訴。

「二二八事件」
轉型正義

- 臺北中正紀念堂停播「蔣公紀念歌」
- 蔣公文宣品下架

圖(甲)▲

36. 《著作權法》於2022年5月修正後，將過往告訴乃論的「公開傳輸」行為部分非告訴乃論化，宣誓將加強打擊網路侵權行為，以符合「跨太平洋夥伴全面進步協定」(CPTPP)規定，減少未來申請加入時所可能遭受其他會員國的質疑。然而網路速度的不斷提升和天生的匿名性，便利了網友的上傳下載，更增加了檢警執法上困難。地檢署關於著作權的刑事立案數量，自2018年的四千多件大幅降低到了2021年的三千一百多件左右，刑事起訴予緩起訴案件比率，則自2010年的超過四成大幅降低到了2021年的一成二。根據上述內容，下列何者正確？(A)文中提及侵權行為是屬於行政法的範疇(B)近來有關著作權的刑事立案數量有逐年增加的趨勢(C)未來對於「公開傳輸」的侵權行為可由檢察官主動進行偵辦(D)文中關於「公開傳輸」的侵權行為可透過和解與調解處理紛爭。

37. 某縣市發生多名年輕人(甲)為了2000元的債務糾紛群聚談判，雙方一言不合之下，(乙)持棍棒互相叫罵鬥毆，導致多人受傷。(丙)附近民眾打電話到警察局報案，警方獲報後到場逮人。由於當時正處於三級防疫警戒，雙方人馬先(丁)因群聚被裁罰6萬元罰鍰，再因聚眾鬥毆罪移送法辦。根據上述社會事件，下列何者正確？ (A)(甲)：屬於侵權行為而引起的糾紛 (B)(乙)：致人受傷行為須負行政責任 (C)(丙)：警方經由告發發現犯罪事實 (D)(丁)：6萬元的罰鍰屬於刑事責任。

38. 臺灣劇團在進行某公益戲劇排演時，該戲劇的角色及臺詞如表(甲)，根據表中內容判斷，甲、乙、丙角色扮演的相關人員最可能為下列何種組合？

角色	臺詞
甲	嫌犯罪證不足，我決定作出不起訴處分
乙	我依據事實進行犯罪案件的判決
丙	我受被告委任，為被告進行辯護

表(甲)▲

- (A)甲—法官、乙—檢察官、丙—律師
 (B)甲—檢察官、乙—法官、丙—律師
 (C)甲—律師、乙—法官、丙—檢察官
 (D)甲—檢察官、乙—律師、丙—法官。

39. 一種違規犯法的行為，可能涉及多種法律責任，軒仔就老師給的行為案例進行責任的判斷，軒仔在表(乙)這四起事件中，將須負責的打○，不需負擔責任的打×，下列何者標示正確？(A)甲(B)乙(C)丙(D)丁。

違法行為	民事責任	刑事責任
甲、與鄰居吵架，故意毀損鄰居停在路邊的汽車	○	○
乙、簽約租房後，延遲三個月未付房租	×	○
丙、小宋酒駕闖紅燈撞傷路人，酒測值0.45毫克，遭警方移送法辦	×	○
丁、勇哥以虛擬寶物利誘15歲少女拍攝裸照	×	×

表(乙)▲

【※續下頁】

40. 剛過 13 歲生日的王小陸，整個暑假都在網咖及遊樂場玩，某一天，他在臉書上看到認識的大哥揪團要為王小陸不認識的朋友出氣，為了義氣，王小陸立刻與朋友趕到現場支援，十幾個人在大哥帶領之下，不分青紅皂白一起拳打腳踢，在一陣混亂之後竟將被害人圍毆致死。依我國《刑法》規定，應如何處理王小陸的犯罪行為？(A)王小陸觸犯殺人重罪，不分年齡皆應依《刑法》論處，接受刑罰 (B)王小陸雖已觸犯殺人重罪，但因未滿 18 歲，雖然有刑責但可減輕 (C)因王小陸為限制責任能力人，法定代理人必須連帶一起接受刑罰 (D)王小陸未滿 14 歲，為《刑法》無責任能力人，不會接受任何刑罰。

41. 品榛前往地方法院參加法庭旁聽活動，在活動之後，繪製如圖(乙)的法庭簡圖，並標註其重要角色。根據圖中內容判斷，當時此法庭審理之案件，應為下列何者？



圖(乙)▲

- (A)家淳搭乘捷運時未讓座予老弱婦孺
- (B)川普誤信朋友，退休金全部被騙光
- (C)泓諺瘋狂刷卡購物卻無力償還卡債
- (D)金明與英凡因婆媳問題，訴請離婚。

42. 亦霏是某大學法律系的學生，平常最愛看法庭辦案題材的戲劇，原因只是喜歡抓出角色臺詞的錯誤，並以此為樂。下列是她正在追的戲劇中各個角色的臺詞，何者會被她抓出『錯誤』？

- (A)檢察官：原告犯罪事證明確，我以被告身分求處重刑
- (B)嫌疑犯：檢察官在對我偵訊時誘導我認罪，我要翻供
- (C)律師：我有取得新的證據，可以為我的當事人來辯護
- (D)法官：犯罪事證不明確，依據無罪推定原則判決無罪。

43. 下列是銀明於 3 月 5 日參觀法院開庭所記錄的內容—

甲：我方認為，檢察官提出的資料，不符合犯罪行為的構成要件，因此主張被告是無罪的
乙：被告犯妨害公務執行罪，處有期徒刑三月。如不服本判決，應於收受本判決後 20 日內提出上訴書狀。

根據上文敘述判斷下列何者正確？

- (A)甲為被告律師，從罪刑法定角度進行辯護
 - (B)該起案件的原告，透過自訴方式提起訴訟
 - (C)乙是偵辦的檢察官，依調查提出相關論述
 - (D)該案件被告於 3 月 5 日後，視為無罪之人。
44. 立法院通過《刑法》部分條文修正，對依法執行職務的公務員公然侮辱者，從現行可處以六個月有期徒刑、拘役或 3000 元以下罰金，調升為處以 1 年有期徒刑、拘役或 10 萬元罰金。某民意代表表示，原本的規定就比對一般人處罰的拘役還嚴重，現在修法將導致只要判處七個月以上，就有可能入監服刑，這將對從事社會運動者的言論自由產生嚇阻作用，不可不慎！下列有關修法的相關分析，何者說明正確？(A)修法前是藉由生命刑，來達到處罰犯罪的目的 (B)修法後增加的資格刑，可實踐矯正犯罪的目的 (C)侮辱公務員與一般人處罰的差異，在有無從刑 (D)民意代表不認同刑罰產生的預防犯罪是正面的。
45. 知名歌手遺失提款卡，向警方報案，警察發現卡片是遭歌手僱用的看護偷走。看護承認自己一時鬼迷心竅，深感後悔，願意盡力賠償損失，雙方私下和解談妥賠償，但警察仍將看護移送法辦。根據上文判斷，下列敘述何者正確？(A)該歌手向警方報案之行為稱為自訴(B)移送法辦部分為告訴乃論刑事案件(C)雙方私下和解的部分屬於民事事件(D)已和解因此看護不會受到有罪判決。

【※續下頁】

*請閱讀下列選文，並回答第 46~47 題：

某食品廠涉入問題油品訴訟，法院依據法律修正之後的沒收新制，宣告對該廠沒收新臺幣 3 千多萬元。廠方對此不服，主張油品訴訟事件是沒收新制實施之前發生，此項決定違背法律原則，因此聲請釋憲。但憲法法庭判決則指出，沒收新制的立法目的是在回復合法財產秩序，並非剝奪行為人原有財產，所以不會產生抵觸法律原則的問題。法務部也補充表示，沒收新制是參照聯合國所通過的《反貪腐公約》規範精神來立法，立論基礎是「沒收不以定罪為前提」。而且法律不保障經由違法行為獲得的不法利益，因此即使溯及既往處罰，也不會構成違憲。

- 46 對於上述食品廠不服而被提起釋憲的刑事處罰，下列說明何者『錯誤』？ (A)先判主刑才可宣告 (B)屬於獨立法律效果 (C)性質並不屬於刑罰 (D)涉及剝奪個人財產。
47. 對於上文內容的解讀，下列何者最適當？ (A)食品廠涉入民事訴訟而被處以沒收 (B)食品廠主張沒收違背罪刑法定原則 (C)沒收新制的立法屬於《憲法》位階 (D)我國為聯合國成員受國際公約約束。

*請閱讀下列選文，並回答第 48~50 題：

一名華姓女子與隔壁鄰居時常發生糾紛，某日竟在鄰居住處外縱火，導致鄰居住處大門有燻燒痕跡，所幸未引發火災。當鄰居查看監視系統後，發現是該名華姓女子放火，便立即向有關單位提出【甲】，請求追訴犯罪，而警方獲得證據後便立即將華姓女子逮捕。在【乙】偵查後，認定該女子涉放火燒毀現供人使用之住宅未遂罪，便依法起訴。經地方法院審理後，判處華姓女子有期徒刑 3 年 6 個月。

48. 上文中的【甲】，最有可能為下列何者？(A)自訴(B)公訴(C)告訴(D)自首。
49. 下列關於【乙】的敘述，何者正確？(A)隸屬於監察院(B)隸屬於司法院(C)其職權包括在法庭上依證據進行公正審判(D)當審判確定後，由其負責執行對犯罪者的處罰。
50. 針對上文，下列敘述何者正確？(A)當警方將華姓女子逮捕時，就表示華姓女子有罪 (B)當【乙】依法起訴的當下，華姓女子尚未被認定有罪 (C)從文中敘述可知，此案件是採取刑事訴訟的自訴流程 (D)華姓女子遭受的處罰與褫奪公權相同，皆屬於刑罰的從刑。

~~ 試題結束 ~~

請同學再次檢查答案卡上的基本資料是否填寫完整