

※每題 2 分，共 50 題

科目代碼:05 (請用 2B 鉛筆，將答案劃於答案卡上)

一、地理科(1-17 題)

班級： 座號： 姓名：

■下表為台灣五個縣市的人口資料，請回答下列問題：

	人口密度 (人/km ²)	總人數 (人)	出生率 (%)	死亡率 (%)	社會 增加(%)	年齡結構(%)			性別比
						0-14 歲	15-64 歲	6 歲 5 以上	
甲	9164	2490869	7	8	-7	12%	65%	23%	89
乙	1915	2338648	7	7	8	13%	71%	16%	97
丙	115	472299	5	11	-10	10%	68%	22%	103
丁	60	210219	7	12	-6	11%	69%	20%	104

1. 哪一個縣市自然增加率最低?(A)甲(B)乙(C)丙(D)丁。


2. 表中何者壯年負擔最沉重?(A)甲(B)乙(C)丙(D)丁。

3. 『桃園市近年來都保持六都唯一人口正成長的成績，這與市府過去幾年積極推動社會福利政策有關，加上與雙北地區相較之下較適宜的房價，都推動年輕人移居到該地，自然增加生育率。』若根據上述引文內容判斷，表中哪一個縣市最可能是桃園市?
(A)甲(B)乙(C)丙(D)丁。

4. 圖(一)是某網路針對各縣市女性比例繪製之文字雲，圖中字體大小呈現女性比例，字體越大代表該縣市女性比例越高，請問上表中哪個縣市為可能是台北市?(A)甲(B)乙(C)丙(D)丁。

5. 圖(二)為 2022 年 Terence K. Teo 根據人口數據而作出的台灣人口密度 3D 地圖，立體度約高，人口密度越高，請問影響圖中立體度不同的因素『不包括』下列何者?(A)地形(B)氣候(C)開發早晚(D)經濟發展。


6. 甜甜希望開設一個便利商店，人口密度越高的地方最容易賺錢，請問下列何處開設便利商店最賺錢?(圖中每一點代表 10,000 人)



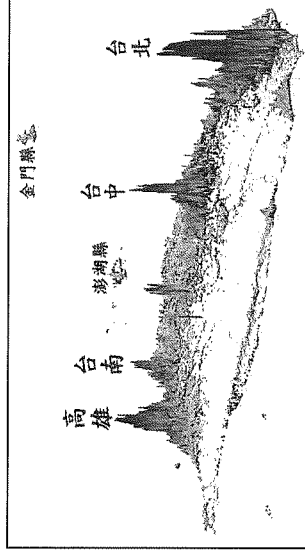
7. 圖(三)某國家的人口資料，依圖判斷下列哪一個描述正確?(A)社會增加率高於自然增加率(B)人口增加率主要受自然增加率的影響(C)人口呈現負成長(D)人口增加愈來愈快。

8. 『土地公信仰在台灣民間非常普遍，祂是先民進入陌生環境開墾大自然時，為了抵抗未知災害，在心靈上尋求的庇護與寄託。』請問：上述引文中的先民是指哪一族群?(A)新住民(B)日本人(C)原住民(D)漢人。

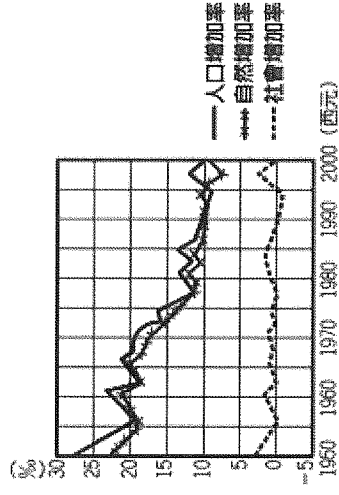
9. 影響人口移動的因素有「拉力」和「推力」，唸大學的小強從南投到台北台灣大學念書，請問下列敘述何者正確?(A)此移動屬於國際遷移(B)臺北交通便利、教育資源多屬於推力(C)南投大學數量少、空氣清新屬於拉力(D)此移動屬於暫時遷移。



圖(一)



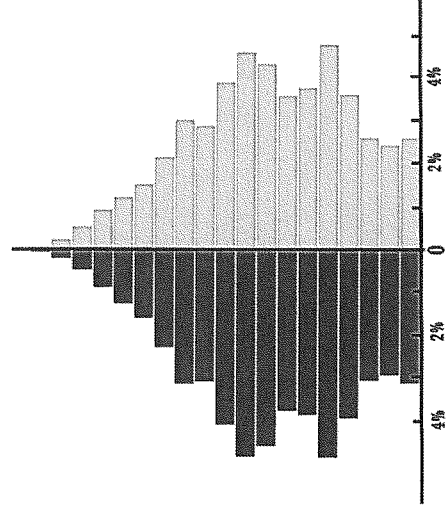
圖(二)



圖(三)

10. 台東太麻里「金崙聖若瑟堂」屬全球三座黑教堂之一，不僅教堂大門上掛著代表頭目的頭飾，外牆更用了排灣族的黑色石板，四周的彩色玻璃也有該族群的風格畫作。請問：該座天主教堂主要融入了下列哪一個族群的文化特色？(A)新住民(B)原住民族(C)閩南人(D)客家人

11. 圖(四)為某國人口金字塔，由圖可知，該地可能有哪些人口現象？(甲)10~14歲的男性人口比例約占3% (乙)幼年人口性別比>100 (丙)教育程度高 (丁)人口呈現負成長，正確的有 (A)甲乙(B)甲丁(C)乙丙(D)丙丁。



圖(四)

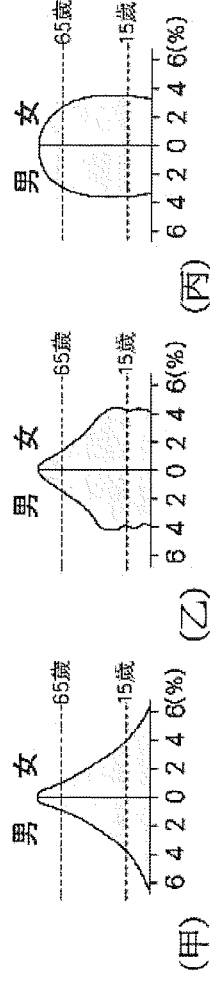
12. 小杉家有5個人，年齡分別是小杉14歲、姐姐24歲、媽媽45歲、爸爸48歲、奶奶65歲。小杉家有幾人屬於「壯年」人口？(A)1人(B)2人(C)3人(D)4人

13. 政府提出「0-6歲國家一起養2.0」政策，自113年1月起，未滿2歲的幼兒公共化及準公共托育補助，分別再加碼提高至7,000元以及1萬3,000元。上述政策的推行，主要是為了達成下列哪一項目標？(A)死亡率下降(B)出生率上升 (C)移入率上升 (D)性別比下降

14. 健康手環、超慢跑機到保健食品，越來越多朝向為年長者族群設計，根據團購電商平台數據，這類商品的消費者占總消費比例就達到六成五左右，這最可能是台灣社會的何種現象所致？

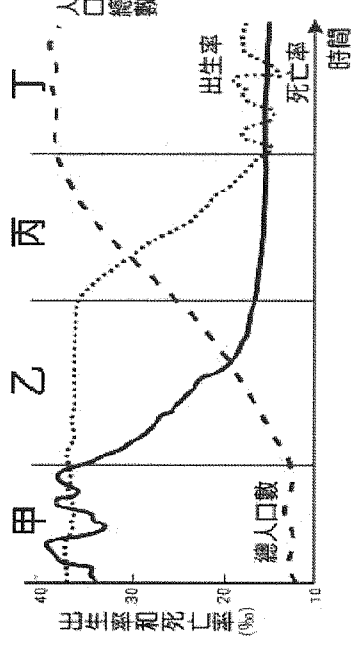
- (A)受少子化影響，產業結構轉型 (B)性別比降低，改變消費習慣
(C)平均壽命提高，人口結構改變 (D)新住民增加，亟需改善家庭功能。

15. 若將下圖中甲、乙、丙三種人口金字塔類型，依國家經濟發展程度『由低到高』排列，順序應為下列何者？(A)甲乙丙 (B)甲丙乙 (C)乙甲丙 (D)丙甲乙。



16. 桃園是全國最多工業區的縣市，也是外籍移工最多的城市。據勞動部統計，桃園共有11萬多名移工，占比全國15%，使得桃園、中壢兩大火車站成為附近移工的最愛，車站附近開始出現各式異國料理店。若以移工的來源國判斷，並以「家鄉味」作為餐廳選擇的考量，下列哪一家餐廳的生意可能最冷清？(A)泰國料理店 (B)印尼料理店 (C)菲律賓料理店 (D)印度料理店。

17. 圖(五)為臺灣人口成長變化圖，請問：臺灣人口快速增加是從哪個區間開始？(A)甲 (B)乙 (C)丙 (D)丁。



圖(五)

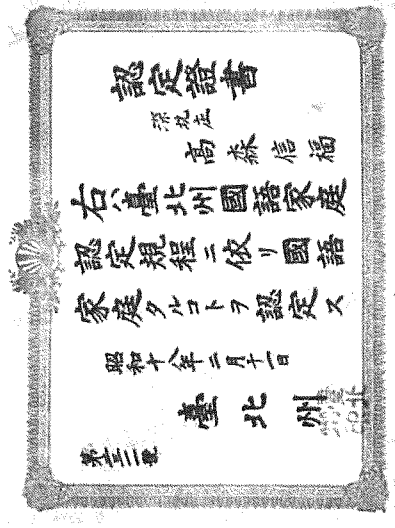
二、歷史科(18-34題)

18. 曾任臺灣總督的田健治郎說：「臺灣是內地的延長，對臺灣人民要一視同仁。」請問：當時他說這句話的背景為何？

- (A)第一次世界大戰爆發 (B)第一次世界大戰結束 (C)第二次世界大戰爆發 (D)第二次世界大戰結束。
19. 承上題，田健治郎提出這樣的論述是因為當時世界受到哪一思潮的影響很大？(A)民族自決 (B)民主政治 (C)共產主義 (D)民主自決。

20. 日治時期，總督府實施哪一政策將無主山林地收歸國有，以利開發森林資源，但也造成原住民族傳統領域的流失？(A)舊慣調查 (B)戶口調查 (C)林野調查 (D)土地調查。

21. 歷史老師請同學以「霧社事件」為題，進行分組討論。以下是某組四位同學的意見，其中共有幾位同學的說法是正確的？甲生：「事件爆發於西元1910年。」乙生：「領導人為阿美族頭目。」丙生：「爆發地點位於今日南投縣內。」丁生：「總督府動用飛機、毒氣等新式武器鎮壓。」(A)一位 (B)二位 (C)三位 (D)四位
22. 資料一：總督府在這時期，為將日本內地制度應用於臺灣，因此將地方制度改為「州一郡市一街庄」三級制，同時也更改一些舊地名。例如：錫口改成「松山」，艋舺改為「萬華」，枋橋改為「板橋」，三角湧改為「三峽」，打貓改為「民雄」，打狗改為「高雄」……。這些地名即使在日治時期結束後依然保留了下來，成為今日臺灣的面貌之一。請問：這時期是日本治臺時期的哪一時期？(A)殖民地特殊統治時期 (B)無方針主義時期 (C)內地延長主義時期 (D)皇民化運動時期。



23. 右圖為日治時期某一階段，由台灣總督府轄下機關所頒發的語言證書，當時台灣人只要通過政府所規定的「國語」考核，就可以獲得此證書，獲頒證書的家庭往往可以獲得官方更多的物資配給，因此當時的台灣人就掀起了一股學習「國語」的風潮，請問：有關這張證書出現的背景敘述，下列何者正確？(A)目的是要培養台灣人對日本的愛國心與忠誠 (B)證書中的國語的語言認定是指台語 (C)當時台灣正處於內地延長主義時期 (D)當時台灣的總督都是由文官來擔任。

24. 據《蕃人觀光日誌》記載，1897年8月有一個台灣原住民頭目觀光團接受招待去日本進行29天的觀光活動，其觀光重點在於帶原住民參觀日本的軍營及城市設施，請問：日本人安排原住民頭目到日本一遊的「最大」目的為何？(A)落實推動五年理蕃計畫 (B)令原住民了解日本國力強大，有助安撫教化原住民 (C)促進日本與台灣原住民之間的文化交流 (D)吸引原住民加入日本軍隊服役。

25. 「割臺的消息傳來後，臺民群情激憤，為了阻止日本接收，臺灣紳民成立臺灣民主國，希望藉此引進國際勢力的干涉，迫使日本放棄臺灣。」請問：上述史實是哪一場戰事後的發展？(A)西來庵事件 (B)甲午戰爭 (C)清法戰爭 (D)英法聯軍

26. 日治時期，臺灣流傳著「第一愁，種甘蔗乎會社磅；第二愁，吃菸吹風；第三愁，選舉運動」的俗諺，其中「吃菸吹風」是指吸食鴉片。請問：日治時期臺灣總督府如何處理鴉片問題？(A)鴉片有害身心，全面禁止販售 (B)只准許鴉片作為醫療用途 (C)百姓可以自由買賣鴉片 (D)採取漸進政策，將鴉片列為專賣。

27. 日治時期由余清芳領導的漢人武裝抗日行動，犧牲人數眾多，除了被判死刑者達800餘人之外，日軍在搜捕清鄉的過程中，也有不少平民無辜遭到牽連而被殺害。請問：若要探尋與此事件相關的地方遺跡與史料，應該前往何地？(A)臺南市 (B)高雄市 (C)南投縣 (D)臺中市。

28. 日治時期，總督府曾頒布某項政策：「採收區只能有一個社會登記採收。」造成日本會社可以任意制定的價格，使農民深受壓榨及權利受損。根據上述文字判斷，最可能是何種作物？(A)樟腦 (B)稻米 (C)林木 (D)甘蔗。

29. 一位統治者說道：「面對各地風起雲湧的反抗活動，我們必須採取特殊立法制度，依據臺灣的狀況來調整統治方針，適度尊重臺人文化，避免激起更大的反抗浪潮。」請問：此階段統治者採行的政策為何？(A)無方針主義 (B)皇民化運動 (C)日臺合一政策 (D)內地延長主義

30. 有四位同學一起討論日治時期的治臺政策，下列何者不正確？(A)為減少市場交易爭議，統一貨幣 (B)為改善原住民生活，實施林野調查 (C)為利於殖民統治與人力資源運用，實施戶口調查 (D)在後藤新平規劃下，成立舊慣調查會，針對台灣人習性，制定治臺方針。

31. 老師請同學討論，「1935年時臺灣地區電力總產能是1931年的3倍，產量也增加一倍。」以下是四位同學的看法，請問：何者的看法最符合史實？(A)王同學：因應台灣人口增加，每個家庭普遍裝設電燈，所以用電量大增 (B)張同學：當時的總督府為了要發展鐵路電氣化，所以需要大量用電 (C)李同學：配合「工業台灣，農業南洋」政策的電力需求，故新建電廠因應 (D)陳同學：因中日戰爭爆發，發展軍事工業需要大量用電。

32. 臺灣總督府在1935年舉辦「始政四十週年紀念博覽會」，在會場展示了臺灣物產及日人建設成果，也介紹了日本及南洋地區的風土名產。博覽會中可能出現以下哪些展示？(甲)高雄港開港紀念明信片 (乙)宜蘭-花蓮之間鐵路通車禮照片 (丙)「臺灣銀行」成立時人流往來照片 (丁)宣傳優良稻種「蓬萊米」的海報 (A)甲乙丙 (B)乙丙丁 (C)甲丙丁 (D)甲乙丁。

33. 日治階段，臺灣總督府之所以能夠建立穩固的統治基礎，與有效利用保甲組織十分相關。而下列關於臺灣保甲組織的敘述，何者錯誤？(A)保甲制度乃由日本國內引進台灣 (B)以十戶為一甲，十甲為一保 (C)保甲內若有人犯法，同保甲的民眾也要連帶受到處罰 (D)保甲內青壯年男子同時會被編入壯丁團組織。

34. 右圖，為1924年日本在國內及其統治的朝鮮、臺灣，每位警察的管轄人數。根據表格中的數據顯示，下列說法何者『正確』？(A)臺灣因總督專制，警察比例最低 (B)日本因人口最多，警察人數比例最高 (C)朝鮮警察權力很大，警察比例較臺灣高 (D)臺灣抗日事件頻繁，警察人數比例最高。

地區	警察：當地人口數
日本	1：1105
朝鮮	1：1040
臺灣	1：386

三、公民科(35-50題)

35. 2011年美國有線電視新聞網(CNN)的公民記者在網路票選出七種怪異食物，台灣的皮蛋被評為最噁心的食物之首，東西方對皮蛋的接受程度大不相同。請問以上說法最能表現出文化的哪一種特性？(A)普遍性 (B)差異性 (C)累積性 (D)制約性

36. 每次去廟裡拜拜前，大人總會叮囑小孩不要踩踏門檻、生理期不能拿香拜拜、戴孝者須滿1年才能入廟等。

根據以上敘述，請問這些拜拜禁忌具有文化的什麼特性？(A)普遍性 (B)累積性 (C)差異性 (D)制約性。

37. 華人向來認為「4」是不吉利的數字，醫院及旅館樓層也會避開「4」、車牌及手機號碼都會避開「4」。

上述觀念是受到下列哪種社會規範的影響？(A)風俗習慣 (B)法律規定 (C)宗教信仰 (D)倫理道德

38. 花媽帶著橘子到城隍廟拜拜，看到十八層地獄圖，便告訴橘子說：「人在世時如果做了壞事，死後將被打入十八層地獄受盡苦難來彌補生前做過的錯事。」由上述可知，花媽是以下列哪一種社會規範來教育橘子？

(A)宗教信仰 (B)倫理道德 (C)法律 (D)風俗習慣。

39. 杰瑞媽媽聽到兒子跟同學對話時常有「很emo、要確ㄟ、我沒了、8+9啦...」等用語，經過詢問確認才知道小孩們要傳達的意思是什麼。請問上述用語是何種文化現象？(A)次文化 (B)弱勢文化 (C)強勢文化 (D)主流文化。

日治時期，臺灣總督府為推動皇民化運動，開始強烈要求台灣人說國語（日語），限制對原本語言的使用，推動對「國語家庭」（國語の家）的特惠政策；國語家庭除了可被視為榮譽外，也能得到許多優惠措施，如：「國語家庭」的兒童能夠進入程度較高的「小學校」及優先進入中等學校就讀；公家機關會優先採用「國語家庭」的成員；「國語家庭」較容易申請到各種營業許可。1942年（昭和17年）4月，全台灣有9,604戶「國語家庭」，總人數為77,679人，約佔當時台灣總人口1.3%。（回答40-42題）

40. 請問：日語在當時台灣社會是屬於哪一種文化？(A)主流文化 (B)次文化 (C)強勢文化 (D)弱勢文化

41. 上文劃線部份列出日本統治者對「國語家庭」的差別待遇，這現象與下列哪一個概念的涵義相符合？

(A)文化傳承 (B)文化創新 (C)文化式微 (D)文化位階。

42. 日本當時是以何種方式在台傳遞文化與價值？(A)媒體廣告 (B)經濟貿易 (C)政治外交 (D)殖民。

43. 新聞報導新竹市某白色休旅車車主將車停在人行道，使行人被迫走在車水馬龍的馬路上，駕駛不僅對人行道的行人按喇叭，還不顧行人安全開走，直接擦撞行人。目前受害人已有報警備案，也有去驗傷了，等警察通知做筆錄加檢舉。請問：此車主的行為違反下列哪些社會規範？(甲)風俗習慣 (乙)宗教信仰 (丙)倫理道德 (丁)法律 (A)甲乙 (B)丙丁 (C)甲丙 (D)乙丁。

44. 日常生活中，個人行為經常受到社會規範的影響，下列何者具有強制力？

(A)在選舉投票時返鄉投票 (B)回教徒到到參加朝聖 (C)看電影時將手機關靜音 (D)登革熱疫情熱區住戶配合噴藥作業

45. 老師在課堂上說明「社會規範之間會互相影響」後，要求四位同學舉一個法律影響倫理道德的例子。請問：下列哪一項說法正確？ (A)政府為了遏止深夜吵鬧影響鄰居的行為，制定了社會秩序維護法。
(B)家明因為篤信基督教，所以把親友邀請到教堂，見證婚禮儀式。
(C)政府修訂空氣汙染防治法，對工廠的廢氣排放進行總量管制，提升大家對環境倫理的重視
(D)我國因為「養不教，父之過」的觀念，而有了親權的相關規範。

46. 過去在台灣的原住民族文化中，文面是泰雅族的習俗，傳統泰雅族的成年人文面是功績與榮譽的象徵。請問關於泰雅族的文面文化，下列敘述何者正確？ (A)成年禮文面，是依照一定程序制定的法律 (B)是長期累積，約定俗成的慣例 (C)是透過超自然力量，約束個人的行為 (D)文面至今仍是泰雅族人主流，不因時空變遷而改變。

「博愛座讓座」爭議不斷，日前有位女上班族因連續上班 12 小時，疲憊坐博愛座休息，卻被後來上車的 80 歲老人逼讓位，老人堅持這名女子應該讓出博愛座，期間還不斷強調，「這個是我的位子」。雙方爆發口角及扭打，女乘客因此情緒失控撞柱濺血送醫。捷運公司回應：「博愛座」讓座與否沒有法源基礎，只能道德勸說乘客。

國內近年因禮讓博愛座的議題引發社會熱烈討論，有民眾主張禮讓是美德，並無強制力，因此應廢除博愛座。然而大眾運輸工具之所以設置博愛座，是源自於《身心障礙者權益保護法》的規定，該法規定：「未提供對號座之大眾運輸工具應設置供身心障礙者及老弱婦孺優先乘坐之博愛座」，且比率不得低於總座位數的 15%，因此博愛座的設置不能任意廢除。(回答 47-50 題)

47. 文中，老人堅持女子應該讓出博愛座，老人的堅持對應哪一種社會規範？ (A)風俗習慣 (B)宗教信仰 (C)倫理道德 (D)法律。
48. 請由上文內容與社會規範概念推論，下列敘述何者正確？ (A)禮讓博愛座是以公權力為後盾強制約束民眾的行為 (B)民眾若未禮讓博愛座，會導致良心譴責與法規懲處 (C)博愛座的廢除與否，需立法機關經一定程序來決定 (D)我國目前博愛座的設置比例，並無明確的條文規範
49. 不讓座的女性上班族最有可能面臨下列哪一方式的處罰？ (A)社會輿論 (B)良心譴責 (C)法律制裁 (D)宗教力量。
50. 捷運公司的回應，說明法律在社會規範中的定位為何？ (A)最高標準的道德準則 (B)萬物運行的自然法則 (C)高深莫測的神祕力量 (D)無法約束內在良心

～～ 試題結束 ～～

請同學再次檢查：

1. 答案卡上的基本資料是否填寫完整
2. 答案除了用 2B 鉛筆劃記於答案卡外，記得也要抄寫至試題卷上！
(答案卡批改完畢不發回)