

# 高雄市中正高中國中部 114 學年度第一學期國一社會科第 1 次月考試題

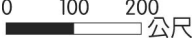
班級： 座號： 姓名：

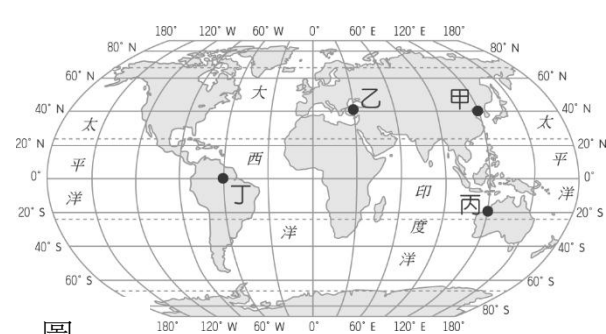
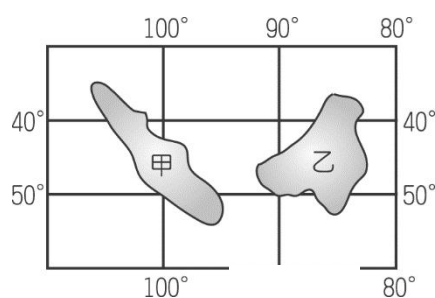
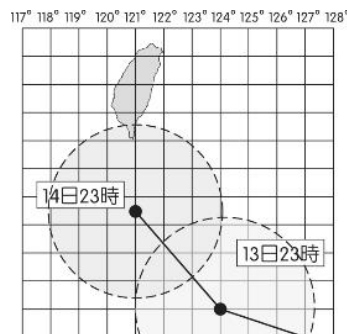
※每題 2 分，共 50 題 【試卷共 5 頁】

科目代碼:05 (請用 2B 鉛筆，將答案劃於答案卡上)

## 一、地理科(1-17 題)

1.師大地理系學生完成野外實察，學生在整理資料準備繪製考察地圖時，教授特別提醒要注意繪圖時所使用的比例尺標示，以避免在放大或縮小時出現誤差。請問：為避免上述情形發生，應使用下列哪一種比例尺標示法？

- (A)  $1/10000$  (B)  $1:10000$  (C) 一萬分之一 (D) 



2.圖(一)為某颱風行進路徑預測圖。請問：當時間為 13 日 23 時，颱風的中心位置位於臺灣的哪一方位？

- (A) 西南方 (B) 東南方 (C) 南方 (D) 西北方

3.圖(二)為位在某大洋中的雙子島觀光勝地，當地每年皆湧進大量的人潮，前往觀測星象並欣賞日出景觀。請問：下列有關該島群的敘述，何者正確？(A)甲島的日出時間較早 (B)甲島的位置較接近本初經線 (C)甲島的位置位於南半球 (D)乙島的位置位於東半球。

4.參與經貿合作視訊會議的四個國家位置如圖(三)所示。請問：圖中哪兩個地方之間零時差，因此溝通更為方便？(A)甲乙 (B)甲丁 (C)甲丙 (D)乙丁。

5.下列哪一種地圖最適合使用小比例尺來繪製？(A)太保市街道圖 (B)新竹市國民中學分布圖 (C)馬祖列嶼圖 (D)亞洲地圖。

6.2016 年的「巴西里約奧運」，熱鬧的閉幕式吸引了許多觀眾欣賞。當時臺灣的電視臺在巴西進行實況轉播，巴西當地的中央時區為西經  $45^\circ$ (西半球第三個時區)。請問：巴西與臺灣兩地的時間相差幾個小時？

- (A) 3 小時 (B) 5 小時 (C) 7 小時 (D) 11 小時。

7.位置的表示方法有兩種，下列哪一敘述是在說明「相對位置」？(A)精典美術館在 (5, C) 網格內 (B)漢堡店在輔仁路與中正路交會處 (C)樺加沙颱風目前位置在臺灣東南方的海面上 (D)閔宥坐在第 3 排第 5 列。

8.經緯線為標示地球上地理位置的重要參考。請問：下列何者敘述正確？(A)所有經緯線都是平行線 (B)所有經緯線都交會於南北極 (C)所有緯線長度皆一樣長 (D)所有經線長度都一樣長。

9.韻翎和瑜蒂兩人實際距離是 50 公里。請問：在  $1:2,500,000$  的地圖上，兩人的距離是多少？

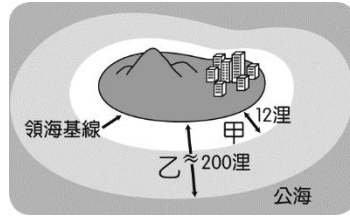
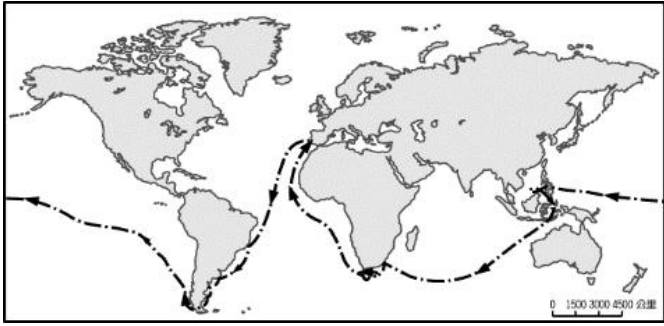
- (A) 2 公分 (B) 20 公分 (C) 5 公分 (D) 50 公分。

10.映慈準備從俄羅斯往北極進行探勘，發現這一帶的氣候十分嚴寒。請問：造成此一現象的最主要原因為何？(A)緯度高，太陽是斜射狀態 (B)夏季晝短夜長 (C)緯度低，陽光直射此區域 (D)緯度低，太陽輻射弱。

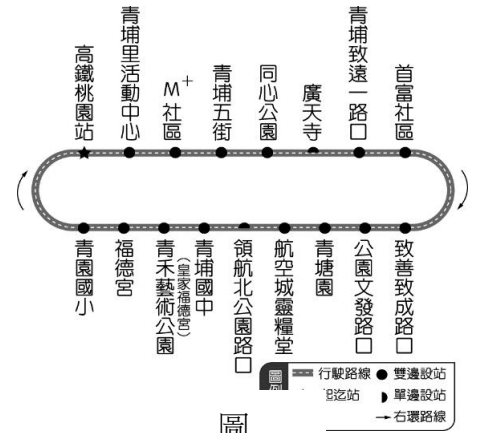
11.台灣生態多樣，有許多特有的物種，如臺灣黑熊、臺灣獼猴、帝雉等，常是學者研究的對象。上述特有生物的形成，與臺灣何種地理特徵關係最密切？(A)緯度適中 (B)島嶼孤立 (C)氣候複雜 (D)植被多元。

12.每年秋冬之際都會有大批的候鳥飛抵臺灣各地，為臺灣的生態環境增添不少色彩。請問：造成此種現象的主要因素為何？(A)臺灣冬季降水減少 (B)臺灣環境汙染較少 (C)臺灣天然植物較豐富 (D)臺灣位於熱帶與溫帶氣候的過渡帶。

- 13.交通部民用航空局統計，2023年1月至7月「過境航路服務費」收入已逾10億元，全年收入可望達18億元。請問：臺灣位處空運樞紐，是亞洲哪些地區的往來必經樞紐？(A)南亞和北亞(B)東北亞和東南亞(C)東南亞和南亞(D)東北亞和北亞。
- 14.由於中國在南海擴張領土，加上周圍國家的領海主權多所重疊，導致南海爭議持續延燒，引發全球關注。請問：此時若我國海軍欲前往位於南海的太平島(114°E, 10°N)宣示主權，從高雄港出發後，其航行方向大致為何？(A)西南方(B)東南方(C)西北方(D)東北方。



圖



圖

圖

- 15.圖(四)為麥哲倫航行地球一周路線圖，當時他的船隊由歐洲出發，其經過的海洋與大陸，先後順序為何？(A)歐洲→非洲→印度洋→亞洲→太平洋→南美洲→大西洋 (B)歐洲→太平洋→非洲→亞洲→印度洋→南美洲→大西洋 (C)歐洲→大西洋→非洲→太平洋→亞洲→印度洋→南美洲 (D)歐洲→大西洋→南美洲→太平洋→亞洲→印度洋→非洲。
- 16.圖(五)為沿海領域的範圍分布圖，請由圖中資料加以判斷，甲和乙分別為哪兩種海域範圍？(A)甲：領海、乙：經濟海域 (B)甲：經濟海域、乙：公海 (C)甲：公海、乙：經濟海域 (D)甲：領海、乙：公海。
- 17.由於桃園市中壢青埔地區的人口逐年增加，因應民眾通學及轉乘需求，市府交通局決定「217青埔環線公車」於2024年3月起上路，提供免費接駁高鐵機捷通勤，其中右環路線如圖(六)所示。下列何者是此地圖的主要功能？(A)呈現不同站點的到站順序 (B)計算站點之間的直線距離 (C)評估相鄰兩站的旅途時間 (D)查詢搭乘過程中所需費用。

## 二、歷史科(18-35題)

- 18.請閱讀以下對話：

鄭氏官員：「歡迎閣下來到東寧。貴國的毛織品品質優良，我們的士兵與官員都十分喜愛。若貴國願意提供穩定貨源，我們可考慮開放更多貿易配額。」

外國商人：「感謝接待。我們的國王十分重視與貴國的合作，已在亞洲多地設立商館。我們也希望能長期購買貴國的糖與鹿皮，並提供玻璃器皿與金屬工具作為交換。」

- 請問：根據對話內容判斷，這位外國商人最可能來自哪一個國家？(A)荷蘭 (B)英國 (C)西班牙 (D)葡萄牙。

- 19.請閱讀以下資料：

在十七世紀以前，臺灣的歷史主要來自考古發現與原住民口述傳統。到了十七世紀，外國勢力開始在臺灣活動，並留下大量文字記錄，例如荷蘭人建立城鎮、記載原住民社會與貿易情況；鄭成功來臺後，也有大量漢人文書與官方紀錄出現。這些改變使臺灣的歷史開始有系統的文字記載。

- 請問：根據資料，臺灣被認為在十七世紀進入「歷史時代」的主要原因是什麼？(A)歐洲勢力進入台灣 (B)

有系統的文字記錄開始出現 (C)漢人開始大量移民臺灣 (D)臺灣原住民開始與外界接觸。

20. 用火被認為是人類文化進步的一大原動力，因為代表人類進入熟食階段之後，死亡率會較為降低。請問：目前考古得知，臺灣最早哪一個史前文化已知道使用火？(A)卑南文化 (B)長濱文化 (C)十三行文化 (D)圓山文化。
21. 明娟暑假到國內某地旅遊，並順道參觀一個展示史前時代遺址的博物館，館內陳列的文物中有中國的銅錢、南洋一帶的瑪瑙和玻璃首飾等，其中最重要的是鐵渣和煉鐵爐的出現。請問：明娟旅遊的地點應該位於哪一個行政區？(A)台南市 (B)台中市 (C)新北市 (D)宜蘭縣。
22. 大航海時代，歐洲人紛紛到亞洲貿易、傳教，進而建立貿易據點。請問：下列歐洲國家在亞洲建立的貿易基地，何者配對錯誤？(A)葡萄牙-澳門 (B)荷蘭-巴達維亞 (C)西班牙-馬尼拉 (D)英國-雅加達。
23. 王教授是一位語言學家，專門研究南島語族的語言分布與文化遷徙。由於南島語族分布非常廣泛，所以王教授為了做研究必須經常出國，請問：下列何地應該不在他的研究範圍內？(A)紐西蘭 (B)夏威夷群島 (C)印尼 (D)印度。
24. 某個臺灣文化遺址頗富區域性色彩，如各種磨製大型石器，另外還有發現貝塚，保存大量食用後棄置的貝殼、獸骨、魚骨等，而且從石器的類型可判斷當時已經有進步的農業。請問：上述應為哪一文化遺址？(A)長濱文化 (B)大坌坑文化 (C)圓山文化 (D)十三行文化。
25. 承上題，此文化遺址應該位於右圖中何處？(A)甲 (B)乙 (C)丙 (D)丁。
26. 17世紀荷蘭人進佔臺灣，最早建立根據地的地點，應該是哪一原住民族群活動的範圍？(A)凱達格蘭族 (B)噶瑪蘭族 (C)貓霧揀族 (D)西拉雅族。
27. 十七世紀時，荷蘭人曾在臺灣建立一個國際貿易的轉運站，把非臺灣本地生產的商品經由臺灣轉銷到其他貿易地區。請問：下列哪些商品是當時荷蘭人經由臺灣轉運的商品？(甲)蔗糖 (乙)鹿皮 (丙)香料 (丁)絲綢 (A)甲、乙 (B)乙、丙 (C)丙、丁 (D)乙、丁。
28. 鄭氏家族在十七世紀縱橫於中國東南沿海，以下有關鄭氏四代領導人事蹟的描述，下列何者的敘述是正確的？(A)鄭芝龍承襲顏思齊的地位，開墾淡水、雞籠一帶 (B)鄭成功在陳永華的協助下設立孔廟，將漢人典章制度移植臺灣 (C)鄭經為突破清帝國經濟封鎖，在中國沿海進行走私貿易 (D)鄭克塽繼位後，鄭氏政權迅速衰敗，臺灣再度成為荷蘭人的地盤。
29. 小剛到台南安平參加一場歷史文化導覽活動，導覽員提到，這裡曾是17世紀荷蘭人在臺灣的重要據點。他們在此建立一座城堡，作為軍事與貿易中心，並與當地原住民及外國商人進行交流。請問：導覽員介紹的荷蘭城堡名稱應為 (A)普羅民遮城 (B)熱蘭遮城 (C)紅毛城 (D)聖多明哥城。
30. 某一歷史文件中有以下一段敘述：「本府於本年度內，對於臺灣蕃地之高砂族進行實地調查，旨在掌握其生活習俗、語言特性及部落分布。高砂族人多居於山地，性情剛毅，尚武之風猶存。宜特設蕃人教育所，教授國語及勤勞之道，俾使高砂族能融入文明生活……。」請問：此文件應該屬於哪一時期的史料？(A)清帝國時期 (B)鄭氏時期 (C)日治時期 (D)中華民國時期。
31. 考古學家將史前時代分為「舊石器時代」、「新石器時代」及「金屬器時代」，主要是依據下列何者進行劃分？(A)器具的材質與製作方式 (B)時間的長短 (C)已知用火 (D)空間的分布。
32. 閱讀以下資料：「17世紀中葉，日本幕府為防止外國宗教干預與政治滲透，逐步實施鎖國政策，禁止天主教傳教士入境，並限制與西方國家的貿易往來。在此背景下，幕府特別警戒與天主教勢力有關的國家。同一時期，一個天主教國家曾在臺灣北部建立據點，積極傳教並與原住民互動。由於其宗教背景與日本政策相衝突，



- 該國在東亞的活動也受到限制。」請問：上文所指曾在臺灣北部建立據點的天主教國家是？(A)西班牙(B)英國 (C)荷蘭 (D)葡萄牙。
33. 高雄左營區有許多眷村美食，眷村文化是左營區的重要特色之一，反映出軍事與社區生活的深厚連結。事實上，左營這個地名的由來也與台灣早期的軍事制度密切相關。請問：此制度為何？ (A) 清朝海禁制度 (B) 荷蘭殖民制度 (C) 鄭氏軍屯制度 (D) 明朝海禁制度。
34. 曉華的祖父母住在澎湖，每年曉華都會利用暑假回去探望，也順便走訪澎湖史蹟，了解澎湖歷史。請問：以下與澎湖相關的歷史敘述，何者正確？(A)澎湖有「沈有容諭退紅毛番」石碑，是明政府逼退荷蘭人的證據 (B) 葡萄牙人曾佔領此區，在此建立媽公城 (C) 鄭經在澎湖不敵施琅，向施琅投降 (D) 早期海商聚集於臺灣，後因荷蘭人登陸臺灣，海商活動地點轉移到澎湖。

### 三、公民科(35-50 題)

35. 2015 年，有位簡姓婦人隱瞞已懷孕 36 週的事實，由臺灣搭機赴美。因陣痛來襲，飛機緊急降落美國安克拉治，讓該名婦人於機上產女。此次事件引發許多飛航安全，以及為取得美國籍赴美生產的爭論。這位婦人的女兒取得美國籍的途徑為下列何者？ (A) 血統規則 (B) 出生地規則 (C) 歸化取得 (D) 移民取得。
36. 中華民國國籍的周先生與加拿大籍 Celine 結婚，並在加拿大生下女兒，取名叫「周安安」。有關「周安安」的國籍歸屬，下列何者敘述正確？
- (A) 小豪：因為周安安出生地為加拿大，所以她無法取得我國國籍
- (B) 小樵：因為母親 Celine 並非我國國民，所以她無法取得我國國籍
- (C) 小恩：因為父親周先生具有我國國籍，所以周安安擁有我國國籍
- (D) 大寶：因為周安安是混血兒，須經由歸化手續才能取得我國國籍。
37. 下列是四位網友在網路聊天室聊天的內容，若其中一人為我國國民，僅根據他們的敘述判斷，何者在聊天當時最可能具有中華民國國籍？
- (A) 小新：「我的出生地是日本，不過現在在臺灣工作。」
- (B) 小堯：「我出生當天，父親正好當選臺北市市議員。」
- (C) 小金：「我的父母都是美國人，但我在高雄市出生。」
- (D) 小瑞：「等了好久，我下週將前往內政部申請歸化。」
38. 公民有「廣義公民」及「狹義公民」兩種意涵。班上有幾個同學為其定義而爭吵不休。根據以下對公民廣義與狹義的說法判斷，何人的說法較為正確？
- (A) 曉諭：廣義公民指有參政權的中華民國國民 (B) 胖虎：只要是中華民國國民都屬於狹義公民
- (C) 大雄：外籍人士永遠沒有機會成為廣義公民 (D) 宜靜：我有罷免市長的權利，我是狹義公民。
39. 以下是阿明整理臺灣有關公民資格的資料，他所蒐集的資料中，哪一項是完全正確？
- (A) 臺灣是民主國家，所以對公民的參政權沒有年齡限制
- (B) 我國公民的選舉權是受到《中華民國憲法》所保障
- (C) 我國是民主國家，依據《國籍法》年滿 18 歲就有選舉權
- (D) 依我國《公民投票法》，年滿 20 歲之國民有公民投票權。
40. 由於現今社會充斥著假訊息，小雲每次收到有關自身利益的訊息時，都會進一步向相關單位求證，避免以訛傳訛、影響權益。小雲此舉符合現代公民應具備的何項基本德性？
- (A) 理性思考批判 (B) 捍衛公平正義 (C) 參與公共事務 (D) 遵守法律規範。
41. 林先生參與里民大會討論時，常常遇見少數里民與他意見不同的情況，不過他總是說：「雖然其他人的意見與我不同，但應該要讓大家都有發言的機會，不能剝奪少數意見發聲的權利。」上述林先生的作法，最能表現出哪一種公民素養？ (A) 重視自身權利，善盡國民義務 (B) 參與公共事務，積極監督政府 (C) 尊重不同看法，維護基本

人權 (D)熱心社會公益，經常回饋社會。

42. 小智深夜下班騎車回家，儘管街道上空無一人，但他遇到紅燈時，還是會乖乖停車，等待綠燈再繼續前行。小智的行為，符合現代公民的何項基本德性？  
(A)遵守法律規範 (B)參與公共事務 (C)理性批判思考 (D)捍衛公平正義。
43. 我國在立法時，除秉持《世界人權宣言》提到的平等概念外，亦給予弱勢群體合理的差別待遇，例如：要求政府機關或一定規模的私人機構，須聘用一定比例的身心障礙員工。該項法律內容，彰顯現代公民應具備的哪一項基本德性？ (A)遵守法律規範 (B)理性批判思考 (C)捍衛公平正義 (D)參與公共事務。
44. 王老師上課時，請同學舉例說明關於「人權」與「人性尊嚴」的敘述，下列何者正確？  
(A)人權是抽象的概念，人性尊嚴則可以具體條列 (B)人權是所有人不可或缺、不可剝奪的必要權利  
(C)人權強調每個人必須透過後天的努力才能獲得 (D)受刑人因犯罪沒有人性尊嚴，所以不須被尊重。
45. 以下為永賢的心情日記，「今天上班時，公車上有名男子偷摸鄰座女子的胸部，駕駛把公車開到警局，警察上車後就把該名男子依法送辦了。」日記中所指的「法」，應為哪一個法律？  
(A)《性別平等教育法》 (B)《性騷擾防治法》 (C)《性別平等工作法》 (D)《公民投票法》。
46. 廣告若傳達不適當訊息，可能產生強化性別刻板印象的效果。下列廣告臺詞中，何者最可能會產生上述效果？  
(A)體貼老婆的第一選擇，美滿牌掃地機器人 (B)健康活力滴雞精，孝順父母的最佳選擇  
(C)安康保全系統，守護全家人的平安與幸福 (D)男女需求大不同，營養補充各取所需。
47. 新聞報導：「立法院通過【甲】法律部分條文修正案，把『性霸凌』納入學校防治規定範圍，罵人『娘娘腔』、『男人婆』等，都可算是性霸凌。」根據上述內容判斷，【甲】法律應為下列何者？  
(A)《民法》 (B)《性騷擾防治法》 (C)《性別平等工作法》 (D)《性別平等教育法》。
48. 土耳其籍藝人吳鳳(Rifat)來臺發展14年，2015年與臺籍妻子結婚，2018年領到中華民國身分證，順利成為正港臺灣女婿，不過吳鳳取得身分證是依《國籍法》的「高級專業條例」，許多人好奇，到底吳鳳對臺灣有什麼特殊貢獻？吳鳳對臺貢獻真的不少，包括「第一位獲得金鐘獎最佳主持人的外國人」、「受中華民國對外貿易協會邀請，至土耳其擔任臺灣商品大使」、「於土耳其致力推廣臺灣文化與特色，包含接受 CNN Türk 訪問」、「出版四本中文書」及「受過無數農委會等相關政府單位邀請，出席推廣臺灣相關活動」等，都是對臺灣文化的重大貢獻。下列何人取得國籍的方式與吳鳳相同？  
(A)林小其是土生土長愛臺灣的年輕人 (B)陳大吉在美國出生，擁有美國國籍  
(C)葉大豐原住在英國，來臺灣讀大學 (D)原是美國籍的彭蒙惠老師領到身分證。
- ★某大企業對於新進員工的男女比例限定為8：2；女性員工不論從事哪一職務，皆須輪值早上擦拭辦公桌的打掃工作；有貴賓來訪時，女性員工不論從事哪一職務，都會被指派為客人端送茶水；同辦公室的男女同事若要結婚，則女性員工要自動離職。請問：
49. 根據上文，該企業已違反下列哪一項法律？  
(A)《公民投票法》 (B)《性別平等教育法》 (C)《性別平等工作法》 (D)《性騷擾防治法》。
50. 該企業應如何改善進用員工的標準，才合乎性別平權的精神？  
(A)男女比例改為1：1 (B)男女比例改為2：8 (C)主管級的全部進用女性，基層員工全部進用男性  
(D)男女比例不設限，依工作能力取才。

※試題結束

114-1 國 1 社會科第 1 次月考解答 (1-17 地理；18-34 歷史；35-50 公民)																			
1	2	3	4	5	6	7	8	9	10	11	12	13	14	15	16	17	18	19	20
D	B	C	C	B	D	C	D	A	A	B	D	B	A	D	A	A	A	B	B
21	22	23	24	25	26	27	28	29	30	31	32	33	34	35	36	37	38	39	40
C	D	D	C	B	D	C	C	B	C	A	A	C	A	B	C	B	D	B	A
41	42	43	44	45	46	47	48	49	50										
C	A	C	B	B	A	D	D	C	D										