

高雄市立中正高中國中部 114 學年度第一學期二年級第三次段考社會試題

科目代碼：05

二年__班 座號：__ 姓名：__

單一選擇題：100%（每題 2 分），共 50 題


（貼心提醒：答案卡一張 + 試題卷五大張）

【地理】

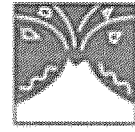
1. 右圖為亞洲某國常見的四種天然災害，因此該國特別重視防災工作，不管是防災演練或防災資訊網建置，甚至家家戶戶多備有防災箱或避難包。請問以上所指為何國？



地震、海嘯災害



風洪災害



火山災害



雪災

- (A)北韓 (B)日本 (C)南韓 (D)菲律賓。

2. 根據外媒報導，北韓過去一年深陷「文字

獄」，許多年輕人因使用南韓流行語因此遭到處罰，甚至嚴抓看南韓的電視劇與電影的人。北韓領導人金正恩過去曾表示，「K-pop 是可怕的癌症」，故以嚴刑峻法禁止，以防政權產生動搖。請問由上述可知南韓哪一項產業蓬勃發展連敵國都受到影響？(A)高科技產業 (B)觀光遊憩業 (C)遊戲軟體業 (D)文化創意業。

3. 「曾有人指出在南韓從出生到死亡，只要使用一種品牌幾乎可以全包，因為三星集團不只賣手機，還賣尿布，也開學校，賣壽險，甚至還開棺材店，其事業版圖有如八爪章魚，早已深入並壟斷南韓各大、小產業，也讓南韓常被戲稱為【三星共和國】。」請問：由上述可以看出南韓的經濟發展有何特色？

- (A) (B) (C) (D)



4. KKday旅遊平台販售韓國板門店『DMZ非軍事區』一日來回行程，『DMZ』位於南北韓邊界，是全世界戒備最森嚴且神祕的非軍事區，其可跨越南北韓國界的活動，成為旅客訂購此一行程的主要賣點。若出發前先用google map找尋此地區的衛星影像，下列哪組經緯度座標，最靠近『DMZ』？

- (A)(38°E, 128°N) (B)(128°E, 38°N) (C)(128°W, 38°S) (D)(128°W, 38°N)

5. 『日本機器人製造技術水準極高，發展出許多照護機器人，並應用在照護機構，也解決了其人口結構帶來的困境。』文中人口結構帶來的困境，指的可能是下列何者？

- (A)人口分布太集中 (B)性別比差異過大 (C)高齡化問題嚴重 (D)都市化程度太低。

6. 觀光業是日本極具競爭力的產業，小藍若要規劃前往當地旅遊，下列哪一個景點在夏季較為涼爽，平均氣溫為攝氏20-25度，氣候較為宜人？

- (A)戀戀櫻花東京溫泉行 (B)九州熊本旅行趣 (C)北海道富良野賞花行 (D)四國88寺朝聖之旅。

7. 下列何者”不是”南韓的知名企業？

- (A)三星電子 (B)現代汽車 (C)樂金電子 (D)任天堂電子遊戲。

8. 朝鮮半島的人口集中在黃海沿岸，日本人口則主要集中在太平洋岸，兩地人口分布的差異與下列哪一個因素的關係最密切？(A)緯度高低 (B)地勢高低 (C)降水多寡 (D)盛行風向。

9. 全世界新聞自由度倒數第一的北韓，「朝鮮中央通訊社」是該國唯一的新聞來源。下列哪一則消息最可能來自該通訊社？(A)我軍誓言發展核武，力抗萬惡美國 (B)加強捕捉泳渡黑龍江的叛逃者 (C)美國士兵闖越36°N停戰線已遭逮捕 (D)在偉大領導人祝福下，今年甘蔗田迎來豐收。

10. 日本特有的魚料理飲食文化，與其發達的漁業有關，下列何者不是日本漁業發達的原因？

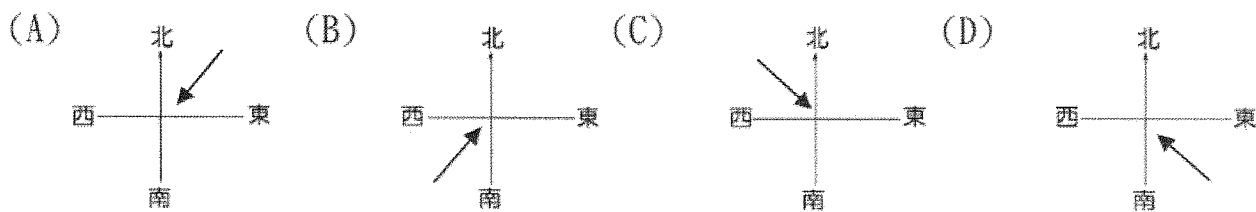
- (A)位於寒暖流交會處 (B)鄰近南太平洋漁場 (C)四面環海捕魚方便 (D)海岸曲折易建漁港。

11. 日本農民為獲得較高產量，以集約方式經營，此現象反映日本農業何種問題？

- (A)技術落後 (B)勞力不足(C)耕地狹小 (D)運輸不便。

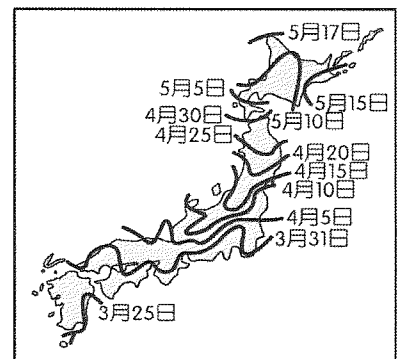
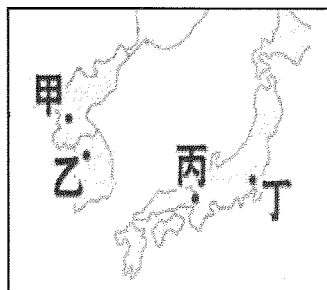
12. 右表為日本某一年的天災死亡人數，請問造成此一災害與下列哪一個風向密切相關？

死亡原因	未滿65歲	65歲以上
雪崩死亡	3	1
在除雪作業中因除雪、落雪死亡	31	64
一般因落雪造成死亡	11	17
被困在倒塌房屋壓傷而死亡	0	1
其他	2	2
合計	47	85



13. 關於東北亞城市特色及地圖對照，請問：下列何者正確？

- (A)甲城市是首爾，北村韓屋村為熱門韓劇拍攝場景
 (B)乙城市是釜山，東大門是古城門之一，附近為熱鬧商圈
 (C)丙城市是熊本，有著名的熊本城，台積電也去投資設廠
 (D)丁城市是東京，是日本政治及經濟的中心。



14. 參考附圖，此圖最可能是何種現象的日期示意圖？

- (A)楓葉轉紅日期(B)櫻花綻放日期(C)開始下雪日期(D)冷氣團侵襲日期。

15. 古代朝鮮王朝時期有所謂的「朝鮮八道」行政區(如右圖)，沿用至今仍是南北韓兩國的行政區劃分基礎。請問：傳統上，朝鮮半島上的人在入冬前須製作大量泡菜以儲備食物，請問圖中何地最晚開始製作泡菜？

- (A)全羅道 (B)咸鏡道 (C)江原道 (D)黃海道。



【題組】民國113年8月8日下午日本宮崎縣日向灘發生規模 7.1強震後，日本政府發佈未來一週恐發生規模8以上的巨大地震預警。下圖為此次預警的影響地區示意圖，請問：

日本南海海槽地震預警

8日宮崎縣日向灘發生規模7.1強震後，日本政府發布未來1周恐發生規模8以上巨大地震預警

主要影響地區：
 從沖繩縣到本州關東地方茨城縣
 共1都、2府、26縣、707市町村



16. 下列是此地震預警區的潛在災害評估報告，請根據此圖判斷，哪項災害的可能性最高？

- (A) 日本工業區進出口因港口損毀嚴重卡關 (B) 北海道漁業設施受海嘯波及受損極嚴重
(C) 迎風降雪對災後救援產生重大衝擊 (D) 親潮洋流魚群受地震擾動影響數量銳減。

17. 下列關於日本的文化特色，其背後成因與此預警系統的成因類似？

- (A) 賞櫻花文化 (B) 泡溫泉文化 (C) 看楓葉文化 (D) 生魚片文化。

【歷史】

18. 宗翰研究〇〇戰爭時，找到關鍵句：「爭取中國滿州權益」、「非小國能戰勝於大國，實立憲能戰勝專制」，請問：〇〇戰爭最有可能是何者？ (A) 鴉片戰爭 (B) 英法聯軍 (C) 甲午戰爭 (D) 日俄戰爭
19. 天天旅行社規劃了中國城市深度旅遊，廣告文宣寫：「19世紀中國以來，對外開放的五大港口之一，外國人移居漸增，城市改造，西方物質文明快速傳入…」，請問：天天旅行社規劃的行程是哪個中國城市呢？ (A) 南京 (B) 上海 (C) 北京 (D) 西安
20. 鐵路興建是工業化和現代化的核心驅動力，它打破了地域隔閡，加速了物資、資金、人口的流通，催生了大規模的工業生產與市場擴張，重新定義了時間空間觀念，並與國家建設、民族整合、城市規劃緊密結合，成為工業社會運轉的骨骼，請問：中國第一條鐵路應該興建於何時？ (A) 17世紀 (B) 18世紀 (C) 19世紀 (D) 20世紀
21. 林達是19世紀中期的上海人，他認為近來美國傳教士創刊的某報刊為「西學新知的總薈」。某報刊應為下列何者？ (A) 《幾何原本》 (B) 《萬國公報》 (C) 《臺灣民報》 (D) 《自由中國》
22. 清芳創作劇本，以清末的中國社會為背景，西力衝擊下的上海為舞台的愛情故事，請你幫清芳檢視哪一個設定是需要修正的？ (A) 學成歸國的女主角 (B) 與擔任《申報》編輯的男主角 (C) 在虹橋機場道別 (D) 欲為廣州革命做準備
23. 清代康雍乾盛世雖然文治武功強盛，卻也逐漸走向封閉自守的狀態，尤其在乾隆皇帝時，只開放何處作為外商貿易的口岸？ (A) 南京 (B) 澳門 (C) 泉州 (D) 廣州
24. 英國商人華生於1852年來華，在廣州與中國小販發生衝突，失手將對方打死了，卻步用被押送到衙門接送審判，使當地居民忿忿不平，這是為當時英國擁有什麼特權？ (A) 租界 (B) 協定關稅 (C) 片面最惠國待遇 (D) 領事裁判權
25. 東元與華興兩位同學在討論「英法聯軍」的發生背景。請問：他們的討論，何種說法符合史實？ (A) 英國希望修約與中國全面通商遭拒 (B) 法軍進攻中國的藩屬越南 (C) 琉球人民遭殺害 (D) 基隆、澎湖遭到列強攻擊
26. 自強運動推動之時，成立了「總理各國事務衙門」作為推動改革的總機關，同時該組織也具備今日哪個政府組織的功能？ (A) 法務部 (B) 交通部 (C) 外交部 (D) 教育部
27. 19世紀中國遭逢「數千年來未有之變局」，確實遇到「數千年來未有之強敵」，是「清廷應付中西一連串衝突的開端」，也是「中國歷史轉入新階段的起點」。以此段文字判斷，「開端」和「起點」所指的是下列何者？ (A) 鴉片戰爭 (B) 英法聯軍 (C) 甲午戰爭 (D) 清法戰爭
28. 下表為外國在華設廠數量和資本額情況表。請問：1894-1913年間，數字大幅成長的原因為何？
- | 時期(西元年) | 設立工廠家數 | 設立時的資本額(千元) |
|------------|--------|-------------|
| 1840-1870 | 7 | 2,802 |
| 1870-1894 | 16 | 4,829 |
| 1894-11913 | 136 | 103,153 |
- (A) 自強運動招商成果豐碩
(B) 清朝被迫簽訂天津條約，開放通商口岸
(C) 馬關條約允許日本和列強在通商口岸設廠
(D) 天津條約對外採開放政策

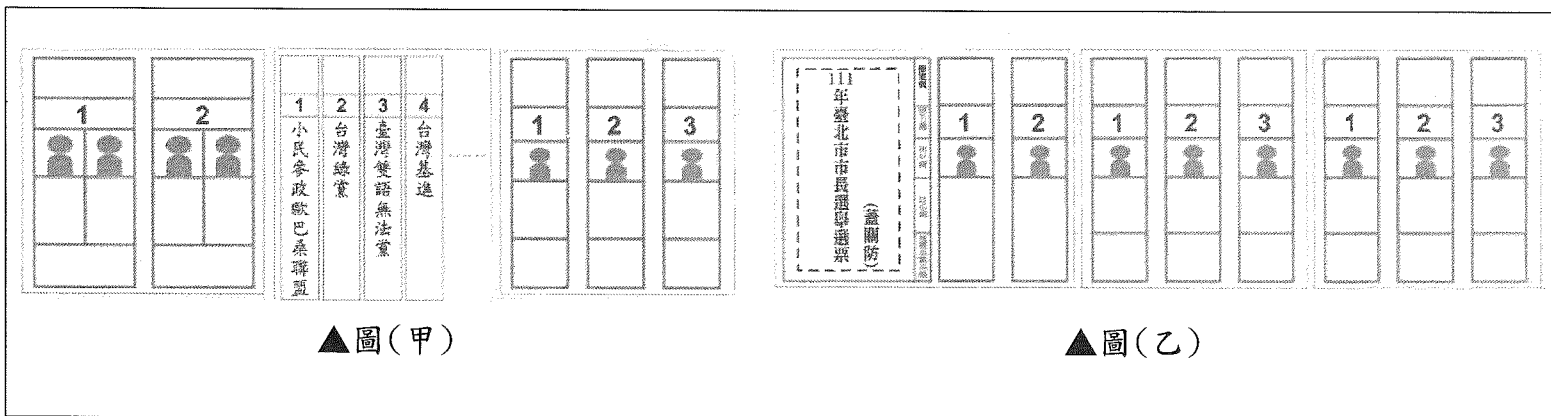
29. 【資料一】：光緒 21 年，與日議和，康有為、梁啟超此時正在北京參加會試，聯合各省舉人，上書提出拒和、遷都再戰、變法自強、練兵購械等訴求，這次上書雖未被朝廷所接納，卻帶動在野的知識份子表達對國家大政的意見。
- 【資料二】：光緒 20 年，孫中山到天津，請託他人介紹於李鴻章，並上書闡明自己的政治理想，但此時戰雲密布，李鴻章並沒有重視孫中山的建言，他才放棄和平改革的想法，認定滿清政府不能負擔抵禦外侮的責任，於是轉而從事推翻清廷的工作，同年九月，孫中山赴檀香山，聯絡當地的有志之士，共同組織革命團體，成立興中會。請問：閱讀完資料一與資料二，請你判斷這是哪一件事情後，中國政治路線上出現的分歧？(A)甲午戰爭 (B)英法聯軍 (C)八國聯軍 (D)日俄戰爭。
30. 兩位知識分子，正在討論最近清政府所公布的詔令：
- (甲)：我辛苦寒窗苦讀十年，為了科考一舉成名，光耀門楣，如今一切成了泡影。
- (乙)：政府廢除科舉考試，等於是斷了我們的出路，我們以後該何去何從呢？
- 請問：根據這兩位知識分子的談話內容可知，當時政府在推動哪項改革？
- (A)自強運動 (B)戊戌變法 (C)立憲運動 (D)庚子後新政
31. 歷史老師上課時說道：「中國簽訂了這個條約內容以後，若將來有其他國家與中國簽訂不平等條約，英國都能以此援例同享特權。喪失權利給一個國家便等於喪失權利給所有簽訂此條款的國家，對中國的危害不小呢！」請問：這是指外國取得什麼權利？
- (A)片面最惠國待遇 (B)協定關稅 (C)領事裁判權 (D)租界使用權
32. 位於北海道的函館市，因一個西力衝擊的歷史事件，成為日本最早開港通商的港口之一。而這次的開港通商，對日本的造成很大的影響。有關開港通商的原因與影響，下列敘述何者正確？(A)造成這次開港通商的歷史事件，是為牡丹社事件 (B)這個歷史事件，與俄國有關 (C)開港通商後，日本國內排外的氣氛消失 (D)這個歷史事件，間接促成日本的明治維新
33. 許多大型的活動經常會設計一些宣傳口號，一方面宣示主張，一方面加強印象以激勵人心。請問：下列何者是清末「義和團」所提出的代表性口號？(A)反清復明，殺盡洋鬼子 (B)外爭主權，內除國賊 (C)師夷長技以制夷 (D)扶清滅洋，仇洋反教
34. 大雄到北京大學(原京師大師堂)參觀，聽到校長介紹道：「北京大學是一所歷史相當悠久的學校，自清末成立以來，一直是中國的學術重鎮之一，培養了許多優秀的知識分子。」請問：北京大學的成立最早始於何時？(A)自強運動期間 (B)戊戌變法期間 (C)庚子後新政期間 (D)立憲運動期間

【公民】

35. 投票是民主社會中重要的政治參與形式，公民老師請同學準備關於投票的報告，右圖是依佳在報告中引用的資料。依照我國《憲法》規定的選舉投票原則判斷，該引用資料較符合下列何種公平投票原則？(A)普通 (B)平等 (C)直接 (D)無記名。
36. 郁芬在 2024 年我國辦理中央公職人員選舉投票時，領取三張選票如圖(甲)，且以此選出兩種公職人員。於 2022 年地方公職人員選舉投票時，郁芬則是領取三張選票如圖(乙)，且是選出三種公職人員。上文若根據我國相關法律判斷，下列推論敘述何者最為正確？

歷史上的今天

1893 年 11 月 28 日，紐西蘭女性首次在大選中行使投票權，是第一個立法讓成年婦女擁有投票權的區域。



▲圖(甲)

▲圖(乙)

(A)透過圖(甲)所選出的公職人員連選得連任，次數不限 (B)欲領到圖(甲)的三張選票，僅需設籍於選舉區四個月 (C)郁芬戶籍所在的行政區，應不屬於直轄市之山地原住民區 (D)受到監護宣告者，依然可以成為圖(乙)中的公職候選人。

37. 宇晴是我國國民，自幼設籍於新北市，2025年8月初因家庭因素把戶籍遷至高雄市，宇晴的年齡符合法定投票資格、並未受監護宣告，於是她上網查詢在當月23日中央選舉委員會所辦理的全國性公民投票，其內容為「您是否同意第三核能發電廠經主管機關同意確認無安全疑慮後，繼續運轉？」根據我國現行法律判斷，下列敘述何者最為正確？(A)宇晴依法須年滿20歲才具有此次投票資格 (B)此次投票為對人的投票以彰顯主權在民的精神 (C)宇晴因戶籍遷徙而無法取得此次投票的資格 (D)此次投票是為了落實《憲法》保障的複決權。

38. 羽蕎是Food-alpaca的外送員，有一天她在派送外賣餐點時，發現有一組地址搜尋時，都顯示「本地點不存在」，讓她很懊惱在接單時怎麼沒有及時發現這組幽靈地址的錯誤。根據我國現行《地方制度法》之劃分判斷，下列何者最可能是上述提到的地址？

(A)嘉義市東區光華路108號 (B)台南市安平區安平路408號 (C)臺東縣臺東市更生北路12號 (D)桃園市大溪鎮和平路61號。

39. 甲、乙、丙三人的居住地資料如右表，近日三人分別向地方民意代表陳情，希望他們能反映民情。根據表中資料判斷，此三人所陳情的對象，最可能分別為下列何者？

居民	居住地
甲	嘉義市
乙	臺南市
丙	彰化市

(A)甲：市議員/乙：市議員/丙：市民代表
 (B)甲：市議員/乙：市議員/丙：市議員
 (C)甲：市民代表/乙：市議員/丙：市議員
 (D)甲：立法委員/乙：市民代表/丙：市議員。

40. 靖芸的戶籍地為宜蘭縣羅東鎮，2022年時年齡雖才40歲，卻已經深耕地方，在同一戶籍地，連續當選多次公職人員。但她認為自己服務地方的經驗已經足夠，決定在2022年縣長任期屆滿後，轉而角逐立法委員。根據上述及我國《公職人員選舉罷免法》相關規定判斷，下列何者最可能是靖芸在2022年之前的公職歷程？(A)鎮長→鎮長→鎮民代表→縣長 (B)里長→鎮民代表→鎮長→縣長 (C)鎮民代表→縣長→縣長→縣長 (D)鎮長→鎮長→鎮長→縣長。

41. 基於對原住民族的尊重，法律規定將原住民族為主的行政區設為山地鄉，鄉長必須是原住民，隨著(甲)部分行政區改制升格直轄市，山地鄉改制為區，無法再選出鄉長。對此(乙)立法機關修法，讓(丙)直轄市山地原住民區可以選出行政首長與民意代表，延續傳統文化、落實原住民族自治。對於上述內容的說明，下列何者正確？

(A)(甲)提到的行政區包含臺北市 (B)(丙)的原住民區可能在基隆市 (C)(乙)的修法機關為直轄市議會 (D)(丙)的民意代表是指區民代表。

42. 有民眾在嘉義市北香湖公園目擊上百隻麻雀跟在一部機車後面飛行，畫面相當壯觀，目擊民眾表示，應是附近經常有人餵養麻雀、鴿子等飛禽所導致。嘉義市政府建設處提醒，若民眾有上述餵食行為，恐將違反《嘉義市公園管理自治條例》規定，影響民眾在公園休憩及使用上的安全，依法可對行為人裁處 1200 元以上 6000 元以下的罰鍰。關於文中內容敘述，下列何者正確？(A)文中縣市的地方政府層級與新北市相同 (B)文中法規的制定，屬於政府行政權之行使 (C)公園的管理業務，屬於安全衛生自治事項 (D)餵食者被裁處罰鍰，符合責任政治的特色。
43. 正逢全國性公民投票的舉行，昕鑠與家人們分享對此次議題的看法。若家人們皆符合國籍與設籍的相關規定，根據下列資料判斷，哪些人可以參加此次投票？

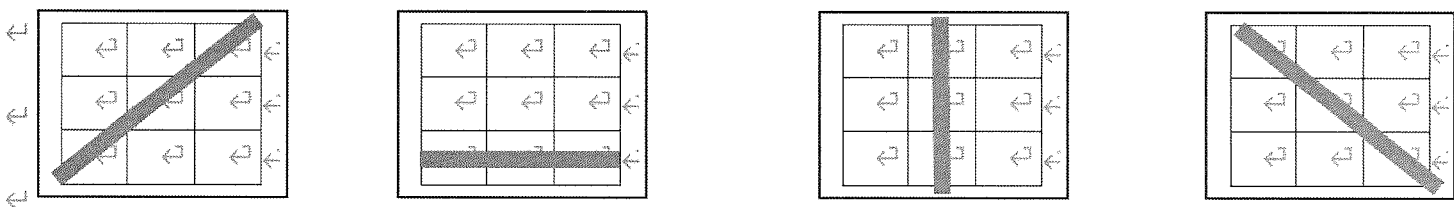
甲、	昕鑠:今年滿 20 歲，對公共事務充滿熱忱
乙、	爸爸:今年滿 65 歲，現在在區公所中任職
丙、	昕麟:今年滿 25 歲，前年因犯罪褫奪公權，尚未撤銷
丁、	奶奶:今年滿 70 歲，因身體健康問題，受法院裁定監護宣告

- (A)甲乙丙 (B)甲乙丁 (C)甲丙戊 (D)乙丁戊。
44. 公民老師在講解民選公職人員的最低參選年齡、任期和連任次數，讓同學分組進行搶答遊戲；答對問題的同學可以在表格的空格填上該民選公職人員的名稱，最先將「最低參選年齡、任期和連任次數相同的民選公職人員達成連線者」獲勝。右圖是第七組四位學生所填寫的結果，根據內容判斷，應是由下列哪一位同學獲勝？

立法委員	仁愛鄉長	總統
茂林區長	埔里鎮長	高雄市議員
基隆市長	彰化市長	台南市長

*將同一直列或橫列的三個格子連線，或對角線的三角格子連線，最先達成連線者獲勝。

- (A) 宥蓁 (B) 家德 (C) 阿保 (D) 梅娟



45. 地方自治團體依法實施自治，關於其組成的行政與立法機關，下列何者配對正確？
 (A)宜蘭市:宜蘭市政府/宜蘭市議會 (B)新竹市:新竹市政府/新竹市議會
 (C)臺灣省:臺灣省政府/臺灣省諮議會 (D)苓雅區:苓雅區公所/苓雅區民代表會。
46. 有鑑於以往選舉活動過於密集，除了選務工作須花費大量成本外，也容易造成社會紛擾，於是我國目前採用每隔兩年交錯的原則，分別辦理中央層級與地方層級公職人員的選舉。根據下表內容判斷，我國將於 2026 年年底辦理地方公職人員選舉為例，判斷南投市的選民可以拿到的選票組合？(A) 甲 (B) 乙 (C) 丙 (D) 丁。

選票組合	直轄市市長	直轄市議員	縣長	縣議員	縣轄市市長	市民代表	山地原住民區區長	山地原住民區民代表	里(村)長
甲	✓	✓	✓	✓	✓	✓	✓	✓	✓
乙			✓	✓	✓	✓			✓
丙	✓	✓							✓
丁					✓			✓	✓

47. 平安市政府研擬了一份疏濬河道計畫，希望以該市的經費，徹底解決每逢大雨必成災的問題。請問：經費花用流程，填入機關部門代號，請問何者順序是正確的？

a.平安市政府 b.平安市議會 c.立法院 d.行政院 e.監察院

擬定預算計畫 → 審查預算計畫 → 執行施工 → 審查決算

(A) a→b→a→e (B) d→c→d→c (C) a→c→a→c (D) d→c→c→d。

48. 我國共計有 22 個行政區，包括 6 個直轄市、3 個市及 13 個縣。請問以下哪一個組合是屬於與縣同等級的市？(A)臺北市、新北市、桃園市 (B)基隆市、新竹市、嘉義市 (C)基隆市、台中市、高雄市 (D)桃園市、台中市、嘉義市。

49. 各級地方政府做為民眾尋求協助的第一線政府，每天都影響民眾日常生活的品質。小林說滿 14 歲了，可以來辦身分證。請問下列哪一位去的棟別和小林一樣？

- (A)阿翰:我已達兵役年齡，但目前仍在就學，需要申請在學緩徵
(B)阿勝:冬天快來了，為讓身體獲得足夠的保護力，我要去接種流感疫苗
(C)文芳:我的小孩出生快滿 2 個月了，要趕快來幫他報戶口，還要順便申請育兒津貼
(D)威勝:我最近剛買新房子，要來辦理房屋登記。

A 棟	社會課
B 棟	地政事務所
C 棟	衛生所
D 棟	戶政事務所
E 棟	兵役課

50. 有四位不同地區的國中生填寫「初領國民身分證申請書」，下列哪位學生填寫的戶籍地址完全正確？

- (A)王麗美：高雄縣小港區幸福里 005 鄰小港路 158 號
(B)陳佳佳：臺中縣臺中市民生里 025 鄰自由路一段 95 號
(C)李文豪：新竹縣新竹市美滿里 010 鄰中華路二段 270 號
(D)林大華：花蓮縣花蓮市民權里 001 鄰菁華街 4 巷 1 弄 2-2 號。