

# 高雄市立中正高中國中部 114 學年度第 1 學期二年級第 2 次段考社會科試題

科目代碼：05

二年\_\_班 座號：\_\_ 姓名：\_\_

選擇題：100%（每題 2 分） 共 50 題！ 貼心提醒：答案卡一張 + 試題卷六大張

【地理】：1-17 題(每題 2 分) (第 3-4 課)(共 6 頁)

1. 哪一個城市位於中國海岸線與長江水運交會點，交通便利且腹地廣大，是中國工、商、金融中心？

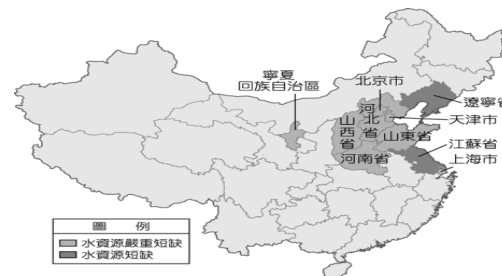
(A)天津 (B)廣州 (C)上海 (D)重慶。

2. 附圖為中國的四大經濟區圖，何區人口稠密、勞力充足，且擁有優越的對外交通優勢，成為經濟最繁榮的地區？(A)甲(B)乙(C)丙(D)丁。



3. 中國近年來致力「西部開發」，這是由於廣大的西部經濟區的開發仍屬落後階段。其未來發展最大的潛力為何？(A)鐵、公路網密布(B)工業基礎雄厚(C)沿海交通便利(D)礦產資源豐。

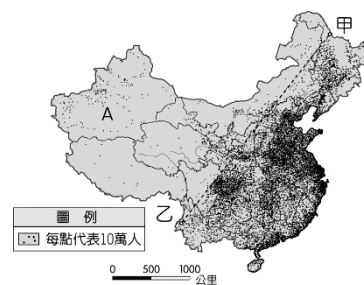
4. 農業活動中受到自然環境的影響相當大，其中灌溉水源為農業發展必要的條件。但中國的水資源由於人口增加及工商業的使用，漸趨不足，缺水狀況(深色區域)如附圖所示。請問：圖中水資源嚴重短缺的地區大多位在何處？(A)東北平原(B)華北平原(C)珠江三角洲(D)青藏高原



5. 根據右圖，可以顯示出中國的何種人口問題？

(A)人口過多 (B)教育低落 (C)分布不均 (D)性別不均。

6. 中國利用「南水北調」工程，調節兩大河流水量，並藉此平衡區域發展，關於此工程的敘述何者錯誤？(A)引長江水到黃河使用 (B)輸水方向由南至北(C)為東北振興政策內容 (D)可有效緩解北方地區水資源吃緊狀況。



7. 『中國一帶一路倡議使得斯里蘭卡將漢班托塔港租借給中國長達198年，更間接導致斯里蘭卡宣布破產，中國不僅沒有積極出手金援減債，反而另尋新的受害者。印媒披露，中國更允諾提供尼泊爾1.18億美元（約台幣35.7億元）的援助，外加興建一條經西藏的跨境鐵路。上述報導參與一帶一路的國家因可能無力償還向中國的借款，終將把國內重要建設控制權交給中國……』與中國合作一帶一路的經濟體在與中國合作的過程中，普遍可能會面臨下列哪些問題？(甲)積欠的龐大建設費用(乙)本國勞工薪水增加(丙)國內政治可能受中國影響(丁)本國的自然資源難以開採 (A)甲乙(B)甲丙(C)甲丁(D)丙丁。

8. 萌萌是中國傳統的牧民，每到春天他要驅趕羊群上山，之後在山上度過整個夏天；到秋天涼風吹起時，便要收拾東西趕著羊群往山下移動，以方便在嚴冬來臨前回到山下的家避冬。請問：萌萌的家最可能位在右圖何處？(A)甲 (B)乙 (C)丙 (D)丁。



9. 地理課時，老師請同學以「中國經濟崛起」為題發表自己的看法，下列何者的說法正確？(A)小安：「中國務農人口眾多，第一級產業就業人口比例逐年上升。」

(B)小鈞：「中國因為製造成本較高，成為世界工廠。」

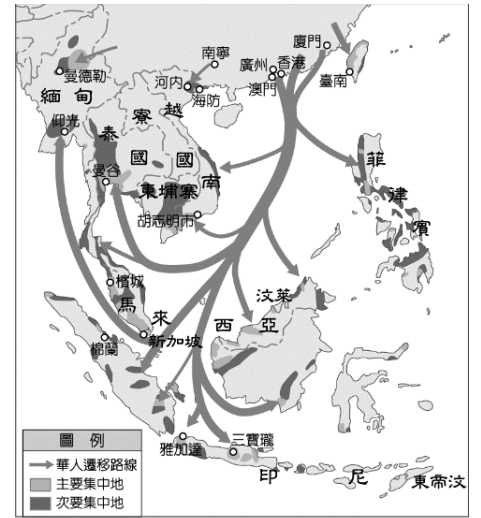
(C)小儀：「中國窮人太多，缺乏消費市場，商機不佳。」

(D)小森：「中國在發展經濟的同時也製造大量廢棄物，如排放過多的污染物到大氣中。」

10. 中國為擴大其經濟版圖，積極與各國簽訂自由貿易協定，其中「區域全面經濟伙伴協定」的英文縮寫為何？(A)RCEP (B)ASEAN (C)WTO (D)APEC。

11. 一年一度的雙 11 狂歡購物節又來了，雙 11 節日的發展典故是「光棍」的意思，也就是現下流行用語「單身狗」，這起源於中國一群男大學生找不到交往對象而自我解嘲。如果從節日流行的背景原因思考，此現象和何者關係最低？(A)實施一胎化 (B)傳統觀念重男輕女(C)性別比 > 100 (D)壯年人口比例提高。

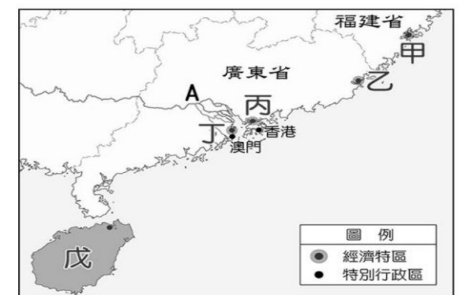
12. 中國某個少數民族有一首古歌謠，歌詞裡傳唱著：「祖公的地盤好比一條船，人太多了要翻船；一棵樹上一窩雀，多了一窩就挨餓。」請問：其涵義最接近下列哪一種選項？(A)人口遷移 (B)環境負載力(C)扶養比 (D)性別比。
13. 中國 1949 年建國以來，面臨嚴峻的人口問題，於不同時間點分別制定重大人口計畫，請依時序找出正確的人口政策為何？(A)一胎化→開放二胎→提倡三孩(B)提倡三孩→一胎化→開放二胎(C)一胎化→提倡三孩→開放二胎(D)開放二胎→一胎化→提倡三孩。
14. 中國因人口眾多且資源分布不均，快速增加的人口可能造成糧食不足的窘境，促使中國人不斷向外遷移，尋找更多可耕地或工作機會，僅於逢年過節返回中國探親。右圖為華人遷移圖，請根據此圖判斷，**明清時期的華人，若要返鄉回中國探親，應該順著下列哪一個風向回去？**  
(A)西北季風 (B)東北季風(C)西南季風 (D)東南季風。
15. 中國現代農業面臨的挑戰，何者為「非」？  
(A)農業生態惡化 (B)人均耕地面積狹小  
(C)水資源分配不均 (D)偏重糧食生產，對畜產品與海產品需求不高。



【題組】

「經濟特區」主要是為吸引外資或鼓勵國際跨國企業進駐而設立，制定特別寬鬆或具有優惠條件經濟發展的區域。截至2010年止，中國成立了6個經濟特區，1980年代陸續成立的5個（如附圖），後來的1個則選擇在中國最大的省區境內。請回答以下問題：

16. 「經濟特區」是中國經濟改革開放的重點，下列有關於經濟特區的敘述，哪個是正確的？  
(A)所有的經濟特區皆位於東部經濟區(B)以出口為導向的生產模式  
(C)早期以資金密集的重工業為主(D)位於礦產豐富之地。
17. 後期設立的經濟特區位於內陸，可與中國近期哪一個經濟政策相呼應？  
(A)振興東北(B)一帶一路(C)中部崛起(D)居住證制度。



【歷史】：18-34 題(每題 2 分)

18. 宋元時期，得益於遠洋航海技術的發展，沿海城市頗為繁榮，因應興盛的貿易，宋代政府還設立一個類似今日的海關機構，請問：下列哪個城市設有這個機構？(A)大都 (B)臨安 (C)泉州 (D)汴京
19. 科舉始於隋朝，是讀書人入仕的重要途徑。宋朝因實施文人政治，參與科舉的人數眾多，出現了謄錄與彌封等防弊措施。請問：科舉制度發展至元朝科舉制度有什麼樣的改變？ (A)由市舶司負責報名  
(B)驛站作為考試試場 (C)通過考試即可以成為色目人 (D)考場人手一本四書集注
20. 北宋自占城引進新品種的糧食作物，使糧食產量大增，進而促進中國人口增長，活絡了經濟。明清時期，卻因人口過度增長，糧食供應成為問題，請問：當時如何解決糧食供應的問題？  
(A)命鄭和下西洋帶回早熟稻 (B)透過蒙古西征擴大統治範圍 (C)由具有武裝力量的海商引進芋頭  
(D)經由新航路引入玉蜀黍、馬鈴薯等作物
21. 「三寶太監(鄭下西洋)」的故事，是中國戲劇重要的題材之一。關於此事件對明帝國的貢獻，下列何者正確？(A)開拓絲路貿易 (B)擴大朝貢貿易的規模 (C)占領許多殖民地  
(D)明成祖被稱為「天可汗」
22. 阿鼎學習「明清時期東亞世界的變動」時抄寫了筆記如右圖，請你幫他的筆記下一個標題？(A)流寇為亂劇烈 (B)康熙實施海禁 (C)葡萄牙人從中壟斷  
(D)雍正下令禁教



23. 在張擇端的《清明上河圖》中，可以窺見北宋工商業發達，商品經濟熱絡，以及首都繁榮的景象。圖中所描繪的是宋代哪個城市的熱鬧景象？(A)大都 (B)臨安 (C)泉州 (D)汴京
24. 在明代及清初時都曾實施海禁政策，對外貿易因此受到限制。明代與清初實施海禁分別是用來防範哪些對象？(A)倭寇；鄭氏政權 (B)流寇；蒙古人 (C)荷蘭人；葡萄牙人 (D)女真人；蒙古人。
25. 有一段記載：「在大海上行船，如何辨識地理方位非常重要。水手們辨識方位，白天靠太陽，晚上靠星星，在看不到星辰的陰天則可以利用指南針。」請問：指南針是何時開始用於航行？(A)唐代 (B)宋代 (C)元代 (D)明代
26. 清朝對於知識份子加以控制與壓制，下列何者可能是當時對於知識份子的壓制措施？(A)要求纏足 (B)廢除科舉 (C)焚書坑儒 (D)大興文字獄
27. 小祥在書中看見一段史料如下：「凡外夷者，我朝皆設市舶司以領之。……許帶方物，官設牙行與民貿易，謂之互市。是有貢船，即有互市，非入貢即不許其互市。」請問：這段文句敘述是指下列何種貿易型態？(A)坊市制度 (B)走私貿易 (C)朝貢貿易 (D)開港通商
28. 娜娜看電視劇，劇中的主角說：「我只是個農民，近來天災不斷，收成不好，為了活下去，我只好當起強盜，到處流竄，沒想到最後成為領袖，領導兄弟們一起攻陷北京，消滅了明朝。」請問：這部劇的主角可能是誰？(A)吳三桂 (B)李自成 (C)朱元璋 (D)趙匡胤
29. 北宋實施重文輕武政策，國力雖然因此積弱不振，但文風鼎盛，加上印刷效率高，使文化學術比隋唐更上一層樓，請問：上述現象與北宋何項發明有關？(A)造紙術 (B)活字印刷術 (C)火藥 (D)指南針



圖乙

30. 1662 年信仰某教人士在江西建昌府刻印出版了一本拉丁文書籍，書名為《中國的智慧》，內有孔子傳記以及論語前部譯文等，這是四書第一次正式譯成拉丁文並刊行，後傳到歐洲，讓歐洲學界首度能較完整的了解中國儒學。請問：「某教」是指下列何者？(A)佛教 (B)天主教 (C)基督教 (D)伊斯蘭教
31. 圖乙兩幅圖分別為官方頒發的牌符及當時可通行使用的路線。根據內容判斷，這兩幅圖最適合用來說明下列何者？(A)漢朝的對外征伐路線 (B)唐朝的統治區域範圍 (C)宋朝的陸路貿易路線 (D)蒙古帝國的勢力範圍
32. 一千多年前，一個游牧部落在中國東北方建國，是為「甲國」。「甲國」人完顏辛打算過了這個冬季，到南方的邊境取得「乙國」的稻米、棉布、瓷器等用品。後來，「甲國」發動戰爭，完顏辛也從軍征戰。在這場戰爭中，他目睹族人攻陷「乙國」的首都，並擄走了「乙國」的皇帝。完顏辛原想此後能至南方享用當地的物產，但因局勢演變，終究未能如願。文中提及的「甲國」是指哪一草原民族？(A)契丹 (B)匈奴 (C)突厥 (D)女真
- 7 世紀時，中國為東亞、北亞的霸主，四方來朝；到了 11 世紀，北方草原民族崛起，侵略中國。中國首先與甲國簽訂盟約，互稱兄弟；12 世紀，由於中國武力不振，被東北新興的乙國所滅，皇室南遷後，與乙國簽訂的盟約中對乙國稱臣，國際地位一落千丈。
33. 中國與甲國簽訂盟約的結果為何？(A)雙方維持百餘年和平 (B)中國的國際地位提升 (C)甲國須支付北宋歲幣 (D)甲國取得燕雲十六州
34. 文中中國被東北的乙國所滅，此事為下列何者？(A)怛羅斯之役 (B)澶淵之盟 (C)靖康之禍 (D)蒙古西征

【公民】：35-50 題(每題 2 分)

35. 下文為玳勻上網查詢《國家賠償法》某個條文的摘要。文中【甲】、【乙】、【丙】，依序是指甚麼概念？

公務員於執行職務行使【甲】時，因故意或過失不法侵害人民【乙】者，國家應負損害賠償責任。公務員怠於執行職務，致人民自由或【丙】遭受損害者亦同。

(A)權利、權力、權利(B)權利、權力、權力(C)權力、權利、權力(D)權力、權利、權利。

36. 明熹宗天起年間，朝廷為了應付日益增多的軍費開支，未經人民同意下，不斷增加賦稅，加重百姓負擔，民眾在無處申訴情況下奮起反抗，造成如李自成之亂、張獻忠之亂等民變。關於上述史事，下列哪一敘述較為適當？(A)明代君主只根據自己意思向人民隨意賦稅(B)明代是屬於法治體制的社會(C)當時的民變是屬於合法抗爭活動(D)明代的律法是凌駕皇帝與官員之上。

37. 下表為某院討論的部分會議內容摘要，由內容可知該院是下列何者？

(A)司法院(B)立法院(C)考試院(D)監察院。

①	研議公務人員每月一書的書目清單
②	討論模範公務人員的選拔活動
③	撰寫該院的院史
④	評估受訓學員的成果

38. 秀媚參加校園圖書館舉辦的媒體素養「知識大『報』發」活動，活動中需判斷我國各新聞報導的標題是否正確。由此可知，他需要選擇下列何者才能過關？

(A)修憲案最終未通過，中央選舉委員會責無旁貸(B)明年公務員退休金可望調漲，銓敘部做出回應(C)一票之差!昨日立法院否決了行政院院長出任(D)《公民投票法施行細則》立委三讀通過，將由總統公布。

39. 曾有部分政黨提出修憲，將我國《憲法》中現有的五權分立，變成三權分立，以符合政治現實邏輯。下表示這兩種分權的比較，其中哪一項正確？

選項	三權分立	五權分立
(A)	主要目的是限制人民權利	主要目的是擴張政府權力
(B)	分行政、立法、監察權	分行政、立法、司法、考試、監察
(C)	孟德斯鳩提出	孫中山的理論
(D)	立法權依法獨立行使職權，監督行政權	將考試權從監察權獨立出來，避免濫用私人

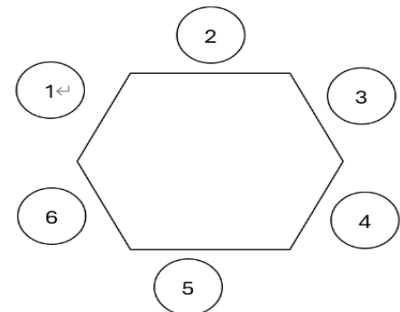
40. 為了使國家財源有效率的運用，我國中央政府總預算的『提出、審查、決算』分別隸屬於哪些機關負責？(A)行政院、司法院、立法院(B)立法院、行政院、監察院(C)監察院、立法院、行政院(D)行政院、立法院、監察院。

41. 某次總統與五院院長進行年末聚餐時，坐在右圖中的2號座位，且當時對話如下：

總統：「我要感謝兩位與我相鄰而坐的院長們，多虧兩院的努力，各項政策才得以順利推動，雖然平常兩位在質詢場上多有衝突，但這也都是為了我們的國家與人民。」

考試院院長：「我想向總統以及我右手邊院長帶領的全院同仁敬一杯，謝謝你們的提名與肯定，讓我有機會為國家盡力。」

司法院院長：「6號座位的院長今年和我院合作順暢，揪出幾位違法失職的公務員並交由本院予以懲戒，守護國家的公平正義。」



根據我國中央政府機關職權及對話內容判斷，下列關於圖中座位號碼與人物的配對，何者正確？

(A)1 號---行政院院長(B)2 號---司法院院長(C)3 號---考試院院長(D)4 號---監察院院長。

42. 為防止權力集中導致腐化，我國將中央政府權力劃分為行政權、立法權、司法權、考試權、監察權，並讓彼此擁有制衡的力量。根據我國中央政府的制衡機制，下列敘述何者正確？

(A)行政院可直接請立法院覆議(B)立法院可對失職總統提罷免(C)監察院可彈劾失職立法委員  
(D)考試院可懲戒瀆職公務人員。

43. 老師為了加深學生對我國政治權力的印象，設計了抽球遊戲如右圖，並請同學針對抽到的兩顆球說明其權力特性。根據小天抽到甲和乙兩顆球判斷，他應該如何回答才正確？

(A)甲可以彈劾乙(B)乙可以糾舉甲(C)乙可以質詢甲(D)乙可以審判甲。

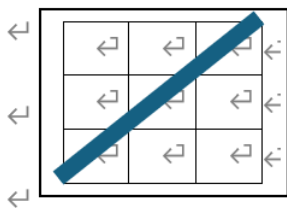
甲、行政權  
乙、立法權  
丙、司法權  
丁、考試權  
戊、監察權

44. 公民老師在講解政府機關主要成員的產生方式時，讓同學分組進行搶答遊戲；答對問題的同學可以在表格的空格填上該官員的名稱，最先將「產生方式相同的官員達成連線者」獲勝。右圖是第七組四位學生所填寫的結果，根據內容判斷，應是由下列哪一位同學獲勝？

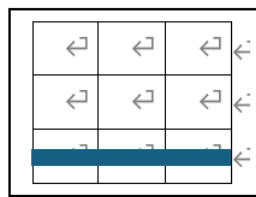
大法官	行政院院長	考試院院長
教育部長	審計長	財政部長
立法委員	監察委員	司法院院長

\*將同一直列或橫列的三個格子連線，或對角線的三角格子連線，最先達成連線者獲勝。

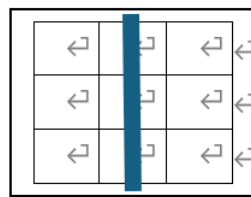
(A) 宥綦



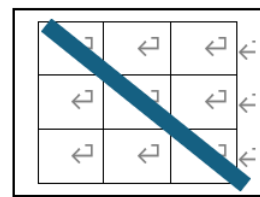
(B) 家德



(C) 阿保



(D) 梅娟



45. 公民老師在講解我國中央政府法律案的流程圖 ①-④，準備了右圖中的配對紙卡。依據我國相關法令規定判斷，下列何者的配對正確？

(A)甲乙丙甲(B)丙甲丙乙  
(C)甲乙丙丁(D)乙甲丙乙。

①、提出法律

②、審查法律

③、公布法律

④、執行法律

甲、行政院

乙、立法院

丙、總統

46. 2024 年底，時任南韓總統尹錫悅發布

戒嚴令，不到一日便遭撤銷。國會認為該行為違憲，且造成社會動盪，因此提出對尹錫悅的彈劾案。若上述情況發生在我國，後續最可能會有下列何種發展？(A)立法院提出不信任案(B)交由選舉人投票複決  
(C)由懲戒法院依法審判(D)由憲法法庭審理。

\*閱讀下列選文，回答第 47-48 題：

在新冠肺炎蔓延期間，新北市 2 歲男童恩恩感染心冠肺炎，家屬求助 119 與 1922，過了 81 分鐘救護車才抵達住家，但恩恩症狀已急速惡化，搶救 6 天後不幸病逝。為了釐清真相，恩恩爸追查送醫過程「消失的 81 分鐘」，而【甲】也申請自動調查。

根據調查報告指出，中央、地方政府皆未善盡職責，因此【乙】衛福部與新北市政府，並促請對於兒童緊急醫療救護相關問題落實檢討改善。新北市政府 回應，針對【甲】提出的內容表示尊重，並虛心檢討，隨 疫情趨緩積極配合中央政策調整相關防疫措施。新北市衛生局 則表示會虛心接受，持續改善。中央流行疫情

指揮中心也承諾會檢討缺失、持續精進流程。

47. 由上文判斷，文中【甲】、【乙】分別應填上何者才正確？

(A) 監察委員、彈劾 (B) 監察委員、糾正 (C) 懲戒委員、懲戒 (D) 立法委員、覆議。

48. 民主國家政治體制中有分權制衡的原則，上述新聞事件是屬於哪兩項權力的互相制衡？

(A) 監察權制衡行政權 (B) 立法權制衡行政權 (C) 司法權制衡行政權 (D) 考試權制衡行政權。

\*閱讀下列選文，回答第 49-50 題：

《憲法》第 73 條：「立法委員在院內所為之言論及表決，對院外不負責任。」言論免責權源自於 14~16 世紀的英國，當時下議院議員在院內提的議案或發表的言論，經常被行政機關控訴妨礙國王權力，幾經奮鬥後，在 1688 年的《權利宣言》中明示「法院及其他任何機，均不得就議會內的言論及告訴手續，為告訴或責問」。我國司法院釋字第 435 號的解釋文中也做出解釋，認定立委的言論免責權並不是免死金牌，有一定的使用限制，像在執行職務時如質詢官員，必須是「適當的意見表達方式」，並不能用來「亂罵人」，甚至是「肢體衝突」任意打人。「言論免責權」並不是給予立法委員不須負責的權利，而是有其背後要保障的民主精神。

49. 司法院釋字第 435 號的解釋文是屬於何種公務人員的職責？(A) 最高法院法官 (B) 監察委員 (C) 大法官

(D) 法務部部長。

50. 賦予立法委員適當的「言論免責權」，是為了達成何種民主精神？(A) 覆議制度 (B) 政黨輪替 (C) 分權制衡

(D) 法治政治。

**試題結束**

請再檢查一遍!

中正高中國中部114學年度第1學期二年級社會科第2次段考試題試卷解答

科目代碼：05

1	2	3	4	5	6	7	8	9	10
C	B	D	B	C	C	B	D	D	A
11	12	13	14	15	16	17	18	19	20
D	B	A	C	D	B	B	C	D	D
21	22	23	24	25	26	27	28	29	30
B	D	D	A	B	D	C	B	B	B
31	32	33	34	35	36	37	38	39	40
D	D	A	C	D	A	C	B	C	D
41	42	43	44	45	46	47	48	49	50
A	B	C	D	A	D	B	A	C	C