

※每題 2 分，共 50 題

科目代碼:05 (請用 2B 鉛筆，將答案劃於答案卡上)

班級： 座號： 姓名：

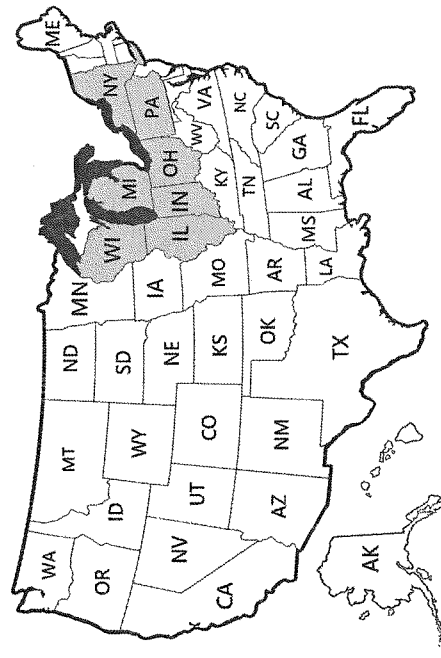
一、地理科(1-17 題)

- 老師在課堂上播放《印加帝國的黃金城》紀錄片，畫面中滿是雲霧繚繞的高山與梯田，這條世界最長的山脈橫跨七國，被稱為「南美洲的脊梁」，其中蘊藏著銅礦與銀礦…請問，上述山脈為下列何者？(A)安地斯山脈 (B)落磯山脈 (C)阿帕拉契山脈 (D)海岸山脈。
- 美國的黃石國家公園有特殊的地熱噴泉景觀，成為世界著名的旅遊勝地。請根據其地形作用判斷，該國家公園最可能位於哪一個地形區？(A)阿帕拉契山脈 (B)拉布拉多高原 (C)落磯山脈 (D)北美大平原。
- 加拿大西岸的溫哥華位於北緯 49 度，但冬天卻少見積雪，市區雨量多、溫度宜人，使其成為加拿大最適合居住的城市之一。請問，溫哥華氣候溫和的主要原因為(A)受暖流影響 (B)位於西風背風側 (C)山脈阻擋北方南下的冷氣團 (D)位於低緯度熱帶地區。
- 小安參加國際探險營，要前往亞馬遜雨林觀察生態，他的背包裡最該放哪一項裝備？(A)厚重羽絨衣，防寒用 (B)防水雨衣，應付午後雷陣雨 (C)沙漠帽，防止沙塵暴 (D)雪地靴，方便在雪地行走。
- 呈上題，小安必須向哪一個國家辦理入境的簽證？(A)美國 (B)墨西哥 (C)阿根廷 (D)巴西
- 2024 年美國總統川普上任後，預計驅逐大量非法移民，並重啟美、墨邊境牆建設。此政策與美國境內某族群比例攀升有關。請問，下列哪一族群最可能受到此政策影響？(A)亞裔 (B)拉丁美洲裔 (C)歐裔白人 (D)非裔黑人。
- 美國－墨西哥－加拿大協定(USMCA)是美、墨、加三國以經濟合作面向為考量，所簽署的協定。請問：在此協定中，墨西哥所扮演的角色與優勢特色為何？(甲)提供充沛的資金 (乙)提供關稅減免的優惠條件 (丙)提供高階的技術 (丁)提供廉價的勞動力 (A)甲丙 (B)甲丁 (C)乙丙 (D)乙丁。
- 右表為「南美洲某城市近 10 年人口成長與基礎建設投資變化趨勢圖」。若依圖推論，下列哪一項最可能是該城市目前面臨的問題？(A)城市人口減少導致學校關閉(B)基礎建設投資快速成長，城市生活品質大幅提升(C)城市人口快速成長，但基礎建設成長緩慢，導致交通壅塞與貧民窟擴張(D)農村人口增加，城市人口外移，導致都市衰退。

年度	城市人口 (單位:百萬人)	基礎建設投資 (單位:億美元)
2017	9.2	22
2019	10.5	23
2021	12.0	24
2023	13.8	25

●圖(一)為美國各州名縮寫地圖，請依圖回答第 9-12 題：

- 小霖預計前往美國遊學，學習語言並體驗當地文化，他選擇加州 (CA)、堪薩斯州 (KS)、俄亥俄州 (OH)、佛羅里達州 (FL)，請問途中『最不可能』遇到下列哪種狀況：(A)在加州感受到地震搖晃 (B)在堪薩斯州看到龍捲風警報 (C)在俄亥俄州收到火山爆發警報 (D)在佛羅里達州經歷超強颶風。
- 威斯康辛州(WI)與明尼蘇達州(MN)是乳品帶的代表州份，請問，此兩州乳品業發達的原因，最可能是下列何者？(A)人口稠密，鄰近消費市場 (B)海運便利，適合出口 (C)地形多山，利於放牧 (D)氣候乾燥，適合牧草生長。
- 加州的洛杉磯是世界知名的電影拍攝基地，但冬季拍片有時會遇到挑戰。請問，下列哪一項最可能是洛杉磯冬季拍攝電影時會遇到的狀況？(A)降雪頻繁，劇組需鋪雪拍片 (B)雨天較多，戶外拍攝可能延誤 (C)氣溫過低，攝影機容易結冰 (D)白天過短，無法進行拍攝



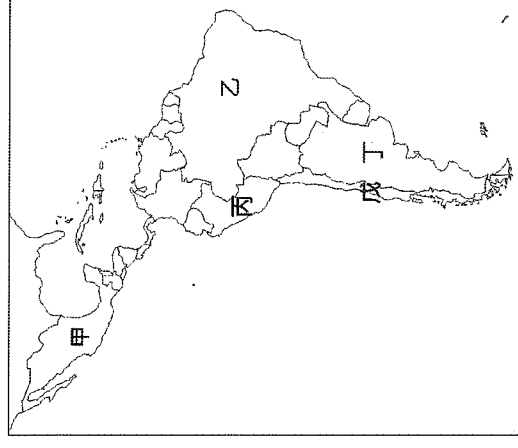
註：鐵鏽帶(WI、IL、IN、MI、OH、PA、NY)

圖(一)

12. 臺灣政府在與美國稅談判後，計畫推動傳統重工業赴美投資，首要目標鎖定美國「鐵鏽帶」地區(如圖一所示)，如底特律與匹茲堡。請問，選擇這些地區作為投資據點，最可能的地理優勢為下列何者？(A)人口稀少，土地取得容易 (B) 鄰近太平洋海岸，便於海運出口 (C) 氣候乾燥少雨，利於工廠運作 (D) 煤鐵等礦產資源豐富

●圖(二)為中南美洲國家分布圖，請依圖回答第13-14題：

13. 圖中『戊』國所跨緯度大，南北因氣候不同，名產也各有特色，請問，該國的中部代表名產最可能為下列何者？(A)葡萄酒與橄欖油 (B) 冰河區冷水魚 (C) 沙漠仙人掌果 (D) 甘蔗與咖啡。
14. 甜甜的旅遊札記中寫道：「走進這裡，彷彿展開一場時空探險。馬丘比丘的印加古城在雲霧中神秘浮現，庫斯科街頭充滿殖民與原住民交融的色彩。搭船遊的的喀喀湖，感受高原湖泊的寧靜。而在納斯卡沙漠上空俯瞰，巨大的地畫圖騰令人驚嘆……」請問，上述為甜甜到圖中哪個國家的遊記？(A)甲 (B)乙 (C)丙 (D)丁。



圖(二)

MOJITO

詞：黃俊郎，曲：周杰倫

麻煩給我的愛人 來一杯 Mojito 我喜歡閱讀她微醺時的眼眸
而我的 咖啡糖 不用太多 這世界已經因為她甜得過頭
沒有跟她笑容一樣濃郁的 雪茄 就別浪費時間介紹收起來吧
拱廊的壁畫 舊城的塗鴉 所有色彩都因為她說不出話 ……
鐵鑄的招牌 錯落著就像 一封封城市 獻給天空的情書
當街燈亮起 Havana 漫步 這是世上最美麗的那雙人舞
續紛的老爺車 跟著棕櫚搖曳 載著海風私奔漫無目的 古董書攤漫著時光香氣
我想上輩子是不是就遇過妳 喧囂的海報躺在慵懶的閣樓陽台 而妳是文學家筆下的那一片海

註：Mojito: 將薄荷葉、糖和檸檬汁一起搗碎釋放香氣，然後加入蘭姆酒。

請依上述引文回答第15-17題：

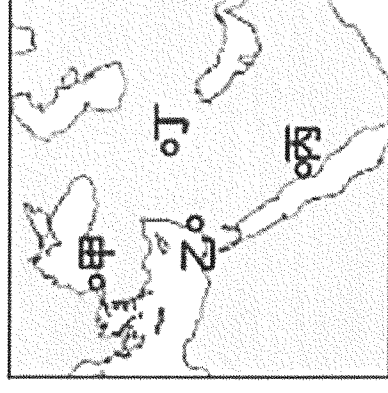
15. 歌詞中提及的農業原料多產自當地，若依歌詞判斷，蘭姆酒最可能利用下列何種作物釀造而成？
(A) 生長於夏季乾熱氣候的葡萄 (B) 生長於終年高溫多雨的甘蔗 (C) 生長於夏雨冬乾的小麥 (D) 生長於終年乾燥的龍舌蘭。
16. 近年古巴首都 Havana 觀光業快速發展，若依歌詞中描述的景觀判斷，下列哪一項最能解釋它成為熱門旅遊地的原因？(A) 位於南美內陸，氣候溫和，交通便捷 (B) 地形以高山為主，提供滑雪休閒活動 (C) 工業發達、科技城市現代化 (D) 結合熱帶海洋景觀與濃厚殖民文化。
17. 古巴在 殖民時期移入大量的西非奴隸，因此歌詞中的雙人舞是指「騷莎舞」，融合了非洲鼓樂與拉丁旋律的舞蹈，是此區重要的文化象徵，請問 最可能是下列哪一個國家？(A) 法國 (B) 西班牙 (C) 英國 (D) 俄羅斯。

(二)歷史科(18-34題)

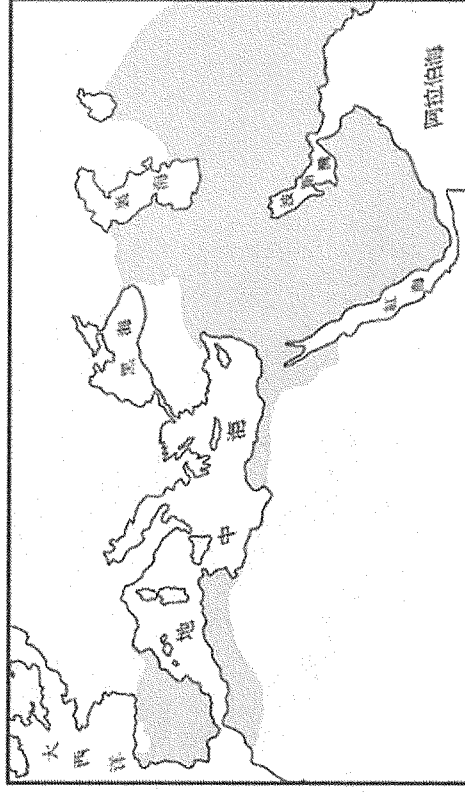
18. 歷史課時，同學們在討論有關阿拉伯人的文化：(甲)美美：「《天方夜譚》是以首都麥加為背景的故事集。」(乙)婷婷：「他們獎勵學術發展，注重教育。」(丙)玲玲：「阿拉伯人將穆斯林的商業制度傳入歐洲。」(丁)娟娟：「中國的造紙術經由他們輾轉傳入歐洲。」請問：其中有哪位同學不小心說錯了？
(A) 美美 (B) 婷婷 (C) 玲玲 (D) 娟娟。
19. 小星假日到淡水老街走訪古蹟，了解到十九世紀來臺灣的傳教士馬偕來自加拿大，是屬於喀爾文教派長老教會的傳教士。請問：下列何者屬喀爾文教派的特色？(A) 最早揭開宗教改革序幕的教派 (B) 此教派致力於將《聖經》翻譯成德文，以利傳播 (C) 此教派以英王為教會的領袖 (D) 此教派主張「預選說」。

20. 馬可是羅馬帝國時期的基督教信徒，當時基督教遭受迫害的情形相當嚴重，因此他在與信徒聚會時都要特別小心，深怕遭帝國逮捕，終於在馬可晚年，某位君主頒發詔令將基督教合法化，馬可從此可以公開宣揚基督教，再也不必擔心受怕。請問：這位將基督教合法化的君主是何人？(A)屋大維 (B)君士坦丁 (D)狄奧多西 (D)查士丁尼。
21. 歷史老師很喜歡韓星玄彬主演的韓劇作品『阿爾罕布拉宮的回憶』，阿爾罕布拉宮位於西班牙，在1984年被列入聯合國教科文組織世界文化遺產，它的歷史可以追溯到9世紀，歷經了多位統治者，其城堡、瞭望台、花園和城牆等建築深具伊斯蘭特色，可以見證當地伊斯蘭文化最輝煌的時期，是非常知名的觀光景點。請問：阿爾罕布拉宮的建立應該與哪一件史事有關？(A)十字軍東征 (B)蒙古西征 (C)阿拉伯帝國的擴張 (D)日耳曼人的遷徙。
22. 義大利傳教士利瑪竇於明末來到中國，除從事傳教工作外並與士大夫徐光啟合譯《幾何原本》，對中國影響很大。關於利瑪竇所屬的教派，下列敘述何者正確？(A)清末來台灣傳教的馬雅各也同樣屬於其教派 (B)重視教士的紀律和素質，重振羅馬公教聲望 (C)由日耳曼人馬丁路德創立 (D)成立背景是為了與伊斯蘭教勢力對抗。
23. 史家評論某地的歷史發展，指出：「這個地方具備良好的地理條件，在中世紀後期位於東西貿易必經路線上，累積龐大的財富，出現許多城市，當地又繼承古代文化遺產，因此率先從中世紀轉變到近代，創造出新的時尚。」請問：史家所說的「某地」是指 (A)義大利 (B)伊比利 (C)阿拉伯 (D)希臘 半島。
24. 關於歐洲歷史上文藝復興時期的發展，呈現了相當豐碩的成果，許多作品直到現在仍被奉為經典。請問：有關文藝復興的成果，下列敘述何者正確？(A)方言文學的興起，弱化各地民族認同 (B)此時重視古希臘、羅馬的思想與精神文化 (C)重要的藝術家有米開朗基羅，代表作品為《蒙娜麗莎》 (D)但丁、薄伽丘、莎士比亞均為義大利重要方言文學作家。
25. 新聞報導指出：「東斯拉夫民族於中古時期接觸拜占庭帝國，接受其信仰及文化，今日主要分布在俄羅斯及烏克蘭等國，然而俄烏戰爭爆發後，因不滿俄羅斯利用教會介入戰爭，烏克蘭宣布脫離俄羅斯教會，只求一個『沒有普丁的教會』……」根據報導內容判斷，烏克蘭及俄羅斯隸屬哪一教派？(A)羅馬公教 (B)喀爾文教派 (C)路德教派 (D)希臘正教。
26. 歷史課時，老師在黑板寫下：(甲)婆羅門教(乙)猶太教(丙)佛教(丁)基督教(戊)伊斯蘭教(己)祆教等宗教，請同學挑選出屬於一神信仰的宗教，何者正確？(A)甲乙丙 (B)乙丙丁 (C)乙丁戊 (D)甲丁戊。
27. 文藝復興運動的展開，對於近代歐洲的影響非常的深遠，主要是因為這個運動所蘊藏的哪一種內涵，影響了當時人的思想觀念？(A)人文主義 (B)神本觀念 (C)民主思想 (D)保守主義。
28. 一名戰士的遺言寫道：「守了兩個月，我們僅剩千人，異教徒的十多萬大軍終究攻進了曾是東方基督教徒的都城——君士坦丁堡，自此之後，此城市變成異教徒的都城。」根據判斷，上述的「異教徒」是指？(A)阿拉伯人 (B)蒙古人 (C)鄂圖曼土耳其人 (D)塞爾柱土耳其人。
29. 俊赫比較兩個宗教如右表。請問：他的筆記中只有哪一項目的比較是不需要修正的？(A)主要分布 (B)宗教中心 (C)宗教型態 (D)分裂時間。
30. 以下是一名中世紀後期戰士的自述：『我名叫雷蒙，是來自法國南部的騎士。教宗的號召響徹歐洲，我與千百名信仰堅定的弟兄一同踏上征途，目標只有一個，那神聖的城市，基督曾在其中受難與復活。我們的敵人是穆斯林軍隊，他們控制著聖地已有數十年。我們的使命，是為了信仰、為了贖罪、為了光榮，奪回聖地，讓基督徒能自由朝聖。我的劍已磨利，我的心已準備好。願上主引領我們的腳步，讓我們在聖地見證信仰的勝利。』根據這段自述，可以推測雷蒙要前往之地位於右圖中何處？(A)甲 (B)乙 (C)丙 (D)丁。

項目	羅馬公教	希臘正教
主要分布	東歐	西歐
宗教中心	君士坦丁堡	羅馬
宗教型態	政教合一	政教分離
分裂時間	11世紀中期	



31. 承上題，雷蒙想要透過教會系統傳遞書信告知國王最新戰況，請問：雷蒙應該使用何種文字書寫？
 (A) 法文 (B) 拉丁文 (C) 希臘文 (D) 義大利文。
32. 波莉在博物館參觀一幅描繪中世紀歐洲的畫作。畫中有一座高聳的石造城堡，城牆外是農民耕作的田地，城堡內則有身穿盔甲的騎士與身著長袍的神職人員。導覽員說：「這幅畫呈現的是中世紀歐洲的典型社會樣貌，當時土地是權力的象徵，教會與貴族共同主導社會秩序。」請問：有關『中世紀』的概念，下列何者正確？(A)『中世紀』指的是5世紀到15世紀 (B)此時的西歐教會是由各國君主領導 (C)古希臘羅馬文化在此時遭受到嚴重的破壞 (D)基督教世界在此時期歷經兩次的分裂。
33. 下列哪一個城市曾歷經亞歷山大帝國、羅馬帝國、阿拉伯帝國、鄂圖曼帝國的統治？(A)西班牙的馬德里 (B)義大利的羅馬 (C)埃及的開羅 (D)土耳其的伊斯坦堡。
34. 見右圖，圖中較深灰色的部分最有可能是哪一個帝國的疆域？(A)亞歷山大帝國 (B)拜占庭帝國 (C)鄂圖曼土耳其帝國 (D)阿拉伯帝國。



(三)公民科(35-50題)

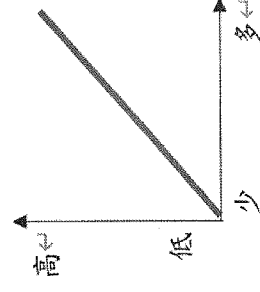
35. 怡君一天的消費行為如右表所示，下列針對其消費行為的敘述何者正確？(A)在有形市場的花費總計2000元 (B)在有形市場的花費總計3000元 (C)在無形市場的花費總計3900元 (D)在無形市場的花費總計4400元。
36. 某商家於購物網站銷售無線藍芽耳機，並且以「唯一通過臺灣NCC認證」，附上認證書作為廣告，但根據(甲)調查，獲NCC認證的無線藍芽耳機約有150款，因此認定該商品宣稱「唯一」廣告不實，依據(乙)法，開罰5萬元。根據上述，(甲)、(乙)依序最可能為下列何者？(A)地方法院、《民法》(B)法務部調查局、《刑法》(C)經濟部、《消費者保護法》(D)公平交易委員會、《公平交易法》。
37. 我國加入世界貿易組織後，必須開放國外商品進口，對臺灣發展有何影響？(甲)貿易自由化使國內產業面臨國際高價產品競爭(乙)消費者能買到更低價、種類更多的商品(丙)有助於各國分工合作，我國將投注在擅長發展的產業(丁)國內廠商生產的商品價格高於進口商品。(A)甲乙丙(B)甲乙丁(C)甲丙丁(D)乙丙丁。

便利商店買早餐	100元
傳統市場買食材	500元
購物網站買咖啡機	1400元
百貨公司買化妝品	2500元
電視購物買保健品	3000元

38. 右表為幸福市的公共住宅制度，在分配上，其採取特殊身分保障戶的評點制。下列何者應為該政策實施的目的？(A)穩定國內經濟秩序(B)落實社會的公平正義 (C)增加政府財政收入(D)促進資源的有效利用。
39. 晶瑩前天瀏覽網路購物平臺時，看到一臺可攜式空調的廣告標榜「走到哪涼到哪」，還能依個人身高訂製尺寸，這麼方便的设计，晶瑩立刻就下單確認型號及填寫製作尺寸，並於線上刷卡付費。然而收到商品後，閱讀外包裝說明才知道：「此產品須另外加裝排風管，否則無法自由移動，這樣不就跟一般冷氣沒有兩樣嗎？」晶瑩原本打算當天直接退回商品，沒想到廠商跟晶瑩說明理由，不讓晶瑩依「7天猶豫期」退貨，真是氣死晶瑩了！「對於這種不實廠商，我決定打1950向政府申訴！」。請問該廠商不讓晶瑩退貨的合理理由為何？(A)該規定僅能換取瑕疵品(B)晶瑩並非於實體店面訂購(C)客制化商品不受該規定保障(D)晶瑩未於保障期限內要求退貨。


評點制：弱勢優先原則		
福利身分	分數	小名
老人	10	●
身障者	10	●
原住民族	10	●
受暴家庭	3	●
合計	30分	13分

40. 大力市政府近期計畫讓公車營運路線回歸市場機制，裁撤近百條經費補貼 10 年以上的虧損路線。然而，大力市議會為此挺身而出，特別召開記者會表示：「山區居民出門時多仰賴公車，若是收掉公車路線，未來要山區居民徒步上下山嗎？」文中大力市政府計畫讓公車路線回歸市場機制，此後公車票價將會由下列何者決定？(A) 公車業者與乘客(B) 公車業者(C) 市政府(D) 公車乘客。



41. 右圖為市場競爭的相關圖示。請問：X 軸 Y 軸分別可對應下列哪兩種概念？(A) 市場競爭程度與市場進入門檻(B) 廠商數量與廠商的價格控制能力(C) 廠商的數量與市場競爭程度(D) 消費者的選擇與廠商的價格控制能力。

42. 右圖是政府針對非洲豬瘟事件製作的宣傳海報。根據內容判斷，政府制定該政策的目的，是為避免下列哪一項跨國經濟活動帶來的衝擊？(A) 政府未制定法規協助國內產業轉型(B) 進口食品可能危害國人的身體健康 (C) 出口業者因成本因素缺乏競爭優勢(D) 進口商品熱銷導致國內的產品滯銷。



**閱讀下列選文，回答第 43-45 題：

榆宏發現市區有三間雞排店，在他分析過後覺得有利可圖，因此他在市區租了一個店面，開設一間雞排專賣店。榆宏發現其他業者都是讓顧客外帶，為了創造競爭優勢，他在(甲)店內提供內用座位，讓顧客可以坐著享受，而(乙)每份雞排的定價為 100 元，比其他同業來得高。由於榆宏的經營策略得當，榆宏計算這段期間的利潤為 24 萬元，生產成本總計 15 萬元。

43. 關於上文(甲)內容的競爭方式，與下列何者屬於同一類型？(A) 購買家電滿 3000 元，享有免費外送服務 (B) 清倉大拍賣，原價 500 元，現在特價 200 元 (C) 相同飲品第 2 件 8 折(D) 一次購買 10 個甜甜圈，優惠 50 元
 44. 在正常情況下且僅考慮價格的情況下，上文(乙)內容的競爭方式會導致下列何種情況？(A) 既是屬於「價格競爭」，也屬於「非價格競爭」(B) 不屬於「價格競爭」，也不屬於「非價格競爭」(C) 屬於「價格競爭」，但不屬於「非價格競爭」(D) 屬於「非價格競爭」，但不屬於「價格競爭」。
 45. 從上文提及的成本與收益判斷，下列敘述何者正確？(A) 銷貨收入 9 萬元(B) 銷貨收入 24 萬元(C) 一共賣出雞排 900 份(D) 一共賣出雞排 3900 份。

46. 財政部統計：我國 112 年對美國出口總計 962.4 億美金，年增 11.9 億美金，升幅 1.6%，已連續 6 年正成長，主因是科技創新應用、終端產品晶片含量及基礎建設需求之提升，領軍資通與視聽產品、電子零組件、電機產品等出口成長表現亮眼，下列敘述何者正確？(A) 我國對美國貿易收入為 962.4 億美金(B) 我國電機產品對美國而言不具競爭力(C) 美國對我國貿易收入為 962.4 億美金(D) 我國生產資通視聽產品的機會成本較高

47. 有一首流行歌曲是這樣唱的：「你引擎日本來，韓德魯德國來；玻璃自南非來，阿拉伯石油來；塑膠是漳州做，車體自美國買，攏乎咱摻摻作夥（都被我們摻在一起），嘿咻嘿咻，每臺都是臺灣製造。」上述歌詞所描寫的情況，與下列何者最相關？(A) 基於人道關懷的國際援助計畫 (B) 全球化影響下的國際貿易互動 (C) 國際組織致力降低各國貿易障礙 (D) 大型跨國企業主導全球文化發展。

48. 思捷家每個月第一天自製 300 罐醬菜販售，且為保持產品品質，當月沒賣完的產品就會銷毀，絕不在下個月販售。下表為上半年消費者對思捷家自製醬菜的需求數量表。根據表中資料判斷，思捷家的醬菜上半年銷售總量為多少罐？(A) 2,100 (B) 1,800 (C) 1,700 (D) 1,500。

月份	一	二	三	四	五	六
需求數量(罐)	200	300	500	300	400	600

49. 怡杏獲得甲、乙、丙、丁四個薪資不同的工作機會，若她僅以薪資作為選擇工作的依據，在甲、乙兩工作中，她會選擇甲工作，且機會成本為 35,000 元；她另將乙、丙工作與乙、丁工作分別比較，結果整理如附表。根據表中資訊判斷，乙、丙、丁三項工作的薪資高低

關係應為下列何者？ (A) 乙 > 丙 > 丁 (B) 丙 > 丁 > 乙
(C) 丁 > 乙 > 丙 (D) 丙 > 乙 > 丁。

選擇比較的工作	最佳選擇的機會成本
乙、丙	35,000 元
乙、丁	32,000 元

50. 隨著我國邁入高齡社會，國人對美妝保養產品重視程度增加，藥品、醫療及化妝品零售業（以下簡稱藥妝零售業）

營業額亦隨之提升，不但吸引量販超市跨足銷售藥妝，更讓國外藥妝業者來臺拓點，市場競爭愈趨激烈。其中，藥妝零售業者經營面臨的困境，以「價格競爭激烈，利潤偏低」為主。部分業者開始轉向投入線上市場，但也有業者大量拓展實體店面，因為他們認為消費者仍喜歡在能試用商品，且有駐店藥師及美容師提供諮詢服務的實體店消費。文中提到藥妝零售業者面臨最大的挑戰是價格競爭激烈，利潤偏低。下列廣告與行銷策略中，何者不同於價格競爭？

(A)

嗨嗨購物日領券囉！
憑券可享
滿3000元現折300元優惠。
數量有限，送完為止。

(B)

專業醫美節
指定醫美商品，
購物滿1500元，
立即享有85折！

(C)

網購超便利，上班訂
下班拿，馬上GO！
全臺所有門市，皆可最快2小時
在離您最近的門市取貨。

(D)

點數成金
門市消費結帳時出示會員
卡，每1點紅利點數可折
抵新臺幣1元消費金額。

~~ 試題結束 ~~

請同學再次檢查答案卡上的基本資料是否填寫完整