

高雄市中正高中國中部 114 學年度第一學期國二社會科第一次段考試題

【試卷共 6 頁】

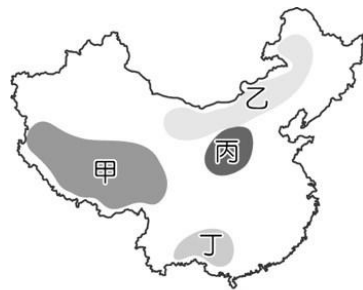
班級： 座號： 姓名：

※每題 2 分，共 50 題

科目代碼:05 (請用 2B 鉛筆，將答案劃於答案卡上)

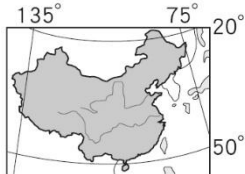
一、地理科(1-17 題)

1. 中國某區域地形因土質鬆軟，易受到流水侵蝕，水土流失嚴重，且黃河流經當地後，將大量泥沙帶至河中，成為中國含沙量最高的河川，上文所指的某區域最有可能在附圖中的何處？(A)甲 (B)乙 (C)丙 (D)丁。

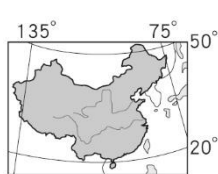


2. 下列哪一張地圖可用來表示中國正確的經緯度位置？

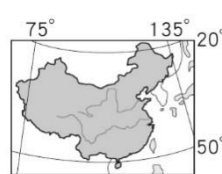
(A)



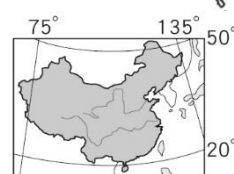
(B)



(C)



(D)

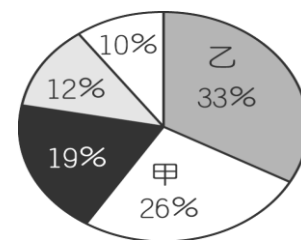


3. 某地的氣候資料如下：「七月均溫 22°C ，一月均溫 -5.6°C ，年雨量 660mm 」請問，該地若依氣候分類指標分類，應屬下列何種氣候類型？(A)高地氣候 (B)溫帶季風氣候 (C)溫帶草原氣候 (D)副熱帶季風氣候。
4. 中國在 1950 至 1980 年間，對一月月均溫低於 0°C 的區域施行免費供煤取暖政策，但卻造成嚴重空氣汙染，影響當地居民健康。而該政策供煤的範圍大致在哪條河流以北？(A)黃河 (B)珠江 (C)長江 (D)黑龍江。

5. 中國面積廣大，氣候受地形、緯度、距海遠近與季風風向等因素影響，在空間的分布上具有差異性。圖中四條路線中，哪一條路線的空間變化趨勢在夏季有明顯的「由濕熱轉變為乾熱」？(A)甲 (B)乙 (C)丙 (D)丁。



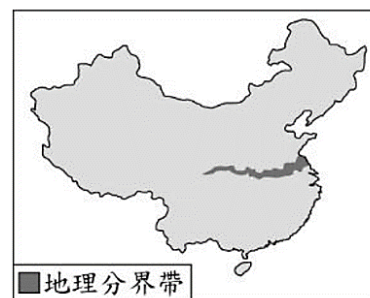
6. 右圖為中國五大地形面積比例圖。圖中甲、乙所占面積比例最大，分別是指哪兩種地形？(A)山地、盆地 (B)平原、丘陵 (C)高原、山地 (D)平原、盆地。
7. 當中國北方的哈爾濱市還在舉辦「冰雕展」時，南方的廣州市卻展開熱鬧非凡的迎春花市。請問：造成上述地理景觀不同的主要原因為何？(A)地形 (B)緯度 (C)季風 (D)距海遠近。



8. 小王參加臺灣與中國合辦的兩岸民族文化交流行程，來到蒙古大草原，看到圓形尖頂，易於裝拆搬遷的蒙古包，發現大部分的蒙古包門口都是朝向南方，請問原因為下列何者？(A)沒有原因 (B)防止野獸入侵 (C)防止冬季季風灌入屋內 (D)因中國的首都在南方，以表歸順之意。

9. 秦嶺、淮河是中國重要地理分界(如附圖)，以下說法何者正確？

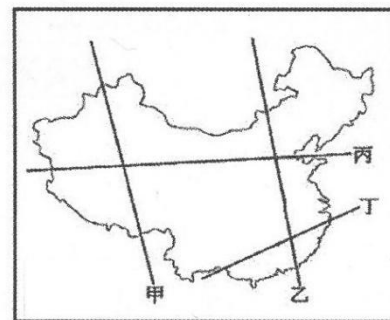
- (A)最冷月均溫 0°C 等溫線 (B)東部、西部地區分界線
(C)副熱帶與熱帶的分界線 (D)地形高度中階與低階的分界線。



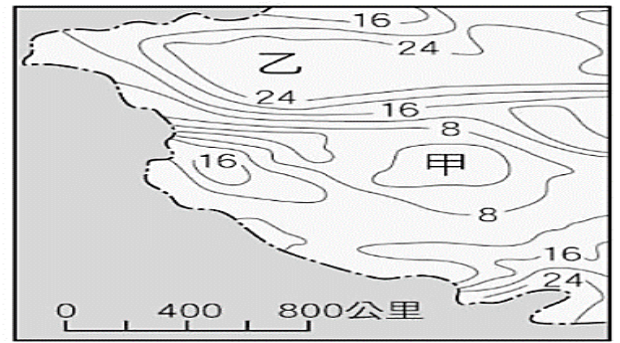
10. 中國地形多元複雜，若想對中國的三階地形落差有完整的體驗，應該沿著附圖中哪一條路線旅遊，最能明顯感受三階地形的高低變化？

- (A)甲 (B)乙 (C)丙 (D)丁。

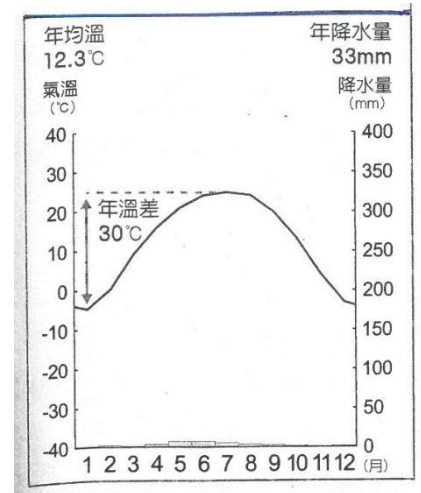
11. 中國東半部和西半部山脈走向不一樣，請問這是受何種因素影響？(A)季風氣候 (B)大氣洋流 (C)板塊運動 (D)太陽照射。



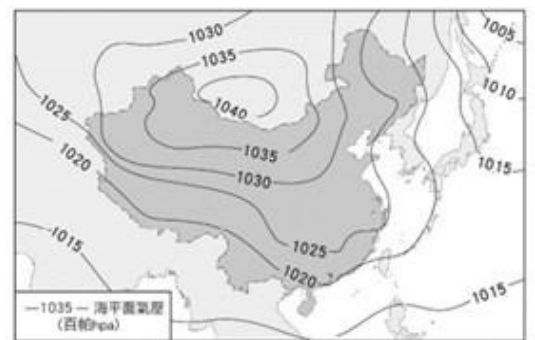
12. 附圖為中國西半部內陸夏季氣溫等溫線分布圖。造成【甲地區】氣溫低於【乙地區】氣溫的主要原因為下列何項？
 (A) 緯度較高 (B) 地勢較高 (C) 季風強勁 (D) 距海遙遠。



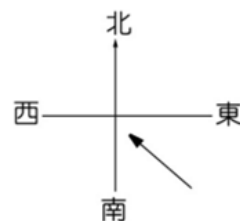
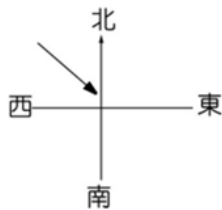
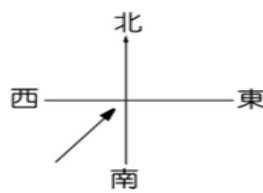
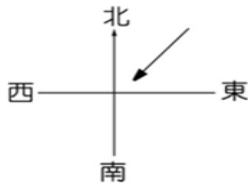
13. 小娟利用寒假到中國某地旅行，發現當地氣候乾燥、人煙稀少，請由當地的氣候區圖(見右圖)判斷，這是屬於何種氣候類型？
 (A) 高地氣候 (B) 熱帶季風氣候 (C) 溫帶草原氣候 (D) 溫帶沙漠氣候。



14. 下圖為中國某時的地面天氣圖，就圖中資訊判讀，請問此時中國首都北京感受到的氣候與季風風向為何？

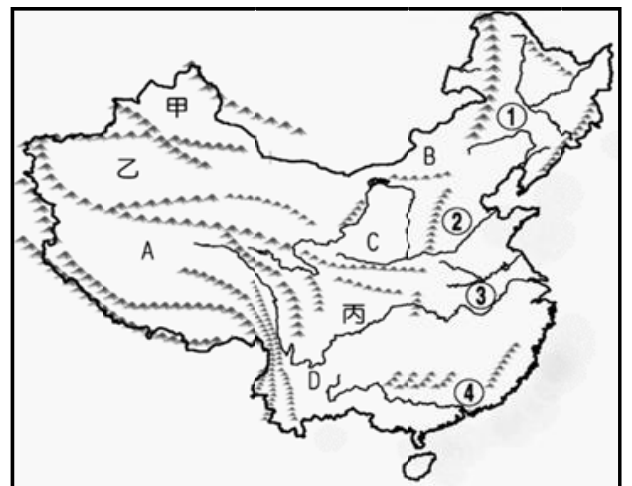


- (A) 夏季雨季， (B) 夏季雨季，
 (C) 冬季乾季， (D) 冬季乾季，



◎ 附圖為中國主要地形分布圖，甲、乙、丙為盆地、A-D為高原、①-④為平原，請依據此圖回答第 15-17 題：

15. 「奔跑吧！兄弟」節目來到中國某一高原拍攝，參加的藝人說：「我們一行人到達五千多公尺高的高原，在一片寒冷荒涼的環境下，看到了打破凍土限制的火車經過在眼前，這感覺真是太神了！」請問：當天一行人最可能在圖中的哪一個高原拍攝節目？
 (A)A (B)B (C)C (D)D。
16. 「丙」盆地在三國時代是蜀國的根據地，地勢封閉，易守難攻。農業發達，物產豐隆，富庶景況有「天府之國」的美稱。請問：「丙」盆地是下列哪一個盆地？
 (A)塔里木盆地 (B)四川盆地 (C)柴達木盆地 (D)準噶爾盆地。

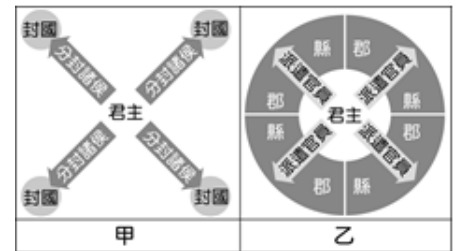


17. 臺灣的農業考察團前往大陸進行交流，選定了④平原，作為交流的地點。因為該區的氣候環境與臺灣較相近，收穫次數與作物種類也較相似。請問：④平原為下列哪一個平原？
 (A)東北平原 (B) 華北平原 (C)長江中下游平原 (D)珠江三角洲。

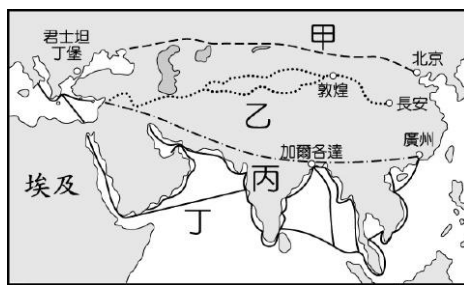
二、歷史科(18-34 題)

18. 阿國是曹魏時期的人，若他想要出人頭地、取得官職，下列哪一個條件是最關鍵的？
 (A)有無才能 (B)家世背景 (C)考試成績 (D)品德操守

19. 安琪是編劇，他最近正在創作以中世紀中國為背景的劇本，劇情是關於火赤國的公主到長安冒險的故事，請問：下列劇情的安排何者較為恰當？
- (A)當時有一吐蕃國相當仰慕唐文化，被封為「君子國」
 (B)日本孝德天皇受當時的中國影響，推行「大化革新」
 (C)中國因「怛羅斯之役」，得到來自於歐洲的火藥
 (D)高僧玄奘前往阿拉伯取經，回國後致力翻譯經書，有助伊斯蘭教在中國的傳播
20. 李斯對其君主建議：「周王室分封子弟和同姓親屬很多，可是他們的後代逐漸疏遠了，互相攻擊，就像仇人一樣，諸侯之間彼此征戰，周王室也無法阻止。現在天下賴您的神靈之威獲得統一，都畫分成了郡縣，對於皇子功臣，用公家的賦稅重重賞賜，這樣就很容易控制了。」請問：李斯說話的對象是下列何者？ (A)唐太宗 (B)漢武帝 (C)秦始皇 (D)北魏孝文帝
21. 附圖甲、乙分別代表中國歷史上兩種重要的政治體制。若要用圖中甲、乙呈現周代至秦代政治體制的變化順序，下列何者最為適切？
- (A)甲→乙 (B)乙→甲 (C)甲→乙→甲 (D)乙→甲→乙。
22. 北魏孝文帝在位時，推行漢化政策，以消除胡漢間的隔閡。當時的漢化政策包含下列何者？
- (A)禁漢姓用胡姓 (B)禁漢語說胡語 (C)禁漢服穿胡服 (D)鼓勵胡漢通婚
23. 債臺高築的成語，指的是周代，周赧王為了躲避各國債主，將自己關在宗廟的高臺上，讓債主們無法向周赧王追債。這件事讓周天子威信掃地，周赧王也是周朝最後一個君主。文中的情形最有可能發生在哪一個時代？ (A)周人推翻商朝之後 (B)周王室始分封宗室時 (C)犬戎入侵後 (D)秦王兼併各國之後
24. 中國的政治與經濟重心原本都在黃河流域，西元2世紀，因為北方戰亂，漢人大舉南遷，帶來技術與人力，使南方逐漸開發，經濟重心因此南移。下列哪個時代對長江流域的經濟開發，較有貢獻？ (A)西周 (B)秦代 (C)漢代 (D)魏晉南北朝
25. 爆破藝術家蔡國強與戶外服裝品牌「始祖鳥」(Arc'teryx)合作，日前在中國西藏自治查瓊崗日山脊區域(海拔約4600公尺至5500公尺之間)，點燃煙火。爆破的煙火呈現藍、白、紅、綠、黃五種顏色，也就是西藏的五色風馬旗，蔡國強將爆破主題設定為「升龍」；蔡國強的「炸山爆破」煙火秀，引發社群網路強烈的批評，除了被質疑無視法規，忽視自然生態與文化之外，也被批評「漢人在別人的聖山炸出一條東方龍」，是一種不尊重文化的傲慢態度。請問：何人對漢藏文化交流有貢獻？(A)秦始皇 (B)北魏孝文帝 (C)玄奘 (D)文成公主
26. 始源是來自「君子國」的留學生，他在中國學習曆法、儒學，然後將所學知識帶回本國。根據上述，始源來自哪一個國家？ (A)日本 (B)新羅 (C)吐蕃 (D)大食
27. 詩人有詩云：「女為胡婦學胡妝，伎進胡音務胡樂」，呈現當時的風氣。詩中的場景應出現於哪一個時代？ (A)秦朝 (B)漢朝 (C)魏晉南北朝 (D)唐朝
28. 秦始皇以「廢封建、行郡縣」作為統治國家的方式，其目的為何？
- (A)中央集權 (B)擴張版圖 (C)控制思想 (D)選拔人才
29. 唐代劉禹錫詩：「朱鵲橋邊野草花，烏衣巷口夕陽斜，舊時王謝堂前燕，飛入尋常百姓家。」類似王、謝這些世家大族的沒落，除與政治上的動亂有關，亦與下列哪一項制度的廢除有關？
- (A)貴族世襲 (B)察舉 (C)九品官人之法 (D)科舉

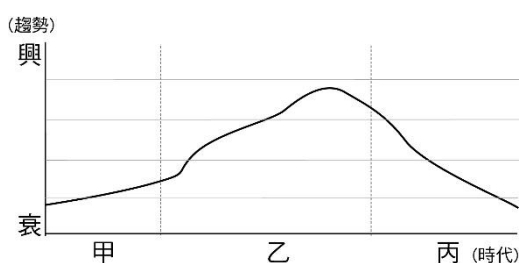


■附圖是中國歷代以來，東西往來的交通與文化交流的重要路線圖。



30. 漢武帝派遣張騫到西域，意欲聯絡各國共同打擊匈奴，此舉讓東西貿易的通道「絲路」更加活絡。張騫可能走附圖中的哪一條路線？ (A)甲 (B)乙 (C)丙 (D)丁。
31. 漢代商人攜帶絲綢從長安出發到西域貿易，最遠曾到達下列何處？(A)大食 (B)新羅 (C)大秦 (D)天竺。

■下圖為大雄在書上看到的曲線圖，作者藉此表示世族勢力的發展過程。



32. 下列何者最能說明，甲朝代時世族地位逐漸提升的情形？ (A)經學傳家、累世當官(B)察舉孝子、廉吏 (C)上品無寒門，下品無世族 (D)封建社會，權力世襲。
33. 乙時代中，世族地位達到高峰，這應與下列哪一制度有關？ (A)察舉 (B)科舉 (C)貴族世襲 (D)九品官人之法。
34. 對於上圖中丙時代的敘述，下列何者最為正確？ (A)秦始皇統一文字與貨幣，導致世族因此失勢 (B)因統治者設立太學，進一步使世族地位提升 (C)科舉實施後，平民有機會透過考試任官 (D)封建秩序的瓦解，導致貴族失去權力與土地。

三、公民科(35-50 題)

35. 下列是小宥上臺報告時所舉出的兩則新聞實例。根據內容判斷，他所報告的主題應與下列何者最相關？

新聞一：西非國家尼日共和國 2023 年 7 月發生軍事政變，主導者呼籲殖民母國勿介入，以免發生流血衝突。

新聞二：南美國家阿根廷 2023 年 11 月舉辦大選後變天，由極右派的經濟學家擊敗執政聯盟推出的候選人。

- (A)國家主權的更替(B)國家存在的目的(C)政府組織的永續(D)政權轉移的方式。
36. 馬克宏複習公民與社會科時，針對民主社會中主權與統治權的概念比較整理如下，請問有哪些項目是正確的？(A)甲乙丙(B)甲乙丁(C)乙丙丁(D)甲丙丁。

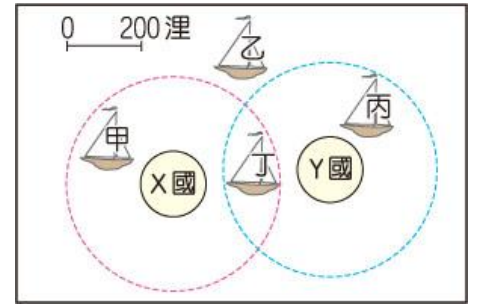
項目	主 權	統 治 權
甲	由所有國民享有	由政府行使
乙	國家最高的權力	政府執行國家事務的權力
丙	會隨各種變革而由人民轉移給政府	會因選舉或是革命而改變
丁	國家的組成要素之一	屬於主權的內涵

37. 我國自 2016 年修法，讓外國籍的高級專業人才可在我國提出歸化申請，經審查會審核通過者，即可歸化為中華民國國民，無須喪失原國籍。截至 2024 年為止，已累計 330 位高級專業人才透過此途徑歸化我

國。上述政府作法最可能影響何項國家組成要素？

(A)人民(B)領土(C)政府(D)主權。

38. 國際新聞報導：「北韓今日朝東部海域發射 10 多枚彈道飛彈，其中多枚落在日本經濟海域之外，引發日本與南韓強烈譴責。」若右圖為日本領土與周邊海域示意圖，根據新聞內容判斷，北韓的飛彈最可能落在圖中何處？



(A)甲(B)乙(C)丙(D)丁。

39. 下表為三部法典中與平等權相關之條文，根據內容判斷，下列敘述何者『錯誤』？

甲	中華民國人民，無分男女、宗教、種族、階級、黨派，在法律上一律平等。
乙	受雇者於其配偶分娩時，雇主應給予陪產假 5 日。
丙	陪產假 5 日，受雇者應於配偶分娩之當日及其前後合計 15 日期間內，擇其中之 5 日請假。

(A)甲內容多為原則性事項(B)甲的修正過程較乙丙困難(C)甲不得抵觸乙，乙不得抵觸丙

(D)甲的法律位階與效力高於乙丙。

40. 交通部 2025 年 3 月初舉辦「高鐵延伸宜蘭計畫環境評估公聽會」，贊成興建者認為，有高鐵才能吸引產業進駐、促進地方繁榮；反對者認為，高鐵蓋了也無法解決國道 5 號塞車問題。上述以公聽會的方式傾聽民眾訴求，展現民主政治的何種特色？(A)民意政治(B)責任政治(C)政黨政治(D)法治政治。

41. 下列是小敏在雜誌上看到某篇文章的部分內容：『政府為了防止流氓破壞社會秩序，制定《檢肅流氓條例》，但因該條例的部分規定侵犯人民基本權利，被三度宣告違憲。政府面對《檢肅流氓條例》多次翻修，仍被宣告違憲，決定「修不如廢」，於是依法定程序將該法律廢止。』上述文章最能彰顯憲法的哪一項特性？(A)原則性(B)固定性(C)最高性。

42. 具有本國國籍的人民稱為「國民」，人民是組成國家的要素之一，就上述定義來看，下列何人最有可能是屬於中華民國的「國民」？(A)我的父親從美國來臺工作，所以我跟著來臺灣念輔年中學(B)要出國旅遊了，我要準備好我的中華民國護照(C)我來臺灣四年了，下個月要回到我的國家日本了(D)身為瑞典人，我覺得臺灣有些食物真的好特別。

*請閱讀完下列文章後並回答 43-44 題

根據新聞媒體統計，在 2024 年的美國總統大選中，共和黨總統候選人川普以 312 張選舉人票，擊敗民主黨候選人賀錦麗，當選美國總統。川普在勝選後的電視訪問中提到，將在上任第一天頒布行政命令，廢除美國的「出生公民權」(屬地主義)，換言之，過去無論父母國籍為何，任何在美國境內出生的小孩，都可自動獲得美國國籍的制度恐怕會遭到廢止。

43. 根據上文內容判斷，下列哪一敘述最符合 2024 年美國總統大選的結果？

(A)民主黨成為執政黨(B)共和黨成為在野黨(C)共和黨負責監督政府施政(D)共和黨負責執行政府政策。

44. 文中提到川普在上任第一天的作為，最可能對國家組成要素的何者造成影響？

(A)人民(B)領土(C)政府(D)主權。

*請閱讀完下列文章後並回答 45-47 題。

愛沙尼亞共和國位於歐洲東北方，屬於波羅的海周邊國家之一，(甲)其國土不僅有廣闊陸地部分，還包含約二千多座島嶼。(乙)首都塔林是國家政治、經濟及文化中心，一座充滿活力的現代都市。(丙)該國主要民族為愛沙尼亞人，由於歷史上曾為蘇聯的一部分，境內仍有近 8 萬持居留證的俄羅斯族群，及約 6 萬無國籍人士。

近來，因俄烏戰爭爆發，基於對國家安全的憂慮，(丁)愛沙尼亞國會進行《憲法》修正案表決，決定在地方選舉中禁止非歐盟居民投票，此項修正案在議院獲得多數支持，若經愛沙尼亞總統簽屬就能成為正式法律。支持者認為，此項法案可限制外來干預，防止第三國勢力透過選舉影響國家政局，進一步強化國家安全。

此外，自 2022 年俄羅斯入侵烏克蘭以來，愛沙尼亞政府便在北約與歐盟框架下積極尋求安全保證。為了應對潛在風險，政府計畫提高國防預算，以增強自身國防自主能力。從其國家歷史沿革來觀察，愛沙尼亞正調整內政與外交政策，力圖在詭譎多變的國際局勢中維護自身國家的權益。

45. 國家是由不同要素組合而成的政治實體，關於文中(甲)~(丁)對於愛沙尼亞的敘述，有幾個屬於國家組成的要素？(A) 1 (B) 2 (C) 3 (D) 4。

46. 從文中內容判斷，該項《憲法》修正案最可能影響該國非歐盟居民的何項基本權利？
(A)平等權(B)自由權(C)受益權(D)參政權。

47. 閱讀完上文，我國立法院院會於 2022 年 3 月 25 日三讀通過「18 歲公民權」修憲案，接下來必須交付何種程序通過後才能正式生效？(A)大法官釋憲(B)司法院決議(C)選舉人投票(D)行政院會議通過。

*請閱讀完下列文章後並回答 48-50 題。

小威上網瀏覽總統府網站，網站資訊如下：

中華民國創建於 1912 年，是亞洲第一個民主共和國，全國人口大約 2,300 萬。1949 年 12 月 7 日，中華民國政府遷臺，轄有臺灣本島及其附屬島嶼等地，有效管轄土地面積 3 萬 6,197 平方公里。外交上致力於和平發展，建立與邦交國永續夥伴關係。請從小威瀏覽的資訊中，判斷 48-50 題主要屬於何種國家組成要素？

(A)人民(B)領土(C)政府(D)主權

48. 全國人口大約 2,300 萬。

49. 土地面積 3 萬 6,197 平方公里。

50. 致力於和平與發展，建立與邦交國永續夥伴關係。

~~ 試題結束 ~~

請同學再次檢查答案卡上的基本資料是否填寫完整