

高雄市中正高中國中部 114 學年度第一學期國三社會科第一次月考試題

【試卷共 6 頁】

班級： 座號： 姓名：

※每題 2 分，共 50 題

科目代碼:05 (請用 2B 鉛筆，將答案劃於答案卡上)

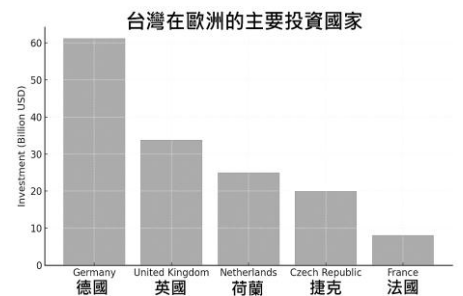
一、地理科(1-17 題)

1. 『2025/7/30 俄羅斯發生強烈地震，主震規模達 8.7 級，震源深度約 10 公里，是自 1952 年以來該地區最強的一次地震，並引發橫跨太平洋的海嘯』請問，上述地震震央最可能出現圖(一)中在哪個地理區？(A)甲 (B)乙 (C)丙 (D)丁。



圖(一)

2. 圖(二)為台灣在歐洲的主要投資國家，關於圖中國家的敘述，下列何者正確？(A)前四名都屬工商業發達的西歐國家 (B)第一名擁有豐富煤礦，為工業革命的發源地 (C)第四名國家為世界最大橄欖油出口國 (D)第三名國家以填海造陸聞名，有大量的風車來排低地積水。



圖(二)

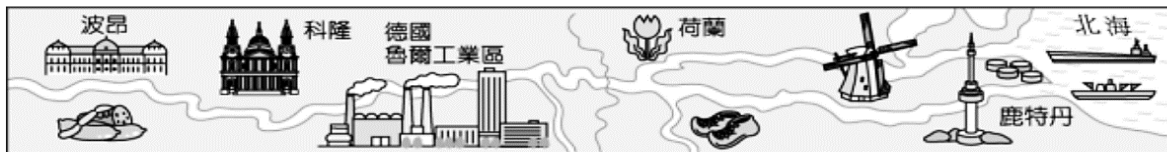
3. 圖(三)中的網格區域，代表歐洲大陸人口較為密集且經濟高度發展的核心地區，其分布與下列何者的關係最密切？(A)豐富的石油蘊藏量 (B)便利的河流航運線 (C)地中海型農業發達 (D)高社會福利。



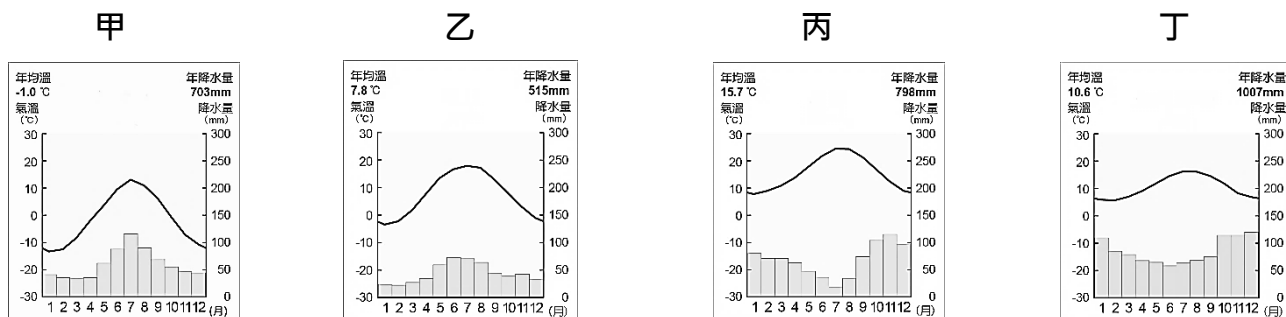
圖(三)

4. 近日，奧斯陸大學的研究團隊在挪威外海發掘出了一具迄今為止最為駭人的恐龍遺骸，牠被命名為「掠食者 X」。這隻史前巨獸體長估計可達 15 公尺，其驚人的攻擊力更是被科學家評估為暴龍的 11 倍，請問：若依其遺骸位置判斷，則下列哪一個研究標題命名最適合？(A)大西洋的海底霸主 (B)太平洋的龐然大物 (C)印度洋的終極殺手 (D)地中海的奇特生物。

5. 歐洲的發展過程和水運關係甚大，由圖中該河流經的區域判斷，該河川最可能為下列何者？(A)泰晤士河 (B)塞納河 (C)萊茵河 (D)多瑙河



6. 曉明在暑假前往英國及西班牙遊學，體驗不同的歐洲風情。請問：有關英國和西班牙的氣候類型依序分別為何者？(A)丁、丙 (B)甲、乙 (C)乙、丙 (D)甲、丙。



7. 南歐與西歐之間以阿爾卑斯山為主要分界線，然而此山脈並未造成兩地間交通的阻隔，最主要的因素為下列何者？(A)氣候溫暖，終年無雪 (B)河運發達，水流平緩 (C)冰河作用形成通谷，險而不阻 (D)斷層陷落，地勢低平。
8. 瑞士若舉辦冬季奧運會，為有利於滑冰競速成績，其滑道盡量避免何方向，以免因逆風而影響成績？(A)由南向北前進 (B)由東向西前進 (C)由西向東前進 (D)由北向南前進。

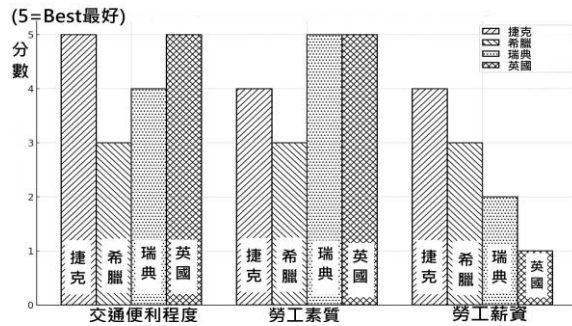
9. 中正旅行社推出歐洲旅遊行程，其廣告單如圖(四)所示。請問：下列有關該行程的敘述，何者正確？(A)攀登阿爾卑斯山，搭乘高山鐵路 (B)搭乘豪華巴士，欣賞多瑙河沿岸風光 (C)乘坐豪華郵輪，暢遊黑海海域 (D)參觀建築大師高第設計的聖家堂，並前往觀賞佛朗明哥舞及鬥牛比賽。
10. 阿志打算到歐洲設立一家汽車零件工廠，他希望選擇的國家要符合圖(五)的條件，圖(六)則為他考慮設廠國家的各項條件得分數(5分代表最好)，請問最適合他設廠的國家為？(A)捷克(B)希臘 (C)瑞典(D)英國。



圖(四)

- 交通便利
- 人力素質不錯
- 工資不要太高
- 必須是歐盟成員國，方便銷售到歐洲各地

圖(五)



圖(六)

地中海飲食特色



圖(七)

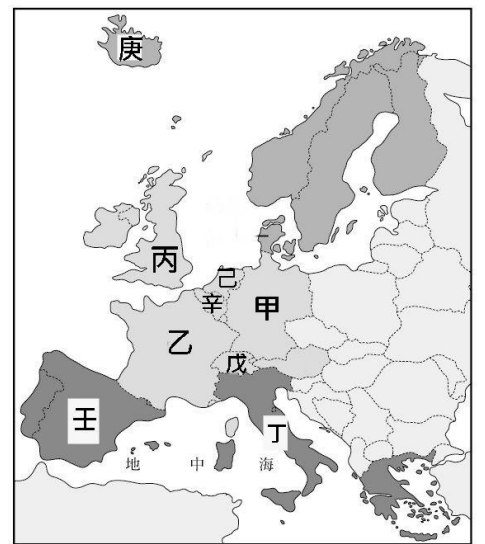
11. 地中海周圍國家因心血管疾病而死亡的人比例很少，因此對於地中海飲食的相關研究越來越多，漸漸發現在肥胖、失智症、糖尿病等都有許多好處，圖(七)為地中海飲食特色的原則，如果要解釋為什麼地中海地區會發展出這種飲食方式，下列哪一個說法最合理？
- (A) 氣候乾燥，畜牧業發達，肉類便宜又多
 (B) 位處熱帶雨林區，盛產可可、香蕉、咖啡豆
 (C) 高原乾燥區，主要以放羊為生，食物以乳製品為主
 (D) 雨季與生長季無法配合，適合種植橄欖、葡萄與蔬果生長

烏克蘭擁有肥沃的黑土，再加上其氣候特徵，十分適合小麥、玉米等糧食作物生長，因此被稱為「歐洲糧倉」，其農產品主要依靠黑海港口出口，但因戰爭影響，糧食供應受到阻礙，導致非洲與中東等糧食出現危機。另一方面，約80%的俄羅斯天然氣通過烏克蘭的管道運輸往歐盟，歐盟國家長期仰賴俄羅斯能源供應，戰爭爆發後，歐盟被迫尋找新的能源來源，並加速發展再生能源，以降低依賴，這場戰爭使歐盟更加重視能源與糧食安全，也凸顯各地區之間在自然環境、資源與貿易上的相互依存關係。

12. 下列何者最符合烏克蘭的氣候特徵描述？(A)終年乾燥少雨，農業需依賴灌溉 (B)全年炎熱潮濕，適合熱帶作物 (C)四季分明，夏季高溫多雨、冬季寒冷 (D)冬季溫暖多雨，夏季乾燥少雨。
13. 下列哪一項措施最能有效幫助歐盟降低對俄羅斯能源的依賴？(A)增加從烏克蘭進口天然氣 (B)積極發展風能與太陽能 (C)仰賴供應非洲糧食以換取能源 (D)大幅減少工業生產，改以農業為主。
14. 雅庫次克位於俄羅斯，一月平均溫度接近-40度，室外溫度比冰櫃還低，商販將漁獲直接陳列的凍魚市場成為特殊景象。請問雅庫次克的氣候類型具有下列哪項特色？(A)冬季長達半年 (B)降水集中冬季 (C)冬夏氣溫差異小 (D)冬季日照時數長

●圖(八)為歐洲行政區圖，請依圖回答問題：

15. 地理老師在瀏覽知名雕塑家兼畫家的米開朗基羅身平時，得知他出身於圖中丁區域。關於他生活環境的簡介，下列敘述何者符合當時現況？(A)夏天工作時常常會遇到暴雨停工 (B)偶而外出寫生，畫畫峽灣與商船 (C)本地產的大理石品質良好 (D)東正教會常常公開與私底場合下要求他接聖像畫工作。
16. 莊肖偉想看英國皇家衛兵在白金漢宮交接儀式，還有親眼看到小時候常唱兒歌「倫敦鐵橋」主角，請問他應該到圖中何處？



圖(八)

(A)丙 (B)庚 (C)己 (D)壬。

17. 顧古估想要參觀巴黎羅浮宮看達文西著名的《蒙娜麗莎》，順便買一個LV包包孝敬媽媽。請問他應該到圖中何處？(A)甲 (B)乙 (C)戊 (D)辛。

二、歷史科 (18-34 題)

18. 甲民族：「我們通常都將文字用蘆葦稈刻寫在泥板上」；乙民族：「我們的文字是由一些圖像與表音符號所構成」；丙民族：「我們將他民族的文字簡化，並傳入到歐洲，成為西方拼音字母的源頭」。請問：根據上面三個民族的敘述，下列敘述何者「正確」？(A)甲民族應該是生活在印度河流域附近 (B)乙民族的國家因被異族消滅，所以後代無法解讀該文字 (C)丙民族簡化的文字，最早是由蘇美人所創 (D)丙民族居住於小亞細亞地區，與歐洲相近。

19. 古西亞、埃及、希臘三個地區的文明得以互相融合，形成在科學方面有突出成就的「希臘化文化」，與下列哪一帝國的建立有關？(A)拜占庭帝國 (B)羅馬帝國 (C)波斯帝國 (D)亞歷山大帝國。

20. 小玟在法國羅浮宮看到一塊石碑，上面刻滿了密密麻麻的□□文字，旁邊的導覽牌寫著「漢摩拉比法典」。她驚訝地發現這竟是一部距今數千年的成文法律。請問：這塊石碑最初應該是在右圖中哪個地區被發現？(A)甲 (B)乙 (C)丙 (D)丁。

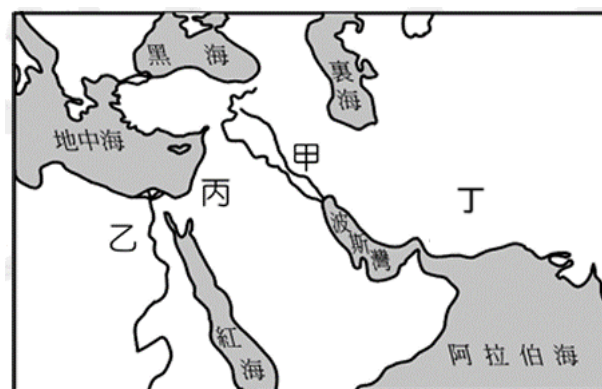


21. 承上題，小玟在石碑上所看到的密密麻麻的□□文字，應該是(A)象形 (B)楔形 (C)波斯 (D)希臘。

22. 依據觀光署統計資料，2025年1月至5月最多人參訪的博物館，不是故宮博物院，而是佛光山佛陀紀念館，佛陀紀念館供奉全球僅存3顆的其中1顆「佛牙舍利」，5個月就吸引超過269萬人次參訪。佛陀即是約2600年前誕生於古印度迦毗羅衛國的王子喬達摩·悉達多，修行得道後創立了佛教，被後世尊稱為釋迦牟尼。關於佛教的敘述，下列何者不正確？(A)佛陀主張眾生平等，皆能依靠修行擺脫輪迴 (B)婆羅門教受佛教影響，相信因果報應，靈魂轉世 (C)佛教在印度的黃金時代是阿育王統治時期 (D)佛教是在漢朝經由西域傳入中國。

23. 歷史老師請同學擬出「埃及」為主題的報告題目。以下是幾位同學提出的報告方向，其中哪一項內容與歷史事實不符？(A)小明：古埃及人的太陽曆與農業發展 (B)小花：古埃及的善惡二元宗教觀 (C)小華：古埃及金字塔的建築之謎 (D)小娟：木乃伊製作與埃及醫學。

24. 在西元前490年發生的馬拉松戰役中，希臘城邦聯盟成功抵抗一支強大外來勢力的入侵。這支軍隊主要來自右圖中哪個地區？(A)甲 (B)乙 (C)丙 (D)丁。



25. 承上題，希伯來人創立猶太教，認為上帝耶和華是唯一真神，是最早的一神教信仰。請問：希伯來人認為右圖中何處是上帝應許希伯來人之地？(A)甲 (B)乙 (C)丙 (D)丁。

26. 下列西方歷史上知名的學者，何者的成就與其他三者不同？(A)歐幾里德 (B)亞里斯多德 (C)蘇格拉底 (D)柏拉圖。

27. 西漢時期，為了打通西域並尋求外援對抗匈奴，漢武帝派遣張騫出使西域，開啟了聯通中國與中亞、乃至地中海地區的陸上貿易通道，被後世稱為「絲綢之路」。這條商路不僅運輸絲綢，也成為文化、技術與思想交流的重要橋樑。請問：漢朝在絲綢之路的交流中最早接觸到的西方文明帝國是下列哪一個？(A)羅馬帝國 (B)波斯帝國 (C)亞歷山大帝國 (D)東羅馬帝國。

28. 古羅馬的政治演變經歷了王政、共和、帝國時期，關於羅馬「共和時期」的敘述，何者正確？(A)頒布「十二銅表法」，強調「報復原則」 (B)積極向外擴張版圖，締造了「羅馬和平」 (C)始

於凱撒獨裁統治被推翻，因屋大維稱帝而結束 (D)版圖橫跨歐亞非三洲，使地中海成為內海。

29. 西元前 2000 年左右，在地中海東部的愛琴海地區，曾孕育出諸多獨立城邦，各城邦之間的政治體制、文化都有所不同，其中以斯巴達與雅典兩個城邦最為重要，各自形成不同樣貌的發展。請問：下列關於斯巴達城邦的描述，何者正確？(A)成年男性公民均可參與政治事務 (B)採陶片放逐法，將可能產生危害的人逐出城邦 (C)男性公民從小接受嚴格的軍事訓練，重紀律與服從 (D)以抽籤方式選出官員，決議城邦事務。

30. 承上題，斯巴達和雅典等希臘城邦最終是被右圖中何處崛起的勢力所消滅？(A)甲 (B)乙 (C)丙 (D)丁。

31. 亞歷山大大帝鼓勵士兵與當地女子結婚，自己也與波斯公主結婚，促進民族的融合。請問：這種政策的推行，類似中國哪一位皇帝的作為？(A)秦始皇 (B)漢武帝 (C)北魏孝文帝 (D)唐太宗。

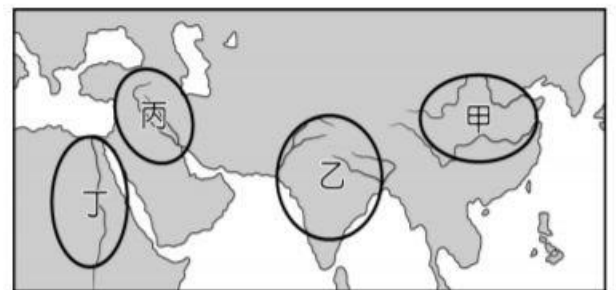
32. 霏霏參與電影「羅馬戰士」的拍攝，電影背景是古羅馬時期，請問：下列哪個電影場景是正確的？(A)監督帕德嫩神殿的興建 (B)率領羅馬軍隊打敗波斯帝國 (C)在石板上書寫楔形文字 (D)在北非的公共浴場泡澡。

33. 根據右表中四個民族的信仰特色，可以推斷出哪些民族的發源地位於亞洲？(A)甲、乙 (B)乙、丁 (C)乙、丙 (D)甲、丙。

民族	信仰特色
甲	我們是上帝唯一的選民，上帝只愛我們
乙	只要有光明與火的地方，就有神
丙	奧林帕斯山上的眾神一樣都有七情六欲
丁	人死後只要通過尼羅河神的審判就有機會復活

34. 1922 年挖掘出來的摩亨佐達羅遺址以

具備非常完善的城市規劃著稱，街道整齊如棋盤，還有大浴場與下水道設計，根據對此遺址的研究，不少考古學家認為這座古城應該是毀於異常爆炸，至今留下許多未解之謎。請問：如果要去這個遺址，要去右圖上的哪一個區域？(A)甲 (B)乙 (C)丙 (D)丁。



三、公民科 (35-50 題)

35. 明玉有四個打工機會，她將每份工作的薪水與其機會成本整理如右表，希望藉此做出選擇，但不小心有一處汙損「***」。根據表中內容判斷，何者『不可能』是丁工作的時薪？(A)255 (B)245 (C)235 (D)225。

工作	時薪 (元/小時)	機會成本 (元/小時)
甲	250	285
乙	200	285
丙	285	250
丁	***	285

36. 下列四個事件中，所列舉的商品或資源，何者正面臨「稀少」的問題？(A)連續多日豪雨不斷，『雨水』過多把路基掏空 (B)房市買氣疲弱，建商手上的『餘屋』陷入滯銷 (C)連續兩個颱風過境之後，『葉菜類』價格大漲 (D)韓國生產的『手機』，因電池爆炸而乏人問津。

37. 台灣高中打排球風氣盛行，每當接近班際排球比賽期間，場地總是供不應求。為了協調場地使用時間，校方召集體育股長開會討論，綜合各班意見後歸納出右列四項方案。關於這四個方案的分析，下列何者最合理？
 (A)甲方案較可能使球場被少數班級長期占用
 (B)乙方案能使衝突減少是最合適的解決方案
 (C)丙方案可能會造成弱勢者無法負擔的問題

- 甲、維持現狀，先到球場的班級就可以使用球場。
- 乙、為避免各班發生爭議，非上課時段關閉球場。
- 丙、由體育組排班，使各班在不同時段輪流使用。
- 丁、每周舉行抽籤，決定該週可使用球場的班級。

(D)丁方案中所有人的機會皆相同為最佳方案。

38. 政府公布法規修正消息，如下圖所示。下列對於圖中內容的解讀，何者最適當？

《道路交通管理處罰條例》部分條文修正：

*無照駕駛的罰鍰上限提高，如有致人受傷或死亡並得沒入車輛。

*駕駛未禮讓行人致人受傷或死亡，罰鍰加倍，並吊扣（銷）駕駛執照。

(A)此法規是由行政院交通部負責修正與執行 (B)以正向非金錢誘因鼓勵汽車駕駛禮讓行人

(C)圖中兩項修法內容皆有強化負向金錢誘因(D)僅運用負向非金錢誘因而嚇阻不當的行為。

39. 有個小攤車的 Donut 口味與售價，如右表。如果每天都固定每種口味各賣 30 個，預期獲利 2040 元，則一個巧克力 Donut 的售價應為多少？(A) 49 (B) 50 (C) 51 (D) 52。

項目 口味	售價 (元/個)	生產成本 (元/個)
原味	40	20
綠茶	45	23
巧克力	?	24

40. 林老闆的公司業績蒸蒸日上，為爭取更多的商業機會，他這個月增加(甲)500萬元廣告費用，並且多花(乙)200萬元增聘人力，等到這個月底結算業績時，才得知上述作為使本月(丙)增加400萬元的銷貨收入。關於該公司這個月的收支狀況，下列敘述何者正確？

(A)與上個月相比，利潤增加400萬元(B)與上個月相比，利潤增加600萬元

(C)(丙)項目不包括該公司的生產成本(D)(甲)(乙)皆應計入該公司的生產成本。

41. 歐美國家重視「糖害」問題，許多國家或地區都已課徵「糖稅」，希望藉此解決肥胖問題、鼓勵民眾購買更健康的產品。由彭博慈善基金會贊助的糖稅研究計畫，研究結果刊登於《美國醫學會雜誌》，該論文指出，自從美國費城及其附近地區於2017年開徵俗稱糖稅或肥胖稅的「含糖飲料」後，含糖飲料銷售額已下降38%，顯示糖稅對於抑制含糖飲料有一定的效果。有關上述做法，下列敘述何者正確？

(A)將提升消費者購買含糖飲品的意願 (B)政府運用價格誘因而解決肥胖問題(C)開徵糖稅為政府運用正向誘因策略(D)開徵糖稅將會降低廠商的生產成本。

42. 中正社區共有120戶家庭，為維護社區的環境整潔，於是由社區管委會的會長召開居民大會，希望藉由會議找出適當維護每棟大樓公共區域環境衛生的方法。下表為每戶家庭投票的最終結果，依內容判斷，下列敘述何者正確？

選 項	贊成戶數
甲、被檢舉亂丟垃圾者，罰交2倍管理費	17
乙、未保持門前乾淨者，須打掃公共區域1小時	38
丙、願意打掃公共區域之住戶，管理費減半優惠	53
丁、堆放雜物於樓梯走廊者，禁止搭乘電梯	12

(A)四種解決方法均屬於金錢誘因(B)贊同採取正向誘因的戶數多於負向誘因(C)贊同採取非金錢誘因的戶數多於金錢誘因(D)贊同以金錢誘因解決問題的居民超過半數。

43. 右表為某生技公司生產的四樣商品，由於上一季四項商品的利潤都一樣，公司在開會檢討後打算下一季要增產「生產成本最低者」及停產「生產成本最高者」。依據表中資料判斷，下一季增產與停產的兩項商品應分別為何者？

商品	商品價格	銷貨數量
甲	180	350
乙	160	400
丙	120	550
丁	100	650

(A)增產甲，停產乙(B)增產丙，停產丁

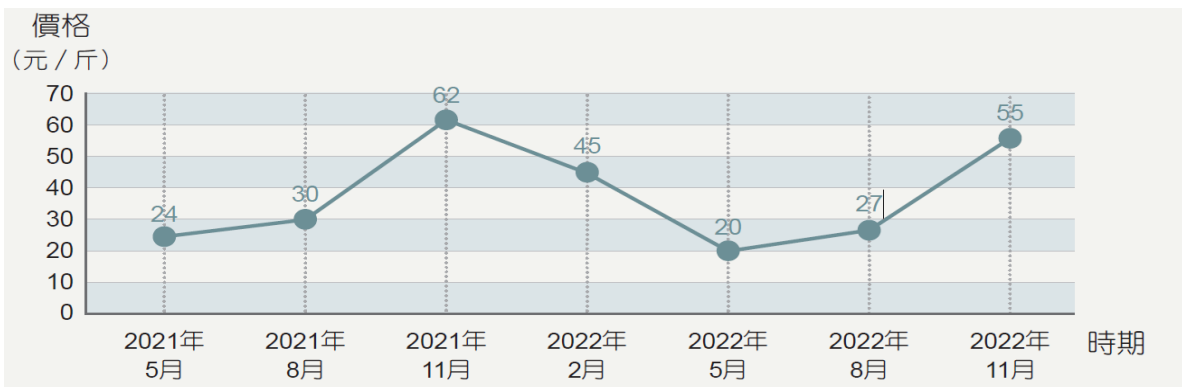
(C)增產甲，停產丙(D)增產乙，停產丁。

44. 權志龍是建築業的經理，雖也擅長水電維修，但家中的水管破裂漏水時，他卻不願意請假自行修理，反而委託合作廠商的水電工人代為修繕。根據權志龍的選擇判斷，下列何項敘述正確？(A)權志龍請假自行修理的機會成本較高(B)權志龍在聘請水電工的代價較昂貴(C)權志龍上班工作的機會成本較高(D)水電工修繕屬於有形的財貨。

45. 位處喜馬拉雅山南坡的不丹，平均海拔高度約 3280 公尺，壯麗的自然景觀及獨特的藏傳佛教文化吸引不少遊客前往，不丹政府為降低遊客對環境的衝擊，規定每名遊客每天支付 200 美元的「永續發展費」，以控制遊客的數量。高額收費之下，仍有部分遊客前往觀光，但大多數遊客卻因此止步，不丹政府於是決定 2023 年 9 月起調整此項收費，從每人每晚 200 美元減半為 100 美元，以吸引更多遊客。從誘因的角度分析不丹政府調整收費的作法，下列敘述何者正確？(A)原規定透過正向誘因吸引多數旅客前往旅遊(B)調整後欲透過負向誘因加強抑制觀光客人數(C)原規定的金錢誘因對遊客的影響不盡相同(D)調整後至不丹旅遊的機會成本大於調整前。

*請根據圖中內容判斷，回答 46-47 題。

臺灣一年四季皆有產木瓜，下圖是臺灣批發市場的木瓜行情圖，顯示 2021 年 5 月~2022 年 11 月木瓜的價格。



46. 若只以價格考量，下列哪個時間點農夫最可能多種植木瓜？(A)2022 年 8 月(B)2022 年 5 月(C)2022 年 2 月(D)2021 年 11 月。

47. 農夫高樹評估三種營運策略的收入與支出，如右表所示，若僅考量利潤，他的最佳選擇是「增產木瓜」，且此選擇的機會成本是「增產香蕉」，根據高樹的選擇判斷，表中「？」處的數值，最可能為下列何者？

營運策略	銷貨收入	生產成本
增產木瓜	60	20
增產香蕉	45	?
維持現狀	40	10

(A) 10 (B) 15 (C) 20 (D) 25。

*露西看中了一套衣服，在百貨公司和網購平台找到相同的產品，右表為兩家的購物資訊：請回答 48-50 題

	百貨公司	網購平臺
價格	3900 元	4000 元
優惠方案	滿 3800 折 300 元	滿 1000 元打 85 折
送達方式	即刻拿貨	3 天內郵寄到貨

48. 根據表中內容判斷，若只考慮價格因素，露西會以何種方式購買？(A)去百貨公司購買(B)網路平臺購物。

49. 根據文中內容判斷，兩家廠商的優惠方案與下列何項敘述最相符？(A)透過正向誘因影響產品的販售種類(B)透過負向誘因影響顧客的消費選擇(C)透過金錢誘因影響顧客的消費選擇(D)透過非金錢誘因影響產品的販售種類。

50. 露西僅想馬上拿到衣服；而露西的家人卻只想以便宜的價格購買，對露西及她的家人而言，以哪種方式消費的機會成本較高？(A)皆為百貨公司 (B)皆為網購平臺(C)露西：百貨公司 / 露西的家人：網購平臺(D)露西：網購平臺 / 露西的家人：百貨公司。

~~ 試題結束 ~~

請同學再次檢查答案卡上的基本資料是否填寫完整