





高雄市立中正高中國中部 114 學年度第一學期一年級第三次段考社會科試題

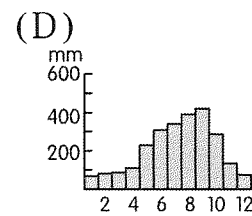
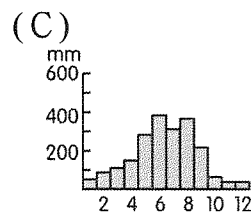
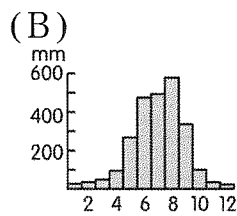
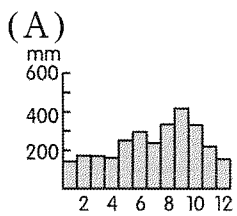
科目代碼：05

一年__班 座號：__ 姓名：__

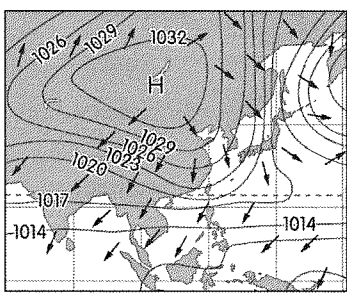
選擇題：100%（每題 2 分） 共 50 題！ 貼心提醒：答案卡一張 + 試題卷三大張共 5 頁

【地理】

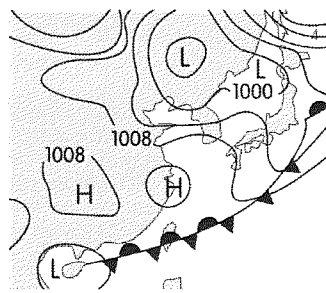
- 天氣的狀況由各種要素所組成，而下列有關各要素的敘述中，何者錯誤？
(A)氣溫是用來表示空氣冷熱的程度，通常用 $^{\circ}\text{C}$ 為度量單位 (B)氣壓是指空氣重量對地表所造成的壓力，通常用 Kg 為度量單位 (C)降水量是指降水的多寡，通常以 mm 為度量單位 (D)風是指空氣水平流動的情形。
- 夏日午後陣雨經常又快又急，使河川暴漲而釀成災害，例如：2000 年八掌溪事件中就有四名工人被沖走，不幸喪命。請問：此種降水的型態為何？
(A)  (B)  (C)  (D) 
- 關於「高度、緯度、氣溫、氣壓」之間的關係，其中哪一位同學的觀念最正確？
(A)悟空：高度愈高，氣壓愈低 (B)貓仙人：高度愈低，氣溫愈低
(C)布馬：緯度愈高，氣溫愈高 (D)天津飯：氣溫愈高，氣壓愈高。
- 某氣象主播正在播報某地區的天氣現象。請問：下列何者為正確的天氣播報詞？
(A)該地區夏乾冬雨，適合種植葡萄 (B)受季風氣候影響，冬夏風向相反
(C)年降水量豐富，夏季降水量尤多 (D)預估明日紫外線增強應注意防晒。
- 「台灣某區有半年的乾季，各河川的流量 89% 集中於夏季，農業發展依賴水利設施分配水源。」請問：上文所說的區域，應該對應下列哪一張氣候圖？



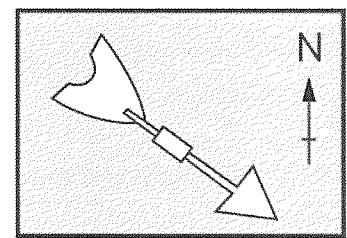
- 臺灣平均年降水量約有 2,500 mm，雖然總降水量充足，但從降水分布情形來看，在空間和時間上都不均勻。請問：下列對於臺灣降水特徵敘述，何者正確？ (A)全臺夏季普遍多雨 (B)北部乾溼季最分明 (C)南部全年總降水量最多 (D)山區降水量少於平地。



圖(一)



圖(二)

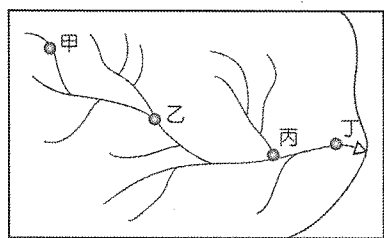


圖(三)

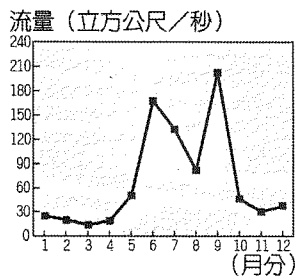
- 圖(一)為亞洲部分地區某日的等壓線圖，蒙古、西伯利亞一帶高壓籠罩。該等壓線圖所顯示的季節，在臺灣可能出現何種氣象災害？ (A)水災 (B)梅雨 (C)寒害 (D)颱風。
- Rumi 出門烤肉前先上氣象局網站查詢地面天氣圖，如圖(二)所示。根據該圖的內容判斷，下列哪項建議對她是有幫助的？ (A)當心午後雷陣雨，稍微躲一下就沒事了 (B)馬上會颳起強風下豪雨，千萬不可以出門 (C)雨勢不大但是綿綿不絕，記得攜帶雨具 (D)天氣持續穩定晴朗，多擦點防晒油吧！不會下雨的。
- 圖(三)為氣象觀測站的風向標，風標箭頭是指風的來向。請問：此時的風向為何？
(A)東北風 (B)東南風 (C)西北風 (D)西南風。

10. 關於氣壓與天氣之間的關聯，下列描述何者正確？

- (A)高氣壓空氣下沉，容易成雲致雨 (B)高氣壓空氣上升，容易晴朗無雲 (C)低氣壓空氣上升，容易成雲致雨 (D)低氣壓空氣下沉，容易成雲致雨。



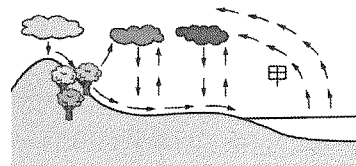
圖(四)



圖(五)



圖(六)

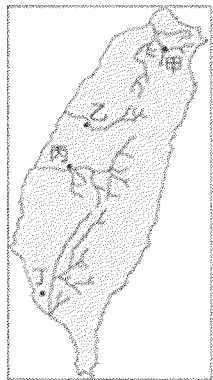


圖(七)

11. 一般而言，若河川沿岸皆有汙染源，則圖(四)中哪一地點河川的汙染最嚴重？(A)甲 (B)乙 (C)丙 (D)丁。
12. 圖(五)為 2010 年濁水溪月平均流量變化圖，圖中兩次高峰期的河川水源，最可能來自下列哪兩種降水類型？
(A)梅雨、地形雨 (B)梅雨、颱風雨 (C)地形雨、颱風雨 (D)地形雨、對流雨。
13. 太平洋中某小島的地形概況如圖(六)所示。圖(六)中 $\triangle\triangle\triangle$ 符號所代表的意義為何？
(A)水系 (B)分水嶺 (C)流域 (D)集水區
14. 圖(七)為水循環示意圖，圖中「甲」是指水的哪一種型態的轉變？(A)蒸發 (B)蒸散 (C)逕流 (D)降水。
15. 臺灣許多河川都建有攔沙壩，其主要目的為何？ (A)吸引觀光客前來旅遊 (B)便於魚兒游至上游產卵
(C)延長水庫的使用年限 (D)精心設計成為當地地標
16. 養殖漁業是臺灣西部沿海一帶居民的重要經濟活動，然而，過度抽取地下水也對當地環境造成很大的衝擊，其中最嚴重的影響為何？ (A)地層下陷 (B)土壤流失 (C)鹽田縮小 (D)魚源枯竭。
17. 根據經濟部能源局資料顯示，臺灣的水力發電廠，分布密度可謂相當密集。請問：臺灣河川有利於發展水力發電的條件為何？ (A)水資源豐富 (B)降雨時間長 (C)泥沙含量少 (D)河川坡度陡。

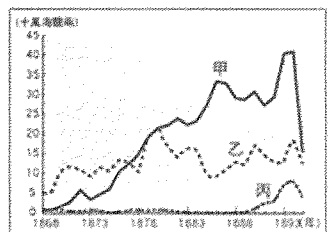
【歷史】

18. 晴晴看到一張台灣的歷史照片，描繪 19 世紀台灣的製茶工房，照片中有 30 多位女工，大多是來自漳州、泉州的婦女，她們每日工資四、五錢不等。請問：上述的製茶工房可能位於何地？
(A)大稻埕 (B)艋舺 (C)安平 (D)打狗
19. 開港通商對臺灣社會造成很大的影響，也對原住民族群產生巨大的衝擊，除了西方宗教的傳入、對原始山林的破壞等情況之外，清廷的「開山撫番」行動，也導致原住民族嚴重的死傷。下列哪一事件即是清帝國時期的原住民抗官事件？ (A)牡丹社事件 (B)郭懷一事件 (C)大甲西社事件 (D)林爽文事件
20. 康熙 23 年，清廷同意開放 $\square\square$ 與廈門進行貿易，此後臺灣各地生產的米穀，會先用牛車、小船載運至 $\square\square$ ，然後裝載於大船上運往廈門， $\square\square$ 成為當時唯一與中國大陸進行商業貿易的港口。
請問： $\square\square$ 應填入哪一個地點較適當？ (A)淡水 (B)基隆 (C)八里坌 (D)鹿耳門
21. 雨凡是國一學生，他在參加校外教學活動時，透過彰化農田水利會的安排，參觀了清代在附圖中的哪一項水利項施？ (A)甲 (B)乙 (C)丙 (D)丁
22. 馬丁參加「林氏家廟」的祭祀典禮，以示慎終追遠。請問：「林氏家廟」代表的是臺灣社會哪一性質的組織？ (A)宗族組織 (B)商業組織 (C)宗教組織 (D)公會組織
23. 清代臺灣各地興建很多的水利設施，在眾多水圳中，哪一條水圳位於今高雄市境內？
(A)貓霧揀圳 (B)曹公圳 (C)八堡圳 (D)瑠公圳



24. 附圖是臺灣開港後的前三名出口商品，關於乙商品的敘述，何者正確？

- (A)主要由淡水出口 (B)是台灣歷史最悠久的出口商品 (C)產量曾居世界第一
(D)台灣經濟重心因此由南往北轉移



25. 「六死三留一回頭」這句話意謂著移民來臺的艱險，十人之中有六個死亡，三個能到達，一個回頭。請問：清帝國早期從中國大陸冒險渡海來臺的移民，以哪兩個省籍人士最多？
(A)廣東、廣西 (B)江西、福建 (C)福建、廣東 (D)廣西、福建
26. 清初臺灣地區文風不盛，教育文化不發達，然而其後教育機構不斷增加，文化教育迅速發展，主要是因下列哪一項因素？ (A)原住民被同化 (B)分類械鬥的結束 (C)西方文化的刺激 (D)經濟的發展
27. 臺灣歷史上流行過的諺語：「有唐山公，無唐山媽」，是在說明當時社會的哪一個情形？ (A)農業人口比例偏低 (B)男女人口比例失調 (C)社會上重女輕男的習俗 (D)原住民社會地位低落
28. 關於清帝國時期台灣的社會文化分析，請問：下列何者為「開港通商前盛於開港通商後」？
(A)民變與械鬥的發生 (B)貿易洋行的設立 (C)吸食鴉片的風氣 (D)西方宗教文化的傳播
29. 光緒年間發生的「加禮宛事件」是撒奇萊雅族族群日漸消失的原因，從該事件可以看出清帝國對高山族的管理政策成效如何？(A)自清帝國時期治臺開始，高山族原住民與漢人衝突日漸平息 (B)牡丹社事件後，清帝國採「開山撫番」政策，有助於安定原住民社會 (C)清廷武力鎮壓，迫使撒奇萊雅規模縮小甚至消失 (D)清廷尊重人數較多的阿美族，強迫撒奇萊雅與之合併
30. 淡水是一個充滿歷史感的城鎮，其中真理大學校園中的「牛津學堂」是超過百年的歷史建築物，當初是傳教士馬偕所創建的「理學堂大書院」，請問：關於馬偕，哪一件事情是他的貢獻？
(A)將基督教長老教會的信仰根植在南臺灣 (B)成立台灣第一間西醫醫館 (C)募資建設文開書院
(D)將新式教育傳入台灣

大佳臘是台北市萬華、大龍峒、大稻埕、松山一帶的舊稱。為了讓人民更了解大佳臘地區，台北市文化局及台北市文獻委員會曾策辦「大佳臘風雲三百年」特展，在艋舺剝皮寮歷史街區展出；展覽首度公開展示「陳賴章墾號」開墾大佳臘的最早契約原件，藉此呈現 300 年來台北地區的族群、政治、經濟、交通、建設、文化、藝術、宗教信仰等各類發展歷程。參考上文，回答 31-32 題。

31. 請問：「陳賴章墾號」約是何時進入台北盆地開墾的？(A)17 世紀 (B)18 世紀 (C)19 世紀 (D)20 世紀
32. 關於上述「陳賴章墾號」的說明，何者正確？
(A)此墾號開啟原漢合作，引貓霧揀圳的水源灌溉 (B)陳賴章墾號為獨資開墾，為陳賴章一人所有
(C)此墾號向官府申請墾照，並按照股份分配土地 (D)產物與德記洋行合作，銷往美國、東南亞等地

「艋舺青山宮暗訪暨遶境」又被稱作「艋舺大拜拜」，已於 2010 年登錄為台北市民俗文化資產。艋舺青山宮位於臺北第一街的貴陽街上，1854 年地方上發生瘟疫，在當時的泉州移民擔心是妖精作怪，於是奉請青山靈安尊王到艋舺鎮煞。相傳尊王經過西園路時，神轎就無法前行，並指示就地建廟。

在平安渡過此劫後，艋舺青山宮成為當地居民重要信仰中心。百年多來一直在此守護著地方。每年在靈安尊王誕辰之際，會舉辦俗稱「艋舺大拜拜」的遶境活動。參考上文，回答 33-34 題。

33. 關於上文提到的「艋舺青山宮暗訪暨遶境」，下列何者敘述正確？(A)是早期來台漢人祭拜原鄉同姓祖先的祭祀活動 (B)靈安尊王是艋舺當地同姓族人的固定信仰 (C)是開港通商後由傳教士帶進來的信仰
(D)反映了移民往往將原鄉信仰帶到台灣
34. 關於「艋舺」的敘述，何者正確？(A)在艋舺可以看到泉郊、布郊 (B)艋舺的發展早於鹿耳門
(C)熱鬧的艋舺有不見天街 (D)艋舺有台灣第一間西醫館

【公民】

35. 校園霸凌是學生之間存在不對等的欺凌與壓迫。以下哪些行為可能已經構成校園霸凌？(甲)總是拿同學身材、身體特徵開玩笑；(乙)考試總是名列前茅讓同學難以超越；(丙)使用網路散布謠言、留下辱罵或嘲笑的字眼；(丁)長期聯合同學排擠班上自己不喜歡的同學；(戊)同學違反校規向老師報告。
(A)乙丁戊 (B)乙丙戊 (C)甲丁戊 (D)甲丙丁。
36. 在校園中推展學生自治活動，還包含自治組織的成立（例如學生會、班聯會）、自治規範的制定（例如學生自治

會組織章程)。請問：正確的實施步驟依序為何？

- (A)訂定自治規範 → 成立自治組織 → 推展自治活動 (B)推展自治活動 → 訂定自治規範 → 成立自治組織
(C)成立自治組織 → 訂定自治規範 → 推展自治活動 (D)訂定自治規範 → 推展自治活動 → 成立自治組織。

37. 南韓政府為解決校園暴力問題，提出了因應之道，擬從 2026 學年度大學招生起，規定校園暴力加害學生的處分結果，反映在學生檔案綜合評價及大學入學考試評價中，希望從對升學、就業的影響上，嚇阻校園暴力發生。在我國人民有受國民教育的權利及義務，而有關霸凌等校園暴力問題，我國法律也明文規定「學生之學習權、受教育權、身體自主權及人格發展權，國家應予保障，並使學生不受任何體罰及霸凌行為，造成身心之侵害。」請問上述法律為何？(A)憲法 (B)世界人權宣言 (C)家庭暴力防治法 (D)教育基本法。

38. 西元 2018 年，法國於全國實施「禁止學生在校園內使用手機、平板電腦、智慧型手錶等電子產品。」該國總統表示「為了防止校園霸凌、暴力、色情等不良行為擴散，且來學校是為了學習，故適當的限制將有助於學生學習。」下列敘述何者正確？

- (A)該政策的目的是透過法律限制學生隱私權 (B)根據總統的論述，手機可能助長網路霸凌
(C)該規定希望透過學生自我管理來使用手機 (D)臺灣的教師可依照校規沒收手機而不歸還。

39. 子琴將會議中，各項角色功能的配對關係寫在筆記中，以利下次開會能順利進行。然而，子琴的筆記內容中，何者需要加以修正？

- (A)主席—主持會議 (B)司儀—維持會場秩序 (C)紀錄—記載會議內容 (D)導師—提示會議規則。

40. 班會時，主席宣布開會目的為討論班服的款式，而馨儀則希望藉會議機會，要求大家討論一下最近掃區頻頻被扣分的問題。馨儀應該怎麼做才符合會議相關規範？

- (A)對主席提出權宜問題 (B)對主席提出秩序問題 (C)在臨時動議時提出議案 (D)在會議中書面提出動議。

41. 阿虎在開班會時吵鬧不停，鐵雄轉頭叫阿虎安靜一點，卻因此在放學後被阿虎痛毆一頓。阿虎的爺爺知道情況後，嘆了口氣說，家裡只有祖孫二人，自己為了工作常不在家，想好好管教孫子，實在是有心無力。根據上述內容判斷，下列何項敘述正確？

- (A)針對開班會時的情況，鐵雄可提出權宜問題 (B)鐵雄可申請保護令，以免阿虎再次拳腳相向
(C)鐵雄可向學校示威抗議，替自己討回公道 (D)阿虎家的家庭型態最可能為小家庭型態。

42. 中正高中一年一度的學生會長選舉如火如荼的展開，下列候選人所提出的政見中，哪位最符合學生自治的精神？

- (A)冠宇：「只要我當上會長，保證會增加體育課、電腦課，減少數學課與英文課。」(B)宗翰：「我當上會長後，我會向學校爭取讓同學決定期末考的考試範圍及日期。」(C)美琪：「大家如果選我，我會替同學們處理好所有事情，不用再花時間煩惱了。」(D)宜婷：「如果我當選了，會讓全校學生都有機會表達自己有關畢業典禮的想法。」

43. 我國某法的部分內容節錄如圖(甲)所示，請依現行情況與圖中內容推論，下列相關敘述何者正確？

- (A)文中某法指《憲法》
(B)圖中核定數量應為 18 族
(C)圖中機關應為原住民族委員會
(D)該法制訂目的為有效管理原住民

圖(甲)

本法所指原住民族：是指既存於臺灣而為國家管轄內之傳統民族，包括阿美族、泰雅族、排灣族、布農族、卑南族、魯凱族、鄒族、賽夏族、雅美族、邵族、噶瑪蘭族、太魯閣族及其他自認為原住民族並經中央原住民族主管機關報請行政院核定的民族。

44. 臺東原鄉許多部落隔代教養家庭及獨居老人的比例特別高，原因是許多青年紛紛出走求職，地方人口高齡情況嚴重，即使年輕人有心想返鄉工作，也面臨資源不足與營生困難的困境。由上述內容推論，原鄉部落可能正面臨何種挑戰？(A)傳統文化出現斷層 (B)部落經濟發展停滯 (C)文化與法律的衝突 (D)傳統領域遭到破壞。

45. 臺東知本卑南族卡大地布部落不滿「知本光電開發案」縣府與盛力公司將租賃契約展延，部分族人與「荒野保護協會」臺東分會成員前往縣府拉布條陳情，要求縣府終止知本光電契約，並呼籲其他部落聲援支持卡大地布部落。縣府表示尊重部落的聲音，會將相關問題妥適處理。針對上文的描述，下列何者正確？

- (A)部落的長老完全掌握部落的發展，並非部落會議的共識
(B)原住民族自治的基礎是部落，部落會議決定部落的事務
(C)針對原住民族的各種改善訴求，政府毋須給予任何回應
(D)部分族人與團體到縣府陳情，是為了保障族人的工作權。
46. 新竹縣的司馬庫斯部落，因為巨木群的景觀吸引遊客到訪，旅遊觀光成為部落收入的重要來源，部落採取土地共有共管的制度，集體經營部落的旅遊觀光，所得利益均分，建立完善福利制度，編列族人緊急救助金等。根據上文，何者敘述最相關最正確？
(A)部落在生產與資源分配，採取共享互助的生活方式 (B)部落青壯年人口嚴重外移，導致部落事務無人關心
(C)部落積極的發展觀光事業，展現民主與法治的精神 (D)部落經濟呈現停滯，只能依靠觀光收入來維持生活。
47. 臺灣的原住民族只占臺灣總體人口的極少數比例，在多數民眾不甚了解原住民族文化的情況之下，有些人會以為原住民族的各種祭典就是觀光娛樂的歌舞表演。於是在祭典的過程中，外來觀光客恣意闖入未開放參觀的祭儀場地拍照，甚至是打斷儀式、試圖加入舞蹈共舞等亂象。非原住民族的外地觀光民眾，若想要參觀這些原住民族的歲時祭儀時，下列何者為較適當的態度？
(A)只要不打斷祭典，任何原住民族的歲時祭儀都歡迎各界參觀，不須事先詢問
(B)想要和部落的原住民族合影留念，只要和原住民談好代價，就可以隨意拍攝
(C)應事先詢問祭典活動是否開放參觀，尊重傳統文化並且遵守祭典的相關規定
(D)這些原住民族的祭典只是少數人的文化，我們根本沒必要參加跟深入理解。
48. 布農族獵人王光祿因狩獵遭法院判刑引發社會議論，在此案發生之前，排灣族蔡忠誠因為自製獵槍，也曾引發原住民傳統文化與法律衝突的爭議。學者建議透過訂立專法方式，讓原住民定義、經營自己的傳統文化與生活習慣；也有學者呼籲大法官直接確定原住民的狩獵權。原住民族的狩獵傳統，在現今常因為持有獵槍而遭法辦，使得傳統狩獵文化發展受到限制。應該如何解決此一問題較佳？
(A)以學者的力量與政府溝通協調 (B)為遵守法律，放棄原有的傳統文化
(C)透過公民參與的方式尋求共識 (D)應衝撞法律才能維護傳統狩獵文化。
- ★人權是不能缺少的生存條件，透過閱讀不同的童書繪本，除能了解自己擁有的權利，也能學會尊重他人。請依據下列書籍的簡介，回答問題：
49. 馬拉拉自小熱愛讀書，縱使面對不允許女孩上學等不公義的制度，她仍勇敢爭取，就算受到暴力對待、受到傷害，仍繼續冒著生命危險，爭取平等的受教育權。文中黑色底線處應是下列何項兒童權利？
(A)受教育權與學習權 (B)身體自主權 (C)人格發展權 (D)個人隱私權。
- 50 艾德的媽媽在亨利爵士的城堡擔任清潔員。當媽媽在工作時，爵士會和艾德玩搔癢遊戲。遊戲時，時常碰觸艾德的私密部位，雖然艾德要求住手，但他並沒有停下來，反而警告他，絕對不可以跟任何人說，否則將解僱媽媽。面對爵士的警告，艾德思考該不該向別人說出這件事。文中黑色底線處應是下列何項兒童權利？
(A)受教育權與學習權 (B)身體自主權 (C)人格發展權 (D)個人隱私權。