


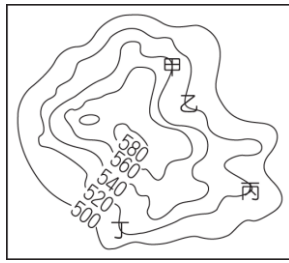
高雄市立中正高級中學國中部 114 學年度第一學期第二次段考國一社會科試卷
【試卷共 5 頁】

班級： 座號： 姓名：

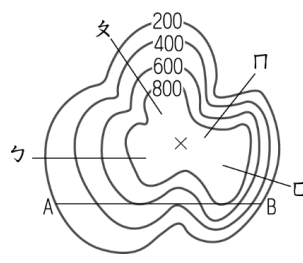
※每題 2 分，共 50 題。科目代碼:05 (請用 2B 鉛筆，將答案劃於答案卡上)



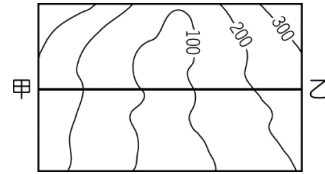
圖(一)



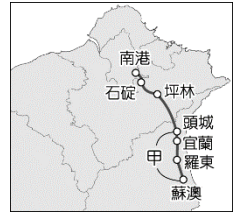
圖(二)



圖(三)



圖(四)



圖(五)

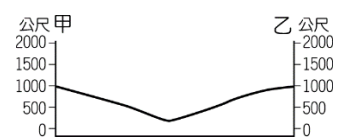
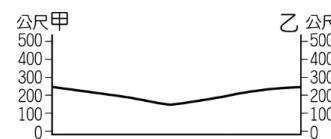
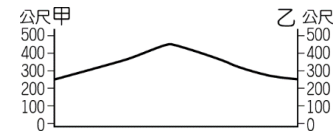
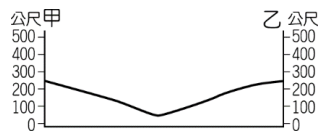
- 高屏溪為我國流域面積最廣的河川，在其上游河川出口地區出現如圖(一)中的地形景觀，請問：造成這種地形的主要原因為何？(A)坡度變陡 (B)流速變慢 (C)泥沙減少 (D)侵蝕力強。
- 萊德隊長在觀光地圖上看見四家民宿分布如圖(二)所示。請問：哪一家最可能位於河谷沿岸？(A)甲 (B)乙 (C)丙 (D)丁。
- 圖(三)中「X」點表示該地區的最高點，其高度最有可能是下列何者？(A) 560 公尺 (B) 720 公尺 (C) 870 公尺 (D) 1050 公尺。
- 承上題為了訓練汪汪隊成員的體能，萊德隊長特別在圖中規畫四條單車路線，希望汪汪隊的狗狗們能共襄盛舉。請問：哪一條路線較為平緩？(A)ㄅ (B)ㄆ (C)ㄇ (D)ㄊ。
- 圖(四)為某地形的等高線圖，根據此等高線圖中甲、乙兩點繪製地形剖面圖，下列何者正確？

(A)

(B)

(C)

(D)



- 圖(五)為蔣渭水高速公路路線圖，其中甲路段經過的地形主要為下列何者？

(A)山地 (B)平原 (C)丘陵 (D)盆地。



圖(六)



圖(七)



圖(八)



圖(九)

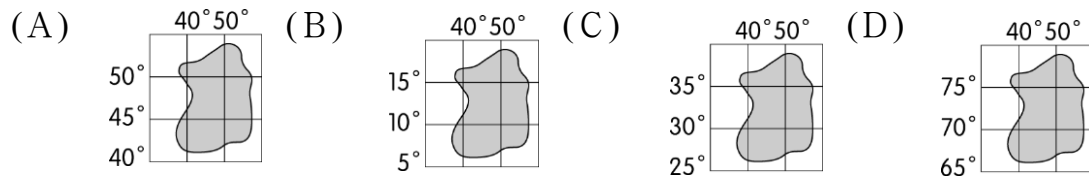
- 海岸的特性隨其性質不同而有差異，一般而言，圖(六)中這種沿海地區較少出現哪一種海岸特性？(A)航運發達 (B)海水較深 (C)泥沙淤積 (D)港灣眾多。
- 卡加布列島的海岸皆為堅硬陡峭的岩岸地形，圖(七)為卡加布列島某部分的海岸線示意圖。若巧虎想在圖(七)中岬角處設置燈塔，以提醒船隻注意航行，則應設於圖中哪一個地點？(A)甲 (B)乙 (C)丙 (D)丁。
- 圖(八)為高雄港的周邊示意圖。該港口因何種地形屏障使海域風平浪靜，有利大型貨輪入港？(A)岬角 (B)珊瑚礁 (C)沙洲 (D)海蝕門。
- 佩佩豬的朋友蘇西想來台灣進行島嶼旅遊，她為蘇西規劃了下列行程：先浮潛、欣賞當地原住民的地下屋及品嚐飛魚料理；接著欣賞柱狀玄武岩及石滬景觀；最後欣賞國家公園內的戰地風光與風獅爺文化。上述行程依序應為圖(九)中哪些島嶼？(A)乙→丙→己 (B)辛→丙→甲 (C)庚→丙→甲 (D)辛→丙→乙。
- 地形的成因包含內營力及外營力的作用，吳老師欲研究外營力所形成的島嶼，應前往下列何處較適合？(A)澎湖群島 (B)綠島 (C)龜山島 (D)琉球嶼。
- 地表高低起伏狀況可利用分層設色圖來加以呈現，其繪製方法可利用下列何種地圖為基本圖，再加以不同顏色以進行繪製最為簡便？(A)地形剖面圖(B)衛星影像(C)航空照片(D)等高線圖。

下頁有題


13. 「隨著雪山隧道的通車，為此區帶來更多觀光人潮，房地產也跟著飆漲；有人把此區比喻為大臺北的後花園，因為從臺北開車到這裡只要 40 分鐘。」上文所述的「此區」應該是指下列何處？

- (A)宜蘭平原 (B)桃園台地 (C)新竹丘陵 (D)花東縱谷平原。

14. 下列為四個位置不同的島嶼，其中哪一個最可能有珊瑚礁海岸類型分布，適合發展潛水活動？



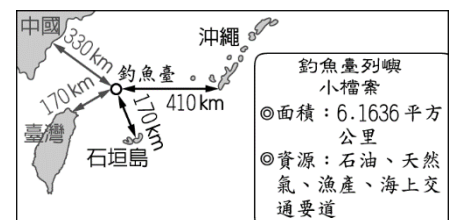
15. 臺北由於主要為下列何種地形為主，因此當有地震波時，地形邊緣為堅硬的地盤，地形內的土層卻是鬆軟的沉積層，而使搖晃的時間容易較其他地區長？



16. 史崔普和家人在暑假開車環島旅遊，由高雄出發依順時鐘方向，經臺北、宜蘭再南下花蓮、臺東之後回到高雄。沿途風景美不勝收，驚奇連連。請問：這次的旅行沿著海岸環島一圈，沿途海岸景觀奇特美麗。有關海岸的敘述，何者有誤？ (A)北部丘陵直逼海岸，多岬灣；基隆港為潟湖改建的天然良港 (B)西部海岸平直水淺，為多沙洲、潟湖的沙岸 (C)東部的海岸為斷層海岸，多懸崖峭壁 (D)南部為隆起的珊瑚礁海岸。

17. 釣魚臺列嶼屬於我國離島，然而日本、中國亦堅稱擁有其主權，引發爭議不斷。

2012 年就曾發生臺、中、日三方在釣魚臺出現衝突，當時我方政府也派遣了艦隊前往當地護漁，表明我國捍衛領土的決心。右圖為釣魚臺列嶼的介紹。請問：2012 年的衝突中，我方政府也派遣了艦隊前往當地護漁，由圖中資料判斷，艦隊上所設定的航行目的地座標應該為下列何者？ (A)東經 125 度，北緯 20 度 (B)東經 119 度，北緯 23 度 (C)東經 120 度，北緯 24 度 (D)東經 123 度，北緯 25 度。



18. 懿庭週末和家人參觀某博物館，其中有一展覽主題是「臺灣原住民族語言與文字展」，她在展區中看到一種文字，旁邊的解說牌上寫著：「這是臺灣最早的書寫系統之一，用來記錄原住民語言……」，懿庭對這段歷史感到好奇，馬上用手機查詢相關資料。請問：下列哪一項應該是她查詢到的正確資料？

- (A)此為鄭氏政權為推廣漢文化而創造的文字 (B)此為西班牙人為宣揚教義以羅馬字母拼寫的文字
(C)此為荷蘭人為推動宗教與統治需要，以羅馬字母拼寫西拉雅族語言而創造的文字
(D)此為臺灣原住民自行創造的文字，是南島語族中最早出現的文字系統。

19. 1635 年，荷蘭東印度公司為報復麻豆社原住民曾在六年前殺害荷蘭士兵的事件，派遣長官普特曼斯率領約 500 名荷軍與□□□原住民組成聯軍攻打麻豆社，造成麻豆社原住民重大傷亡，最終被迫服從荷蘭統治，此役成為荷蘭人鞏固台灣統治的重要轉捩點。請問：上文中的□□□應是？

- (A)牡丹社 (B)新港社 (C)大肚社 (D)沙轆社。

20. 下列何者可能為清朝初期到中期「土牛線」變動的情形？

- (A)由高海拔向低海拔 (B)由北部向南部 (C)由南部向北部 (D)由平地向山區。

21. 為了解決糧食問題，鄭成功曾指派軍隊入侵大肚地區原住民的領土屯墾，因而與當地原住民開戰。請問：鄭氏政權與原住民間的戰爭，應發生於右圖中何處？

- (A)甲 (B)乙 (C)丙 (D)丁。

22. 臺南台江國家公園近年來發現園內水域下有八艘荷蘭時期的沉船，學者呼籲政府能擬定挖掘計畫，讓臺灣能以文史與世界接軌。請問：荷治時期，由中國乘船來臺南做生意的商人，可能會有下列哪一種經歷？

- (A)向高山族換購鹿皮再轉售至中國，獲利甚多 (B)目睹荷蘭傳教士向原住民傳播天主教
(C)轉運中國的瓷器、絲織品，謀取利益 (D)在臺南的紅毛城旁開店販售茶葉。



下頁有題

23.阿勇是雍正 8 年來臺的單身漢，活動於今日臺北一帶，如果他犯法被逮捕，應在哪一行政區接受審判？

(A)淡水廳 (B)諸羅縣 (C)臺灣縣 (D)臺北府。

24.右表是臺灣近代史相關的事件，若依發生時間先後順序排列，其結果為何？

(A)甲乙丙丁 (B)乙丁甲丙 (C)丙乙甲丁 (D)乙丙丁甲。

甲	牡丹社事件
乙	開港通商
丙	朱一貴事件
丁	臺灣建省

25.清帝國時期臺灣民變頻仍，因此有「三年一小反，五年一大亂」的說法，下列何者最可能是當時民變頻傳的原因之一？

(A)移民的祖籍、語言以及風俗習慣差異大，為搶奪生活資源

(B)治臺官員素質欠佳，吏治不良

(C)無業無家室的原住民過多，成為社會動亂的原因

(D)原住民為求自保，組成各種團體，會黨勢力盛行。

26.17 世紀臺灣有一個原住民部落聯盟，其勢力範圍主要在今日的中、彰、投一帶。荷蘭人統治臺灣時，最後該組織妥協接受荷蘭人統治，因而失去獨立地位。到鄭氏時期，遭鄭軍強力鎮壓，該組織至 18 世紀已消失瓦解。請問：該聯盟共主若接受荷蘭人統治，會在何種場合公開獲得權杖，以象徵權威與榮耀？

(A)教會禮拜 (B)中央會議 (C)部落祭典 (D)地方會議。

27.明揚正在查閱家鄉的歷史，下列為部分內容：「16 世紀，葡萄牙人稱這座位於臺灣島西方的小島為

『Pescadores』，中文為漁翁島，意即島上有漁民與豐富的漁產。數百年後清帝國與法國因越南問題爆發戰爭，戰火波及該地，法國因此將此戰稱為『漁翁島戰役』。」請問：明揚的家鄉應位於何處？

(A)綠島 (B)琉球 (C)澎湖 (D)蘭嶼。

28.承上題，請問：下列何者是此次戰爭對臺灣的影響？

(A)促使臺灣建省 (B)臺灣開港通商 (C)取消渡臺禁令 (D)廢除劃界封山。

29.清廷朝臣曾說：「臺灣位居海外且範圍狹小，無助於中國疆域的增廣，當地人民裸體紋身，難與我們和平共處。未來勢必花費政府許多金錢卻無益於國家，不如將人群遷回大陸。」我們應如何解讀上述資料？

(A)朝臣認為臺灣開發缺乏人力，欲強迫中國無業男性來臺拓墾

(B)清廷收復臺灣後，部分官員認為臺灣不值得政府花心力經營

(C)施琅響應上述朝臣說法，主張留臺以保衛中國東南沿海

(D)清廷接受上述朝臣說法，因而頒布渡臺禁令，限制漢人渡臺。

30.宜蘭古稱「蛤仔難」，清代吳沙曾率眾拓墾。請問：清帝國時期，宜蘭直到何時始成立行政區？

(A)康熙年間 (B)雍正年間 (C)嘉慶年間 (D)光緒年間。

31.馬賽族為凱達格蘭族的其中一個支系，大航海時代因與外來者接觸而學會西班牙語，部分族人也選擇改信天主教。請問：馬賽人生活的區域範圍應位於何處？ (A)淡水 (B)安平 (C)打狗 (D)恆春。

32.淡水有棟英國領事館，在此建築牆上有象徵英國的薔薇與維多利亞的 V 字圖案，內部裝潢與家具擺設皆呈現英式風格。請問：英國領事館的出現，與下列哪一事件關係最為密切？

(A)甲午戰爭 (B)清法戰爭 (C)英法聯軍 (D)牡丹社事件。

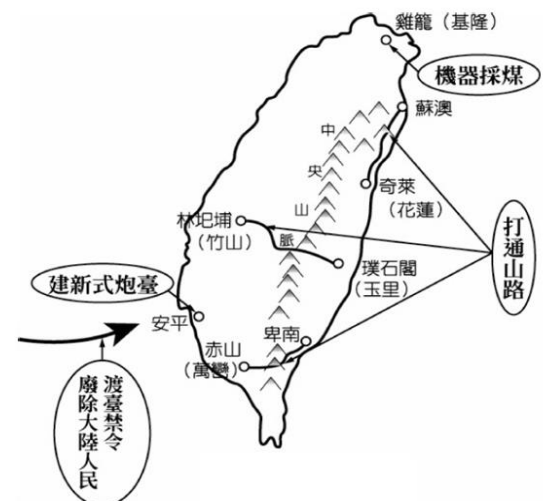
33.春香將右圖畫入歷史報告中。請問：春香的歷史報告是在描述哪一事件的影響？(A)牡丹社事件 (B)英法聯軍 (C)清法戰爭 (D)朱一貴事件。

34.承上題，春香的報告中，何人的事蹟也會是報告的重點？

(A)沈葆楨 (B)朱一貴 (C)劉銘傳 (D)郭懷一。

35.屏東縣總人口數跌破 80 萬，面對 A 與 B 雙重壓力下，縣長未來的施政，從嬰幼兒、兒童、青少壯年到長輩及弱勢族群，皆是未來縣府要守護、照顧的對象。請依據上文判斷，A、B 雙重壓力，應為下列哪些狀況？(甲)家庭暴力問題頻繁；(乙)老年人口逐年增加；(丙)離婚率逐年上升；(丁)生育率低迷。

(A)甲乙 (B)乙丙 (C)乙丁 (D)丙丁。



下頁有題

36. 喬治想轉學到離家較近的學校就讀，但父親不同意，他不知該如何是好而尋求協助。下列何人的回應最為正確？
- (A)小梅：查看《性別平等教育法》，有相關法條
(B)小泉：如果你爸媽意見不同，可以請法院裁決
(C)小瑩：因為你未成年，只能以爸爸的決定為主
(D)小憲：法律規定必須由母親行使親權，別擔心。
37. 志其和玲玲結婚當天，婚禮十分隆重盛大，雙方父母對這雙新人寄予滿滿祝福。根據《民法》所規範的親屬關係，志其的父母與玲玲的父母屬於何種親屬關係？
- (A)姻親 (B)自然血親 (C)法定血親 (D)沒有關係。
38. 「以色列和巴勒斯坦爆發激烈武裝衝突。一名加拿大公民表示，加拿大的撤僑政策協助加拿大公民與其家屬離開，只包括配偶、子女及孫子女，但父母、兄弟姊妹和姻親都不包含在內，因他的雙親不具有加拿大國籍，無法跟他一起走，為此他抨擊加拿大政府造成許多加拿大公民與親人面臨分別的痛苦。」根據上文判斷，下列何者正確？ (A)無法撤離的家屬均屬於自然血親 (B)配偶的父母符合加拿大撤僑規定 (C)撤離的家屬沒有出生的直接關係 (D)所有旁系血親均不符合撤僑規定。
- ★小真 13 歲時，爸爸經常酒後毆打媽媽，媽媽因此和爸爸離婚，並帶著小真回外婆家。但爸爸每次只要喝醉，就會到外婆家樓下大吵大鬧。小真跟媽媽說：「學校有教我們，有一種特別的紙可以阻止爸爸再靠近這裡，用來保障我們的權益和安全」。
39. 小真所說的「那張紙」應是指下列何者？
- (A)保障令 (B)保護令 (C)執行令 (D)裁判令。
40. 「那張紙」是依據哪一項法律規定，保障被害人的權益和安全？
- (A)《性騷擾防治法》 (B)《性別平等工作法》
(C)《家庭暴力防治法》 (D)《性別平等教育法》。
- ★玉萍的婆婆不慎跌倒而成為植物人，玉萍不願放棄，細心照料婆婆的日常生活。甚至每隔 15 分鐘替婆婆翻動身體，並親自敷抹褥瘡傷口。除此之外，玉萍還利用時間兼差，以貼補家用。數月後，婆婆竟然奇蹟似地恢復意識，褥瘡也得以痊癒，鄰居紛紛豎起大拇指，說她是「孝行感動天」。
41. 玉萍照顧婆婆的作為，發揮了哪一項家庭功能？
- (A)經濟功能 (B)教育功能 (C)保護與照顧功能 (D)生育功能。
42. 玉萍利用時間兼差，貼補家用，主要是發揮哪一項家庭功能？
- (A)經濟功能 (B)教育功能 (C)保護與照顧功能 (D)生育功能。
- ★傳統觀念式微，當結婚生子不再是唯一選擇後，根據內政部統計，現代女性傾向晚婚、不婚的比例較 20 年前提高許多。許多女性表示，若沒有配偶的協助，結婚後必須隻身扛起家務勞動，勢必會影響工作表現；甚至為了照顧長輩、幼兒不得不離開職場，在家裡地位也矮人一截，種種限制都讓她們寧願選擇繼續單身。請問：
43. 下列何者最可能是上文中影響單身女性婚姻觀的原因？
- (A)經濟環境惡化 (B)教育程度低落 (C)生育率下降 (D)性別不平權。
44. 我國法律為了改善上文中女性在家面臨的困境，修正多項法律規定，下列何者屬之？
- (A)夫妻互為家務代理人 (B)明文規範父母管教權
(C)要求女性負擔生活費 (D)減少家庭照顧假天數。

★小蕙是一名越南籍的女子，嫁到臺灣已經十年了，育有一兒一女。她們夫妻、子女與公婆同住，一家人共同經營小麵店過日子。小蕙說得一口流利的中文與臺語，她平時除了養兒育女、照顧丈夫與公婆，也提供麵店為據點，讓鄰近地區的外籍配偶姊妹們一同聚會交流。

45. 根據小蕙的家庭成員判斷，她的家庭屬於下列何種型態？

(A)折衷家庭 (B)大家庭 (C)小家庭 (D)核心家庭。

46. 根據上文，小蕙是越南籍，與中華民國國籍的先生結婚後，兩人組成的家庭屬於下列何種型態？

(A)頂客家庭 (B)新住民家庭 (C)兩地家庭 (D)重組家庭。

★彥晴向法院控告自己的父親，指稱父親阿強離家多年，對她從未盡教養之責，她自小由祖父母照顧長大，現在父親阿強已經 70 歲，卻要求她負起扶養義務，阿強也向法官坦承自己未曾照顧過女兒，但仍堅稱女兒應扶養他，法官最後判決，免除彥晴對父親的扶養義務。

47. 根據內容，彥晴小時候的家庭型態為下列何者？

(A)頂客家庭 (B)核心家庭 (C)繼親家庭 (D)隔代教養家庭。

48. 文中法官主要是根據哪一法律的規定做出判決？

(A)憲法 (B)民法 (C)人權宣言 (D)性別平等教育法。

★悅悅的日誌寫道：「伯父長年住在日本，他和伯母結婚後生下堂哥阿成，但兩年前又收養了一個三歲的小女孩小莉，一家人感情很好。今年他們預定暑假期間回臺灣探訪親戚，我們決定安排家族旅遊帶他們四處走走，真令人期待。」請問：

49. 若依照我國法律規定，伯父和小莉應屬於何種親屬關係？

(A)姻親 (B)旁系血親 (C)擬制血親 (D)自然血親。

50. 關於上述親屬關係的說明，下列何者正確？

(A)悅悅和堂哥互為連襟 (B)悅悅和小莉互為妯娌
(C)伯父和悅悅的父親互為連襟 (D)伯母和悅悅的母親互為妯娌。

※試題結束

114-1 國一社會科第 2 二次段考解答 (1-17 地理；18-34 歷史；35-50 公民)																			
1	2	3	4	5	6	7	8	9	10	11	12	13	14	15	16	17	18	19	20
B	B	C	A	A	B	C	D	C	D	D	D	A	B	B	A	D	C	B	D
21	22	23	24	25	26	27	28	29	30	31	32	33	34	35	36	37	38	39	40
B	C	A	C	B	D	C	A	B	C	A	C	A	A	C	B	D	D	B	C
41	42	43	44	45	46	47	48	49	50										
C	A	D	A	A	B	D	B	C	D										

114-1 國一社會科第 2 二次段考解答 (1-17 地理；18-34 歷史；35-50 公民)																			
1	2	3	4	5	6	7	8	9	10	11	12	13	14	15	16	17	18	19	20
B	B	C	A	A	B	C	D	C	D	D	D	A	B	B	A	D	C	B	D
21	22	23	24	25	26	27	28	29	30	31	32	33	34	35	36	37	38	39	40
B	C	A	C	B	D	C	A	B	C	A	C	A	A	C	B	D	D	B	C
41	42	43	44	45	46	47	48	49	50										
C	A	D	A	A	B	D	B	C	D										

114-1 國一社會科第 2 二次段考解答 (1-17 地理；18-34 歷史；35-50 公民)																			
1	2	3	4	5	6	7	8	9	10	11	12	13	14	15	16	17	18	19	20
B	B	C	A	A	B	C	D	C	D	D	D	A	B	B	A	D	C	B	D
21	22	23	24	25	26	27	28	29	30	31	32	33	34	35	36	37	38	39	40
B	C	A	C	B	D	C	A	B	C	A	C	A	A	C	B	D	D	B	C
41	42	43	44	45	46	47	48	49	50										
C	A	D	A	A	B	D	B	C	D										

114-1 國一社會科第 2 二次段考解答 (1-17 地理；18-34 歷史；35-50 公民)																			
1	2	3	4	5	6	7	8	9	10	11	12	13	14	15	16	17	18	19	20
B	B	C	A	A	B	C	D	C	D	D	D	A	B	B	A	D	C	B	D
21	22	23	24	25	26	27	28	29	30	31	32	33	34	35	36	37	38	39	40
B	C	A	C	B	D	C	A	B	C	A	C	A	A	C	B	D	D	B	C
41	42	43	44	45	46	47	48	49	50										
C	A	D	A	A	B	D	B	C	D										

114-1 國一社會科第 2 二次段考解答 (1-17 地理；18-34 歷史；35-50 公民)																			
1	2	3	4	5	6	7	8	9	10	11	12	13	14	15	16	17	18	19	20
B	B	C	A	A	B	C	D	C	D	D	D	A	B	B	A	D	C	B	D
21	22	23	24	25	26	27	28	29	30	31	32	33	34	35	36	37	38	39	40
B	C	A	C	B	D	C	A	B	C	A	C	A	A	C	B	D	D	B	C
41	42	43	44	45	46	47	48	49	50										
C	A	D	A	A	B	D	B	C	D										