

※每題 2 分，共 50 題

科目代碼:05 (請用 2B 鉛筆，將答案劃於答案卡上)

一、地理科(1-17 題)

- 熱愛海洋文化的李博士發現，臺灣的原住民族與大洋洲的南島語族在語言和造船技術上有許多相似之處。他在博物館看到一艘「玻里尼西亞獨木舟」，導覽員說這與臺灣蘭嶼達悟族的拼板舟有異曲同工之妙。請問這顯示了大洋洲與臺灣在地理人文上的何種關聯？(A)兩地皆曾受英國殖民統治 (B)兩地原住民族有共同的淵源與海洋文化 (C)兩地皆位於板塊交界，火山活動頻繁 (D)兩地皆以出口羊毛與乳製品為主。
- 知名旅遊 YouTuber 阿宏到了太平洋上的一個小島拍片，他發現這個島嶼地勢非常低平，騎腳踏車環島完全不用爬坡，但當地居民卻苦惱地說：「我們這裡淡水好少，種菜很難活，只能一直捕魚吃。」請問阿宏最可能是在下列哪一個國家？(A)紐西蘭 (B)美國夏威夷 (C)吐瓦魯 (D)澳洲。
- 柯南在澳洲中部沙漠發現了一塊巨大的紅色岩石「烏魯汝」(Uluru)，他推測這裡之所以會形成廣大的沙漠氣候，主要受到哪些地理因素影響？(A)副熱帶高氣壓籠罩、位在東南信風背風側 (B)西風吹拂、沿岸有涼流經過 (C)地勢過高、水氣無法到達 (D)赤道低壓帶籠罩、蒸發旺盛。
- 根據圖(一)敘述判斷，澳洲像「生物時空膠囊」的主因為何？(A)緯度跨越熱帶與溫帶，氣候多樣 (B)人為引進物種復育成功 (C)地形平坦，缺乏天敵 (D)四面環海，長期孤立演化。
- 住在台北的小丸子好不容易搶到了機票，準備在寒假飛往澳洲雪梨，親眼目睹著名的跨年煙火秀。出發前，台北正好寒流來襲，小丸子一邊發抖一邊整理行李。請問根據地理知識判斷，下列哪一個「行李清單」最符合她在雪梨當地的需求？



圖(一)



- 小明在超市發現，每年 5 月到 11 月，當臺灣本地水果產量較少的時候，卻剛好是紐西蘭奇異果大量上市的季節，如圖(二)所示，請根據圖表資訊與地理知識判斷，這主要是利用了紐西蘭哪一項地理優勢？(A)位於南半球，季節相反產季互補 (B)屬地中海型氣候，夏乾冬雨甜度高 (C)位於板塊接觸，平原廣闊產量大 (D)距離台灣最近，運輸成本最低廉。
- 「2022 年 1 月，位於太平洋的東加王國發生海底火山大規模噴發，引發全球關注。根據氣象局資料，該火山爆發的位置約位於南緯 20.5 度、西經 175.4 度，由於該地緊鄰國際換日線，且位於環太平洋火山帶上，地質活動相當頻繁。」請問根據經緯度判斷，此火山位於下列哪一個區域？(A)印度尼西亞 (B)美拉尼西亞 (C)玻里尼西亞(D)密克羅尼西亞。
- 澳洲雖為世界主要的農牧產品出口國，但受到自然環境與人口分布特徵的影響，每年收成季節都面臨嚴重的人力缺口，因此政府積極開放「打工度假簽證」，吸引包含臺灣在內的海外青年前往協助農場採收或肉品加工。上述「缺工」現象與該國哪項地理特徵關係最為密切？(A)氣候乾燥炎熱，本國勞工不願從事戶外工作 (B)礦產資源枯竭，導致產業結構需向農業轉型 (C)地形崎嶇多山，大型農業機械難以全面普及 (D)國土面積廣大，但總人口稀少且集中於都市。

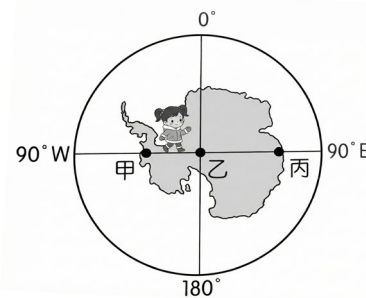
	1月	2月	3月	4月	5月	6月	7月	8月	9月	10月	11月	12月
北半球產區												
南半球產區 (紐西蘭)												

■ 主要產季時段 (In Season)

圖(二)

請翻面繼續作答

9. 紐西蘭政府積極發展再生能源，在紐西蘭北島，最適合利用下列哪一種天然資源進行發電？(A)潮汐 (B)地熱 (C)天然氣(化石燃料) (D)太陽能(沙漠日照)
10. 甜甜預計前往南極探險，她的行進路線由圖(三)中的甲點出發，直線前進經乙點到丙點，請問針對此路線的敘述下列何者正確？(A)必須忍受又濕又冷的天氣 (B)沿途所經皆為平原地形 (C)巧遇因紐特人修築冰屋 (D)行進方向為先往南方再往北方。

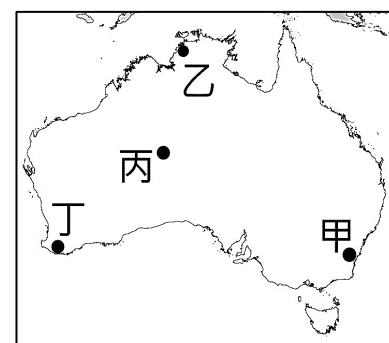


圖(三)

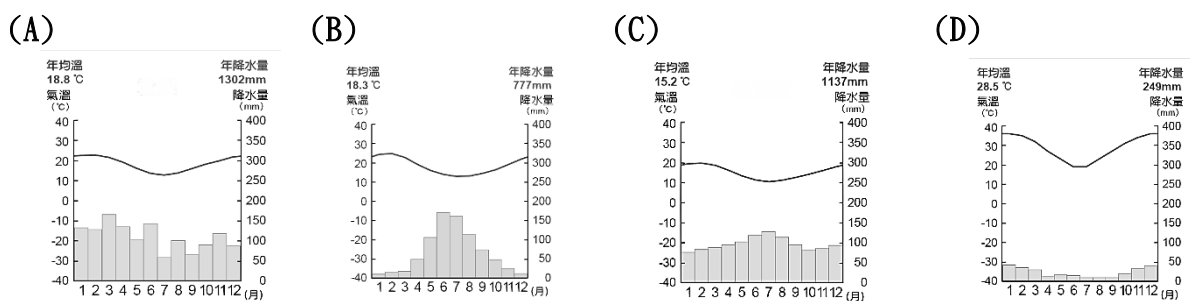
11. 住在台灣的小明喜歡極限運動，暑假(7月)期間前往某地探險，他在日記寫道：「現在已經是半夜12點了，但太陽依然掛在地平線上，完全沒有要下山的跡象，這裡真的是『日不落』國！」根據地理知識判斷，小明最可能前往下列何地？(A)澳洲的塔斯馬尼亞島 (B)南極洲的沃斯托克考察站 (C)北極圈內的格陵蘭島 (D)位於赤道的加拉巴哥群島。
12. 從香港飛往紐約，航空公司通常選擇經過北極航線而非太平洋航線，最主要的原因是什麼？(A)此為球體表面兩點間的最短距離 (B)北極高空空氣稀薄，飛行阻力較小 (C)為了讓乘客欣賞極光，增加觀光收益 (D)為了避開太平洋上空的颱風干擾。
13. 大洋洲島國吐瓦魯為了應對實體國土即將消失的「亡國危機」，宣布將在虛擬世界中重建國家與文化，打造全球第一個「元宇宙國家」。請問迫使吐瓦魯做出此決定的最主要原因為何？(A)降雨暴增致排水不及 (B)島嶼地殼持續下陷 (C)冰川融化與海水熱膨脹 (D)海底火山引發海嘯。

●請根據圖(四)回答第14-15題：

14. 台灣阿土伯的荔枝園想要搶攻澳洲市場，需要在當地尋找一個氣候環境與臺灣中南部最為相似的地點建立農場，請問應該建議阿土伯選擇圖中哪一個地點？(A)甲 (B)乙 (C)丙 (D)丁。
15. 旅遊部落客阿豪正在撰寫圖中『丁』區的旅遊攻略，為了讓粉絲更一目了然，阿豪想在文章中放一張當地的氣候圖，請問下列哪一張圖最適合？

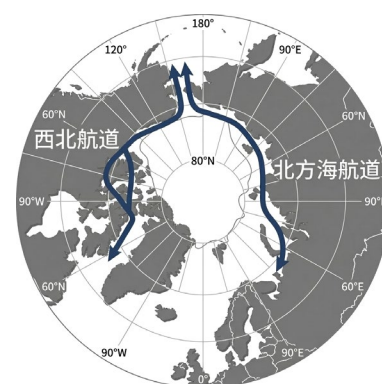


圖(四)



●隨著地球環境的改變，使得過去難以通行的航道逐漸具備商業通航的潛力，引起了各國的高度關注，特別是對於能源運輸和國際貿易路線的影響，請根據圖(五)回答16-17題：

16. 一艘俄羅斯的液化天然氣載運船，計畫從俄羅斯位於太平洋沿岸的港口出發，將天然氣運送到位於北歐的挪威。若選擇走圖中標示的『北方海航道』，這條航線主要會穿越下列哪一個海洋？(A)印度洋 (B)大西洋 (C)北極海 (D)南太平洋
17. 「北方海航道」近年來之所以能成為一條具競爭力的商業航線，其最主要的環境背景因素為何？(A)北極地區的冬季季風增強，順風航行速度變快 (B)全球暖化導致北極海冰覆蓋範圍與厚度減少，夏季通航期延長 (C)板塊運動使得北極海域的海床上升，航道變淺但更安全 (D)洋流系統改變，墨西哥灣暖流北上，使得北極海域終年不結冰。



圖(五)

※請繼續作答

二、歷史科(18-34題)

18. 以下是一段關於某位西方航海探險家及其航行紀錄的描述：『1519年，這位探險家在西班牙王室的資助下，率領船隊向西航行，目的是找到一條通往亞洲香料群島的西方航線。他的船隊成功穿越南美洲南端的一條海峽（後以他的名字命名），進入了另一片廣闊的海洋，儘管這位探險家本人在菲律賓與當地部族衝突中身亡，但他剩餘的船員和船隻最終於1522年成功返回西班牙，完成了人類歷史上第一次環繞地球一周的航行。這場壯舉不僅實地證明了地圓說的正確性，也使人類對世界的海洋和陸地分佈有了更為清晰的認識。』請問：文中描述的探險家是誰？(A)哥倫布 (B)達伽馬 (C)麥哲倫 (D)狄亞士。
19. 承上題，文中提到航海家的船隊成功穿越南美洲南端的海峽後，進入另一片廣闊的海洋，請問：這片海洋應該是(A)大西洋 (B)太平洋 (C)地中海 (D)印度洋。
20. 靖雅歸納15世紀末歐洲人積極向海外遠航的背景與動機，以下她找出的答案中有哪些是正確的？(甲)歐洲國家對東方香料、絲綢等商品的需求日增 (乙)當時歐亞陸上貿易路線被義大利商人及阿拉伯商人所掌控 (丙)藉機傳播上帝的福音 (丁)王室的支持 (戊)火藥傳入，宣揚國威 (A)甲乙丙 (B)乙丙丁 (C)甲丙丁 (D)甲丁戊。
21. 考古學家陳博士在整理一批17世紀的環球探險家日記時，發現了兩段耐人尋味的紀錄：

【日記片段一：安地斯山的巨石】

我抵達了那座被遺棄的「天空之城」（即馬丘比丘）。儘管它躲過了戰火，但建造它的偉大文明卻已徹底崩塌。當地傳說，毀滅不是來自東方，而是來自海洋彼岸一群擁有鋼鐵盔甲和火器的外來者。他們像瘟疫一樣擴散，在短短數十年間將帝國的黃金洗劫一空，並以血腥的征服手段建立起一個總督區。這種徹底的暴力征服令人不寒而慄。

【日記片段二：恆河畔的白色奇蹟】

數年後，我來到印度，見證了泰姬瑪哈陵的輝煌。這座陵墓雖然宏偉，但統治它的蒙兀兒帝國已顯衰頹。在各處港口，我見到來自另一個歐洲島國的「貿易公司」日益囂張。他們利用帝國的內亂，透過經濟控制和軍事代理人，一步步蠶食領土。他們沒有選擇毀滅，而是選擇慢慢吸乾這個帝國的財富，最終將其變為一頂王冠上的珍寶。

- 請問：日記片段一與日記片段二中所描述的侵略者分別是下列哪一組國家？(A)葡萄牙、英國 (B)西班牙、法國 (C)葡萄牙、荷蘭 (D)西班牙、英國。
22. 某校學生在社群媒體上發表對學校政策的評論，造成不同意見者在社群上相互攻擊，老師在課堂上藉此討論「言論自由」的界限與重要性。請問：下列哪一位歐洲思想家的主張可以做為輔助老師說明的最佳理論基礎？(A)伏爾泰 (B)洛克 (C)笛卡兒 (D)孟德斯鳩。
23. 清朝中葉後，面對與英國多次的戰爭，皆因戰敗，數次簽訂不平等條約，開啟了近代中國悲慘的命運。請問：在鴉片戰爭、英法聯軍等戰役中，英國軍隊之所以能船堅炮利，無往不利，下列哪一歷史因素是最關鍵的？(A)宗教改革的影響 (B)工業革命的成果 (C)啟蒙運動的盛行 (D)海外擴張的結果。
24. 十八世紀啟蒙運動學者主張：『人類社會如同自然世界，可以依循理性尋找普遍的運作原則。』因此美國當代知名歷史學者彼得·蓋伊 (Peter Gay) 在其著作中寫道：『啟蒙運動，實際上是□□□□的哲學果實。』請問：□□□□應該填入(A)宗教改革 (B)工業革命 (C)文藝復興 (D)科學革命。
25. 琳琳想要舉例說明英國人培根所提出之「歸納法」，以下她的舉例哪一個最符合歸納法的精神？(A)觀察班上同學在考試前的讀書方式，發現認真複習上課講義的同學通常成績較好，因此認為複習上課講義有助於考試表現 (B)因為聽說考前去廟裡拜拜可以考運變好，所以考試前一定要去廟裡拜拜 (C)假設早睡的同學會考得比較好，然後考試後一一查證是否如此 (D)琳琳第一志願北一女的制服是綠色的，所以琳琳如果考上北一女，她的制服一定是綠色的。
26. 十八世紀以後的生產技術，較先前數千年的文明發展還要進步許多，其中工業革命改變了人類社會，卻也衍生出許多問題，成為世界和平的隱憂。請問：下列何者並非工業革命所帶來的影響？(A)人口增加，都市化的現象逐漸顯著，但也造成都市居住擁擠、環境汙染以及治安敗壞等現象出現 (B)大型工廠

與工業城市興起，造成工人階級出現 (C)工業化強國在海外爭奪殖民地，國際間的利益競爭與衝突越演越烈 (D)因工業革命造成各國經濟大幅成長，強調照顧工人福利的資本主義學說也隨之興起。

27. 美國是歷史上第一個依三權分立原則成立的國家，而美國的《聯邦憲法》規定，將行政權賦予美國總統，立法權歸於國會，最高法院掌有司法權，三權相互制衡。這樣的政治結構規畫主要受到哪一著作的影響？(A)《政府論》 (B)《法意》 (C)《天體運行論》 (D)《民約論》。
28. 歷史老師很喜歡喝咖啡，也喜歡收集來自世界各國的咖啡豆，有一天，她在一間超市看到許多自美洲進口的咖啡豆，她買了四個不同國家的咖啡豆，發現有一個國家的原包裝說明文字與另三個國家不同。請問：這個國家應該是(A)哥倫比亞 (B)玻利維亞 (C)巴西 (D)秘魯。
29. 在某一電影場景中有以下對話：「我們的祖先原是這片廣大土地的主人，但是你們的祖先越過大西洋，到達我們的家園，竟想要得到我們整個的家園。現在你們成了一個龐大的民族，而我們卻幾乎連容身之地都快沒有了。」請問：根據此對話，下列敘述何者正確？(甲)『我們的祖先』因無容身之地，許多都被迫到大西洋對岸成為奴隸 (乙)『我們的祖先』曾經在原屬於自己的廣大土地上建立文明帝國 (丙)對話中的『你們』為來自地中海地區的歐洲人 (丁)文中所述的「廣大土地」開採出許多銀礦。(A)甲乙 (B)乙丙 (C)乙丁 (D)甲丁。

30. 2023 年，波蘭國家銀行發行了一張紀念鈔票【見右圖】，紀念波蘭著名學者哥白尼誕辰 550 周年。請問：這張鈔票是紀念他提出下列何種學說對人類的貢獻？(A)地球中心說 (B)太陽中心說 (C)萬有引力定律 (D)三大運動定律。



31. 關於「大航海時代」所產生的後續影響，請問下列哪個說法正確？(A)傳染病隨著航海冒險而四處傳播，造成美洲、澳洲等地原住民人口銳減 (B)美洲作物番薯、馬鈴薯、小麥成功解決了歐、亞、非的糧食問題 (C)大量的非洲黑人被運到亞洲販賣為奴、協助開發 (D)歐洲歷史發展重心逐漸由地中海轉移到太平洋。
32. 十八世紀時，一位法國學者聯合許多學者共同編寫百科全書。雖然這些學者哲學觀點和宗教思想不盡相同，但都崇尚理性思維。他們在各自的領域發揮專長，進行知識學術的整合，使人們更便於檢索知識的相關內容。上述這一位法國學者是誰？(A)盧梭 (B)孟德斯鳩 (C)伏爾泰 (D)狄德羅。
33. 如果想要依序參訪以下地點：(1)目前發現最早有文字紀錄的文明遺跡 (2)最早開始推動工業革命的地方 (3)開啟大航海時代的起點 (4)歐洲古典文化的發源地。應該安排的路線是 (A)甲→乙→丙→丁 (B)丙→甲→乙→丁 (C)丁→甲→乙→丙 (D)乙→甲→丙→丁。



34. 承上題，下列哪一史實與「甲」地無關？(A)曾將罪犯流放到澳洲 (B)摧毀阿茲提克文明 (C)十七世紀曾與台灣政權進行貿易 (D)是啟蒙運動的發源地。

三、公民科(35-50 題)

35. 紀妍將日常生活中看見的違規情形，與其可能違反的相關法律，整理如下表。

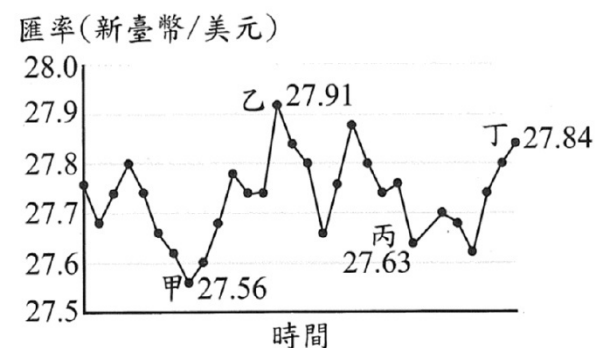
項目	違規情形	適用法律
甲	施工工地徵夜班工讀生兩名	《勞動基準法》
乙	網路書店的原版外文書售出後，概不退換	《消費者保護法》
丙	公司因訂單暴增、業務繁忙，要求員工不得申請育嬰假	《勞動基準法》
丁	學校社團男生可優先加入，女生加入需要經過老師體檢	《性別平等教育法》

根據表中內容判斷，紀妍所列出的配對項目有幾項是符合適用的法律？(A)1 (B) 2 (C) 3 (D) 4 。

※請繼續作答

36. 近年來我國的物價、房價居高不下，因此有不少年輕人選擇當「躺平族」，也就是不想工作，只想在家躺平、給父母養，目前全世界的躺平族有逐漸增加的趨勢。若從「勞動力」的定義探討此議題，下列關於「躺平族」的敘述何者適當？(A)屬於有工作能力的就業者 (B)顯示家務勞動力增加的現象 (C)以躺平換取工資的行為 (D)因缺乏工作意願及行動屬非勞動力。
37. 慈芸到菜市場買了三條魚，秤重後老闆告知總共 780 元，慈芸認為太貴了，要求老闆算 700 元，否則就不買了。經過一輪討價還價，最終以 750 元成交。前述現象顯示，太貴或太便宜都可能造成無法成交，由此可見市場上商品的價格實際上由誰決定？ (A)消費者 (B)生產者 (C)政府公權力 (D)買賣雙方。
38. 新冠疫情期間，各國實施邊境管制，使海外打工度假受到限制。隨著疫情趨緩，許多年輕人再度討論赴國外打工度假的可行性，其中以澳洲最受歡迎。許多人認為打工度假能增進獨立能力、語言能力，並賺取高薪、存下第一桶金，但實際情況未必如此。文中畫雙底線處，顯示出許多人打工度假的目的。這種目的與貨幣何種功能有關？(A)債務清償 (B)價值衡量 (C)價值儲藏 (D)交易媒介。
39. 以澳洲為例，近年澳幣對新臺幣匯率約 1:20，遠低於 2012 年的 1:30，加上當地生活費用高昂，若不自行炊煮，難以真正存到「第一桶金」。此外，英文能力能否提升，取決於工作性質與環境，若身處華人區或不需常用英文的工作，進步有限。上文中提及前往澳洲打工度假，其是否能順利存到錢，與澳幣的匯率息息相關。下列關於澳幣與新臺幣的匯率敘述，何者正確？(A)相較於 2012 年的匯率，目前澳幣兌新臺幣呈現升值的情況 (B)對前往澳洲旅遊消費的外國旅客而言，澳幣貶值較為有利 (C)我國廠商欲從澳洲進口商品至臺灣，新臺幣貶值較為有利 (D)對於前往澳洲打工度假的工作者來說，澳幣貶值較為有利。

40. 甲企業設立於美國，以臺灣為主要目標市場。我國連鎖賣場很認同該企業的經營理念，想要大量進口該企業的巧克力銷售。請問，該企業在下列哪一個時間點簽訂購買契約，會最划算？
(A)甲 (B)乙 (C)丙 (D)丁。



41. 雅薰趁著周年慶到百貨公司購物，並將想買的物品整理成右表。在不考慮其他條件的情況下，若僅以喜好程度作為選擇依據，則關於表中的資訊，何者敘述正確？(A)甲 < 丁 (B)乙 > 甲 (C)乙 = 丙 (D)丙 = 丁。

物品	喜好程度	機會成本
包包	80 單位	甲
長靴	90 單位	乙
風衣	65 單位	丙
洋裝	75 單位	丁

42. 詠岑打算開一家專賣店，右表是他開店前評估可能作為主要產品的成本與售價整理。若詠岑只打算販售一種產品，則下列相關敘述何者正確？

產品	成本/份	售價/份
日式拉麵	30 元	60 元
日式煎餃	35 元	60 元
咖哩炒飯	25 元	60 元

- (A)詠岑開店前的評估屬於如何生產課題 (B)若詠岑選擇販售咖哩炒飯，則其利潤的機會成本最低 (C)三個產品皆販售 10 份時，日式拉麵利潤最高 (D)三個產品皆販售 20 份時，日式煎餃的銷貨收入最少。

43. 下表是琳惠整理的交易媒介比較表，表中甲、乙最可能為下列哪一組合？

交易媒介	甲	乙
特色一	可直接支付各項消費	須事先存入足夠金額，並搭配特定設備才能使用
特色二	由國家發行並賦予價值	多由民間企業發行
特色三	可能會面臨退換零錢的困擾	免去購物找零錢的困擾

- (A)商品貨幣與儲值卡 (B)商品貨幣與信用卡 (C)法定貨幣與儲值卡 (D)法定貨幣與信用卡。

※請繼續作答

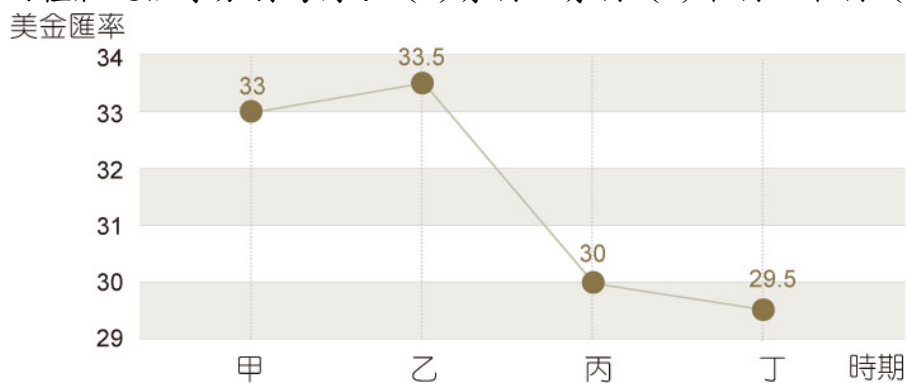
44. 下表是佳璇為了報告而蒐集的資料，下列何者最適合成為他報告的標題？

資料一	身邊的家庭主婦，很多人戶頭裡都沒有自己的積蓄或收入，平時用先生賺來的錢也會感到不好意思，用錢會看自己先生的臉色。
資料二	雙薪家庭的比例日漸增加，但是根據衛福部統計，仍有 20% 的女性會因結婚而離職。促使他們離職的原因以「準備生育」占 39.9% 最高、「工作地點不適合」、「要料理家務」次之，並且離職後能再回歸職場的女性僅有 40%。

(A) 無酬勞動與性別不平等的現況 (B) 家庭主夫已成為家庭勞動主力 (C) 淺談家務勞動的種類與重要性 (D) 失業人口中女性人數較男性高。

45. 松柏在社群媒體表示：「自己今天居然在送餐時，不小心把湯潑在貴婦的精品包上。」結果引來朋友們留言分享自己發生的倒楣事。下列何者與松柏的是屬於相同的勞動類型？ (A) 有同事把冷氣遙控器帶回家，結果害我差點熱死在公司 (B) 今天洗破了兩個盤子，家事真難做還被扣下個月零用錢 (C) 到學校沒拿到導護背心，結果發現記錯時間是明天才對 (D) 在洗家裡浴缸時，失手把高級沐浴乳當成清潔劑來使用。

46. 全球化的時代來臨，舉凡國際貿易、旅遊或商務需求等，都會因外幣匯率的走向而有影響。請根據美金匯率的走勢圖：當美金匯率從甲到乙，對進口商將商品從美國進口至國內而言和對我國的商品出口至美國而言，以上兩種狀況依序分別為何？ (A) 有利、有利 (B) 不利、不利 (C) 不利、有利 (D) 有利、不利。



47. 我國原本允許進口新鮮山竹，但 2003 年時，因新鮮山竹有引進害蟲的疑慮，所以政府禁止進口，於是市面上只能買到進口的冷凍山竹。2019 年 4 月，政府公告將開放經殺蟲處理的新鮮山竹進口；同年 9 月，新鮮山竹上架銷售，雖然價格高於冷凍山竹，仍在短時間銷售一空，後來各店家也持續補貨販售。根據上述內容判斷，政府的開放政策帶來下列何項影響？ (A) 貿易出超金額因而擴大 (B) 農業出口總額因而上升 (C) 購物意願因價格變化而提高 (D) 產品選擇因而變得更加多元。

48. 「飢餓行銷」是一種常見的行銷手法，指的是業者在短時間內利用各種管道宣傳大批民眾排隊購買的熱潮，營造該項商品都會很快被搶購一空的情況，透過媒體將商品炒作成為時下流行的話題，進而引起民眾的消費欲望。關於上述行銷手法對於消費市場的影響，下列敘述何者最適當？ (A) 廠商間的競爭使消費者的選擇增加 (B) 業者的行銷手法將提高市場競爭程度 (C) 消費者受價格誘因影響而增加消費欲望 (D) 民眾的購物意願受非金錢誘因影響而提高。

49. 農夫高樹評估三種營運策略的收入與支出，如右表所示。若僅考量利潤，他的最佳選擇是「增產木瓜」，且此選擇的機會成本是「增產香蕉」，根據高樹的選擇判斷，表中「？」處的數值，最可能為下列何者？ (A) 10 (B) 15 (C) 20 (D) 25。

營運策略	銷貨收入	生產成本
增產木瓜	60	20
增產香蕉	45	?
維持現狀	40	10

50. 根據右表判斷，露西僅想馬上拿到衣服；而露西的家人卻只想以便宜的價格購買，對露西及她的家人而言，分別以哪種方式消費的機會成本較高？ (A) 露西：百貨公司，露西的家人：網購平臺 (B) 露西：網購平臺，露西的家人：百貨公司 (C) 皆為百貨公司 (D) 皆為網購平臺。

	百貨公司	網購平臺
原價	3900 元	4000 元
優惠方案	滿 3800 折 300	滿 1000 打 85 折
送達方式	即刻拿貨	3 天內郵寄到貨

~~ 試題結束 ~~ 請再次檢查答案卡上的基本資料是否填寫完整

114-1 第三次月考國三社會科解答(1-17 地理；18-34 歷史；35-50 公民)																			
1	2	3	4	5	6	7	8	9	10	11	12	13	14	15	16	17	18	19	20
B	C	A	D	B	A	C	D	B	D	C	A	C	A	B	C	B	C	B	C
21	22	23	24	25	26	27	28	29	30	31	32	33	34	35	36	37	38	39	40
D	A	B	D	A	D	B	C	C	B	A	D	C	B	C	D	D	C	B	A
41	42	43	44	45	46	47	48	49	50										
D	B	C	A	A	C	D	D	A	B										

114-1 第三次月考國三社會科解答(1-17 地理；18-34 歷史；35-50 公民)																			
1	2	3	4	5	6	7	8	9	10	11	12	13	14	15	16	17	18	19	20
B	C	A	D	B	A	C	D	B	D	C	A	C	A	B	C	B	C	B	C
21	22	23	24	25	26	27	28	29	30	31	32	33	34	35	36	37	38	39	40
D	A	B	D	A	D	B	C	C	B	A	D	C	B	C	D	D	C	B	A
41	42	43	44	45	46	47	48	49	50										
D	B	C	A	A	C	D	D	A	B										

114-1 第三次月考國三社會科解答(1-17 地理；18-34 歷史；35-50 公民)																			
1	2	3	4	5	6	7	8	9	10	11	12	13	14	15	16	17	18	19	20
B	C	A	D	B	A	C	D	B	D	C	A	C	A	B	C	B	C	B	C
21	22	23	24	25	26	27	28	29	30	31	32	33	34	35	36	37	38	39	40
D	A	B	D	A	D	B	C	C	B	A	D	C	B	C	D	D	C	B	A
41	42	43	44	45	46	47	48	49	50										
D	B	C	A	A	C	D	D	A	B										

114-1 第三次月考國三社會科解答(1-17 地理；18-34 歷史；35-50 公民)																			
1	2	3	4	5	6	7	8	9	10	11	12	13	14	15	16	17	18	19	20
B	C	A	D	B	A	C	D	B	D	C	A	C	A	B	C	B	C	B	C
21	22	23	24	25	26	27	28	29	30	31	32	33	34	35	36	37	38	39	40
D	A	B	D	A	D	B	C	C	B	A	D	C	B	C	D	D	C	B	A
41	42	43	44	45	46	47	48	49	50										
D	B	C	A	A	C	D	D	A	B										